



ارمغان هفته - سوم دبستان

شماره‌ی

۲۸

نام و نام خانوادگی: تاریخ: نام آموزگار:

ریاضی < فصل ۷: جدول داده‌ها، نمودارهای آماری و احتمال مطالعات اجتماعی < درس ۲۰: خانه شما کجاست؟
 علوم < درس ۱۲ و ۱۳: هر کدام جای خود (۱) و (۲) هدیه‌های آسمان < درس ۱۷: خواب شیرین
 فارسی < درس ۱۵ و ۱۶: دریا - اگر جنگل نباشد. قرآن < انس با قرآن کریم (۱۳)

ریاضی

۱ در یک کیسه ۷ مهره‌ی آبی و ۵ مهره‌ی قرمز وجود دارد؟

الف) چه کسری از مهره‌ها آبی هستند؟ $\frac{7}{12}$

ب) چه کسری از مهره‌ها قرمز هستند؟ $\frac{5}{12}$

پ) احتمال بیرون آمدن کدام رنگ با چشم بسته بیشتر است؟ آبی چون قرمز بیشتر است.

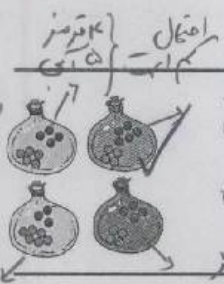

۲ جدول زیر مربوط به داده‌های یک گل‌فروشی می‌باشد. صاحب مغازه تعداد گل‌هایی را که در یک هفته فروخته است را در این جدول یادداشت کرده است.

| نوع گل | مریم | یاس | ارکیده | رز |
|--------|------|-----|--------|----|
| تعداد | ۲۰ | ۱۰ | ۳۰ | ۴۰ |

الف) چه کسری از گل‌های فروخته شده مریم می‌باشد؟ $\frac{20}{100}$

ب) کدام گل‌ها بیش‌تر فروخته شده‌اند؟ رز

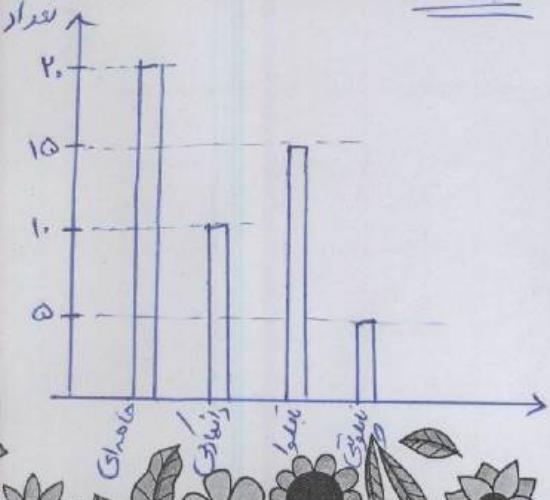
پ) نمودار دایره‌ای داده‌های این مسئله را رسم کنید.



۳ در کدام کیسه احتمال خارج شدن رنگ قرمز بیشتر است؟ دلیل انتخاب خود را بنویسید.

دو کیسه که تعداد قرمزها از بقیه رنگ‌ها بیشتر باشد احتمال خارج شدن آن‌ها هم بیشتر است.

۴ تعداد شیرینی‌های یک شیرینی‌فروشی به صورت زیر می‌باشد. برای مقایسه‌ی تعداد شیرینی‌ها شما چه نموداری را پیشنهاد می‌کنید؟ آن را رسم کنید. نمودار ستونی



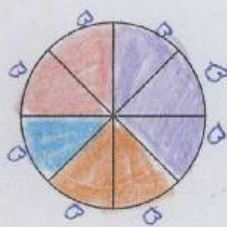
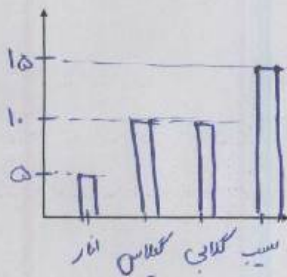
| نوع شیرینی | تعداد |
|------------|-------|
| خامه‌ای | ۲۰ |
| دانمارکی | ۱۰ |
| باقلا | ۱۵ |
| ناپلتونی | ۵ |



۵ جواب درست را با مشخص کنید.

| حمله | به طور حتم اتفاق می افتد | احتمال دارد اتفاق بیافتد | به طور حتم اتفاق نمی افتد |
|--|--------------------------|-------------------------------------|-------------------------------------|
| ۱) به دنیا آمدن یک انسان با ۷ پا | <input type="checkbox"/> | <input type="checkbox"/> | <input checked="" type="checkbox"/> |
| ۲) اگر شب دیر بخوابیم صبح دیر بیدار می شویم. | <input type="checkbox"/> | <input checked="" type="checkbox"/> | <input type="checkbox"/> |
| ۳) اگر باران ببارد زمین خیس می شود. | <input type="checkbox"/> | <input type="checkbox"/> | <input checked="" type="checkbox"/> |
| ۴) در شب هوا روشن باشد. | <input type="checkbox"/> | <input type="checkbox"/> | <input checked="" type="checkbox"/> |
| ۵) فردا خورشید طلوع نکند. | <input type="checkbox"/> | <input type="checkbox"/> | <input checked="" type="checkbox"/> |

۶ جدول زیر تعداد درختان باغ پدر بزرگ سحر را نشان می دهد. با توجه به آن نمودارها را کامل کنید.



| درخت | سیب | گلابی | گیلاس | انار |
|-------|-----|-------|-------|------|
| تعداد | ۱۵ | ۱۰ | ۱۰ | ۵ |

$$۱۵ + ۱۰ + ۱۰ + ۵ = ۴۰$$

$$۴۰ \div ۸ = ۵$$

با توجه به نموداری که رسم کردید کدام درختها به صورت مساوی در باغ وجود دارد؟

گلابی و گیلاس

علوم

۱) درستی و نادرستی هر عبارت را مشخص کنید.

الف) بچه قورباغهها در خشکی زندگی می کنند.

ب) نوعی وزغ وجود دارد که پاهایش برآمدگی شبیه بیل کوچک دارد.

پ) بدن دلفینها پولک ندارد.

۲) کدام گزینه عبارت زیر را به درستی کامل نمی کند؟

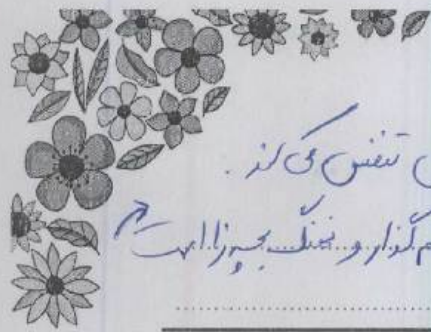
ماهیها

۱) برخلاف دوزیستان بالغ، آبشش دارند.

۲) برخلاف نوزاد دوزیستان، از هوای محلول در آب استفاده می کنند.

۳) همانند دوزیستان در آب تخم گذاری می کنند.

۴) همانند نوزاد دوزیستان، دست و پا ندارند.



۳ تفاوت‌ها و شباهت‌های کوسه و نهنگ را بیان کنید.

تفاوت: کوسه جزو دسته پستانداران است و نهنگ جزو دسته ماهی‌ها و خزندگان است. کوسه تخم‌گذار و نهنگ بچه‌زا است.
شباهت: هر دو در عمق دریا زندگی می‌کنند و با باله‌ها شنا می‌کنند.

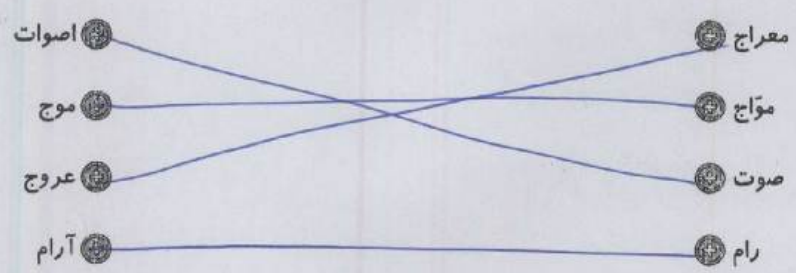


۴ پولک دو جانور زیر با هم چه فرقی دارد؟ چرا؟

پولک‌های بدن ماهی لیز و لغزنده است و با آن می‌تواند آسان‌تر در آب حرکت کند و پولک بدن مار بسیار سخت و زبر است.

فارسی

۱ کلمات هم‌خانواده را به هم وصل کنید.




۲ از میان کلمات زیر، کلمات غلط را پیدا کنید و صحیح آن را بنویسید.

قوطه، مثل، عفق، ذلال، ساحل، ماصه

عوطه - افق - زلال - ماصه

۳ کلمات زیر را به ترتیب حروف الفبا مرتب کنید.

عوطه - افق - صورت - موج - مهربان - دل‌گشا - ساحل



مطالعات اجتماعی

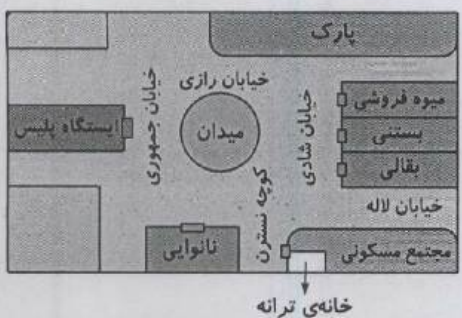
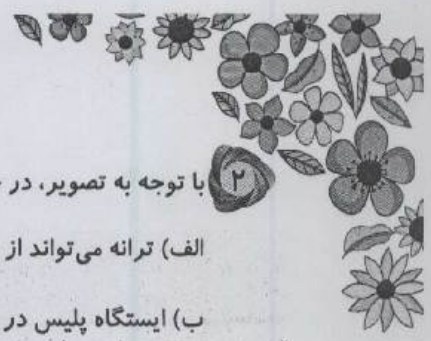
۱ الف) کدام نهاد برای خانه‌ها نشانی تعیین می‌کند؟

شهرداری

ب) آیا تا به حال به پلاک‌های کوچه یا خیابان خود دقت کرده‌اید؟ این پلاک‌ها به چه ترتیبی کنار هم قرار می‌گیرند؟

بله، اعداد زوج در یک طرف و اعداد فرد در طرف مقابل آن کوی قرار می‌گیرند.





۲ با توجه به تصویر، در جاهای خالی کلمه‌های مناسب بنویسید.
 الف) ترانه می‌تواند از مسیر ... کوچه نسترن ... به میوه فروشی برود.
 ب) ایستگاه پلیس در خیابان جمهوری ... قرار دارد.
 پ) نانوائی در کنار کوچه‌ی ... نسترن ... قرار دارد.
 ت) بقالی در تقاطع خیابان لاله ... و خیابان ساروی قرار دارد.

۳ الف) کدام گزینه نشانی دقیق خانه را نشان می‌دهد؟

- ۱) نام شهر - نام محله - شماره‌ی خانه
 ۲) نام شهر - نام محله - نام خیابان - نام کوچه - پلاک
 ۳) نام خیابان - نام کوچه - شماره‌ی خانه
 ۴) نام محله - نام کوچه - پلاک
- ب) علت گم شدن یک فرد چه چیزی می‌تواند باشد؟ هنگام گم شدن به چه کسی مراجعه می‌کنیم؟
- ۱) نبودن بزرگ‌ترها - پستیچی
 ۲) بی‌نظمی - پلیس
 ۳) نداشتن خانه - مأمور شهرداری
 ۴) نداشتن آدرس - پلیس

هدیه‌های آسمان - قرآن

۱ با توجه به فرمایش امام صادق (ع)، چند مورد از نشانه‌های مؤمنان را نام ببرید.

..... راست گویی، امانت داری، وفای به عهد (مخوف موفی)، دیدار خویشاوندان و محرم بانی، پایداری در منزلت.

۲ امام جعفر صادق (ع)، فرزند امام محمد باقر ... (ع) است و در قبرستان ... بقیع ... به خاک سپرده شده است.

۳ نام سه نفر از امامان را بنویسید که در قبرستان بقیع دفن شده‌اند.

..... امام جعفر صادق، امام محمد باقر، امام سجاد (ع).

◀ ترتیب حروف الفبا

◀ آشنایی با آدرس و نشانی

◀ تشخیص نشانی از روی نقشه

◀ آشنایی با امام ششم

◀ جدول داده‌ها و نمودارهای آماری

◀ احتمال

◀ شناخت جانوران مهره‌دار (دوزیستان، ماهی‌ها، خزندگان، پستانداران)

◀ کلمات هم خانواده

شناختن آنها

خوبی خوب
 خوب
 قابل قبول
 نیاز به تلاش بیشتر

