

شماره‌ی

۲۵

ارمغان هفته پنجم دبستان

نام و نام خانوادگی: تاریخ: نام آموزگار:

مطالعات اجتماعی < نوز
هدیه‌های آسمان < نوز
قرآن < نوز

ریاضی < نوز
علوم < نوز
فارسی < نوز

ریاضی

۱ پدر علی ۴۸۰۰ گرم آجیل خرید. اگر نسبت پسته و فندق و تخمه در این آجیل به ترتیب ۱ و ۳ و ۴ باشد. محاسبه کنید در این آجیل چند گرم پسته، چند گرم فندق و چند گرم تخمه وجود دارد؟



۴	۲۴۰۰
۳	۱۸۰۰
۱	۶۰۰
۸	۴۸۰۰

پسته: ۶۰۰ گرم
تخمه: ۲۴۰۰ گرم
فندق: ۱۸۰۰ گرم

۲ زهرا چند ریال عیدی جمع کرده است؟ شما چند ریال عیدی دریافت کرده‌اید؟

بارقم:

با حروف:

۳ مرضیه خانم برای تهیه آجیل عید نخود و کشمش را با نسبت ۳ به ۵ مخلوط کرد. اگر اندازه کشمش ۶۰۰ گرم باشد چه مقدار نخود با آن مخلوط کرده است؟

۳	۳۶۰
۵	۹۰۰

۳۶۰ گرم نخود

۴ عددهایی که روی گل‌ها نوشته شده را به ترتیب از کوچک به بزرگ مرتب کنید. $\frac{3}{42} < \frac{1}{5} < \frac{1}{10} < \frac{1}{41} < \frac{1}{25}$

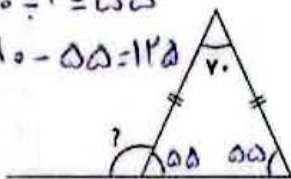


$110 - 70 = 40$

$40 \div 2 = 20$

$110 - 20 = 90$

الف)



۵ اندازه زاویه‌های خواسته شده را پیدا کنید.

ب)



$90 + 90 + 50 = 230$

$360 - 230 = 130$

۱



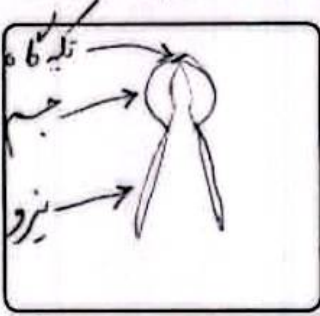
مغازه‌داری برای شب عید تمام لباس‌هایش را ۳۰٪ تخفیف گذاشته است. اگر لباس ۸۷۰۰۰ تومان باشد، ما بعد از تخفیف باید چند تومان بپردازیم؟

$$\frac{30}{100} = \frac{26100}{87000} - 87000 = 26100$$

باید ۶۰۹۰۰ تومان بپردازیم

علوم

گردوها و فندق‌های آجیل‌های عید را با چه وسیله‌هایی می‌شکنند؟ هر کدام چه نوع اهرمی هستند؟ سه قسمت اهرم را در وسایل با یک نقاشی زیبا نشان دهید. این وسایل چگونه به ما کمک می‌کنند؟



گردوها با گردو شکن و فندق‌کج با فندق شکن
گردو اهرم نوع دوم هستند.




مریم خانم برای شب سال نو سبزی پلو با ماهی پخت. او برای درست کردن ماهی مراحل زیر را انجام داد. در هر مرحله چه تغییری روی داده است؟

شستن ماهی: تغییر فیزیکی
سرخ کردن ماهی: تغییر شیمیایی


خرد کردن ماهی: تغییر فیزیکی
طعم‌دار کردن ماهی: تغییر شیمیایی

ساختمان چشم را نقاشی کرده و اجزای مهم آن را نامگذاری کنید. می‌توان از تصویر ۴۶ کتاب استفاده کرد.



وقتی می‌دوید از کدام دستگاه بدن‌تان استفاده می‌کنید؟ توضیح دهید.

اسکلت بدن به حرکت ما می‌کمده و ما می‌توانیم دویدن اتفاق بیفتد



فارسی

کلمات هم معنی را هم رنگ کنید.

کدوین	دریا	نکوهیده
بند	ناپسند	بازرگان
تاجد		بوته کدو


در جمله های زیر نشانه های نگارشی مناسب قرار دهید.

روزی نرگس و الهه در حیاط نشسته بودند که ناگهان هوا ابری شد و باران شروع به باریدن کرد (.) الهه پرسید (؟) این درست است که می گویند اگر باران نیاید انسان (.) حیوانات و موجودات زنده دیگر از بین می روند (.)

جمله ی زیر را گسترش دهید.

خواهرم کتاب من را آورد به دنجواه دانش آموز

داستان سفر آب به آسمان را از روی تصویر تعریف کنید و یک بند بنویسید.



به دنجواه دانش آموز

مطالعات اجتماعی

برچسب کره ی زمین را در جای مخصوص چسبانده و بیان کنید هر یک از قسمت های الف، ب، و ج، روی کره ی زمین چه چیزی را نشان می دهند؟



الف: قطب شمال

ب: خط استوا

پ: نصف النور

برچسب حیوانات مربوط به هر ناحیه را در محل مربوط به خود بچسبانید.

نواحی قطبی	نواحی بیابانی	جنگل‌های استوایی

۳ زهرا از سروصدا آتش‌بازی چهارشنبه‌سوری می‌ترسد او چه نوع ترسی است به جا یا نابه‌جا؟ نام به جا دو راه‌کار برای مقابله با ترس به زهرا پیشنهاد بدهید.
او می‌تواند با بزرگ‌ترها مشورت کند. او می‌تواند از نام و یاد خدا کمک بگیرد.

۴ جاهای خالی را با عبارت‌های مناسب کامل کنید.

در مسافرت حواسمان باشد؛
الف) با راننده صحبت کنیم
ب) زباله‌های خود را در سطل زباله قرار دهیم
پ) در بازدید از مکان‌های تاریخی بگردن‌ها را بستیم
ت) هنگام پختن غذا در جنگل آتش روشن نکنیم

هدیه‌های آسمان - قرآن

۱ با توجه به کتاب هدیه‌های آسمانی در مورد هریک از موضوعات زیر یک حدیث از پیامبر بنویسید.

نماز	نماز نور چشم من است.
پاکیزگی	پاکیزگی از پایه‌های دین اسلام است.

۲ هفت‌سین قرآنی زیر را با نام هفت سوره‌ی قرآن که با حرف (س) شروع می‌شوند کامل کنید.

سوره	سوره	سوره	سوره	سوره	سوره	سوره
سوره	سوره	سوره	سوره	سوره	سوره	سوره

۳ پدر متین در هنگام تحویل سال نو کتاب قرآن را باز کرد و قسمتی از آیه‌ی ۲۵ سوره بقره را خواند. ترجمه‌ی این قسمت از آیه را بنویسید.

وَبَشِّرِ الَّذِينَ آمَنُوا وَعَمِلُوا الصَّالِحَاتِ أَنَّ لَهُمْ جَنَّاتٍ،
دو بشارت ده. کسانی را که ایمان آورده‌اند و عمل صالح انجام می‌دهند که برای آن‌ها بهشت‌هایی است.

توانایی حل مسئله با مفهوم نسبت	توانایی بند نویسی
کتاببرداری صحیح و سلامت کتابی را زودتر زودتر	تشخیص پیام جملات شناختن عنوان مناسب
کاربرد اهرم	شناخت خطوط اصلی ایران امپراتوری
شناخت انواع ماشین‌های ساده	آشنایی با سوره‌های قرآن
شناخت حسن و زیبایی و لایحه‌نویسی	