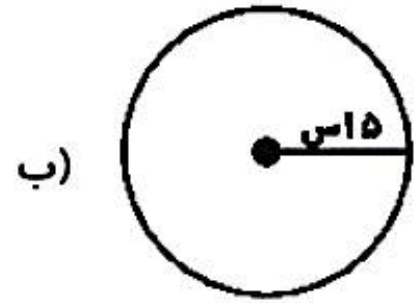
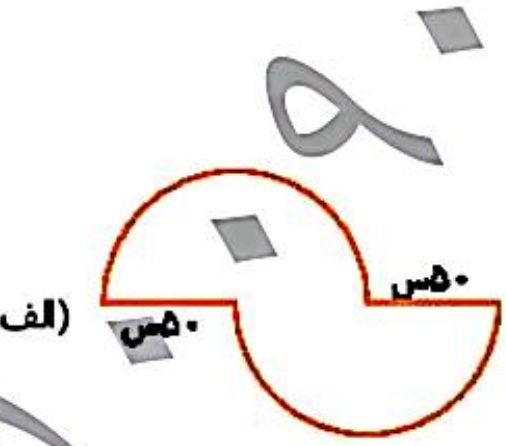


معیط شکل‌های زیر را به دست آورید.



.....

.....

.....





شماره‌ی

۲۹

# ارمغان هفته - پنجم دبستان

نام و نام خانوادگی: ..... تاریخ: ..... نام آموزگار: .....

ریاضی < فصل ۶ و ۷: حجم جمع آوری و نمایش داده  
 علوم < درس ۱۱: بکارید و بخورید  
 فارسی < درس ۱۶: وقتی بوعلی کودک بود.

مطالعات اجتماعی < درس ۲۰: وزیران کاردان شهرهای آباد (۲)  
 هدیه‌های آسمان < درس ۱۶: روزنامه دیداری  
 قرآن < درس ۱۱: جلسه‌ی سوم و چهارم

## ریاضی

۱ مخزنی به ابعاد ۱۰ و ۲۰ و ۳۰ متر را از آب پر کردیم. باید چند متر مکعب دیگر به آن اضافه کنیم تا مخزن پر شود؟

.....  
.....

۲ جدول داده‌های زیر مربوط به کتاب‌های یک کتابخانه است.


نوع کتاب	علمی	داستانی	مذهبی	هنری
تعداد	۸۰	۴۰	۶۰	۲۰

الف) نمودار ستونی برای آن رسم کنید.      ب) نمودار دایره‌ای برای آن رسم کنید.

۳ داده‌های مربوط به مصرف آب یک خانواده در نیمه اول یک سال به طور تقریبی در جدول زیر آمده است. نمودار خط شکسته مربوط به مصرف آب این خانواده را رسم کنید. سپس نمودار را توصیف کنید.

شهریور	مرداد	تیر	خرداد	اردیبهشت	فروردین	ماه
۱۲۵۰۰	۱۶۰۰۰	۱۴۵۰۰۰	۱۲۰۰۰	۱۱۰۰۰	۱۱۰۰۰	مقدار مصرف لیتر

.....  
.....



یک مدرسه ۲۰۰ دانش آموز دارد. شیرها به گنجایش ۲۵۰ سی سی توزیع می شود. چند لیتر شیر در این مدرسه توزیع شده است؟

## علوم

کامل کنید.

الف) رشد گیاهان و آبیاری با آب مقطر ..... از آب معمولی است.  
ب) تمامی موجودات زنده برای تنفس به گاز ..... نیاز دارند.

چگونه می توان خاک را تقویت کرد؟

۱) اضافه کردن ماسه به خاک    ۲) اضافه کردن کود به خاک    ۳) کاشت گیاه بیش تر    ۴) آبیاری خاک

چگونه می توان در مناطق بیابانی که خاک آن شور است، پوشش گیاهی ایجاد کرد؟

شرایط لازم برای رشد یک دانه را در جای مناسب خود بنویسید.

اکسیژن + غذای گیاه  $\xrightarrow{\text{سبزینه (کلروفیل)}}$  +

چرا در شکل (الف) شیشه‌ی ظرف بخار گرفته و عرق کرده ولی در شکل (ب) این اتفاق نیفتاده است؟



الف



ب

## فارسی

۱ معنی واژه‌های زیر را بنویسید.

<input type="text"/>	ندوخت	<input type="text"/>	سیما	<input type="text"/>	ندر
<input type="text"/>	سهل	<input type="text"/>	لبرام	<input type="text"/>	گران

۲ در جمله‌های زیر به جای کلمه‌های داخل کمانک، کلمه‌ی مناسب بنویسید.

همچنان که عبدالله این (رویداد) را (نقل می‌کرد) ، ستاره با (هیجان) چشم به دهان او (دوخته بود) و از شنیدن این ماجرا، (دم به دم) حالش (بهبود می‌یافت) عبدالله که متوجه این (دگرگونی) شادی آفرین شده بود دوباره کنار (بسترش) نشست و ادامه داد: «آری، بانوی من از آن (زمان) (گویی) حسین راه خود را (یافته) است.»

۳ با انتخاب واژه‌ای مناسب از میان کمانک، جاهای خالی را پر کنید.

الف) عبدالله (برخواست - برخواست) و نگاهی به بیرون افکند.  
ب) طیب (هیرت زده - حیرت زده) به چهره‌اش نگریست.

۴ در شعر «چشمه و سنگ» چه صفت‌هایی برای «سنگ» آمده است؟

## مطالعات اجتماعی

۱ با توجه به اقدامات مهم انجام شده نام هر دوره را بنویسید.

الف) ابوالقاسم فردوسی شاعر ایرانی معروف کدام دوره بود؟  
ب) مدارس به‌نام «نظامیه» در شهرهای بزرگ در کدام دوره ساخته شدند؟  
پ) مساجد و کاروان‌سراها با شکوه در کدام دوره ساخته شدند؟

۲ چرا حاکمان ترک تبار، وزیران بلهوش ایرانی را انتخاب می‌کردند؟

با توجه به درس وزیران کاردان، شهرهای آباد، برای جواب‌های زیر سؤال بنویسید.

الف) سفالگری، آهنگری، بافندگی، تجارت بازرگانی

ب) کشاورزی و دامپروری

پ) زبان فارسی، نامه‌ها و فرمان‌های حکومتی

کدام یک از وزیران سلجوقیان، خدمات زیادی در راه عمران و آبادانی ایران انجام داد؟

### هدیه‌های آسمان - قرآن

پاسخ دهید.

الف) پیامبر اکرم (ص) درباره‌ی رسیدگی به اعمال، چه فرموده‌اند؟

ب) امام علی (ع) درباره‌ی حسابرسی در دنیا و قیامت چه فرموده‌اند؟

پ) نام دیگر یوم الحساب چیست؟

جاهای خالی را پر کنید.






الف) یکی از نام‌های روز قیامت \_\_\_\_\_ است.






در آن انجام نمی‌شود اما روز قیامت روز \_\_\_\_\_

ب) امام علی فرمودند: «این دنیا جای \_\_\_\_\_ است و

در آن وجود ندارد.»

خداوند چگونه فرعون را عبرت آیندگان قرار دارد؟ توضیح دهید.

	معنای واژه
	کلمات کوتاه شده یا بلند شده
	شناخت وزیران کاردان
	شناخت قیامت
	آشنایی با زندگی فرعون

	حل مسئله‌ی گنجایش
	انجام نمودار و رسم آن
	رشد گیاه در انواع خاک
	آبیاری گیاهان
	شرایط لازم برای رشد گیاه

