



شماره‌ی

۲۰

ارمغان هفته - پنجم دبستان

نام و نام خانوادگی: تاریخ: نام آموزگار:

ریاضی < فصل ۷: میانگین
 علوم < درس ۱۲: از ریشه تا برگ (۱)
 فارسی < درس ۱۷: کار و تلاش

مطالعات اجتماعی < درس ۲۱: کشور گشایان بی رحم
 هدیه‌های آسمان < درس ۱۷: این‌ها و آن‌ها (۱)
 قرآن < درس ۱۲: جلسه‌ی اول و دوم

ریاضی

۱ هر کدام از موارد زیر را به احتمال درست وصل کنید.

- | | | | |
|---|--------------------------|--------------|--------------------------|
| تقویمی را باز کنیم صفحه‌ی ماه تولد شما بیاید. | <input type="checkbox"/> | احتمال برابر | <input type="checkbox"/> |
| در یک ظهر تابستانی هوا گرم باشد. | <input type="checkbox"/> | منفی | <input type="checkbox"/> |
| وقتی تلسی را پرتاب می‌کنیم فرد یا زوج بیاید. | <input type="checkbox"/> | احتمال کم | <input type="checkbox"/> |
| وقتی عددی فرد را با زوج جمع کنیم حاصل عددی فرد شود. | <input type="checkbox"/> | غیرممکن | <input type="checkbox"/> |
| وقتی باران می‌آید آسمان صاف باشد. | <input type="checkbox"/> | احتمال زیاد | <input type="checkbox"/> |

۲ میانگین سه عدد ۱۱، ۱۵ و ۱۹ را حساب کنید.

.....

۳ اگر علی مسیری را که ۹۴۰ سانتی‌متر است، با ۲۰ قدم رفته باشد، میانگین طول قدم‌های علی را بیابید.

.....

۴ دل‌آرا در هفته‌ی پیش ۱۲۶۰۰۰ تومان خرج کرده است. میانگین مخارج روزانه او را حساب کنید.

.....

علوم

۱ جاهای خالی را با توجه به کلمه‌های زیر کامل کنید.

- ریشه - تارهای کشنده،
 الف) با جوانه زدن دانه‌ی گیاهان در خاک، اولین قسمتی که رشد می‌کند، نام دارد.
 ب) تارهای ظریفی که روی ریشه قرار دارند، نام دارند.



۲ چه ارتباطی بین آسیب دیدن ریشه و پژمرده شدن گیاه است؟

۳ جاهای خالی را با کلمات مناسب کامل کنید.

(الف) در گیاهان مشابه بینی در جانوران است.

(ب) به دستجات آوندی در برگ می گویند.

(پ) اجزای اصلی گیاه و و می باشد.

فارسی

۱ کلمه های هم قافیه را به هم وصل کنید.

شب تاب

بسیار

سینا

باغ

چاه

بینا

ساق

هوشیار

آفتاب

گاه

۲ صورت مرتب شده ی بیت زیر را بنویسید.

«به راهی در، سلیمان دید موری که با پای ملخ کرد زوری»

۳ بیت «مکش بیهوده این بار گران را / میازار از برای جسم، جان را، چند جمله دارد؟

۴ با توجه به بیت داده شده موارد خواسته شده را نام برده و بنویسید.

«به تندی گفت: «کای مسکین نادان / چرایی فارغ از ملک سلیمان»

(الف) تعداد جملات بیت:

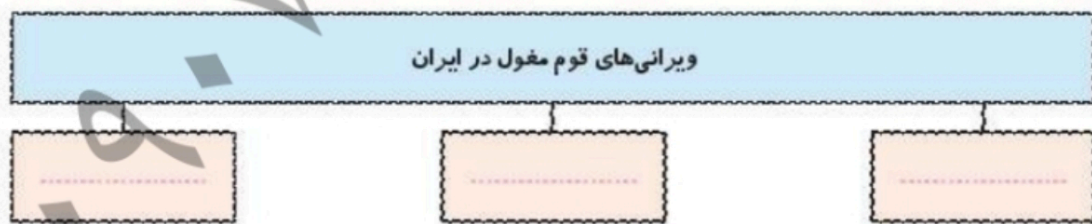
(ب) منادا:

مطالعات اجتماعی

با استفاده از برجسب‌های داده شده مسیر حرکت اقوام مغول را روی نقشه کامل کنید.



نمودار را کامل کنید.



جاهای خالی را کامل کنید.

- الف) در زمان سلطان محمد خوارزمشاه حاکم مغولستان بود.
- ب) هلاکو پس از فتح ایران را پایتخت خود قرار دارد.
- پ) حاکم شهر غایر خان بود.
- ت) از کسانی که مقابل مغول‌ها ایستادگی کرد، پسر سلطان محمد بود.

هدیه‌های آسمان - قرآن

نشانه‌های زندگی نیکان در بهشت را با رنگ سبز و نشانه‌های زندگی بدکاران در جهنم را با رنگ قرمز رنگ آمیزی کنید.

با خشم و عصبانیت به هم نگاه می‌کند.	هر آنچه اراده کند برایشان فراهم می‌شود.
فرشتگان به آن‌ها احترام می‌گذارند.	نعمت‌ها و لذت‌هایشان پایان ندارد.
از آبی بد بو می‌نوشند و سیراب نمی‌شوند.	حسرت زده و پشیمان هستند.





ترجمه‌ی آیات زیر را کامل کنید.






الف) صراطِ الَّذِينَ أَنْعَمْتَ عَلَيْهِمْ (حمد ۷)

که به آن‌ها

ب) رَبَّنَا اغْفِرْ لِي وَلِوَالِدَيَّ وَلِلْمُؤْمِنِينَ يَوْمَ يَقُومُ الْحِسَابُ (ابراهيم ۴۱)

مرا و را و را در که به حساب مردم رسیدگی می‌کنند.

	تشخیص منادا
	تشخیص مسیر حرکت اقوام مفعول
	تشخیص نشانه‌های زندگی نیکان و بدان در آخرت
	توانایی ترجمه‌ی آیات قرآنی

	محاسبه‌ی میانگین
	کاربرد میانگین در مسئله
	شناخت اجزای گیاه
	فواید شخم زدن
	مراحل رشد دانه

