

کاربرگ مرور ریاضی

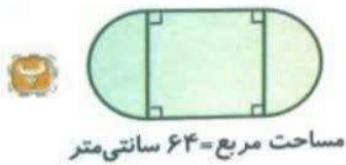

موضوع:

تاریخ

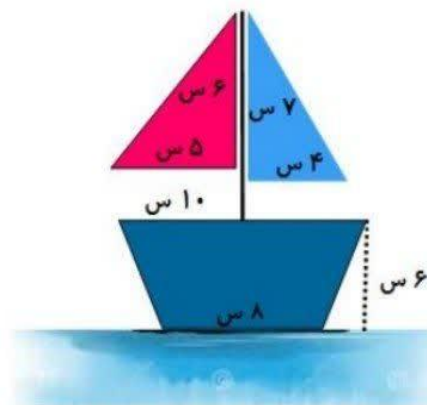
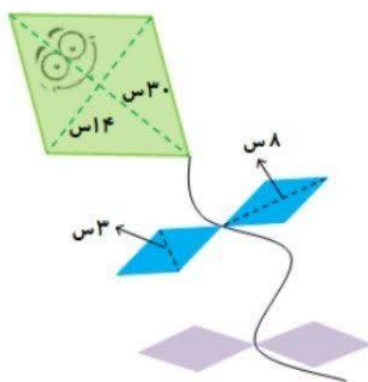
نام و نام خانوادگی

هدف:

۱ محیط هر یک از شکل های زیر را به دست آورید. (عدد پی را ۳ در نظر بگیرید.)



۲ محاسبه کنید برای درست کردن کاردستی هایی به شکل زیر چه مساحتی از کاغذ رنگی مورد نیاز است؟





نام و نام خانوادگی

تاریخ

موضوع:

کاربرگ مرور علوم

هدف:

1_ گزینه صحیح را علامت بزنید .

ماهیچه یک ماهیچه غیر ارادی است.

- دست انگشت پا معده صورت

بخش رنگی چشم نام دارد .

- عنیبه قرنیه شبکیه مردمک

اگر تعداد گیرنده های حسی در در بخشی از پوست بیشتر باشد ، آن قسمت است .

- زیبا تر ضخیم تر نازک تر حساس تر

در مجرای شنوایی ترشح می شود.

- حلزونی لاله گوش پرده گوش ماده چرب

2_ درست و نادرست را تشخیص دهید .

با زیاد و کم شدن نور ، مردمک تنگ و گشاد می شود .

درست نادرست

مغز نرم و آسیب پذیر است ولی نخاع محکم است.

درست نادرست

ماهیچه ها به استخوان ها وصل اند .

درست نادرست

3- قسمت های مختلف را با کلمات مناسب پر کنید .

در مفصل بین استخوان ها وجود دارد.

..... مسئول و فرمانده همه کارهای بدن است.

افراد اجسام نزدیک را واضح نمی بینند .

..... در ابتدای مجرای شنوایی و در انتهای مجرای شنوایی قرار دارد.

