



کاربرگ مرور ریاضی

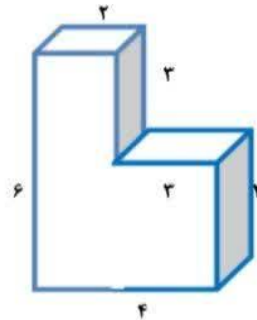
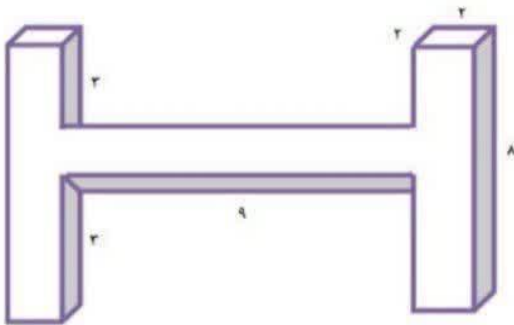

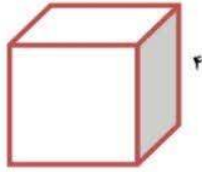
موضوع:

تاریخ

نام و نام خانوادگی

هدف:

۱ حجم شکل های زیر را بدست آورید.



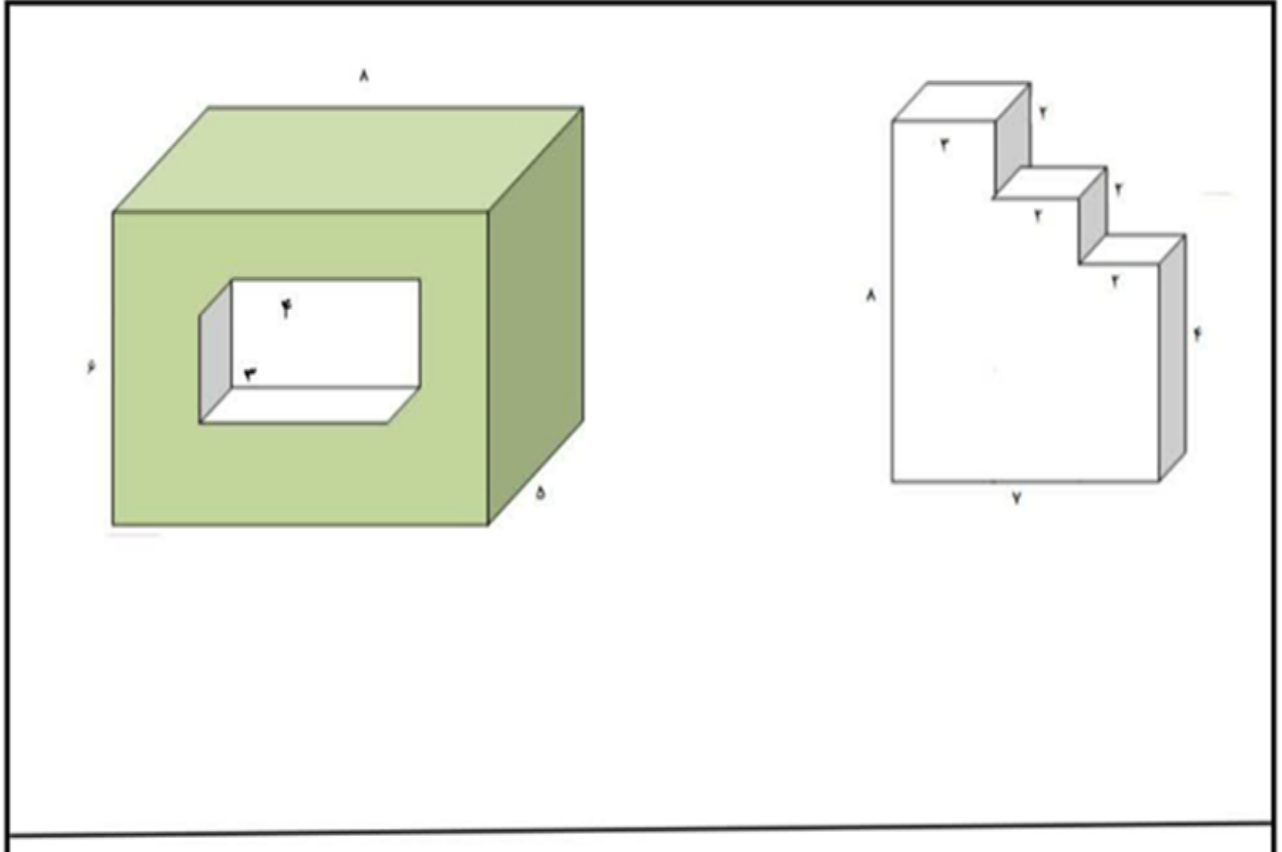


موضوع:

تاریخ

نام و نام خانوادگی

هدف:





موضوع:

تاریخ:

نام و نام خانوادگی:

هدف:

جدول زیر را کامل کنید.

طول (سانتی متر)	عرض (سانتی متر)	ارتفاع (سانتی متر)	گنجایش (سی سی)	گنجایش (لیتر)
۴	۵	۳		
۱ ۳— ۲	۲ ۱— ۴	۴		
۴/۲	۳/۵	۱ ۲— ۲		
۵	۱/۲۵	۳/۴		

در جاهای خالی عدد مناسب بنویسید.

الف) ۰/۰۹ لیتر .... سانتی متر مکعب

ب) ۵ لیتر = ..... سانتی متر مکعب

پ) ۰/۳۸۴ لیتر = ..... سی سی

ت) ۹۴ سی سی = ..... لیتر

ث) ۰/۷۴۳ سانتی متر مکعب ..... سی سی


ج) ۵ سی سی = ..... سانتی متر مکعب

چ) ۰/۲ لیتر = ..... سی سی

ح) ۶۴ لیتر = ..... سی سی

ز) ۵۰۰ سی سی = ..... لیتر

ر) ۳ سی سی = ..... قطره





کاربرگ مرور علوم

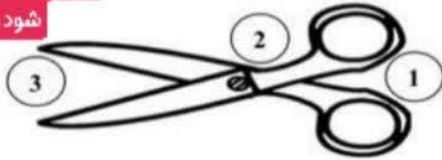
موضوع:

تاریخ

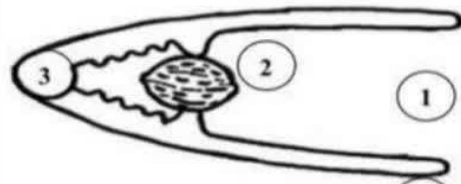
نام و نام خانوادگی

هدف:

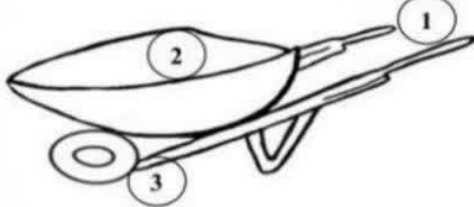
قسمت‌های شماره گذاری شده روی هر ابزار، کدام یک از سه قسمت اصلی اهرم هستند؟ توخ اهرم و ویژگی هر کدام نوشته شود.



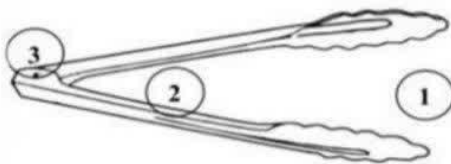
- 1.
- 2.
- 3.



- 1.
- 2.
- 3.




- 1.
- 2.
- 3.



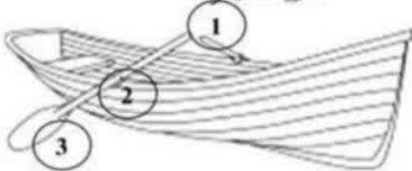
- 1.
- 2.
- 3.



- 1.
- 2.
- 3.



- 1.
- 2.
- 3.



- 1.
- 2.
- 3.





موضوع:

تاریخ

نام و نام خانوادگی

هدف:

نوع اهرم به کار رفته در هر تصویر را مشخص کنید.

