



جاهای خالی را با کلمات کم‌تر و بیش‌تر کامل کن.

الف: درنا ۵۸ کتاب و برادرش ۳۹ کتاب دارد. تعداد کتاب‌های درنا بیشتر از تعداد کتاب‌های برادرش است.
 ب: در گلخانه‌ی رز ۱۳۵ گل و در گلخانه‌ی یاس ۱۴۷ گل پرورش داده شده است.
 تعداد گل‌های پرورش یافته در گلخانه‌ی رز کمتر از تعداد گل‌های پرورش یافته در گلخانه یاس است.

۲ درستی و نادرستی هر عبارت را مشخص کن.

الف: ارزش رقم صدگان کم‌تر از دهگان است.

ب: عدد ۳۵۲ کم‌تر از ۳۵۰ است.

پ: یکی از روش‌های مقایسه‌ی دو عبارت، حذف قسمت‌های مساوی دو طرف است.

۳ پاسخ‌ها را در دو طرف عبارت با هم مقایسه کن و علامت $<=>$ بگذار.

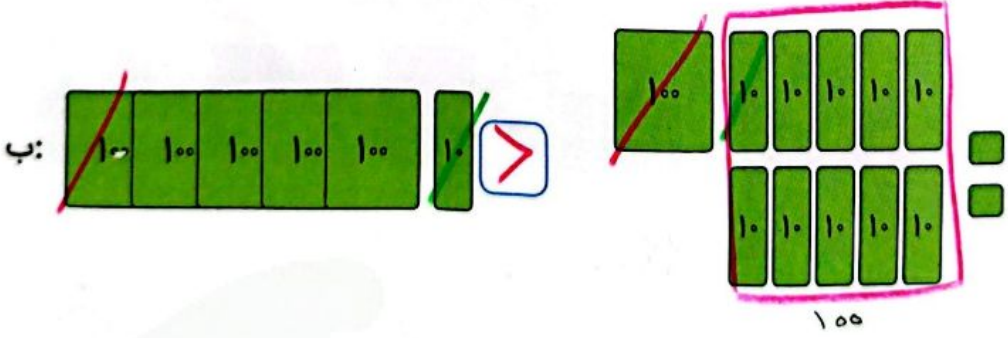
الف: $400 + 400$ $800 - 200$

ب: $500 + 200$ $500 - 200$

پ: $100 + 100 + 200$ $200 + 300$

ت: $700 - 400$ $100 + 100 + 100$

۴ با حذف قسمت‌های مساوی علامت $<=>$ بگذار.



تمرین

۱ هر شکل را به عدد مربوط به آن وصل کن.

۵۳۱
۴۳۵
هفتصد و دوازده
دویست و بیست و دو

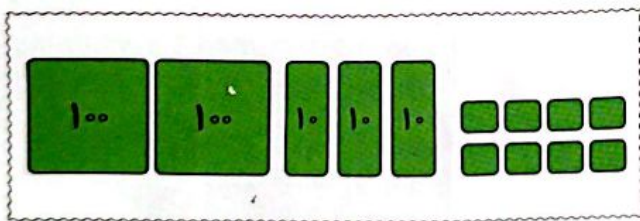
۱۰۰ ۱۰۰ ۱۰ ۱۰
۲۰۰ ۱۰۰ ۱۰۰ ۱۰ ۱۰ ۱۰
۱۰۰ ۱۰۰ ۱۰ ۱۰ ۱۰
صدگان دهگان یکان

۲ درستی و نادرستی هر عبارت را مشخص کن.

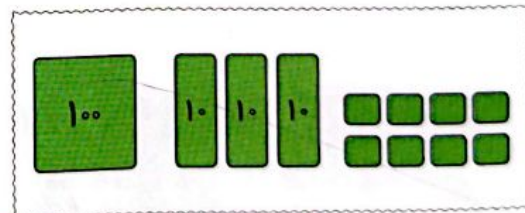
$904 > 402$

- الف: اگر به عدد ۵۰۴ یک دسته‌ی ۱۰۰ تایی اضافه کنیم از عدد ۶۰۲ بزرگ‌تر است.
- ب: عدد ۳۳۰ از عدد ۳۳۳ بزرگ‌تر است.
- پ: رقم صدگان عدد ۴۰۵ از رقم صدگان ۴۴۰ بزرگ‌تر است.
- ت: عدد ۱۵۲ کم‌تر از عدد ۵۲ می‌باشد.

۳ عددی را که هر شکل نشان می‌دهد بنویس، سپس با هم مقایسه کن و علامت $<=>$ بگذار.



۲۳۸



۱۳۸



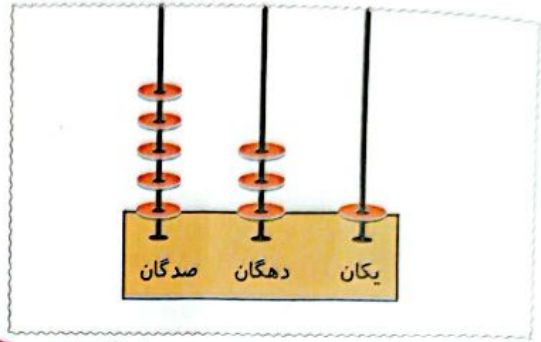
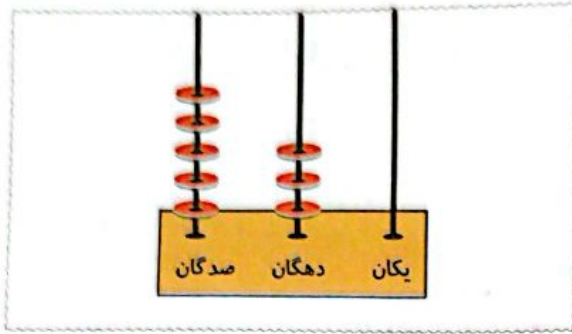
۱۷۰



۴۳۰



علوی



۵۲۰ < ۵۳۱

هر دو عدد را با هم مقایسه کن، سپس در جای خالی علامت $< = >$ بگذار.

الف: ۲۰۰ < ۲۰۲

ت: ۷۰۸ < ۷۳۵

ج: ۱۸۵ < ۱۸۹

ب: ۵۰۷ < ۴۹۹

ث: ۳۸۰ < ۳۰۸

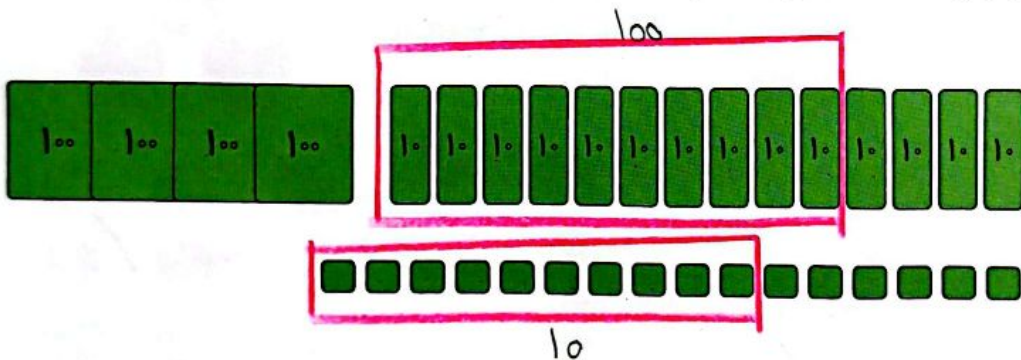
ح: ۹۸ < ۱۰۷

پ: ۲۱۴ < ۳۱۴

ج: ۴۱۷ < ۴۰۷

خ: ۳۰۵ < ۳۵

تا جایی که می توانی دسته های ده تایی و صد تایی درست کن. سپس عدد مناسب را داخل جدول بنویس.

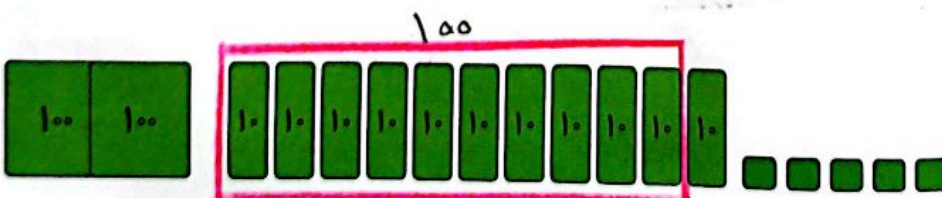


الف:

| صدگان | دهگان | یکان |
|-------|-------|------|
| ۵ | ۲ | ۰ |

به عدد: ۵۲۰

به حروف: ...



| صدگان | دهگان | یکان |
|-------|-------|------|
| ۲ | ۱ | ۵ |

به عدد: ۲۱۵

به حروف: ...