

۱- جمع و تفریق زیر را به صورت افرا بنویس.

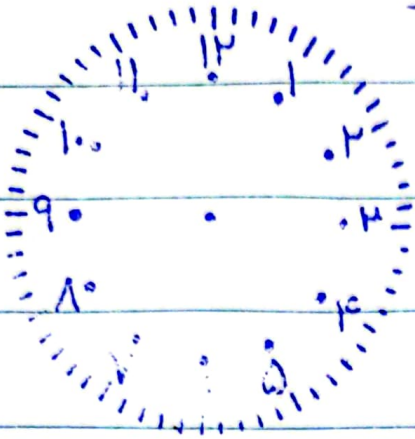
$$\begin{array}{r} 54 \\ + 32 \\ \hline \end{array}$$

$$\begin{array}{r} 19 \\ - 54 \\ \hline \end{array}$$

$$\begin{array}{r} 31 \\ + 45 \\ \hline \end{array}$$

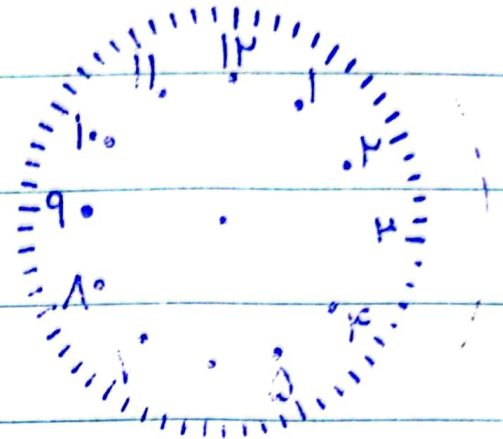
$$\begin{array}{r} 75 \\ - 27 \\ \hline \end{array}$$

۲- ساعت‌ها را نشان بده و به ریاضی بنویس.



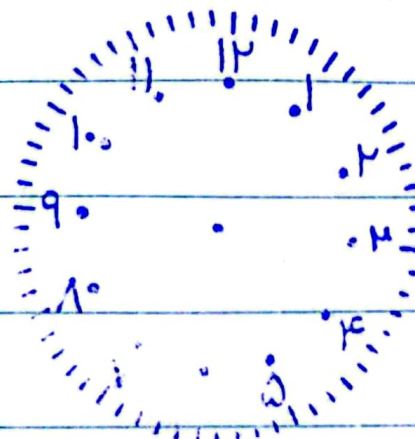
ساعت ۳ و ۳ دقیقه

_____ :



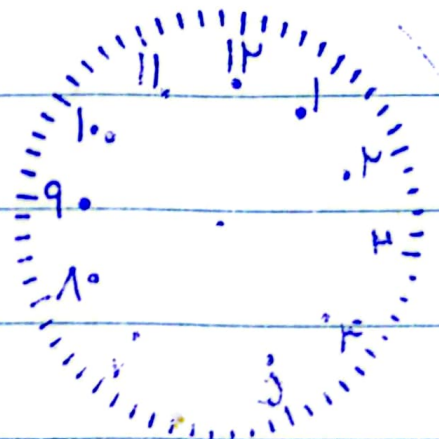
ساعت ۱۰ و ۱۰ دقیقه

_____ :



ساعت ۴ و ۴ دقیقه

_____ :



ساعت ۸ و ۱۰ دقیقه

_____ :