

## فعالیت کلاسی



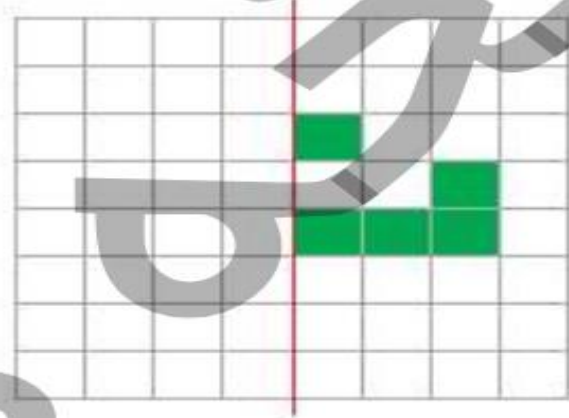
با توجه به خط تقارن، نیمه‌ی دیگر شکل‌ها را کامل کن.

۱



با توجه به خط تقارن، خانه‌های شطرنجی را رنگ کن. بعد از رنگ کردن، کدام «نشانه» دیده می‌شود؟

۲

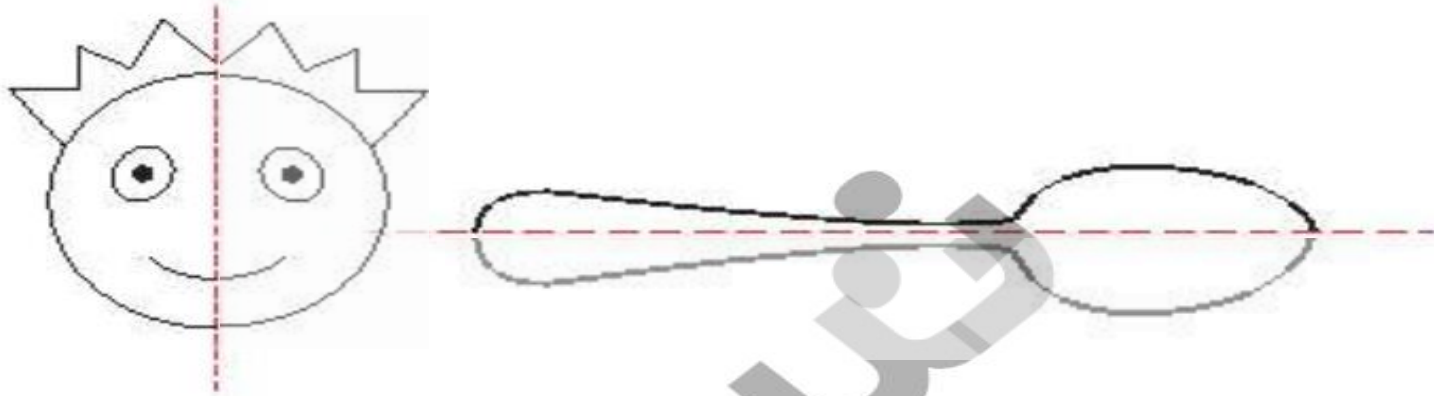


نشانه ..... دیده می‌شود.

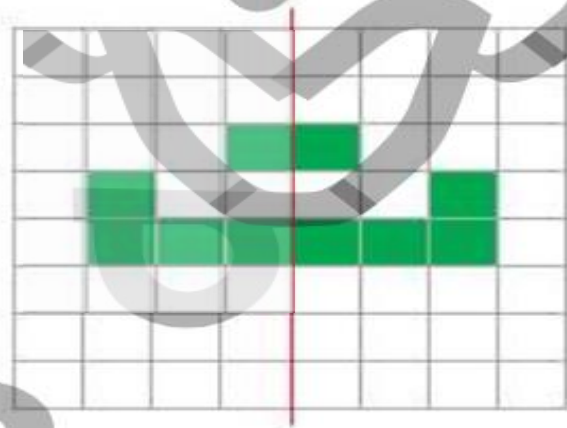
## فعالیت کلاسی



۱ با توجه به خط تقارن، نیمه‌ی دیگر شکل‌ها را کامل کن.




۲ با توجه به خط تقارن، خانه‌های شطرنجی را رنگ کن. بعد از رنگ کردن، کدام «نشانه» دیده می‌شود؟



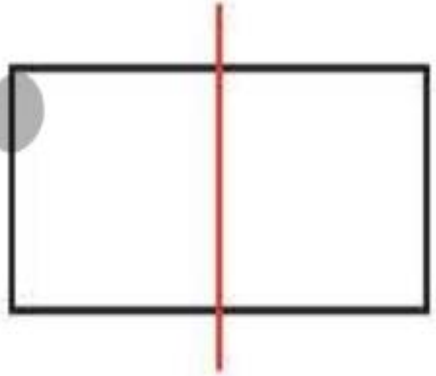
نشانه ..... **ت** ..... دیده می‌شود.

۲

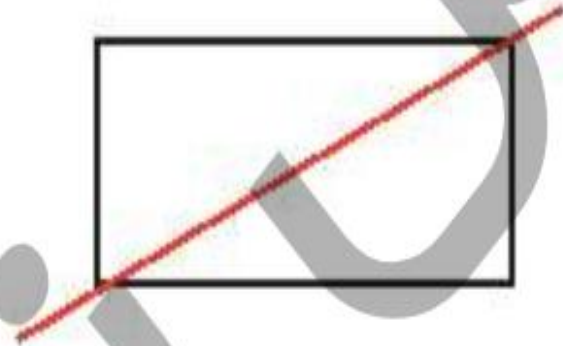
خط رسم شده در کدام یک از شکل‌های زیر خط تقارن است؟ (دور آن خط بکش)



ب:



ب:



الف:

۴

ساعت ۷ است. اگر عقربه‌ی دقیقه شمار، ۳۰ دقیقه (نیم ساعت) حرکت کند. ساعت چند می شود؟ آن را روی ساعت نشان بده.

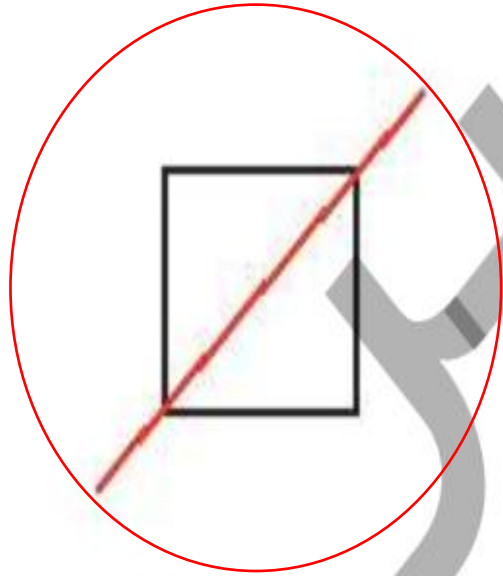


ساعت ..... می شود.

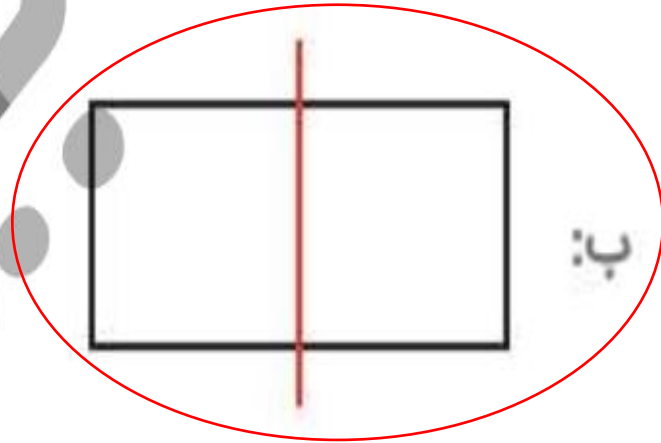


خط رسم شده در کدام یک از شکل‌های زیر خط تقارن است؟ (دور آن خط بکش)

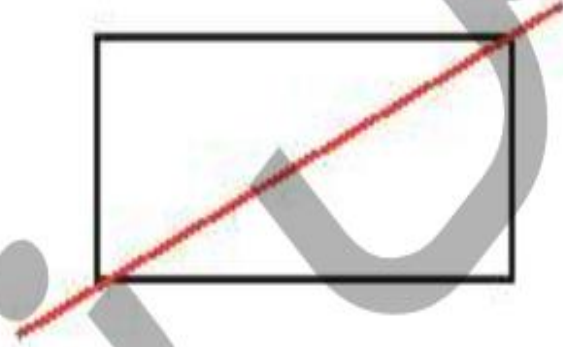
۲



ب:



ب:



الف:

ساعت ۷ است. اگر عقربه‌ی دقیقه شمار، ۳۰ دقیقه (نیم ساعت) حرکت کند. ساعت چند می‌شود؟ آن را روی ساعت نشان بده.

۴



ساعت ..... ۷:۳۰ ..... می‌شود.

۵

در کدام یک از شکل‌های زیر، خط کشیده شده، خط تقارن نیست؟ (دور آن خط بکش)


الف:



ب:



پ:



ت:



ریاضی دوم دبستان



