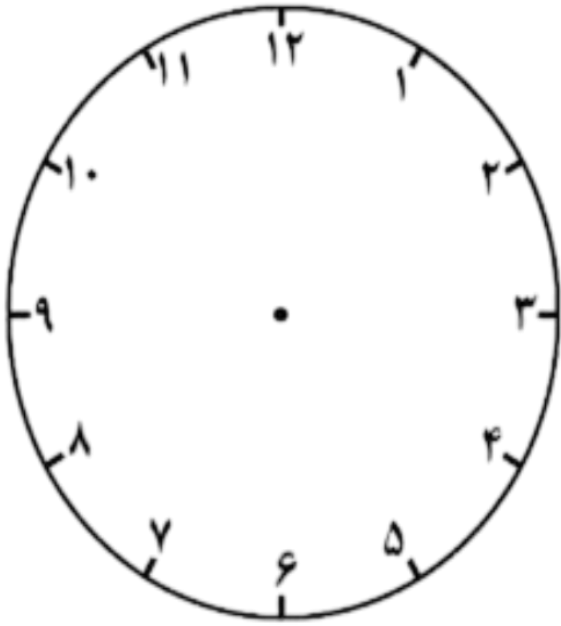
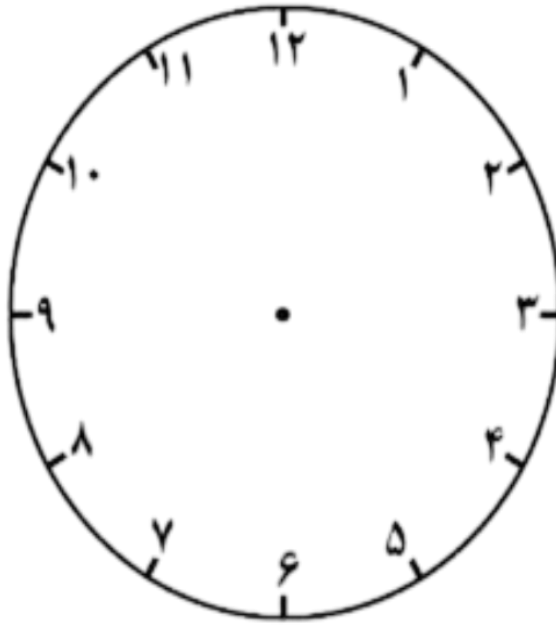


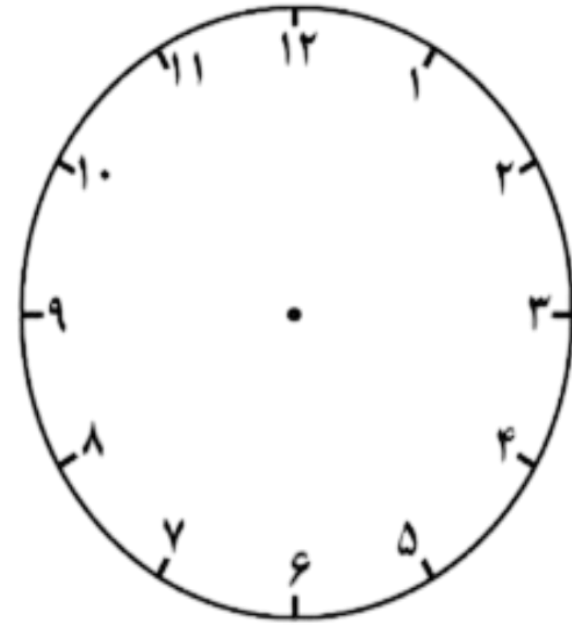
با توجه به زمان گفته شده عقربه های زیر را مشخص کنید .



۸ و نیم



یک ربع مانده به ۳



نیم ساعت بعد از ۲ و نیم

جمع و تفریق های زیر را به صورت ستونی بنویسید و به روش فرایندی حل کنید.

$$۴۷ + ۱۳ =$$

$$۹۷ - ۳۹ =$$

$$۸۹ - ۷۸ =$$

الگوهای زیر را ادامه دهید .

.....و.....و ۴۹ و ۴۵ و ۴۱

.....و.....و ۲۴ و ۲۰ و ۱۷ و ۱۵

زمان ساعت های زیر را مشخص کنید .

