

مرور فصل

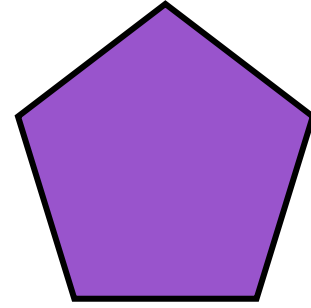



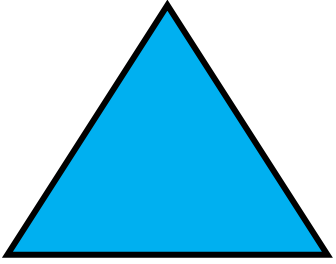


سوم



کتاب ریاضی

۱. تعداد گوشه و ضلع اشکال زیر را بنویسید.



۳

۶

ندارد

۴

۵

ضلع:

۳

۶


ندارد

۴

۵

گوشه:

۲. تفاوت و شباهت اشکال زیر را بنویسید.



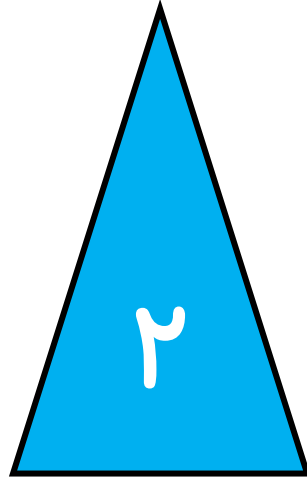
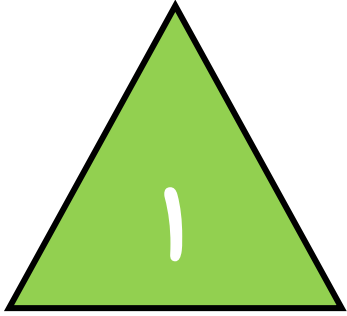
شباهت: هر دو ۴ ضلع و ۴ گوشه دارند.

تفاوت:

مربع: ۴ ضلع برابر دارد. ۴ خط تقارن دارد.

مستطیل: ضلع های روبه رو برابر هستند. ۲ خط تقارن دارد.

۳. تفاوت و شباهت اشکال زیر را بنویسید.



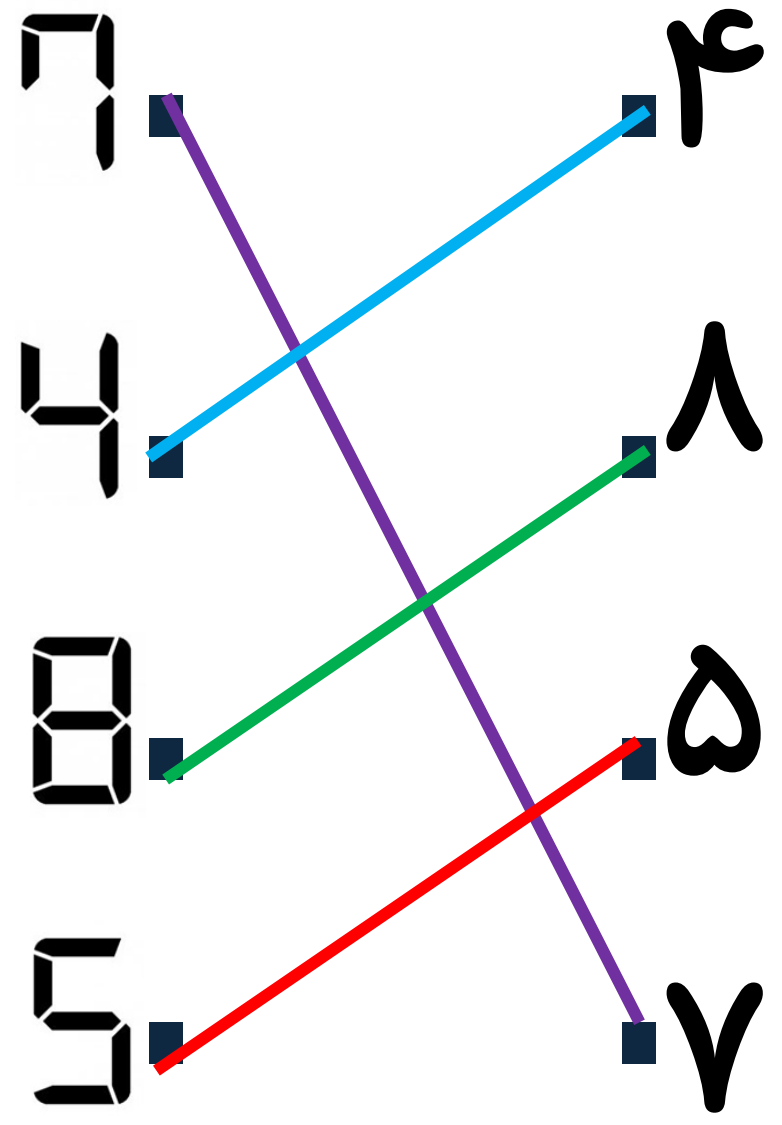
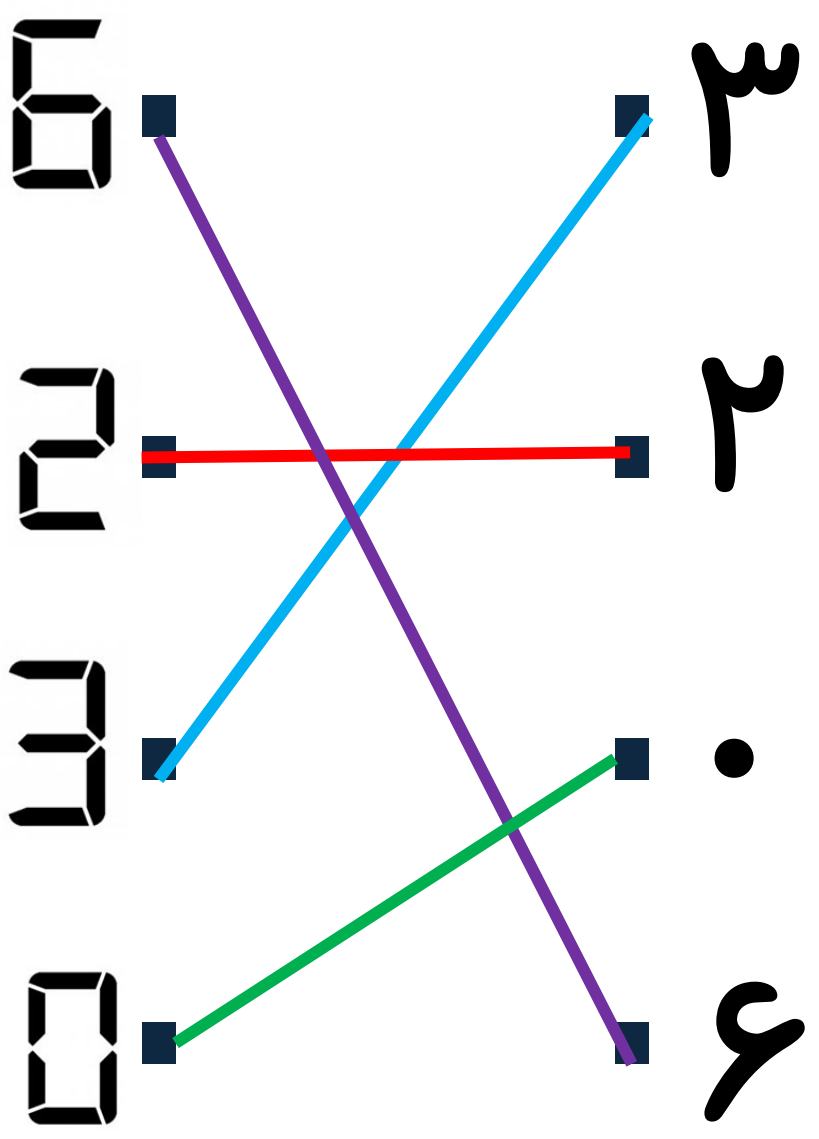
شباهت: هر دو ۳ ضلع و ۳ گوشه دارند.

تفاوت:

شکل ۱: هر سه ضلع برابر است.

شکل ۲: ضلع با هم دیگر برابر نیستند.

۴. دخترم اعداد را تشخیص بده و به هم وصل کن.



۳. الگوها را ادامه بدهید.

۱ ، ۲ ، ۵ ، ۱۰ ، ۱۷ ، ۲۶ ، ...



+۱    +۳    +۵    +۷    +۹



+۲    +۲    +۲    +۲

۲ ، ۴ ، ۷ ، ۱۱ ، ۱۶ ، ۲۲ ، ...



+۲    +۳    +۴    +۵    +۶



+۱    +۱    +۱    +۱