



موضوع:

تاریخ

نام و نام خانوادگی

هدف:



عقربه‌ی بزرگ چند دقیقه حرکت کند تا ساعت ۷ شود؟

..... **۲۰ دقیقه**

مقدار حرکت عقربه‌ی بزرگ را رنگ کن.



عقربه‌ی بزرگ چند دقیقه حرکت کند تا ساعت ۱ شود؟

ده دقیقه

مقدار حرکت عقربه‌ی بزرگ را رنگ کن.



عقربه‌ی بزرگ چند دقیقه حرکت کند تا ساعت ۶:۳۰ شود؟

ده دقیقه

مقدار حرکت عقربه‌ی بزرگ را رنگ کن.



عقربه‌ی بزرگ چند دقیقه حرکت کند تا ساعت ۵:۳۰ شود؟

... **۲۵ دقیقه**

مقدار حرکت عقربه‌ی بزرگ را رنگ کن.

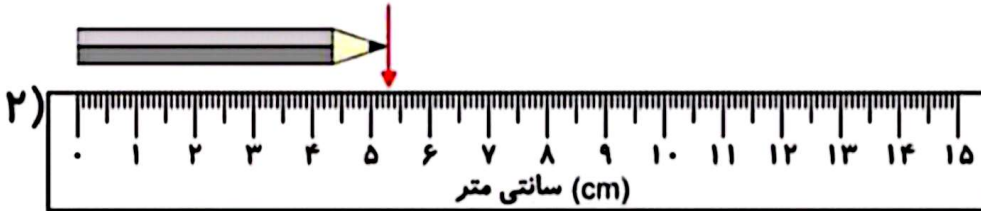


موضوع:

تاریخ

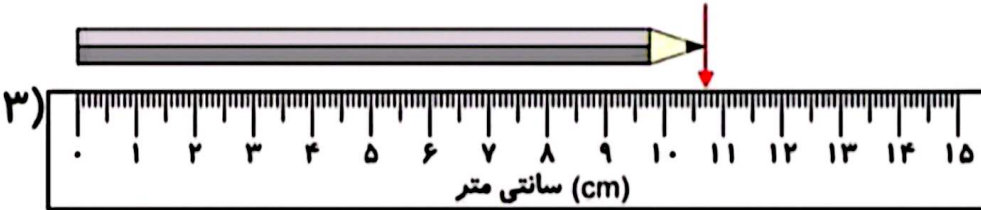
نام و نام خانوادگی

هدف:



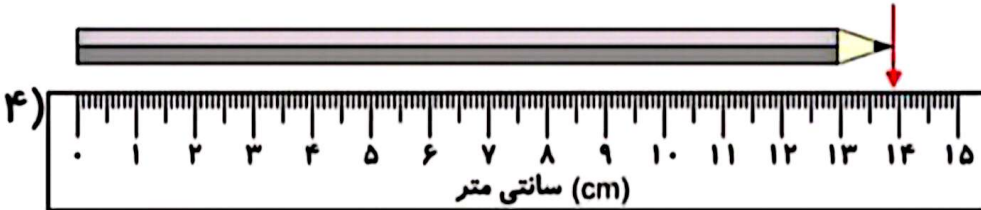
۵۳_{mm}

5cm, 3mm



۱۰۷_{mm}

10cm, 7mm



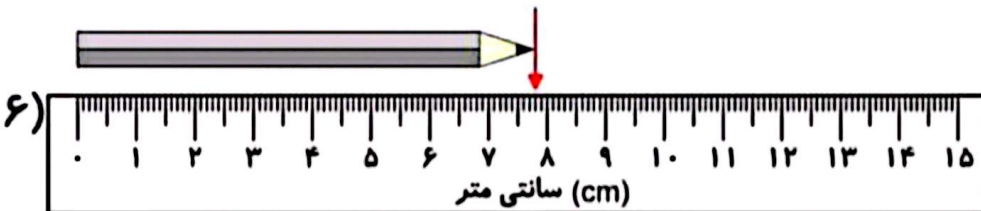
۱۳۹_{mm}

۱۳cm, ۹mm



۲۰_{mm}

۲_{cm}



۷۸_{mm}

7cm, 8mm

بازخورد:





موضوع:

تاریخ

نام و نام خانوادگی

هدف:

۲۶ میلی متر یعنی ۲ . سانتی متر و ... ۶ ... میلی متر

۵۷ میلی متر یعنی ... ۵ .. سانتی متر و ... ۷ .. میلی متر

۹۵ میلی متر یعنی ۹ ... سانتی متر و . ۵ میلی تر

۱۰۵ میلی متر یعنی ... ۱۰ . سانتی متر و . ۵ میلی متر

۲۲۶ میلی متر یعنی ... ۲۲ .. سانتی متر و ... ۶ ... میلی متر

۳۴۲ میلی متر یعنی ... ۳۴ ... سانتی متر و ... ۲ ... میلی متر

۴۵۷ میلی متر یعنی ... ۴۵ .. سانتی متر و ... ۷ ... میلی متر

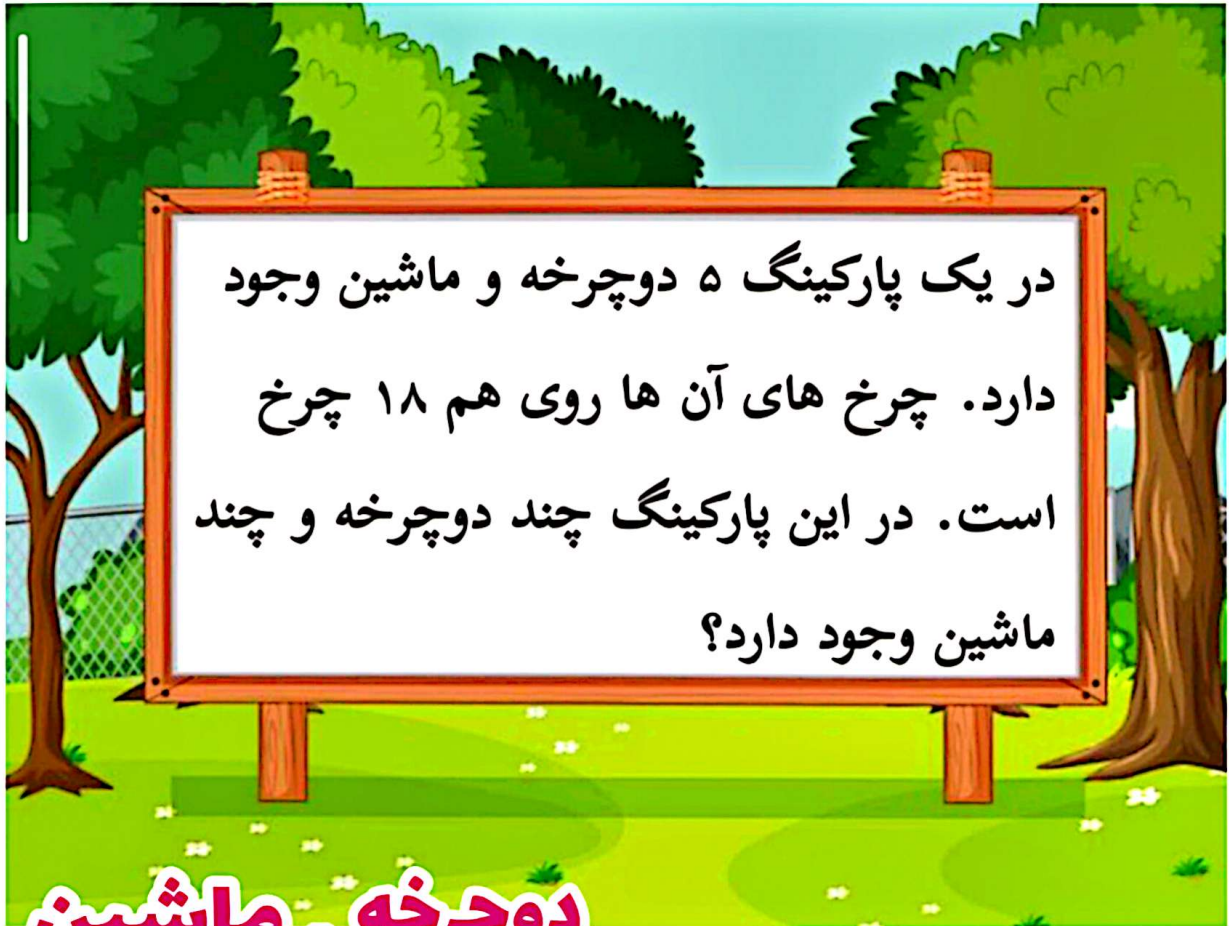


موضوع:

تاریخ:

نام و نام خانوادگی:

هدف:



دوچرخه ماشین

۲	۳	$۴+۴+۲+۲+۲=۱۴$
۳	۲	$۴+۴+۴+۲+۲=۱۶$
✓ ۴	۱	$۴+۴+۴+۴+۲=۱۸$

در این پارکینگ ۴ ماشین و ۱ دوچرخه وجود دارد.