



۱ شش سطر اول درس را با خط خوانا و زیبا بنویس.

مردم جهان اولین روز سال جدید خود را جشن می‌گیرند. همه‌ی این جشن‌ها زیبا هستند. در کشور ما روز اول فروردین، نخستین روز سال نو است. این روز را «نوروز» می‌گویند. نوروز آغاز فصل سرسبزی و زیبایی‌های طبیعت است.

۲ پنج ترکیب مانند نمونه از درس پیدا کن و بنویس.

مثال: مردم جهان - سال نو - نوروز ما.

۳ کلمه‌های زیر را با «ان» جمع ببند. مانند: شنونده + ان = شنندگان

گرسنه: ..... دونه: ..... گوسفند: .....  
درخت: ..... ستاره: ..... پرنده: .....

۴ اگر زبان پرنده‌ها را بلند بودی، به آن‌ها چه می‌گفتی؟ در یک خط بنویس.



فعالیت کلاسی ۲

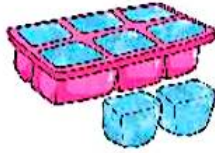


دور موارد جامد خط بکش.

۱



(سوپ)



(یخ)



(مداد)



(پرتقال)



(آب پرتقال)

۲ بانوجه به نقشه‌ی مفهومی جاهای خالی را پرکن.

۲

الف: مواد جامد با ..... به مواد مایع تبدیل می‌شوند.

ب: مواد مایع با ..... به مواد جامد تبدیل می‌شوند.

۳ یک لیوان آب و یک مداد روی میز است. یک شباهت و یک تفاوت آن‌ها را بنویس.

۳


شباهت: .....

تفاوت: .....



۴ یک ماده‌ی جامد، یک مایع و یک گاز در کادر زیر نقاشی کن.

۴



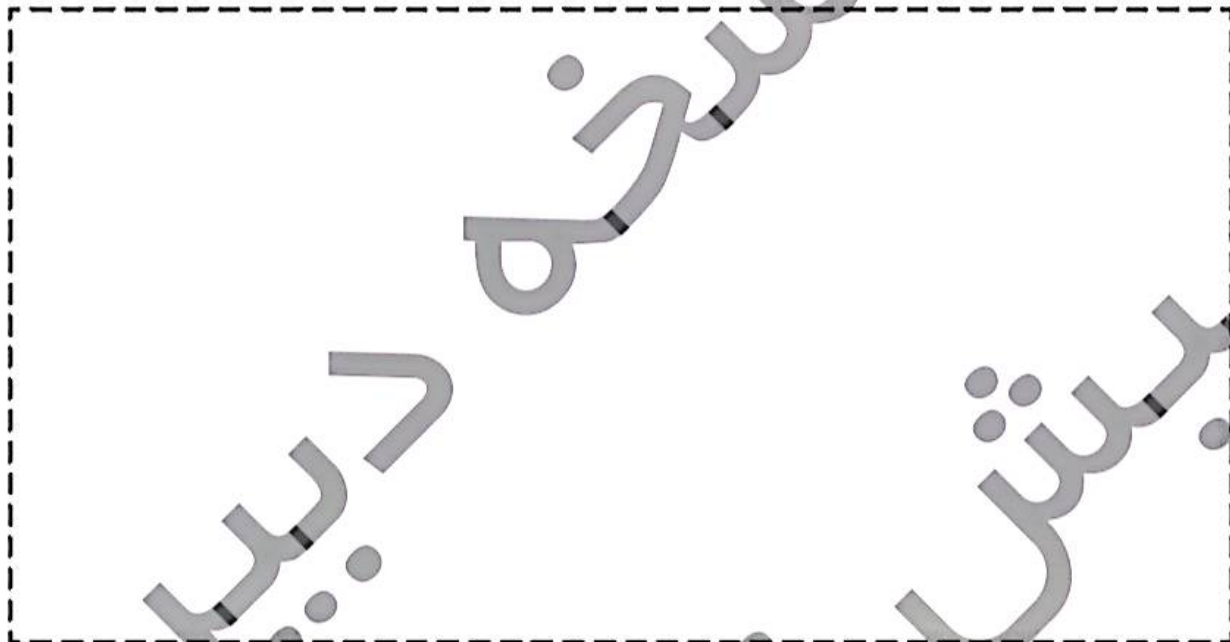
گاز

مایع

جامد

ساعتها را از انتهای کتاب کنار جدا کن. آنها را طوری کنار هم قرار بده و بچسبان که یک الگو ساخته شود.

۸



با توجه به سوالات داده شده، گزینه‌ی صحیح را انتخاب کن.

الف: آشپزی می‌خواهد یک نوع بیسکویت بپزد. او باید فر (نوعی اجاق) را به مدت ۱۰ دقیقه گرم کند و بیسکویت را به مدت ۱۲ دقیقه بپزد. آشپز می‌خواهد پختن بیسکویت را در ساعت ۱۱ تمام کند. دیرترین زمانی که او باید فر را روشن کند، کدام است؟

۱۰:۲۲ (۴)

۱۰:۵۰ (۳)

۱۰:۴۸ (۲)

۱۰:۲۸ (۱)

ب: اگر شما یکی از عددهای زیر را از ۹۰۰ کم کنید، پاسخ آن از ۳۰۰ بزرگتر خواهد شد. آن عدد کدام است؟

۵۷۹ (۴)

۶۶۷ (۳)

۷۱۲ (۲)

۸۲۳ (۱)



جمع و تفریق اعداد سه رقمی ► فصل ششم