

علوی

۲ به تعداد عدد نوشته شده کنار هر شکل از آن رنگ کن، سپس کسر مقدار رنگ شده از هر شکل را بنویس.


الف: قسمت از ۱۰ قسمت مساوی رنگ شده است.

۷ تا




ب: قسمت از ۱۰ قسمت مساوی رنگ شده است.

۹ تا



پ: ده‌تایی و قسمت از قسمت مساوی رنگ شده است.

۳ تا ۳۴

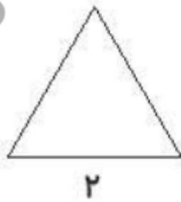
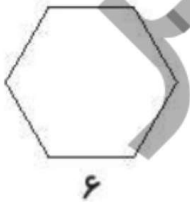


۴ با توجه به شکل جاهای خالی را کامل کن.

اندازه‌ی خط سانتی‌متر و قسمت از ۱۰ قسمت مساوی است.

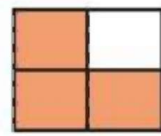
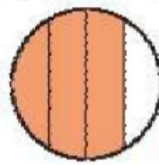
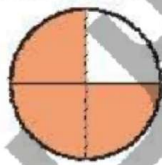
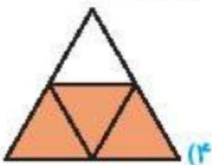


۵ با توجه به عددی که زیر هر شکل نوشته شده، شکل‌ها را به قسمت‌های مساوی تقسیم کن.



۶ با توجه به سؤالات داده شده، گزینه‌ی صحیح را انتخاب کن.

الف: کدام‌یک از شکل‌های زیر ۲ قسمت از ۴ قسمت مساوی را نشان نمی‌دهد؟ دور آن خط بکش.



ب: ۴۸ یعنی ده‌تایی و قسمت از ۱۰ قسمت مساوی.

۴) ۸ ده‌تایی و ۴

۳) ۴ ده‌تایی و ۸

۲) ۴ ده‌تایی و ۹

۱) ۴ ده‌تایی و ۷



۱۶۳

کسرواحتمال ▶ فصل هفتم