


فصل هفتم

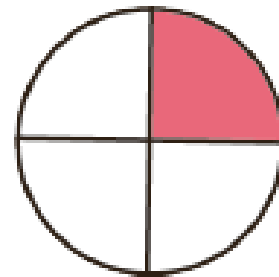
نمایش کسرها



۱- برای شکل‌هایی که قسمت‌های مساوی دارند، جملات را مانند نمونه کامل کنید.



۱ قسمت از ۴ قسمت مساوی
رنگ شده است



_____ قسمت از _____ قسمت مساوی
رنگ شده است



_____ قسمت از _____ قسمت مساوی
رنگ شده است




_____ قسمت از _____ قسمت مساوی
رنگ شده است

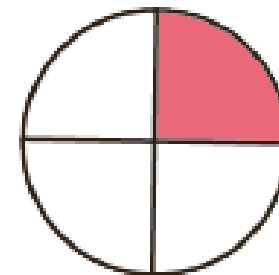


_____ قسمت از _____ قسمت مساوی
رنگ شده است

۱- برای شکل‌هایی که قسمت‌های مساوی دارند، جملات را مانند نمونه کامل کنید.




۱ قسمت از ۴ قسمت مساوی
رنگ شده است



۱ قسمت از ۴ قسمت مساوی
رنگ شده است



۲ قسمت از ۳ قسمت مساوی
رنگ شده است



۴ قسمت از ۸ قسمت مساوی
رنگ شده است



۲ قسمت از ۴ قسمت مساوی
رنگ شده است

۲- با توجه به پرچم جمهوری اسلامی ایران جمله‌ها را کامل کنید.

_____ قسمت از _____ قسمت مساوی پرچم سبز است.

_____ قسمت از _____ قسمت مساوی پرچم قرمز است.



۲- با توجه به پرچم جمهوری اسلامی ایران جمله‌ها را کامل کنید.

۱ قسمت از ۳ قسمت مساوی پرچم سبز است.

۱ قسمت از ۳ قسمت مساوی پرچم قرمز است.



۳- عدد ۲۷ در شکل زیر نشان داده شده است.



۲۷ یعنی ۲ ده‌تایی و ۷ قسمت از ۱۰ قسمت مساوی. به همین ترتیب جاهای خالی را برای عددهای دیگر کامل کنید.

۴۹ یعنی _____ ده‌تایی و _____ قسمت از ۱۰ قسمت مساوی.

۷۴ یعنی _____ ده‌تایی و _____ قسمت از ۱۰ قسمت مساوی.

۳- عدد ۲۷ در شکل زیر نشان داده شده است.




۲۷ یعنی ۲ ده‌تایی و ۷ قسمت از ۱۰ قسمت مساوی. به همین ترتیب جاهای خالی را برای عددهای دیگر کامل کنید.

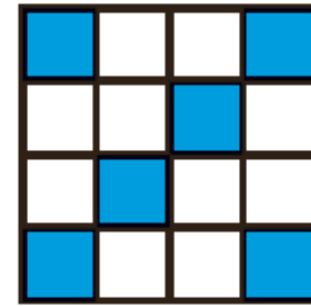
۴۹ یعنی ۴ ده‌تایی و ۹ قسمت از ۱۰ قسمت مساوی.

۷۴ یعنی ۷ ده‌تایی و ۴ قسمت از ۱۰ قسمت مساوی.

۴- در مورد هر شکل جملات را کامل کنید.



_____ قسمت از _____ قسمت مساوی رنگ شده است



_____ قسمت از _____ قسمت مساوی رنگ شده است




_____ قسمت از _____ قسمت مساوی رنگ شده است

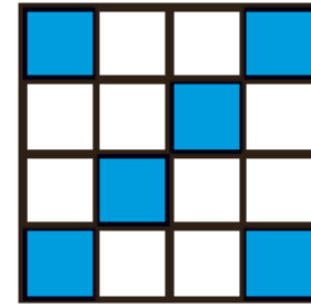


_____ قسمت از _____ قسمت مساوی رنگ شده است

۴- در مورد هر شکل جملات را کامل کنید.



۸ قسمت از ۱۶ قسمت مساوی رنگ شده است



۶ قسمت از ۱۶ قسمت مساوی رنگ شده است



۷ قسمت از ۱۲ قسمت مساوی رنگ شده است



۳ قسمت از ۴ قسمت مساوی رنگ شده است