



موضوع:

تاریخ

نام و نام خانوادگی

هدف:

۵) عزیزم الگوها را ادامه بده.

۳، ۵، ۸، _____، _____، _____

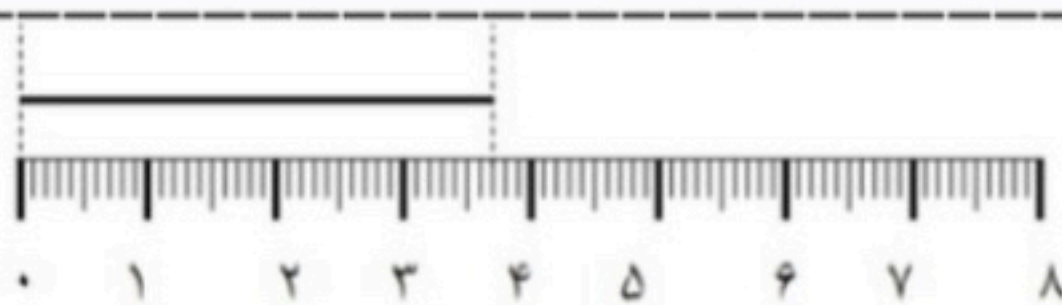
۲۳۰، ۲۳۲، ۲۳۴، _____، _____، _____

۶) سارا ۵۶۷ ریال داشت، او یک مداد ۱۳۰ ریالی و یک دفتر ۱۸۰ ریالی خرید.

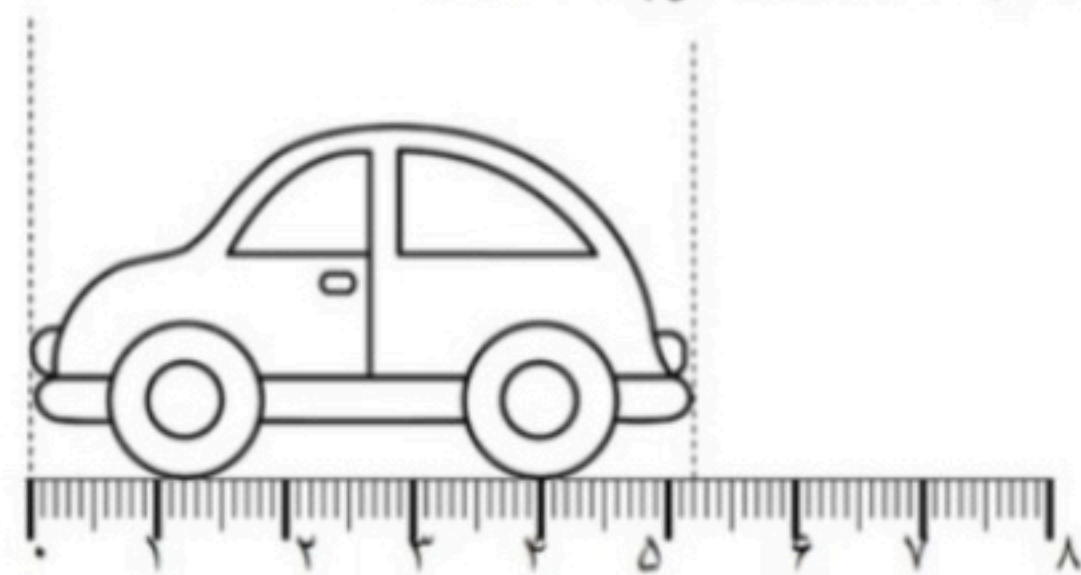
الف) او چقدر باید به فروشنده بدهد؟

ب) چند ریال باقی می ماند؟

۷- جاهای خالی را کامل کن.

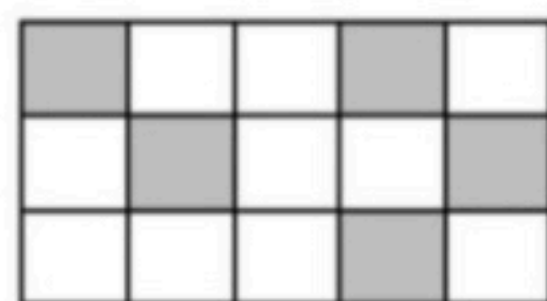


اندازه‌ی طول خط سانتی متر و قسمت از ۱۰ قسمت کوچک است.

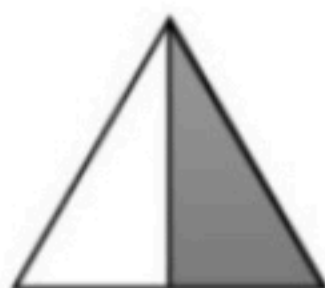


اندازه‌ی طول ماشین سانتی متر و قسمت از ۱۰ قسمت کوچک است.


۸- چه کسری از هر شکل رنگ شده است؟



..... قسمت از



..... قسمت از قسمت مساوی



..... قسمت از قسمت مساوی

قسمت مساوی