



موضوع: کاربرد عیدانه (۱)

تاریخ

نام و نام خانوادگی

درس: ریاضی

۱- یک فروشگاه از ۳۰۰ شکلاتی که دارد، ۱۲۷ شکلات را فروخته است. چند شکلات باقی مانده است؟



۲- درست یا نادرست بودن جمله ها را مشخص کن.

۳ سگه‌ی ۱۰۰ ریالی و ۵ سگه‌ی ۵ ریالی کمتر از ۳ سگه‌ی ۱۰۰ ریالی و ۲ سگه‌ی ۵۰ ریالی است.

حاصل $۳۵۷ + ۲۴۶$ برابر با ۶۰۳ می شود.

۳- با رقم های ۲، ۰، ۵ کوچکترین و بزرگترین عدد سه رقمی را بنویس و حاصل جمع آن ها را به دست بیاور.





موضوع: کاربرد اعداد (۱)

تاریخ

نام و نام خانوادگی

درس: ریاضی

۴- با توجه به الگویی که در زمان ها وجود دارد، با کشیدن عقربه ها الگوها را ادامه بده.



..... :

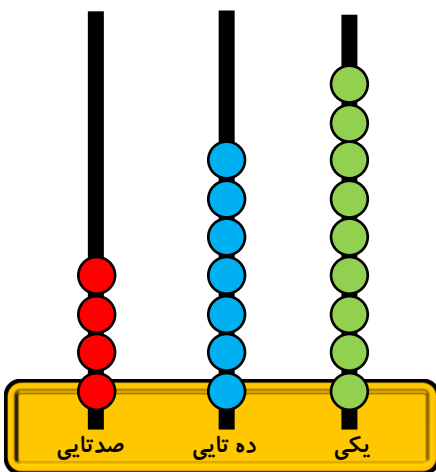
..... :

..... :

..... :

..... :

۵- اگر دو مهره به میله‌ی یکی و سه مهره به میله‌ی ده تایی چرتکه اضافه کنیم، چه عددی به دست می‌آید؟





تاریخ

نام و نام خانوادگی

موضوع: کاربردگ عیدانه (۱)

درس: فارسی

۱- هر کلمه را به معنی آن وصل کن.

- نخستین
- سرسبزی
- کشور
- آغاز
- درگذشتگان

- شروع
- میهن
- رفتگان
- خرمی
- اولین

۲- کلمه هایی که با "ان" جمع بسته می شوند و به "گان" تبدیل می شوند، را رنگ بزن.

- پرنده
- گیاه
- زنده
- دختر
- تشنه
- درخت
- پسر
- گذشته
- مرد

۳- کلمه‌ی سیر را در دو جمله با معنای متفاوت به کار ببر و بنویس.

سیر :

سیر :



موضوع: کاربرد عیدانه (۱)

تاریخ

نام و نام خانوادگی

درس: فارسی

۴- کلمات در هم ریخته را مرتب کن و جمله را با خط زیبا بنویس.

پرچم / فرق / دارد / رنگ / با / کشورها / هم

.....

پشمی / از / لباسی / که / جنس / پشم / به / می گویند / آن / باشد

.....

۵- کدام جمله درست و کدام جمله نادرست است؟

مردم، قبل از نوروز در جشن نیکوکاری شرکت می کنند.

اولین روز مرداد را نوروز می گویند.

رنگ سفید پرچم، نشانه‌ی صلح و دوستی است.




موضوع: کاربرد عیدانه (۱)

تاریخ

نام و نام خانوادگی

درس: علوم

۱- گزینه‌ی صحیح را با علامت  مشخص کن.

• کدام میوه تک دانه ای است؟

(ج) پرتقال

(ب) آلبالو

(الف) انار

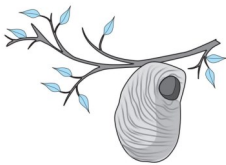
• محمد می خواهد نخ ابریشم تهیه کند، او از کدام مرحله‌ی زندگی کرم ابریشم می تواند نخ ابریشم بگیرد؟

(ج) تخم

(ب) پروانه

(الف) پیله

• لانه‌ی روبه‌رو مربوط به کدام حیوان است؟



(ج) پروانه

(ب) زنبور

(الف) چرخ ریسک

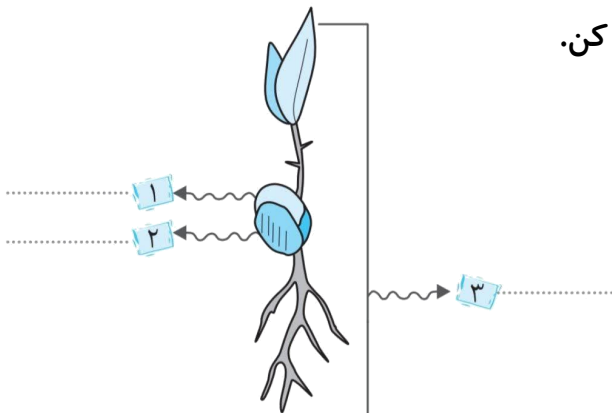
۲- درست یا نادرست بودن جمله‌ها را مشخص کن.

وظیفه‌ی دانه، به وجود آوردن گیاه جدید است.

تعداد دانه‌ها در همه‌ی میوه‌ها یکسان است.

یکی از راه‌های زیاد کردن گیاهان، قلمه زدن است.

۳- قسمت‌های مشخص شده در تصویر را نام گذاری کن.





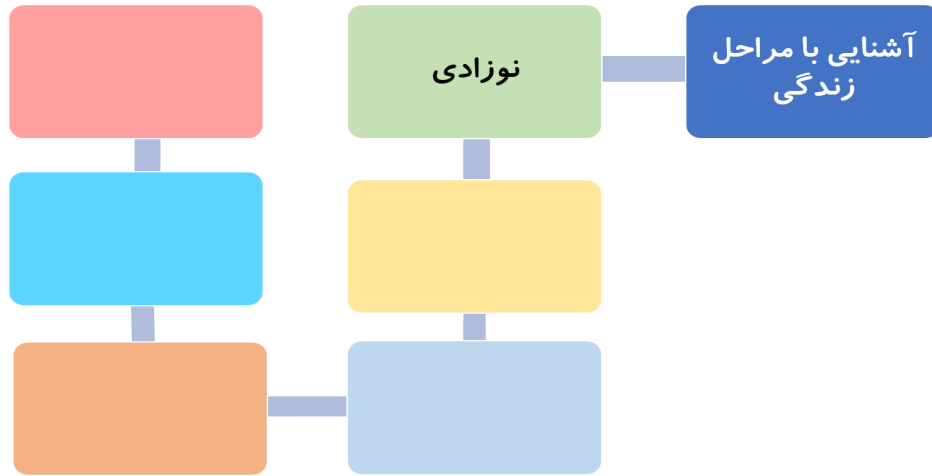
موضوع: کاربرد عیدانه (۱)

تاریخ

نام و نام خانوادگی

درس: علوم

۴- نقشه‌ی مفهومی را کامل کن.



۵- چه کارهایی سلامت دندان های ما را به خطر می اندازد؟ (دو مورد)

.....

.....