



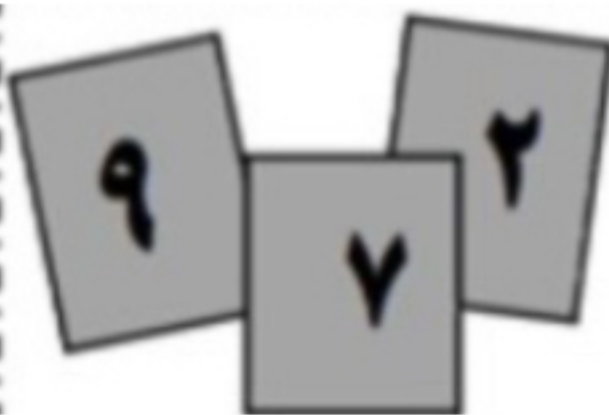
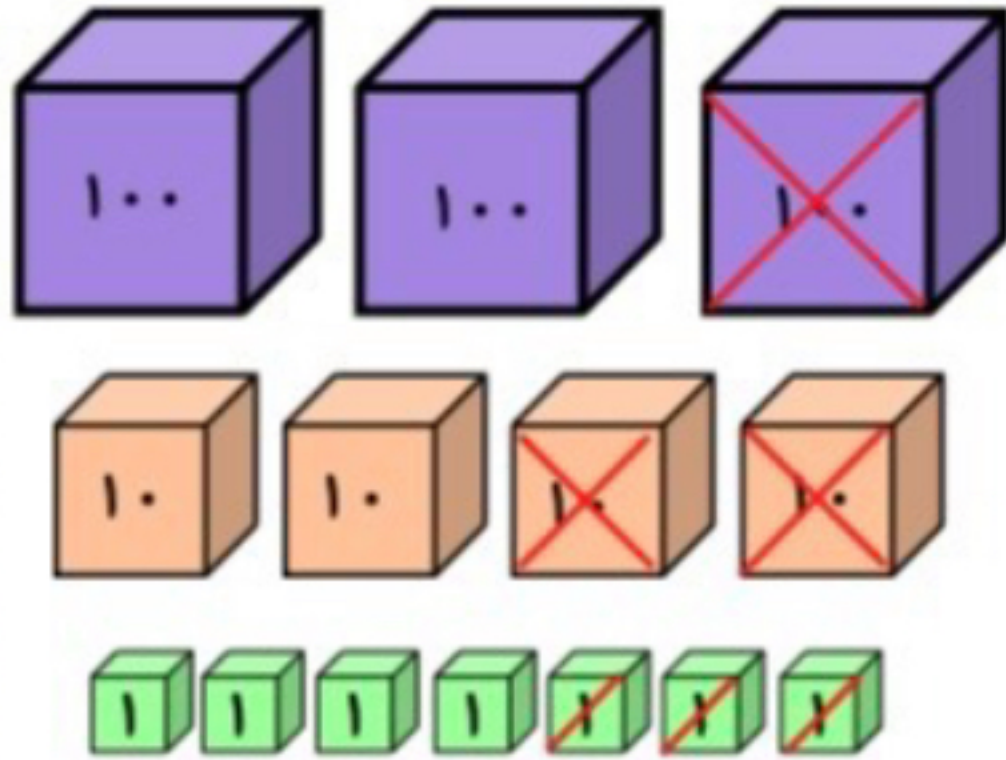
موضوع: کاربردگ عیدانه (۳)

تاریخ

نام و نام خانوادگی

درس: ریاضی

۱- تفریق مربوط به شکل را بنویس.



۲- با این کارت‌ها هر چه می‌توانی عدد سه رقمی بنویس.

۳- در جاهای خالی عدد مناسب بنویس.

$$۳۴۵ = \dots + \dots + \dots$$

..... ، ..... ، ۲۴ ، ۱۵ ، ۸ ، ۳ ، ۰




موضوع: کاربرد اعداد (۲)

تاریخ

نام و نام خانوادگی

درس: ریاضی



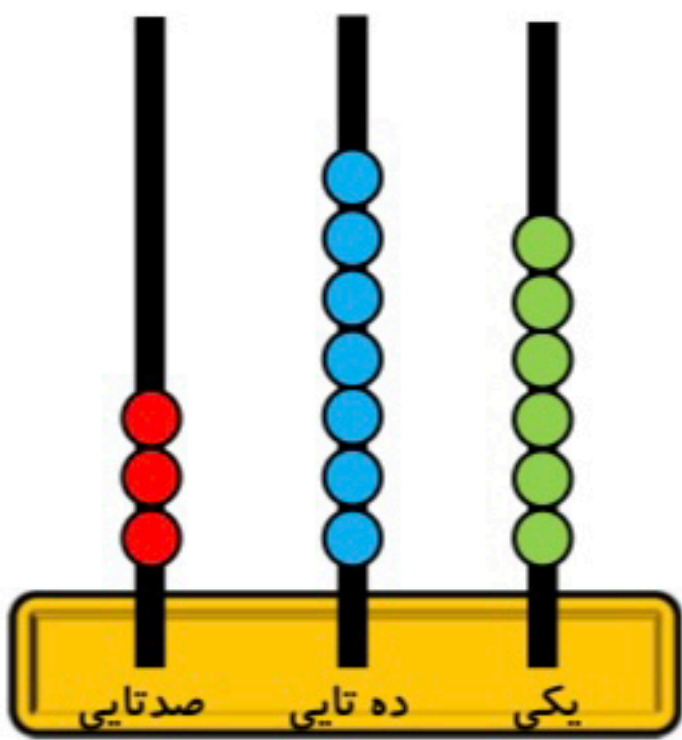
۴- در جاهای خالی عدد مناسب بنویس.

۴۰ میلی متر ..... سانتی متر است.

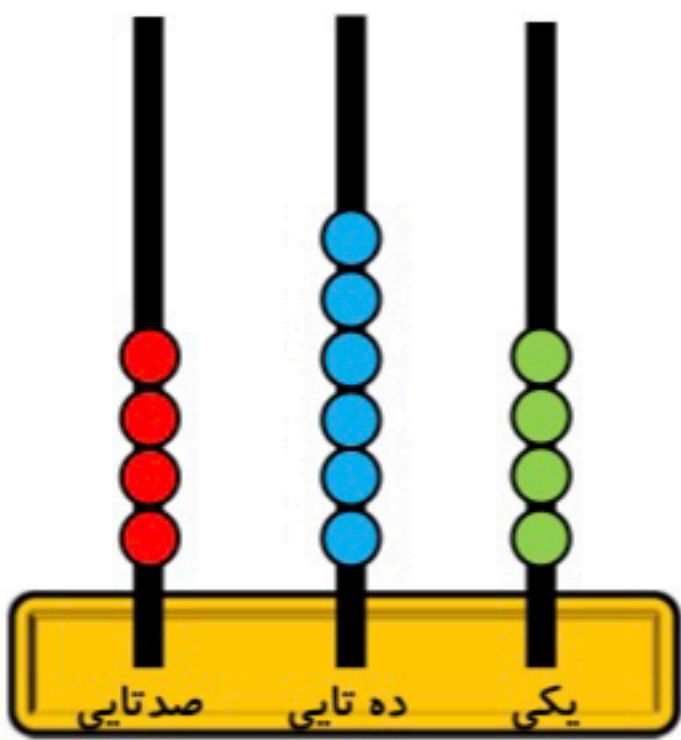
۲ سانتی متر و ۵ میلی متر یعنی ..... میلی متر است.

۶۷ میلی متر یعنی ..... سانتی متر و ..... میلی متر است.

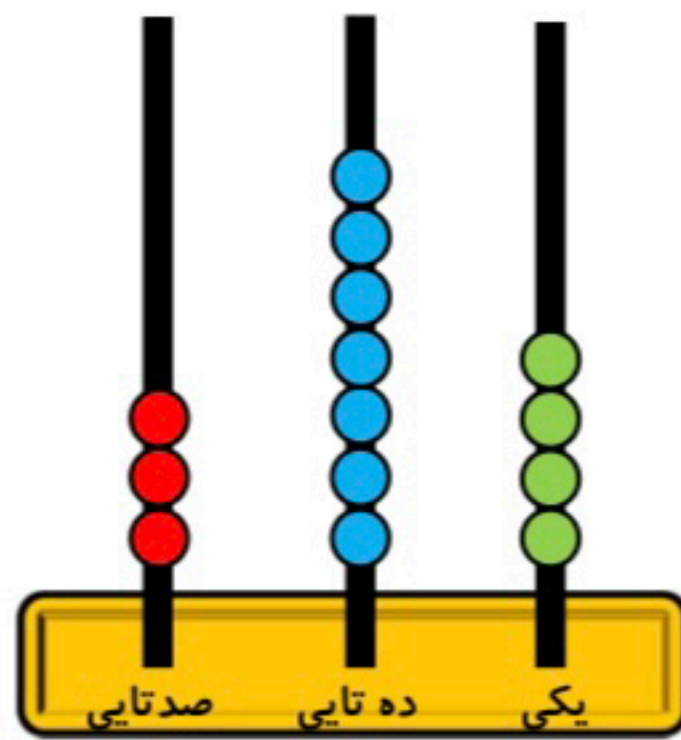
۵- کدامیک از چرتکه های زیر عدد بزرگتری را نشان می دهد؟



.....



.....



.....