



شماره‌ی ۲۲

ارمغان هفته - دوم دبستان

نام و نام خانوادگی: تاریخ: نام آموزگار:

ریاضی < فصل ۶ جمع و تفریق اعداد سه رقمی: حل مسئله - زیر مسئله - جمع و تفریق در جدول ارزش مکانی
علوم < درس ۱۱: من رشد می‌کنم (۲)
فارسی < درس ۱۴: پرچم (۱)

ریاضی

الگو را پیدا کرده و ادامه دهید.




(۱)



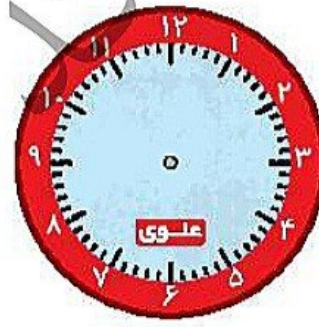
(۲)



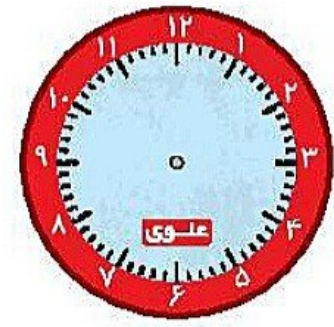
(۳)



(۴)



(۵)



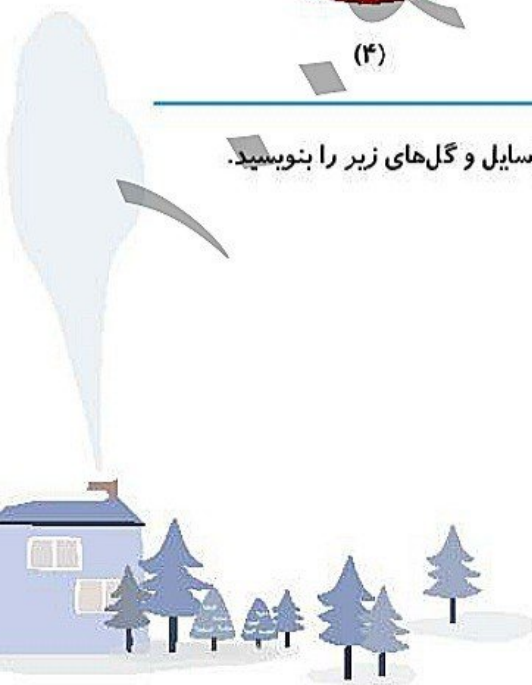
(۶)

اگر یک گلدان ۱۰۰ ریال، یک گل ۱۰ ریال و یک برگ ۷ ریال باشد. ارزش هر کدام از وسایل و گل‌های زیر را بنویسید.

الف) ۶ گلدان، ۷ گل و ۴ برگ = ریال

ب) ۲ گلدان، ۶ گل و ۷ برگ = ریال

پ) ۷ گلدان و ۱ گل = ریال



۳۲ دسته‌ی ده‌تایی مداد در یک مغازه وجود دارد. فروشنده ۱۹۷ مداد به آن‌ها اضافه کرد.

- الف) چند مداد در مغازه وجود دارد؟
ب) تعداد کل مدادها را به حروف بنویسید.
پ) تعداد کل مدادها را در جدول ارزش مکانی قرار دهید.

۴ الف) عددها را از کم‌تر به بیش‌تر مرتب کنید و بنویسید.

۳۰۹، ۹۳۲، ۹۲۳، ۲۵۲، ۷۰۳،

< < < <

ب) هر کدام را به حروف بنویسید.

۵ قیمت یک توپ ۳۲۵ تومان است. علی به فروشنده ۵۵۰ تومان پول داد. چقدر باید از فروشنده پس بگیرد؟ (به کمک جدول ارزش مکانی)

علوم

۱ درستی و نادرستی هر عبارت را مشخص کنید.

- الف) می‌توان به جای انواع لبنیات، بستنی خورد.
ب) اندازه‌ی قد و وزن همه‌ی ما هنگام تولد یکسان است.
پ) بیش‌تر مواد خوراکی که تهیه می‌کنیم تاریخ مصرف دارند.
ت) مصرف زیاد غذای آماده، باعث چاقی می‌شود.

۲ جدول را حل کنید.

				۱
				۲
				۳
				۴
				۵

۱) رشد در همیشه ادامه دارد.


۲) با آن، قد خود را اندازه می‌گیریم.

۳) کودکان در ۶ سالگی، دندان دارند.

۴) غذای هفتگی و روزانه، باید باشد.

۵) با آن، وزن خود را اندازه می‌گیریم.

دورهای مختلف زندگی انسان را رنگ آمیزی کرده و به ترتیب شماره گذاری کنید. ۳



دوست دندانها کدامیک از شکل های زیر هستند، دور آنها خط بکشید. ۴

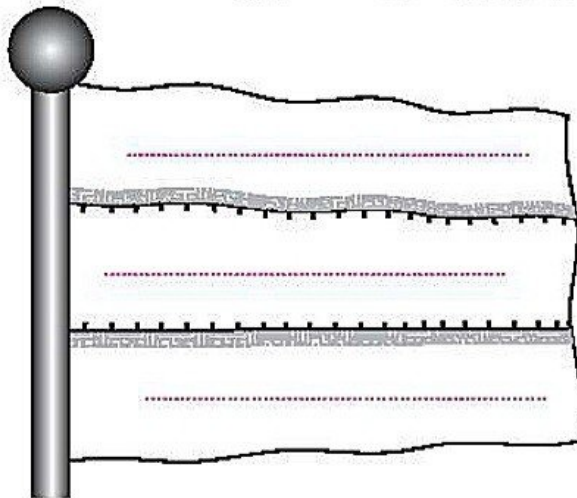


با کمک خانواده جدول را کامل کنید. ۵

نام	قد	وزن	سن	پیشنهاد مواد غذایی سالم

فارسی

پرچم ایران را رنگ آمیزی کنید و بنویسید هر رنگ نشانه ای چیست؟ ۱



۲ با تغییر دادن نشانه‌ی آخر کلمات، کلمه‌ی جدید بسازید.

	←	بال
	←	سال

	←	باز
	←	تد

۳ مخالف کلمات داده شده را بنویسید.


	≠	صلح
	≠	آهسته

	≠	آزاد
	≠	گذشته

۴ هر کلمه را به جمله‌ی مربوط به آن وصل کنید.

- ابریشمی
- ساروی
- سنگی
- به کسی که لعل ساری است، می‌گویند.
- به چیزی که از جنس سنگ باشد می‌گویند.
- به چیزی که از جنس ابریشم باشد، می‌گویند.

۵ برای تصویر مقابل یک داستان کوتاه بنویسید. (۴ سطر)



کار

	رشد دندان‌ها
	مفهوم رنگ‌های پرچم ایران
	ساخت کلمه
	مخالف کلمات
	تشخیص عبارات مرتبط

	الگویابی (ساعت)
	حل مسئله و زیر مسئله
	مرتب کردن اعداد
	غذاهای سالم و ناسالم
	دوره‌های مختلف زندگی انسان

	شاخص‌ها
	خیلی خوب
	خوب
	قابل قبول
	نیاز به تلاش بیشتر