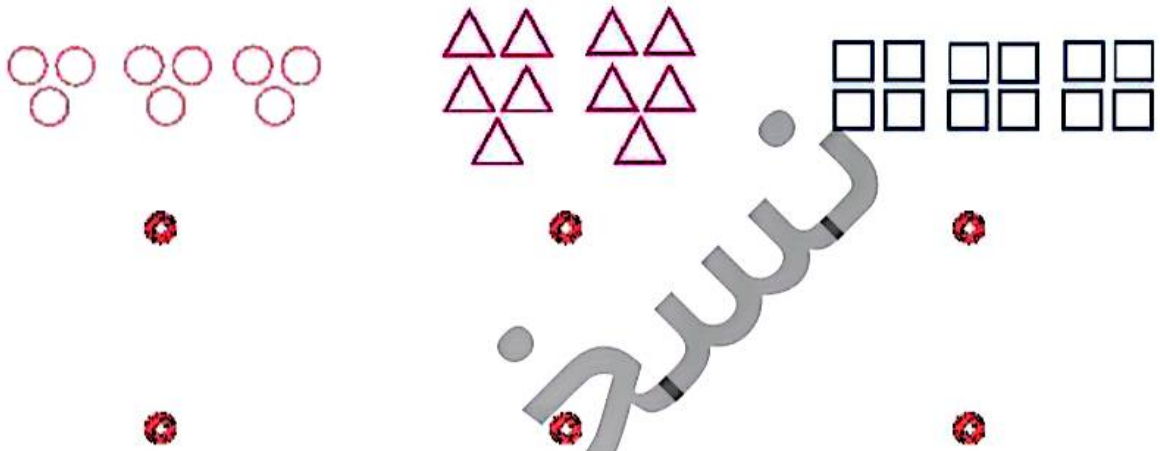




۱ با توجه به شکل‌ها، هر عبارت را به پاسخ صحیح آن وصل کن.

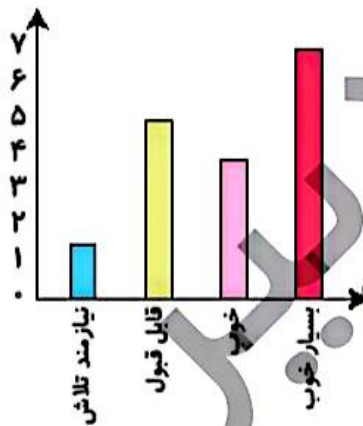


۳ دسته‌ی ۴ تایی می‌شود ۱۲ تا

۳ دسته‌ی ۳ تایی می‌شود ۹ تا

۲ دسته‌ی ۵ تایی می‌شود ۱۰ تا

۲ با توجه به نمودار، درستی و نادرستی هر عبارت را مشخص کن.



الف: تمام دانش‌آموزان کلاس نمرات بدی کسب کرده‌اند.

ب: بیش‌تر دانش‌آموزان نمره‌ی بسیار خوب کسب کرده‌اند.


پ: تعداد دانش‌آموزانی که بسیار خوب دریافت کرده‌اند کم‌تر از تعداد دانش‌آموزانی است که قابل قبول کسب کرده‌اند.

دانش‌آموزانی است که قابل قبول کسب کرده‌اند.

۲ با توجه به شکل‌ها، در جای خالی عدد مناسب بنویس.



الف: دسته‌ی ۳ تایی می‌شود تا.



ب: دسته‌ی ۵ تایی می‌شود تا.



پ: دسته‌ی تایی می‌شود ۱۶ تا.

۴ الف: تمام عددهای ۱۷، ۸۱، ۶۷، ۵۵ هستند، چون رقم یکان آن‌ها است.

ب: تمام عددهای ۸۰، ۹۲، ۲۴، ۴۶ هستند، چون رقم یکان آن‌ها است.

