

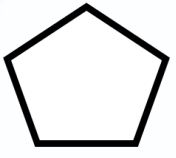
..... ریاضی : موضوع

..... تاریخ

..... نام و نام خانوادگی

..... هدف: مرور فصل سوم

۱. شباهت و تفاوت شکل های زیر را بنویسید.

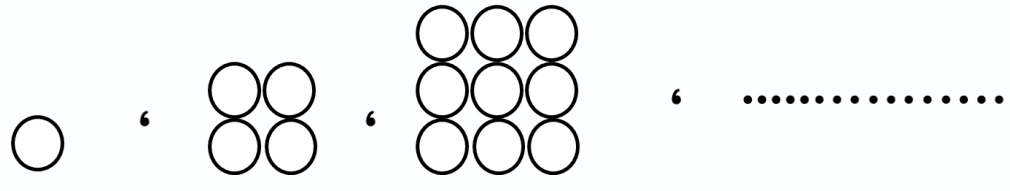


شباهت:

تفاوت:

۲. الگوهای زیر را ادامه دهید.

..... ، ، ۷ ، ۳ ، ۱



۳. ساعت های زیر را با دقت حل کنید.



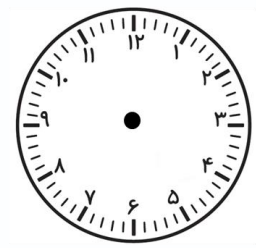
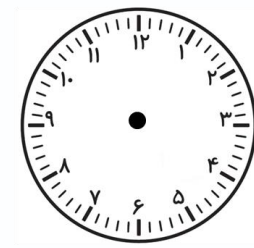
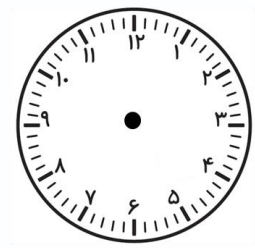
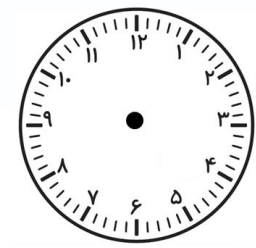

..... :

..... :

..... :

..... :

..... :



پنج و ربع

یک ربع از ۶ گذشته

نیم ساعت قبل ۹

یک ربع مانده ۶

نیم ساعت بعد ۱۲