

تكليف



۱. جاهای خالی را پر کنید.

الف) ۴ سکه ۱۰۰ ریالی، ۲ سکه ۱۰ ریالی و ۵ سکه ۱ ریالی می شود

پ) اگر ۳ سکه ۱۰ ریالی و ۳ سکه ۱۰۰ ریالی به ۵۳۷ اضافه کنیم می شود.....

ت) اگر ۶ سکه ۱۰۰ ریالی و ۴ سکه ۱ ریالی به ۱۸۲ اضافه کنیم می شود.....

۲. جمع و تفریق زیر را با حذف رقم یکان و دهگان تقریب بزنید.


$$\begin{array}{r} 267 \longrightarrow \underline{\hspace{2cm}} \\ + 549 \longrightarrow \underline{\hspace{2cm}} \\ \hline \hspace{2cm} \longrightarrow \underline{\hspace{2cm}} \end{array}$$

$$\begin{array}{r} 967 \longrightarrow \underline{\hspace{2cm}} \\ - 432 \longrightarrow \underline{\hspace{2cm}} \\ \hline \hspace{2cm} \longrightarrow \underline{\hspace{2cm}} \end{array}$$

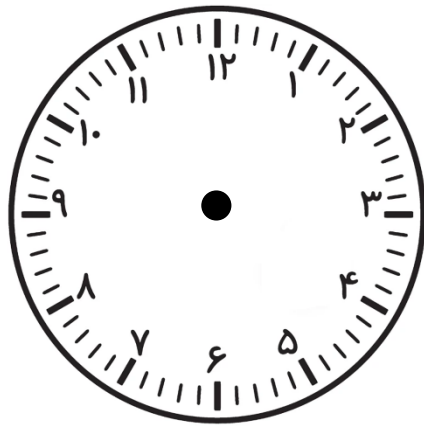
۳. با کارت های ۶، ۰، ۲ عددی رو بنویسید که رقم دهگان آن از رقم صدگان کمتر باشد

۴. با کارت های ۹، ۵، ۴ عددی رو بنویسید که جمع رقم یکان و صدگان آن دهگان باشد

۵. ساعت های زیر را با دقت حل کنید.

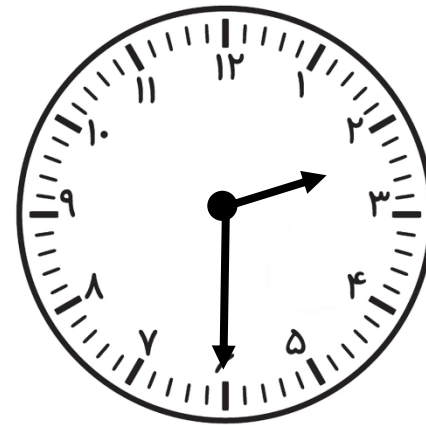


یک ربع بعد

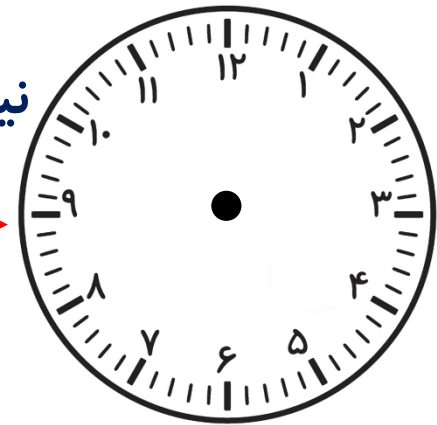


..... :

..... :



نیم ساعت قبل



..... :

..... :