



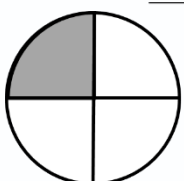

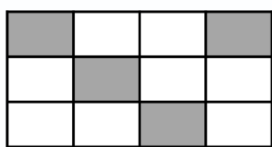
نام و نام خانوادگی: تاریخ: موضوع: ریاضی

هدف: مرور فصل هفتم

۱. جاهای خالی را به درستی پر کنید.

- الف) ۵۹ یعنی ده تایی و قسمت از ۱۰ قسمت مساوی
- ب) ۶۳ یعنی سانتی متر و قسمت از ۱۰ قسمت مساوی
- پ) یک ۹۰ ضلعی گوشه دارد.
- ت) ساعت ۵:۲۰ است. نیم ساعت بعد می شود.
- ث) ساعت ۹:۱۵ دقیقه است یعنی عقربه بزرگ قسمت از ۴ قسمت مساوی را طی کرده است.
- ج) ساعت ۱:۴۵ دقیقه است یعنی عقربه بزرگ قسمت از قسمت مساوی را طی کرده است.

۲. چه کسری از هر شکل رنگ نشده است؟





..... قسمت از مساوی قسمت از مساوی قسمت از مساوی قسمت از مساوی

۳. یک کیک ۶ قسمت مساوی تقسیم شده است. اگر ۲ قسمت آن باقی مانده باشد، چند قسمت آن خورده شده است. (به صورت کسر بنویس)

۴. قد سارا ۱۶۴ سانتی متر است. مادر سارا ۱۲ سانتی متر از آن بلند تر است. قد مادر سارا چند سانتی متر است؟ قد این دو نفر روی هم چند سانتی متر است؟

۵. در یک کیسه ۵ مهره آبی، ۷ مهره قرمز و ۳ مهره زرد وجود دارد. احتمال بیرون آمدن مهره بیشتر و احتمال بیرون آمدن مهره کمتر است.

۶. با توجه به شکل جمله ها را کامل کنید.



..... دسته ی تایی می شود

..... دسته ی تایی می شود