

به نام خدا


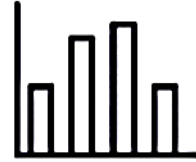
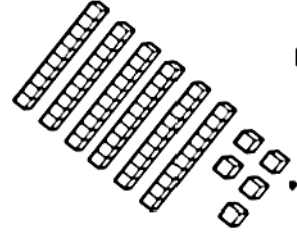
علوی




پایه دوم دبستان

نام و نام خانوادگی

ریاضی دوره فصل اول



به نام خدا  
نمونه سوالات فصل اول ریاضی پایه دوم دبستان



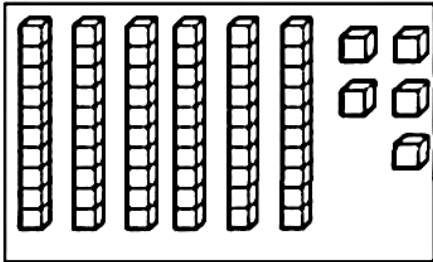
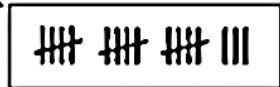
۱- بشمار و تعداد هر کدام را به عدد و حروف بنویس.

به عدد: .....

به حروف: .....

به عدد: .....

به حروف: .....



به عدد: .....

به حروف: .....

به عدد: .....

به حروف: .....




۲- جدول شگفت انگیز زیر را کامل کن، سپس به سوالات زیر پاسخ بده.

|   |   |   |   |   |   |   |   |   |
|---|---|---|---|---|---|---|---|---|
| ۳ | ۶ | ۵ | ۴ |   | ۲ | ۱ | ۹ | ۸ |
| ۴ | ۲ | ۹ | ۸ | ۵ |   | ۶ | ۳ | ۷ |
|   | ۸ | ۱ |   | ۹ | ۳ | ۲ |   | ۴ |
| ۱ | ۷ | ۴ | ۳ | ۶ |   | ۸ | ۲ |   |
| ۸ | ۳ | ۲ | ۷ | ۱ | ۹ | ۵ | ۴ | ۶ |
|   | ۹ | ۶ | ۲ | ۸ | ۴ |   | ۷ | ۱ |
| ۲ | ۴ | ۷ | ۱ | ۳ |   | ۹ | ۸ |   |
| ۶ |   | ۸ | ۹ | ۲ | ۷ | ۴ | ۱ | ۳ |
| ۹ | ۱ | ۳ | ۵ |   | ۸ | ۷ | ۶ | ۲ |

○ این جدول چند ردیف دارد؟.....

○ این جدول چند ستون دارد؟.....

○ این جدول از چند مربع کوچک درست  شده است؟.....

○ ستون چهارم از سمت راست را آبی کن.

۳- زمان پخش یک برنامه کودک مورد علاقه‌ات را در این ساعت نشان بده.





۴- کامل کن.

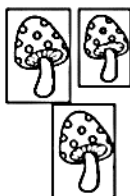


ساعت از ... گذشته است. ساعت ... است. کمی به ساعت ... مانده است. ساعت بین ... و ... است.

۵- الگوها را کامل کن.



۶- فردا که به مدرسه می روی پلاک هایی که در کوچه تان می بینی یادداشت کن و اینجا بنویس.




یکی ده تایی

۷- کامل کن.



به عدد: .....

به حروف: .....

۸- با رقم های ۹ و ۴ هر چه می توانی عدد ۲ رقمی بنویس.



۹- الگوها را با رنگ کردن ادامه بده.



۱۰- در این جدول چند کلمه اشتباه و چند کلمه درست نوشته شده است؟ خانه های درست را رنگ

|         |      |      |                |        |
|---------|------|------|----------------|--------|
| چاغ     | خروس | زهدت | سپاس<br>گزاریم | خواندن |
| غورباقه | محمد |      | فسل            | پاییز  |
| مریض    | حیات |      | جیق            | کلاغ   |
| شعار    | ازیز |      | ثدف            | مذرعه  |

بزن.

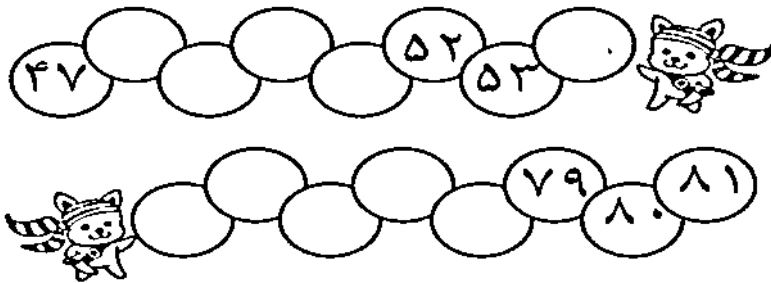
.....کلمه نادرست

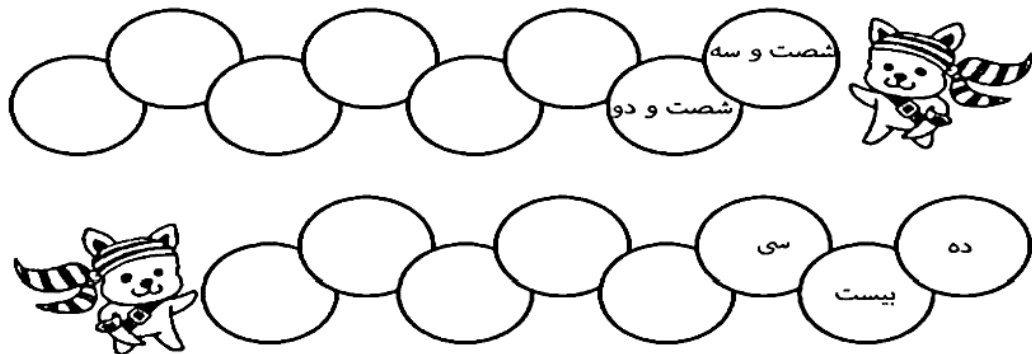
..... کلمه درست

حالا با این دو رقم هر چه می توانی عدد دو

رقمی بنویس. ....

۱۱- نوشتن عددها را ادامه بده.





۱۲- من چه عددی هستم؟



(الف) رقم یکانم ۴ و رقم دهگانم ۹



(ب) رقم دهگانم ۳ و رقم یکانم ۶



(ج) رقم یکانم ۵ و رقم دهگانم ۳ تا بیشتر از آن



(د) رقم دهگانم ۷ و رقم یکانم ۴ تا کمتر از رقم دهگان



(ه) رقم یکان ۲ و رقم دهگان ۰







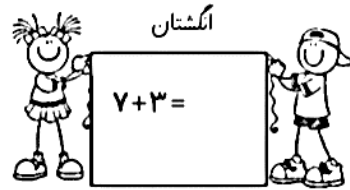
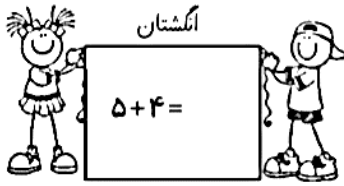
۱۳- امروز ۲۵ مهرماه است. ۹ روز پیش تولد ساسان بوده است. تاریخ تولد او چه روزی است؟ (شکل، چوب خط یا محور)

۱۴- در یک صف نانوایی ۲۵ نفر خانم و آقا ایستاده بودند. اگر ۱۱ نفر خانم باشند، چند نفر آقا ایستاده است؟ (شکل، چوب خط یا محور)



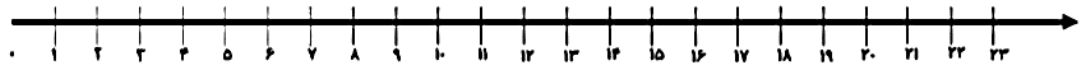
۱۵- آرش برای تولدش ۴۸ بادکنک مشکی و سفید خرید. وقتی آن ها را شمرد، به مادرش گفت ۲۷ بادکنک مشکی است. حالا تو بگو چند بادکنک سفید است؟ (شکل، چوب خط یا محور)

۱۶- جواب این جمع و تفریق ها را از هر روشی که خواسته شده به دست آور.

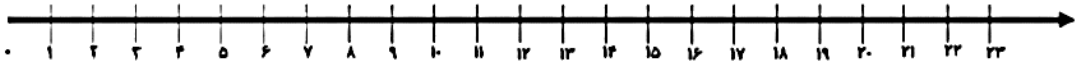


$15 - 3 + 4 =$

۱۷- به کمک محور حاصل جمع و تفریق ها را به دست آور.



$7 + 8 + 6 =$



۱۸- با رنگ کردن مربع ها حاصل را به دست آور.



سودابه ۳ روسری، ۵ شال و ۴ مقنعه دارد. همه ی آن ها با هم چند تا هستند؟

|  |  |  |  |  |
|--|--|--|--|--|
|  |  |  |  |  |
|--|--|--|--|--|



|  |  |  |  |  |
|--|--|--|--|--|
|  |  |  |  |  |
|--|--|--|--|--|

|  |  |  |  |  |
|--|--|--|--|--|
|  |  |  |  |  |
|--|--|--|--|--|

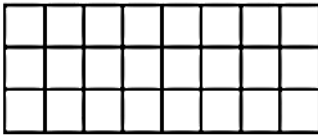
۱۹- الگوهای عددی زیر را با رسم چوب خط ادامه بده.



۲۰- الگوهای عددی زیر را با محور کامل کن.





۲۱- این الگو را با رنگ کردن مربع ها با استفاده از رنگ های مختلف ادامه بده.



۳ ، ۶ ، ..... ، ..... ، ..... ، ..... ، .....

۲۲- کشیدن خط و درست کردن بسته های ۱۰ تایی، خانه های شکل زیر را بشمار و سپس به عدد

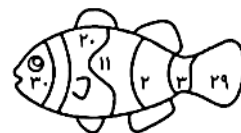
و حروف بنویس.



حالا ستون سوم از سمت راست را صورتی کن ، سپس ردیف پنجم از بالا را سبز کن. در آن خانه ای که ۲ بار رنگ شده است حرف اول اسم خود را بنویس.

۲۳- در شمارش ۹ تا ۹ تارو به عقب، عددها را در شکل پیدا کن و به ترتیب زرد، نارنجی، خاکستری

و در آخر قرمز کن (از هر روشی دوست داری حل کن).




۲۴- کوروش ۴ بسته ی نی رنگی داشت. در هر بسته رنگ های قرمز، آبی، صورتی و سبز بود. او

رنگ سبز هر بسته را برداشت.

الف) چند نی برداشته است؟

ب) چند نی باقی مانده است؟



۲۵- ۷ خرگوش در این باغ بود، ۶ خرگوش به آن

ها اضافه شدند و سپس ۴ خرگوش رفتند. الان چند

خرگوش در باغ است؟

خرگوش .....

( این عدد چند رقمی است؟ )

۲۶- معلم برای کلاس ۳ بسته ی ۱۰ تایی کاغذ رنگی خرید. از قبل هم ۲ بسته ی ۱۰ تایی در کلاس

بود. برای ساخت کاردستی معلم ۹ کاغذ رنگی را به بچه ها داد. الان چند کاغذ رنگی باقی مانده است؟

به عدد: .....

یکی | ده تایی

به حروف: .....