
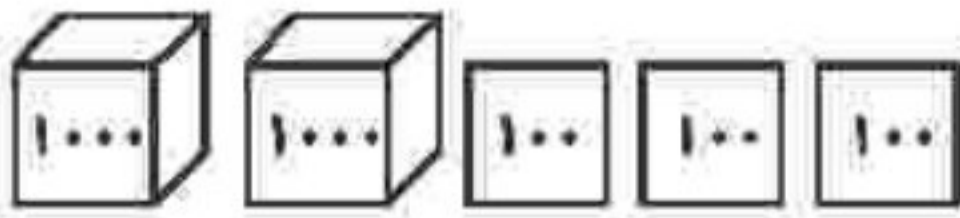



۴) با توجه به عددی که شکل نشان می‌دهد، جاهای خالی را به‌طور مناسب پر کنید.



شکل، عدد ..... (۲۳۴۶ - ۴۲۶۳) را نشان می‌دهد، که عددی ..... (۳ - ۴) رقمی است. رقم ..... (۲ - ۴) در مرتبه‌ی هزارگان قرار دارد و جمع رقم‌های یکان و صدگان ..... (۵ - ۹) می‌شود.

۵) از صفحه شطرنجی استفاده نموده، یک شکل متقارن به دلخواه کشیده و خط تقارن آن را مشخص نمایید.



۶) تمام عددهای سه رقمی را بنویسید که صدگان آن‌ها ۴، دهگان آن‌ها ۵ یا صفر و یکان آن‌ها ۹ یا ۸ باشد.

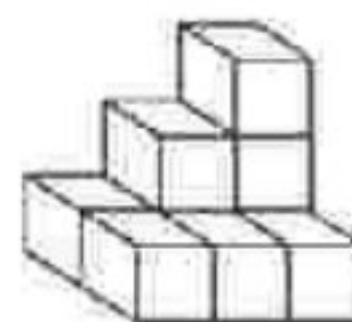
۲) جملات درست را با علامت ✓ و نادرست را با علامت ✗ مشخص کنید.

- الف) ۱۰۰۰ کلوجه در یک کیسه فریزر جا می‌شود.
- ب) ۵ هزارتایی و ۳ هزارتایی می‌شود ۸ هزارتایی
- پ) ۲۰۰ تومان، برابر ۲۰۰۰ ریال
- ت) ۴ هزارتایی و ۹ ده‌تایی می‌شود ۴۹۰۰

۷) ساختمان ۳ طبقه‌ای داریم. بالاترین طبقه‌ی آن ۱ واحد دارد اما هر طبقه که پایین می‌رویم یک واحد اضافه می‌شود. اگر در هر واحد ۲ اتاق داشته باشد:  
الف) جدول را کامل کنید.  
ب) طبقه دوم چند واحد دارد؟  
پ) طبقه‌ی اول چند اتاق دارد؟

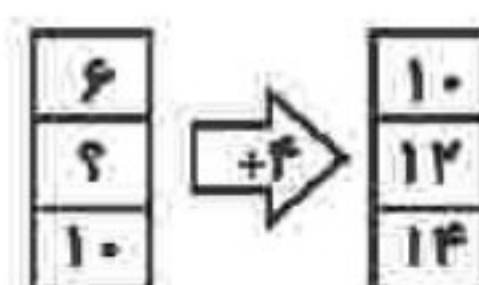
طبقه	
واحد	
اتاق	

۳) در هر مورد گزینه‌ی درست را مشخص کنید.  
الف) شکل مقابل از چند مکعب ساخته شده است؟



- ۶ (۱)
- ۷ (۲)
- ۸ (۳)
- ۹ (۴)

ب) جای خالی در ماشین ورودی - خروجی زیر با چه عددی پر می‌شود؟



- ۶ (۱)
- ۷ (۲)
- ۸ (۳)
- ۷ (۴)