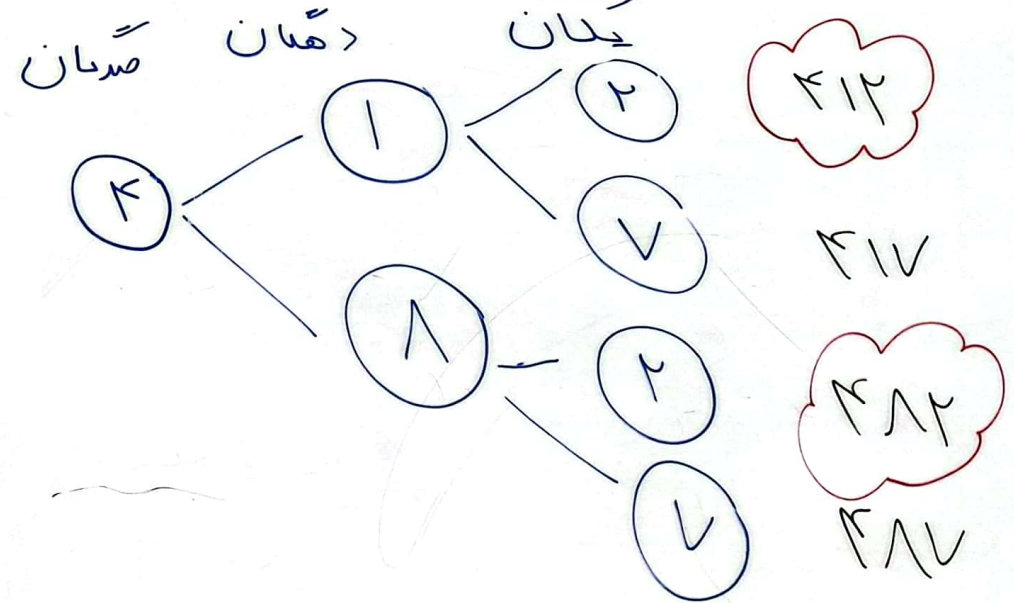
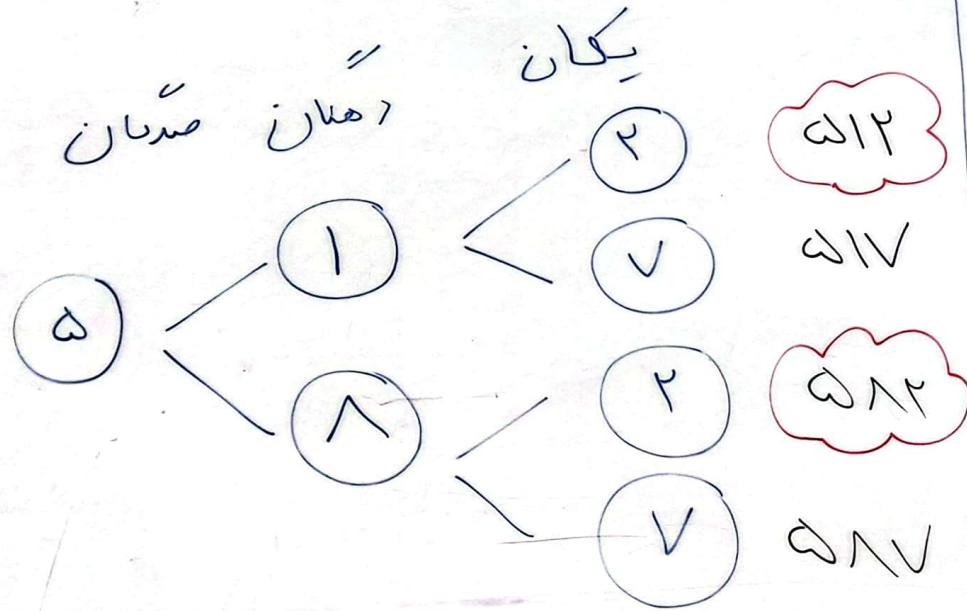


بالتشديد نمودار شاخه‌ای همی عددی سه رقمی که رقم صدگان آن‌ها ۴ یا ۵ ، رقم یکان آن‌ها ۲ یا ۷ و رقم دهگان آن‌ها ۱ یا ۸ باشد را به دست آورید . و اعداد زوج را از بین آن‌ها مشخص کنید .



یک دلار کشوری به اندازه ۲۰۰۰ تومان ارزش دارد.

۳ دلار این کشور ارزش بیشتری دارد یا ۷۶۸۲ تومان؟

دلار	۱	۲	۳
تومان	۲۰۰۰	۴۰۰۰	۶۰۰۰

۳ دلار = ۶۰۰۰ تومان



۷۶۸۲ تومان

عدد پنج هزار و شصت و چهار را بر رقم بنویسید.

پس گسترده‌ی آن را نیز بنویسید و در جدول ارزش مکانی قرار دهید.

بر رقم : ۵۰۶۴

گسترده : $۵۰۶۴ = ۵۰۰۰ + ۶۰ + ۴$

جدول ارزش مکانی

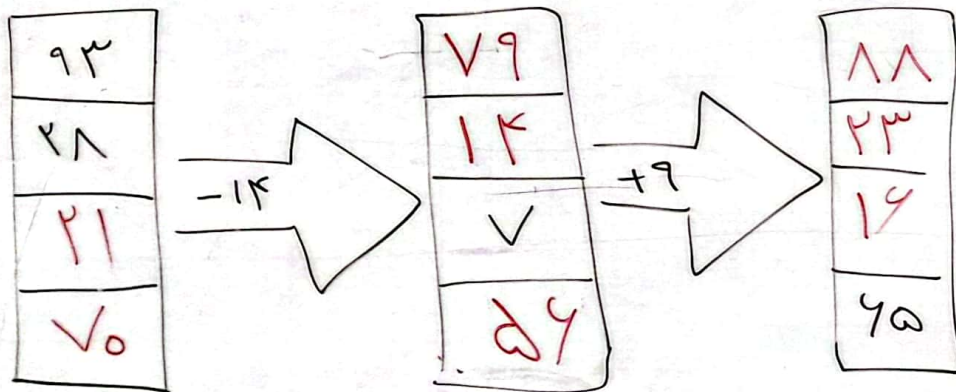
هزارگان	صدگان	دهگان	یکان
۵	۰	۶	۴

جدول زیر را کامل کنید.

زمان	۱۷	۱۳	۱۵:۱۵	۱۶:۲۵	۲۰	۲۱:۴۵
بعد از ظهر	۵	۱	۳:۱۵	۴:۲۵	۸	۹:۴۵

سه و ربع

ماشین درودی خروجی زیر را تکمیل کنید.



مغازه داری بادکنک‌ها را دانه‌ای ۱۰۰ می‌خرد و ۱۲۵ می‌فروشد.

با کشیدن جدول سود به سوالات پاسخ دهید. $۱۲۵ - ۱۰۰ = ۲۵$

الف) او از فروش ۶ بادکنک چه قدر سود می‌کند؟ ۱۵۰ سود می‌کند.

ب) چند بادکنک بفروشد تا از فروش آن ۱۷۵ سود کند؟ ۷ بادکنک

بادکنک	۱	۲	۳	۴	۵	۶	۷
سود	۲۵	۵۰	۷۵	۱۰۰	۱۲۵	۱۵۰	۱۷۵