



ارمغان هفته - سوم دبستان

نام و نام خانوادگی: تاریخ: نام آموزگار:

- ریاضی < فصل ۶: حل مسئله ساده‌تر و مقایسه‌ی اعداد
- علوم < درس ۱۰: نیرو همه‌جا (۲)
- فارسی < درس ۱۴: ایران آباد
- مطالعات اجتماعی < درس ۱۷: از خانه محافظت کنیم.
- هدیه‌های آسمان < درس ۱۴: ام لبیها
- قرآن < فصل ۳: انس با قرآن کریم (۹)

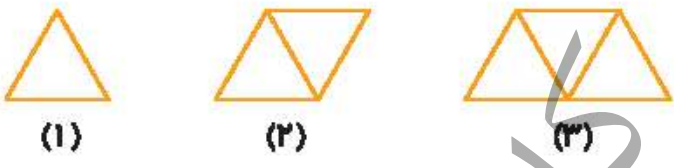
ریاضی

۱ درنا یک کتاب به قیمت ۳۹۴۵ تومان و یک خط‌کش به قیمت ۱۲۹۱ و یک دفتر به قیمت ۳۸۲۵ تومان خرید. درنا به‌طور تقریبی چند ریال خرید کرده است؟

.....

.....

۲ با چوب کبریت الگویی مانند شکل زیر ایجاد کرده‌ایم. برای هر ضلع مثلث یک چوب کبریت لازم است. اگر در مرحله‌ی هشتم ۱۷ چوب کبریت استفاده شده باشد، در مرحله‌ی نهم چند چوب کبریت استفاده شده بود؟



.....

.....

۳ مادر درنا در حال آویزان کردن رخت‌ها می‌باشد. او برای آویزان کردن رخت‌ها می‌خواهد از کم‌ترین گیره استفاده کند. او برای آویزان کردن سه رخت به چهار گیره نیاز دارد. برای آویزان کردن ۱۲ رخت به چند گیره نیاز دارد؟



۴ مقدار بیش‌تر را رنگ کنید.

- (الف) ۲۲۶۰ تومان ۲۴۵۰ ریال (ب) ۶۱۰۰ تومان ۶۱۲۰ ریال (پ) ۴۳۲۰ تومان ۴۳۲۰ ریال



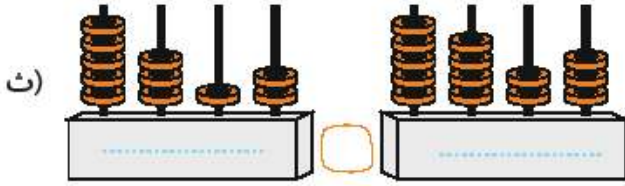
در علامت مناسب قرار دهید.

الف) $730 - 240$ $480 + 119$

ب) $456 + 654$ $723 + 327$

پ) 4012 4021

ت) $825 + 73$ 901



علوم

۱) فیچی مقابل برای جسم محکم و سخت مناسبتر است یا جسم نرم؟ چرا؟


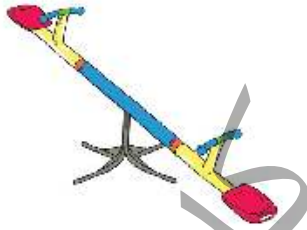


.....

.....

.....

۲) در هر تصویر محل نیرو، جسم و تکیه‌گاه را مشخص کنید.



۳) برچسب اهرم‌ها را با توجه به این که نیرو را بیش‌تر می‌کند یا سرعت جابه‌جایی را دسته بندی کنید.

.....
-------	-------

فارسی

۱) جدول زیر را با توجه به ارتباط کلمات کامل کنید.

نفرمایی
.....	قصاب

.....	کفّاش
خیاطی

۲ با توجه به درس «ایران آباد، نام چند شهید را نوشته و در مورد یکی از شهدا که می‌شناسید چند سطر بنویسید.

۳ جاهای خالی را با کلمه‌های داخل کلمات کامل کنید.

(الف) به کودکان رفتند. (بچه‌ها، او، دانش آموزان)

(ب) در سیرک، به نمایش دلقک‌ها خندیدند. (آن‌ها، نرگس، پدرش)

(پ) کسی است که در کتابخانه کار می‌کند. (آقای احمدی، من، علی و برادرش)

۴ برای هر کلمه یک هم‌خانواده بنویسید.

منطقه	حفظ	شجاع
خطر	حرص	مدرسه

مطالعات اجتماعی

۱ شماره تلفن‌های مربوط به تصاویر زیر را در جای خالی بنویسید.



--	--	--

۲ (الف) رنگ زرد شعله بخاری به چه معناست؟

(ب) چرا سیگار کشیدن در محدوده‌ی پمپ‌های بنزین اکیداً ممنوع می‌باشد؟

۳ اگر در خانه بوی گاز احساس کردید به ترتیب چه کارهایی انجام می‌دهید؟ (شماره‌گذاری کنید).

بستن شیر گاز

باز کردن پنجره

نزدن کلید برق و یا روشن نکردن کبریت

هدایت هوا به بیرون با حوله

خیس کردن حوله

۴ جدول را حل کنید.

۱- در خانه را نباید به روی این افراد باز کرد.

۲- شعله‌ی بخاری باید رنگ باشد.

۳- اگر سیم برق زخمی یا باشد موجب برق گرفتگی

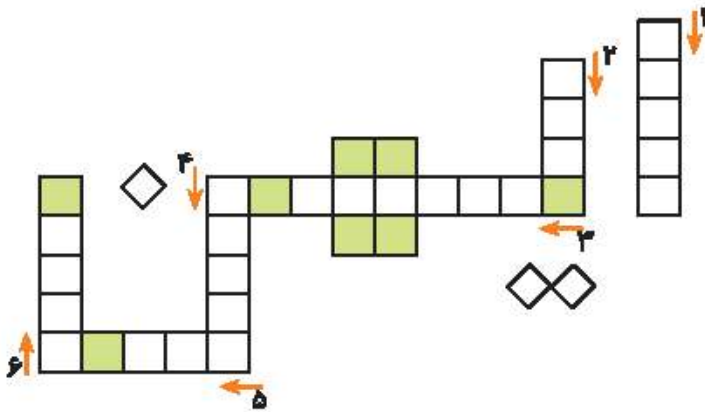
و آتش سوزی می‌شود.

۴- از گذاشتن ترقه و مواد در داخل کمد و کیف

خودداری کنید.

۵- اولین کلمه‌ای که بعد از برداشتن گوشی می‌گوییم

۶- دوشاخه‌ی وسایل برقی را در آن می‌زنیم.



هدیه‌های آسمان - قرآن

۱ نام پدر و مادر حضرت فاطمه (س) را بنویسید.

۲ چرا پیامبر خدا فاطمه (س) را نام آنها، نام نهاده بود؟

۳ به پرسش‌های زیر به صورت کوتاه پاسخ دهید.

الف) نام برادر حضرت موسی (ع) چه بود؟

ب) درباریان با دیدن معجزات حضرت موسی (ع)، ایشان را چه نامیدند؟

	نکات ایمنی
	شماره تلفن‌های اضطراری
	آشنایی با حضرت فاطمه (س) و خانواده
	زندگی حضرت موسی (ع)

	راهبرد حل مسئله‌ی ساده‌تر
	مقایسه
	قسمت‌های اصلی و کاربرد اهرم‌ها
	شناخت فاعل
	کلمات هم خانواده

شاخص‌ها

- خیلی خوب
- خوب
- قابل قبول
- نیاز به تلاش بیشتر