

ارمغان هفته - سوم دبستان



نام و نام خانوادگی: تاریخ: نام آموزگار:

مطالعات اجتماعی ◀ درس ۱۸: خانه‌ها با هم تفاوت دارند.

ریاضی ◀ فصل ۶: جمع و تفریق تکیکی

هدیه‌های آسمان ◀ درس ۱۵: همسفر ناشناس

علوم ◀ درس ۱۱: بکلرید و ببینید


فارسی ◀ درس ۱۴ و ۱۵: بوی سیب، حکایت خروس ایرانی قرآن ◀ فصل ۳: انس با قرآن کریم (۱۱)

ریاضی

عبارت جمعی را که شکل زیر نشان می‌دهد در جدول ارزش مکانی بنویسید.



هزارگان	صدگان	دهگان	یکان



ارمغان هفته - سوم دبستان



نام و نام خانوادگی: تاریخ: نام آموزگار:

مطالعات اجتماعی \leftarrow درس ۱۸: خانه‌ها با هم تفاوت دارند.

ریاضی \leftarrow فصل ۶: جمع و تفریق تکیکی

هدیه‌های آسمان \leftarrow درس ۱۵: همسفر ناشناس

علوم \leftarrow درس ۱۱: بکارید و ببینید


فارسی \leftarrow درس ۱۴ و ۱۵: بوی سیب، حکایت خروس ایرانی قرآن \leftarrow فصل ۳: انس با قرآن کریم (۱۱)

ریاضی

عبارت جمعی را که شکل زیر نشان می‌دهد در جدول ارزش مکانی بنویسید.



یکان	دهگان	صدگان	هزارگان
۲	۵	۴	۳
۳	۳	۳	۲
۵	۸	۷	۵





حاصل جمع و تفریق‌های زیر را بدست آورید.

$$\begin{array}{r} 4000 \\ + 1387 \\ \hline \end{array}$$

$$\begin{array}{r} 5491 \\ + 2502 \\ \hline \end{array}$$

$$\begin{array}{r} 3940 \\ - 1417 \\ \hline \end{array}$$

$$\begin{array}{r} 6630 \\ - 4050 \\ \hline \end{array}$$



در جاهای خالی عدد مناسب بگذارید.

	ه	ص	د	ی
	۴	۷
+	۳	۵
	۵	۵	۸	۶

حاصل جمع و تفریق‌های زیر را بدست آورید.



$$\begin{array}{r} 4000 \\ + 1387 \\ \hline 5387 \end{array}$$

$$\begin{array}{r} 5491 \\ + 2502 \\ \hline 7993 \end{array}$$

$$\begin{array}{r} 3940 \\ - 1417 \\ \hline 2523 \end{array}$$

$$\begin{array}{r} 6630 \\ - 4050 \\ \hline 2580 \end{array}$$

در جاهای خالی عدد مناسب بگذارید.



	ه	ص	د	ی
	۲	۴	۷	۱
+	۳	۱	۱	۵
	۵	۵	۸	۶



در یک کارگاه صنایع دستی، یک هنرمند ۴۳۵۱ ظرف را رنگ کرده است. اگر ۲۵۶۰ تایی آن‌ها مربوط به ماه گذشته باشند او در این ماه چند ظرف رنگ کرده است؟



از دریاچه‌ای ۳۱۰۹ ماهی قزل‌آلا و ۲۳۴۵ ماهی کفال و ۹۰۸ ماهی کپور صید شده است. چند ماهی از این دریاچه صید شده است؟





در یک کارگاه صنایع دستی، یک هنرمند ۴۳۵۱ ظرف را رنگ کرده است. اگر ۲۵۶۰ تای آنها مربوط به ماه گذشته باشند او در این ماه چند ظرف رنگ کرده است؟

$$\begin{array}{r}
 12 \\
 2215 \\
 \cancel{4351} \\
 - 2560 \\
 \hline
 1791
 \end{array}$$

۱۷۹۱ ظرف در این ماه رنگ کرده است.



از دریاچه‌ای ۳۱۰۹ ماهی قزل‌آلا و ۲۳۴۵ ماهی کفال و ۹۰۸ ماهی کپور صید شده است. چند ماهی از این دریاچه صید شده است؟

$$\begin{array}{r}
 3109 \\
 + 2345 \\
 + 908 \\
 \hline
 6362
 \end{array}$$

۶۳۶۲ ماهی از این دریاچه صید شده است





عباس آقا زمینی به شکل مستطیل دارد. او می‌خواهد دور تا دور زمینش را با سیم خاردار ببندد تا کسی نتواند بدون اجازه وارد زمینش شود. اگر طول زمینش ۱۰ متر و عرض آن نصف طولش باشد، او چند متر سیم خاردار باید تهیه کند؟

۶

$$(2 \times 9) + (2 \times 6)$$

عبارت روبه‌رو مربوط به محیط کدام شکل است؟ آن را رنگ بزنید.

۷



عباس آقا زمینی به شکل مستطیل دارد. او می‌خواهد دور تا دور زمینش را با سیم خاردار ببندد تا کسی نتواند بدون اجازه وارد زمینش شود. اگر طول زمینش ۱۰ متر و عرض آن نصف طولش باشد، او چند متر سیم خاردار باید تهیه کند؟



عرض زمین $10 \div 2 = 5$

متر $20 + 10 = 30$ محیط: $(2 \times 10) + (2 \times 5)$



$(2 \times 9) + (2 \times 6)$

عبارت روبه‌رو مربوط به محیط کدام شکل است؟ آن را رنگ بزنید.



با توجه به ریشه‌ی گیاه، گل و برگ مناسب برای این گیاه را انتخاب کرده و بچسبانیید.



جدول زیر را کامل کنید.



گل	برگ	ساقه	ریشه	دانه	نام گیاه
۴ یا ۵ و مضرب‌های آن		نازک توپیر		دوقسمتی	کدو
	پهن		راست		لوبیا
۳ یا ۶ و مضرب‌های آن		نازک توخالی		یک قسمتی	بادمجان
	باریک و دراز		لغزان		گندم

با توجه به ریشه‌ی گیاه، گل و برگ مناسب برای این گیاه را انتخاب کرده و بچسبانید.



۵ گلبرگ




جدول زیر را کامل کنید.



گل	برگ	ساقه	ریشه	دانه	نام گیاه
۴ یا ۵ و مضرب‌های آن	پهن	نازک توپیر	راست	دوقسمتی	کدو
۴ یا ۵ مضرب‌های آن	پهن	نازک و توپیر	راست	دوقسمتی	لوبیا
۳ یا ۶ و مضرب‌های آن	باریک و دراز	نازک توخالی	افشان	یک قسمتی	بادمجان
۳ یا ۶ مضرب‌های آن	باریک و دراز	نازک و تو خالی	افشان	یک قسمتی	گندم



تصویر زیر را با دقت نگاه کنید.



الف) نام گیاه چیست؟

ب) نوع برگ آن چگونه است؟

پ) نوع میوه‌ی آن چگونه است؟

ت) نوع دانه‌ی آن چگونه است؟

ث) یک گیاه دیگر مانند آن نام ببرید.





تصویر زیر را با دقت نگاه کنید.



درخت سرو

الف) نام گیاه چیست؟

سوزنی شکل

ب) نوع برگ آن چگونه است؟

مخروط

پ) نوع میوه‌ی آن چگونه است؟

دانه بالدار

ت) نوع دانه‌ی آن چگونه است؟

کاج

ث) یک گیاه دیگر مانند آن نام ببرید.



من چیستم؟



الف) گیاهی هستم که از پرچم من برای معطر کردن غذا استفاده می‌شود.

ب) گیاهی هستم که برگ‌های باریک و درازی دارم ولی ساقه‌ی چوبی کلفتی دارم.

پ) گیاهی هستم با دانه‌ی تک قسمتی که روغن من هم طرفدار زیادی دارد.

ت) گیاهی هستم با گل زرد بزرگ که دانه‌ی من درون گلم می‌باشد و مصرف خوراکی دارد.

فارسی

با توجه به متن درس «ایران آباد»، کلماتی که نشانه‌های زیر را دارند را بنویسید.



ض	ط	ظ	ث

من چیستم؟



زعفران

الف) گیاهی هستم که از پرچم من برای معطر کردن غذا استفاده می‌شود.

درخت زیتون

ب) گیاهی هستم که برگ‌های باریک و درازی دارم ولی ساقه‌ی چوبی کلفتی دارم.

کنجد

پ) گیاهی هستم با دانه‌ی تک قسمتی که روغن من هم طرفدار زیادی دارد.

آفتابگردان

ت) گیاهی هستم با گل زرد بزرگ که دانه‌ی من درون گلم می‌باشد و مصرف خوراکی دارد.

فارسی

با توجه به متن درس «ایران آباد» کلماتی که نشانه‌های زیر را دارند را بنویسید.



ض ر ض	ط	ظ	ث ث
موضوع	طرف ، مناطق ، وطن ، مصطفی ، طول	نظر ، حفظ ، وظیفه	بحث ، باعث



هدف فرماندهی ایرانی از آوردن خروس در حکایت خروس ایرانی، چه بود؟

.....
.....



با توجه به متن بوی سیب و یاس، به سوالات زیر پاسخ کوتاه دهید.

الف) پدربزرگ امید در آزادسازی کدامیک از شهرهای ایران دلاورانه جنگیده بود؟

ب) روز آزادسازی خرمشهر، چه روزی است؟

پ) تصویر تابلویی که روی میز سر کوچه قرار داشت، چه بود؟

ت) نام کوچه در داستان بوی سیب، چه بود؟

ث) نویسندهی داستان بوی سیب و یاس، چه کسی است؟



هدف فرماندهی ایرانی از آوردن خروس در حکایت خروس ایرانی، چه بود؟

تشبیه سربازان ایرانی به خروس - نشان داد که سربازانش از قدرتی غیر قابل تصور برخوردارند



با توجه به متن بوی سیب و یاس، به سؤالات زیر پاسخ کوتاه دهید.

الف) پدربزرگ امید در آزادسازی کدامیک از شهرهای ایران دلاورانه جنگیده بود؟ **خرمشهر**

ب) روز آزادسازی خرمشهر، چه روزی است؟ **روزی است که دشمن از ما شکست خورد**

پ) تصویر تابلویی که روی میز سر کوچه قرار داشت، چه بود؟ **مسجد خرمشهر**

ت) نام کوچه در داستان بوی سیب، چه بود؟ **مسجد کوچه شهید رستمی**

ث) نویسنده داستان بوی سیب و یاس، چه کسی است؟ **مژگان بابا مرنندی**



درس چهاردهم را با دقت بخوانید و واژه‌های خواسته شده را پیدا کرده و بنویسید.

الف) دو کلمه‌ی جمع: و

ب) دو کلمه که در آخر **انه** دارند: و

پ) دو کلمه که در آخر **نگی** دارند: و

ت) سه کلمه که ابتدای آن‌ها **هم** دارد: و و





درس چهاردهم را با دقت بخوانید و واژه‌های خواسته شده را پیدا کرده و بنویسید.

الف) دو کلمه‌ی جمع: **مناطق** و **ایرانیان**

ب) دو کلمه که در آخر **انه** دارند: **دلاورانه** و **شجاعانه**

پ) دو کلمه که در آخر **گی** دارند: **همبستگی** و **زندگی**

ت) سه کلمه که ابتدای آن‌ها **هم** دارد: **همبستگی** و **همکاری** و **همدلی**



مطالعات اجتماعی

درستی و نادرستی هر عبارت را مشخص کنید.

- الف) زهرا هنگام خروج از کلاس چند تکه زیباله‌ای که دوستش جا گذاشته بود را در سطل زیباله انداخت.
- ب) علی به دوستش که مریض شده بود و چند روز به مدرسه نیامده بود برای یادگیری بهتر دروس کمک نکرد.
- پ) بچه‌های کلاس به کمک یکدیگر کلاس را تمیز نگه می‌دارند.

الف) کدام‌یک از بخش‌های مدرسه‌ی خود را دوست دارید؟

ب) آیا دوست دارید در آینده شغلی در مدرسه داشته باشید؟ به چه دلیل؟

جاهای خالی را با دقت کامل کنید.

الف) مدرسه خنهی ما است.


ب) مدرسه جای خواندن قرآن و نماز و است.

پ) کارکنان مدرسه با هم می‌کنند تا دانش‌آموزان درس بخوانند.

مطالعات اجتماعی

درستی  و نادرستی  هر عبارت را مشخص کنید.


درست

الف) زهرا هنگام خروج از کلاس چند تکه زیباله‌ای که دوستش جا گذاشته بود را در سطل زیباله انداخت. 

نادرست

ب) علی به دوستش که مریض شده بود و چند روز به مدرسه نیامده بود برای یادگیری بهتر دروس کمک نکرد. 

درست

پ) بچه‌های کلاس به کمک یکدیگر کلاس را تمیز نگه می‌دارند. 

الف) کدام‌یک از بخش‌های مدرسه‌ی خود را دوست دارید؟ 

بوفه و حیاط

ب) آیا دوست دارید در آینده شغلی در مدرسه داشته باشید؟ به چه دلیل؟

بله، معلم شوم تا افراد مفیدی تربیت کنم و در آینده یبتر کشورم سهمیم باشم

جاهای خالی را با دقت کامل کنید. 

الف) مدرسه خنهی **دوم** ما است.

ب) مدرسه جای خواندن قرآن و نماز و **آزمایش علمی** است.

پ) کارکنان مدرسه با هم **همکاری** می‌کنند تا دانش‌آموزان درس بخوانند.

هدیه‌های آسمان - قرآن

۱ به چه دلیل امام سجاد (ع) به زین العابدین، معروف شده است؟

۲ آرامگاه امام سجاد (ع) در کدام شهر و کدام قبرستان قرار دارد؟

۳ یک دعا از امام سجاد (ع) که در صحیفه‌ی سجادیه آمده است را بنویسید.

هدیه های آسمان - قرآن

۱ به چه دلیل امام سجاد (ع) به زین العابدین، معروف شده است؟

چون بسیار عبادت می کرد و زینت عبادت کنندگان بود

۲ آرامگاه امام سجاد (ع) در کدام شهر و کدام قبرستان قرار دارد؟

در شهر مدینه ، قبرستان بقیع

۳ یک دعا از امام سجاد (ع) که در صحیفه ی سجادیه آمده است را بنویسید.

خدایا کمکم کن تا به مردم خدمت کنم