



ارمغان هفته - سوم دبستان

نام و نام خانوادگی: تاریخ: نام آموزگار:

مطالعات اجتماعی < نوروژ
هدیه‌های آسمان < نوروژ
قرآن < نوروژ

ریاضی < نوروژ
علوم < نوروژ
فارسی < نوروژ

ریاضی

بعد از پیدا کردن کاری که هر ماشین انجام می‌دهد، جاهای خالی را کامل کنید.

۱۵
۳۱
۱۹
۴۷

+ ۶

۲۱
۳۷
۲۵
۵۳

۱۸
۴۳
۷۴
۷۹

- ۱۵

۳
۲۸
۵۹
۶۴

$$\frac{1}{2} = \frac{4}{8}$$

با رسم شکل تساوی دو کسر $\frac{1}{2}$ و $\frac{4}{8}$ را نشان دهید.

۳ اگر قیمت یک عدد سبزه‌ی سفره‌ی هفت‌سین ۵۰۰۰ تومان باشد:

الف) با ۱۵۰۰۰ تومان چند سبزه می‌توان خرید؟ ۳ سبزه $5000 + 5000 + 5000 = 15000$

ب) قیمت یک سبزه چند ریال است؟ ۵۰۰۰۰ ریال

۴ تمام اعداد سه رقمی با صدگان ۷ و یکانی که ۳ واحد از دهگان بیش‌تر باشد را بنویسید.

۷۰۳ _ ۷۱۴ _ ۷۲۵ _ ۷۳۶ _ ۷۴۷ _ ۷۵۸ _ ۷۶۹

۵ در جدول زیر حروف الفبای فارسی امتیازبندی شده‌اند. امتیاز هر کلمه براساس ضرب اعداد ساخته می‌شود. به عدد توجه کرده سپس بگویید هر کلمه چند امتیاز دارد؟ و در آخر اسم خودتان را امتیاز دهید.

۳ امتیاز
رز ژ س

۶ امتیاز
ج چ ح خ د ذ

۲ امتیاز
ا ب پ ت ث

۸ امتیاز
ل م ن و ه ی

۵ امتیاز
ع غ ف ق ک گ

۴ امتیاز
ش ص ض ط ظ

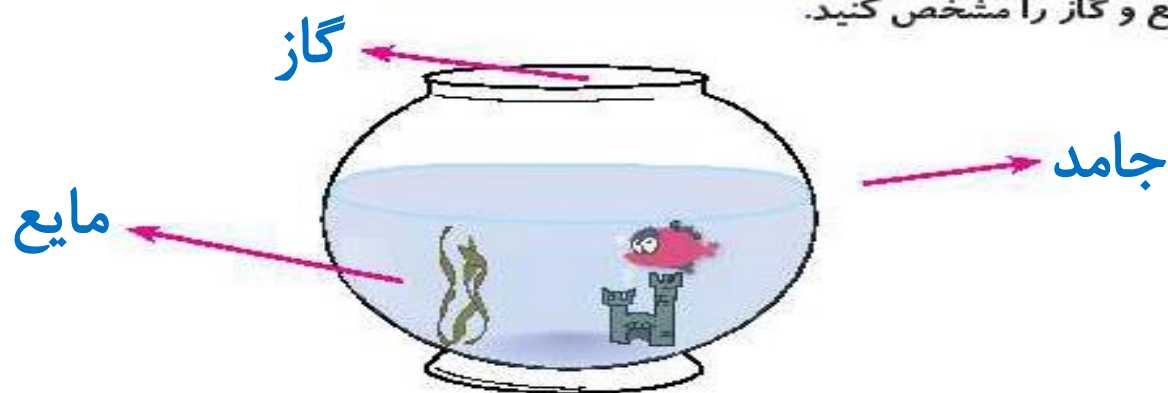
شاد ← $4 \times 2 \times 6 = 48$ سرم ← $3 \times 3 \times 8 = 72$ اسم خودتان ←
شصت ← $4 \times 4 \times 2 = 32$ طرز ← $4 \times 3 \times 3 = 36$ باغ ← $2 \times 2 \times 5 = 20$
مو ← $8 \times 8 = 64$

به عهده‌ی دانش آموز



علوم

۱ قسمت‌های جامد، مایع و گاز را مشخص کنید.



۲ کدامیک از آب‌های زیر شور و کدامیک شیرین است؟


دریا: شور

اقیانوس: شور

لوله‌کشی: شیرین

رودخانه: شیرین

۳ نام گروه‌های هرم غذایی زیر را بنویسید.



۴ آهن یکی از مواد اصلی تشکیل دهنده‌ی خون است و کمبود آن باعث کم‌خونی، خستگی و بی‌حوصلگی می‌شود.

پ	گ	ر	د	و	ا
ر	ب	ک	ر	ف	س
ت	ا	ف	خ	پ	د
ق	د	ن	ر	ی	ن
ا	ا	د	م	ا	ش
ل	م	ق	ا	ز	ل
ا	ن	گ	و	ر	ا

کلسیم برای رشد و محکم شدن استخوان‌ها و دندان‌ها لازم است.

اکنون که عید است خوب است بدانید خوراکی‌هایی مثل کرفس، فندق، گردو، بادام،

پیاز، انگور و پرتقال دارای کلسیم هستند و خوراکی‌هایی از قبیل خرما، کرفس،

گردو، انگور، پرتقال، اسفناج دارای آهن هستند.

این خوراکی‌ها را در جدول پیدا کرده و مواد دارای آهن را قرمز و مواد دارای کلسیم

را زرد کنید و در عید بسیار بخورید.

مشترک‌ها آبی شوند: کرفس، گردو، انگور، پرتقال

فارسی

۱ قسمت‌های ناقص شعر را با معلومات خود کامل کنید.

ابر در حال سفر

آفتاب و ماهتاب

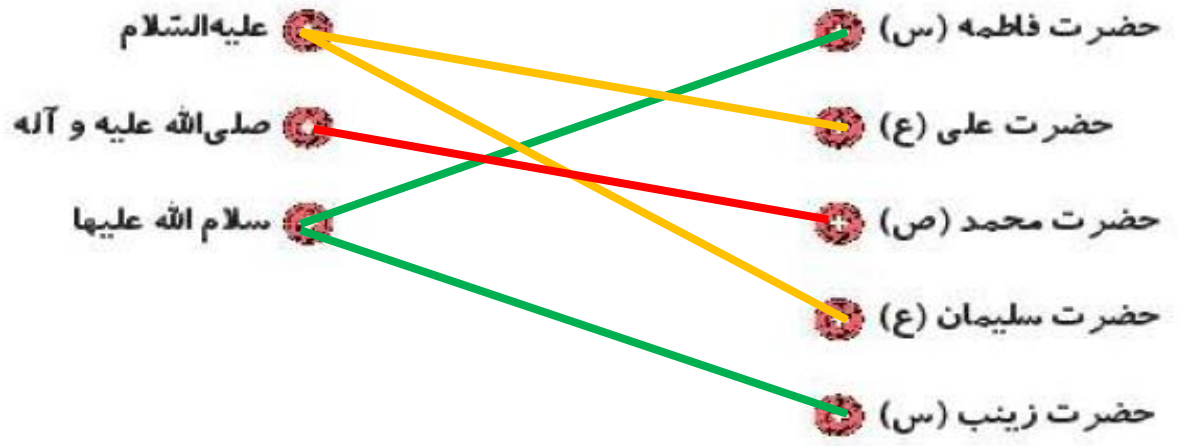
آسمان غرق سکوت

در غروب و در طلوع

۲



مخفف عبارات زیر را به جمله‌ی کامل آن وصل کنید.



با کلمه‌های داده شده یک بند با موضوع بهار بنویسید. ← به عهده‌ی دانش آموز

بهار - گوشه‌ای - تحویل - سفره

Handwriting practice lines consisting of three horizontal dashed lines between two solid blue lines.



تمام چیزهایی را که در سفره هفت‌سین قرار می‌دهید را از جدول پیدا کنید و بنویسید.

ن	ه	ک	س	م	ب	ی	س	ق	گ
ی	گ	ن	ر	غ	ر	م	م	خ	ت
ا	و	ه	ک	ا	د	ج	ن	س	س
ر	ی	س	ه	ر	ف	س	و	ر	م
ه	ز	ب	س	ه	ن	ی	ی	آ	ا
ج	د	ظ	ف	ا	ح	ن	آ	ر	ق

سماق

سیر

آینه

قرآن

سبزه

سیب

سکه

سرکه

تخم مرغ رنگی

سنجد

مطالعات اجتماعی

۱ الف) آیا وجود مقررات در زندگی لازم است؟

بله

ب) چند مورد از مقررات منزل خودتان را بنویسید. ← به عهده ی دانش آموز


در رابطه با صرفه‌جویی گزینه‌ی صحیح را با مشخص کنید

الف) هنگام خرید سعی کنیم از کیسه‌های کم‌تری استفاده کنیم.

ب) در هنگام شست‌وشوی ماشین از شلنگ آب استفاده کنیم.

به عهده ی دانش آموز

در ایام نوروز به هر کجا سفر می کنید تصویری از شکل خانه ها را نقاشی کرده و در چند سطر آداب و رسوم آن شهر را توضیح دهید.



هدیه های آسمان - قرآن

پسرخ سوالات زیر را در جدول روبه رو رنگ کنید و با استفاده از کلمات باقی مانده رمز جدول را بنویسید.

ه	ب	س	ع
ب	ا	ج	م
ب	ج	ا	و
ا	ح	د	ر

الف) امام چهارم شیعیان **سجاد**

ب) به ما محرم است. **عمو**

پ) روزه گرفتن بر مؤمنان **واجب** است.

ت) دختران در مقابل نامحرم باید **حجاب** داشته باشند.

رمز جدول : **بهار**

۲ اذکار نماز را به نام آن ذکر وصل کنید. (یک مورد اضافه است).

- | | |
|---------|-----------------------------|
| استغفار | سبحان ربی العظیم و بحمده |
| رکوع | استغفر الله ربی و اتوب الیه |
| سجده | سمع الله لمن حمده |
| قیام | |

۳ خداوند از ما می خواهد قبل از نماز چه کارهایی را انجام دهیم؟

پاکیزه باشیم و وضو بگیریم.

- بند نویسی
- حروف مخفف
- مقررات
- صرفه جویی
- قوانین دین اسلام
- اذکار نماز

- ماشین اعداد
- تساوی کسر
- عدد نویسی
- ضرب و مسائل ضرب
- حالت های مواد
- هرم غذایی
- مواد غذایی

شاخص ها

- خیلی خوب
- خوب
- قابل قبول
- نیاز به تلاش بیشتر

۴