



شماره‌ی

۲۵

# ارمغان هفته - سوم دبستان

نام و نام خانوادگی: ..... تاریخ: ..... نام آموزگار: .....

مطالعات اجتماعی ← نوروز  
هدیه‌های آسمان ← نوروز  
قرآن ← نوروز

ریاضی ← نوروز  
لوم ← نوروز  
زنگی ← نوروز

## ریاضی

بعد از پیدا کردن کاری که هر ماشین انجام می‌دهد، جاهای خالی را کامل کنید.



۱۵
۱۹



۲۱
۳۷
۵۳

۱۸
۴۳



۳
۵۹
۶۴

با رسم شکل تساوی دو کسر  $\frac{1}{3}$  و  $\frac{4}{8}$  را نشان دهید.





# ارمغان هفته - سوم دبستان

نام و نام خانوادگی: ..... تاریخ: ..... نام آموزگار: .....

- مطالعات اجتماعی < نوز
- هدیه‌های آسمان < نوز
- قرآن < نوز

- ریاضی < نوز
- لوم < نوز
- زسی < نوز

## ریاضی

۱ بعد از پیدا کردن کاری که هر ماشین انجام می‌دهد، جاهای خالی را کامل کنید.

۱۵	۲۱
۳۱	۳۷
۱۹	۲۵
۴۷	۵۳

+ ۶

۱۸	۳
۴۳	۲۸
۷۴	۵۹
۷۹	۶۴

- ۱۵


$$\frac{1}{2} = \frac{4}{8}$$

۲ با رسم شکل تساوی دو کسر  $\frac{1}{3}$  و  $\frac{4}{8}$  را نشان دهید.



۳ اگر قیمت یک عدد سبزه‌ی سفره‌ی هفت‌سین ۵۰۰۰ تومان باشد:

الف) با ۱۵۰۰۰ تومان چند سبزه می‌توان خرید؟

ب) قیمت یک سبزه چند ریال است؟

۴ تمام اعداد سه رقمی با صدگان ۷ و یکانی که ۳ واحد از دهگان بیش‌تر باشد را بنویسید.

۵ در جدول زیر حروف الفبای فارسی امتیازبندی شده‌اند. امتیاز هر کلمه بر اساس ضرب اعداد ساخته می‌شود. به عدد توجه کرده سپس بگویید هر کلمه چند امتیاز دارد؟ و در آخر اسم خودتان را امتیاز دهید.

۳ امتیاز  
رز ز س

۶ امتیاز  
ج ج خ د ذ

۲ امتیاز  
ا ب پ ت ث

۸ امتیاز  
ل م ن و ه ی

۵ امتیاز  
ع غ ف ق ک گ

۴ امتیاز  
ش ص ض ط ظ

اسم خودتان ←

سرم ←

شاد ←

باغ ←  $2 \times 2 \times 5 = 20$

طرز ←

شصت ←

مو ←



۳

اگر قیمت یک عدد سبزه‌ی سفره‌ی هفت‌سین ۵۰۰۰ تومان باشد:

الف) با ۱۵۰۰۰ تومان چند سبزه می‌توان خرید؟  $15000 \div 5000 = 3$ ب) قیمت یک سبزه چند ریال است؟  $15000 \div 3 = 5000$  ریال

۴

تمام اعداد سه رقمی با صدگان ۷ و یکانی که ۳ واحد از دهگان بیش‌تر باشد را بنویسید.

۷۰۳ - ۷۱۴ - ۷۲۵ - ۷۳۶ - ۷۴۷ - ۷۶۹ - ۷۵۸

۵

در جدول زیر حروف الفبای فارسی امتیازبندی شده‌اند. امتیاز هر کلمه بر اساس ضرب اعداد ساخته می‌شود. به عدد توجه کرده سپس بگویید هر کلمه چند امتیاز دارد؟ و در آخر اسم خودتان را امتیاز دهید.

۳ امتیاز  
ر ز ژ س

۶ امتیاز  
ج چ خ د ذ

۲ امتیاز  
ا ب پ ت ث

۸ امتیاز  
ل م ن و ه ی

۵ امتیاز  
ع غ ف ق ک گ

۴ امتیاز  
ش ص ض ط ظ


باغ  $2 \times 2 \times 5 = 20$  ← شاد  $4 \times 2 \times 4 = 32$  ← سرم  $3 \times 3 \times 1 = 9$  ← اسم خودتان ←

مو  $8 \times 8 = 64$  ← شصت  $4 \times 4 \times 2 = 32$  ← طرز  $4 \times 3 \times 3 = 36$

۱

## علوم

قسمت‌های جامد، مایع و گاز را مشخص کنید.



کدام‌یک از آب‌های زیر شور و کدام‌یک شیرین است؟

رودخانه:

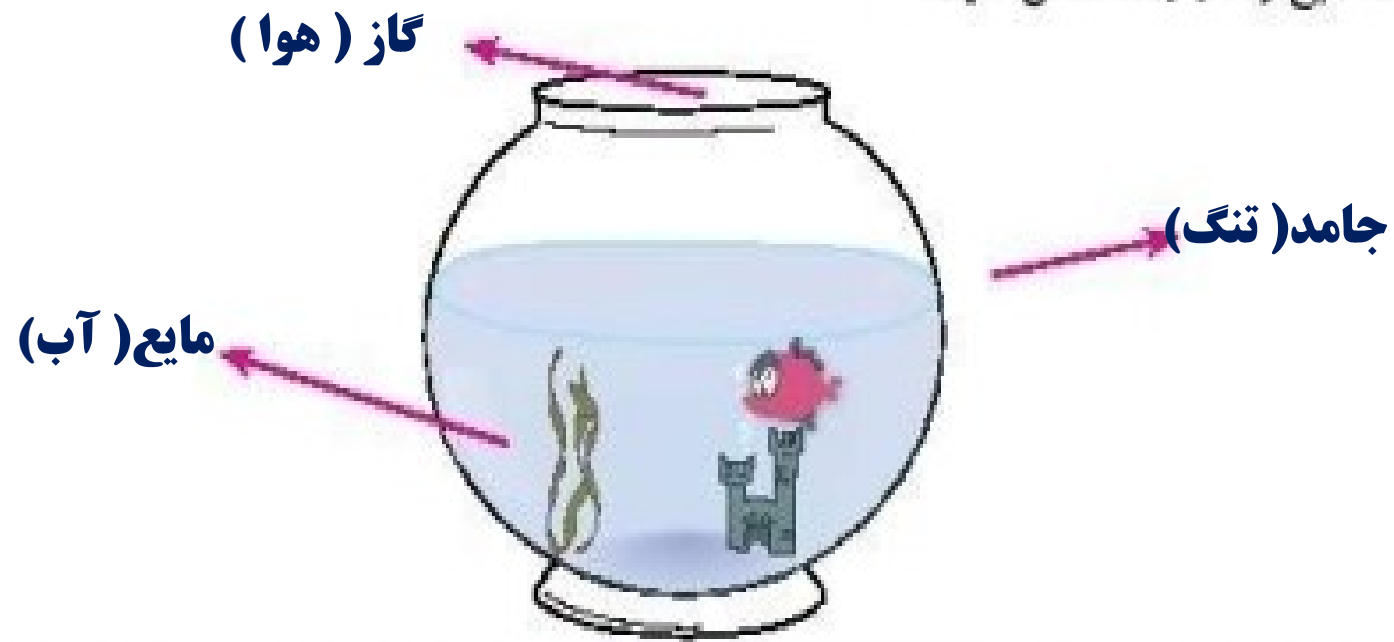
لوله‌کشی:

اقیانوس:

دریا:

## علوم

قسمت‌های جامد، مایع و گاز را مشخص کنید.



کدامیک از آب‌های زیر شور و کدامیک شیرین است؟

دریا: شور


اقیانوس: شور

لوله‌کشی: شیرین

رودخانه: شیرین



نام گروه‌های هرم غذایی زیر را بنویسید.



.....

.....

.....



آهن یکی از مواد اصلی تشکیل دهنده‌ی خون است و کمبود آن باعث کم‌خونی، خستگی و بی‌حوصلگی می‌شود.

کلسیم برای رشد و محکم شدن استخوان‌ها و دندان‌ها لازم است.

اکنون که عید است خوب است بدانید خوراکی‌هایی مثل کرفس، فندق، گردو، بادام،

پیاز، انگور و پرتقال دارای کلسیم هستند و خوراکی‌هایی از قبیل خرما، کرفس،

گردو، انگور، پرتقال، اسفناج دارای آهن هستند.

این خوراکی‌ها را در جدول پیدا کرده و مواد دارای آهن را قرمز و مواد دارای کلسیم

را زرد کنید و در عید بسیار بخورید.

ا	و	د	ر	ی	★	پ
س	س	ف	ر	ی	ب	ر
ف	د	پ	خ	ف	ا	ت
ن	★	ی	ر	ن	د	ق
ا	ش	ا	م	د	ا	ا
ج	ل	ز	ا	ق	م	ل
★	ر	و	ی	ن	ا	★




۳ نام گروه‌های هرم غذایی زیر را بنویسید.

۱- گروه نشاسته‌ها ( نان ، برنج ، ماکارونی ، غلات )

۲- گروه ویتامین‌ها ( میوه‌ها و سبزیجات . صیفیجات )

۳- گروه پروتئین‌ها ( گوشت مرغ ، ماهی ، حبوبات و لبنیات )

۴- گروه چربی‌ها ( انواع روغن ، کره و ... )



۴ آهن یکی از مواد اصلی تشکیل دهنده‌ی خون است و کمبود آن باعث کم‌خونی، خستگی و بی‌حوصلگی می‌شود.

کلسیم برای رشد و محکم شدن استخوان‌ها و دندان‌ها لازم است.

اکنون که عید است خوب است بدانید خوراکی‌هایی مثل کرفس، فندق، گردو، بادام،

پساز، انگور و پرتقال دارای کلسیم هستند و خوراکی‌هایی از قبیل خرما، کرفس،

گردو، انگور، پرتقال، اسفناج دارای آهن هستند.

این خوراکی‌ها را در جدول پیدا کرده و مواد دارای آهن را قرمز و مواد دارای کلسیم

را زرد کنید و در عید بسیار بخورید.

ا	و	ر	ی	★	پ
س	س	ر	ی	ب	ر
ف	د	پ	خ	ف	ا
ن	★	ی	ر	ن	د
ا	ش	ا	م	د	ا
ج	ل	ز	ا	ق	م
★	ر	و	ی	ن	ا

# فارسی

قسمت‌های ناقص شعر را با معلومات خود کامل کنید.



بر در حال سفر

در غروب و در طلوع



# فارسی

قسمت‌های ناقص شعر را با معلومات خود کامل کنید.








آسمان غرق سکوت

بر در حال سفر

در غروب و در طلوع

آفتاب و ماهتاب





مخفف عبارات زیر را به جمله‌ی کامل آن وصل کنید.

- حضرت فاطمه (س)
- حضرت علی (ع)
- حضرت محمد (ص)
- حضرت سلیمان (ع)
- حضرت زینب (س)

- علیه السلام
- صلی الله علیه و آله
- سلام الله علیها



با کلمه‌های داده شده یک بند با موضوع بهار بنویسید.

بهار - گوشه‌ای - تحویل - سفره،

.....

.....

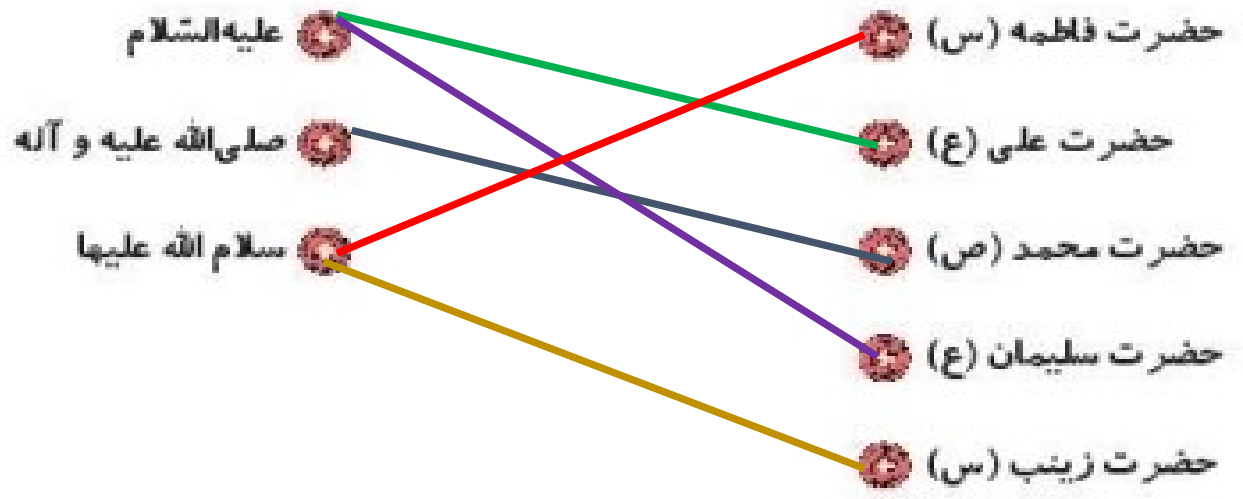
.....

نستند





مخفف عبارات زیر را به جمله‌ی کامل آن وصل کنید.



با کلمه‌های داده شده یک بند با موضوع بهار بنویسید.

بهار - گوشه‌ای - تحویل - سفره،

.....

.....

.....

نویسنده





تمام چیزهایی را که در سفره هفت‌سین قرار می‌دهید را از جدول پیدا کنید و بنویسید.

ن	ط	ک	س	م	ب	ی	س	ق	گی
ی	ک	ن	ر	غ	ر	م	م	خ	ن
ا	و	ط	ک	ا	د	م	ن	س	س
ر	ی	س	ط	ر	ن	س	و	ر	م
ط	ز	ب	س	ط	ن	ی	ی	آ	ا
ج	د	ط	ن	ا	ح	ن	آ	ر	ق

.....
.....
.....
.....
.....

.....
.....
.....
.....
.....



**مطالعات اجتماعی**



الف) آیا وجود مقررات در زندگی لازم است؟

.....

ب) چند مورد از مقررات منزل خودتان را بنویسید.

.....



تمام چیزهایی را که در سفره هفت‌سین قرار می‌دهید را از جدول پیدا کنید و بنویسید.

ن	ط	ک	س	م	ب	ی	س	ق	گ
ی	گ	ن	ر	غ	ر	م	م	خ	ت
ا	و	ط	ک	ا	د	ج	ن	س	س
ر	ی	ع	ط	ر	ن	س	و	ر	م
ط	ز	ب	س	ط	ن	ی	ی	آ	ا
ج	د	ظ	ف	ا	ح	آ	ر	ر	ق


### مطالعات اجتماعی

الف) آیا وجود مقررات در زندگی لازم است؟

بله ، اگر مقررات رعایت نشود هرج و مرج و بی نظمی در کارها به وجود می‌آید و کار ما در زمان خود انجام نمی‌شود و آرامش از بین می‌رود

ب) چند مورد از مقررات منزل خودتان را بنویسید.

به موقع بخوابیم - داخل اتاق توپ بازی نکنیم - لوازم خود را در جای خود قرار دهیم


۲ در رابطه با صرفه‌جویی گزینه‌ی صحیح را با  مشخص کنید.

الف) هنگام خرید سعی کنیم از کیسه‌های کم‌تری استفاده کنیم. 

ب) در هنگام شست‌وشوی ماشین از شلنگ آب استفاده کنیم. 



۳ در ایام نوروز به هر کجا سفر می‌کنید تصویری از شکل خانه‌ها را نقاشی کرده و در چند سطر آداب و رسوم آن شهر را توضیح دهید.



.....

.....

.....

.....

.....

.....


۲ در رابطه با صرفه‌جویی گزینه‌ی صحیح را با  مشخص کنید.

الف) هنگام خرید سعی کنیم از کیسه‌های کم‌تری استفاده کنیم.

ب) در هنگام شست‌وشوی ماشین از شلنگ آب استفاده کنیم.



۳ در ایام نوروز به هر کجا سفر می‌کنید تصویری از شکل خانه‌ها را نقاشی کرده و در چند سطر آداب و رسوم آن شهر را توضیح دهید.



.....

.....

.....

.....

.....

## هدیه‌های آسمان - قرآن

۱ پاسخ سؤالات زیر را در جدول روبه‌رو رنگ کنید و با استفاده از کلمات باقی‌مانده رمز جدول را بنویسید.

ع	س	ب	ه
م	ج	ا	ب
و	ا	ج	ب
ر	د	ح	ا

الف) امام چهارم شیعیان

ب) به ما محرم است.

پ) روزه گرفتن بر مؤمنان ..... است.

ت) دختران در مقابل نامحرم باید ..... داشته باشند.

رمز جدول :

۲ اذکار نماز را به نام آن ذکر وصل کنید. (یک مورد اضافه است.)

استغفار

رکوع

سجده

قیام

سبحان ربی العظیم و بحمده

استغفر الله ربی و اتوب الیه

سمع الله لمن حمده

۳ خداوند از ما می‌خواهد قبل از نماز چه کارهایی را انجام دهیم؟

## هدیه های آسمان - قرآن

پاسخ سؤالات زیر را در جدول روبه رو رنگ کنید و با استفاده از کلمات باقی مانده رمز جدول را بنویسید.

ه	ب	س	ع
ب	ا	ج	م
ب	ج	ا	و
ا	ح	د	ر

**سجاد**

الف) امام چهارم شیعیان

**عمو**

ب) به ما محرم است.

**واجب**

پ) روزه گرفتن بر مؤمنان است.

**حجاب**

ت) دختران در مقابل نامحرم باید داشته باشند.

**بهار**

رمز جدول :

اذکار نماز را به نام آن ذکر وصل کنید. (یک مورد اضافه است.)

- |         |                             |
|---------|-----------------------------|
| استغفار | سبحان ربی العظیم و بحمده    |
| رکوع    | استغفر الله ربی و اتوب الیه |
| سجده    | سمع الله لمن حمده           |
| قیام    |                             |

وضو بگیریم و نماز را با بدن و لباس پاک شروع کنیم و اگر لباسمان به چیزهای نجس مانند خون و ادرار آلوده باشد باید با آب بشوییم

خداوند از ما می خواهد قبل از نماز چه کارهایی را انجام دهیم؟