



نام و نام خانوادگی: _____ تاریخ: _____ موضوع: _____ هدف: _____

فارسی < درس ۱۳: ایران آباد < قرآن < فصل ۳: انس با قرآن کریم (۹)

ریاضی

۱) درنا یک کتاب به قیمت ۳۹۴۵ تومان و یک خط‌کش به قیمت ۱۲۹۱ و یک دفتر به قیمت ۳۸۲۵ تومان خرید. درنا به طور تقریبی چند ریال خرید کرده است؟

ریال $۳۹۴۵ + ۱۲۹۱ + ۳۸۲۵ = ۹۰۶۱$

تومان $۳۹۴۵ + ۱۲۹۱ + ۳۸۲۵ = ۹۰۶۱$

۲) با چوب کبریت الگویی مانند شکل زیر ایجاد کرده‌ایم. برای هر ضلع مثلث یک چوب کبریت لازم است. اگر در مرحله‌ی هشتم ۱۷ چوب کبریت استفاده شده باشد، در مرحله‌ی نهم چند چوب کبریت استفاده شده بود؟

هر مرحله که به جلو می‌رویم ۲ چوب کبریت به شکل قبل اضافه می‌شود.

تعداد چوب کبریت های شکل $۱۷ + ۲ = ۱۹$

۳) مادر درنا در حال آویزان کردن رخت‌ها می‌باشد. او برای آویزان کردن رخت‌ها می‌خواهد از کم‌ترین گیره استفاده کند. او برای آویزان کردن سه رخت به چهار گیره نیاز دارد. برای آویزان کردن ۱۲ رخت به چند گیره نیاز دارد؟

برای آویزان کردن لباسها یک گیره بیشتر از تعداد رخت ها نیاز داریم.


گیره ۴ → رخت ۳
گیره ۵ → رخت ۴
گیره ۱۳ → رخت ۱۲

۴) مقدار بیش‌تر را رنگ کنید.

الف) ۳۲۶۰ تومان ۳۴۵۰ ریال ۳۴۵ تومان

ب) ۶۱۰۰ تومان ۶۱۲۰ ریال ۶۱۲ تومان

پ) ۴۳۲۰ تومان ۴۳۲۰ ریال ۴۳۲ تومان



نام و نام خانوادگی

تاریخ

موضوع:

هدف:

در علامت مناسب قرار دهید.

الف) $490 < 380 + 119$ $730 - 240 < 494$

ب) $4012 < 4031$

ب) $456 + 654 > 723 + 327$ $1110 > 898$

ت) $825 + 73 < 901$


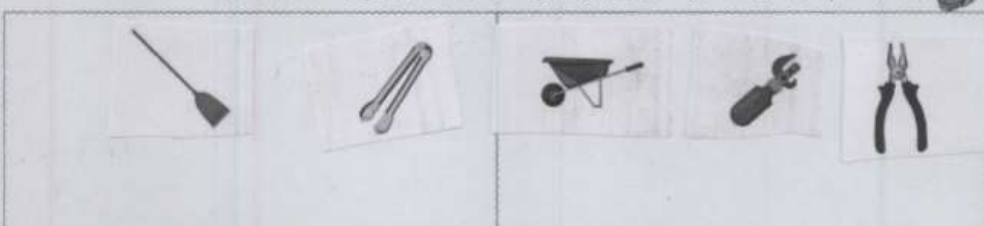
ت) $5412 < 5423$

علوم

۱) نیچی مقابل برای جسم محکم و سخت مناسب تر است یا جسم نرم؟ چرا؟
جسم نرم - با توجه به اینکه عمل برآورد نیروی نیرو از تکیه گاه فاصله دارد. در این نوع اجسام ها سرعت افزایش می یابد و نیروی کمتری نسبت به تکیه گاه های دیگر (فلزبری) می توان وارد کرد.

۲) در هر تصویر محل نیرو، جسم و تکیه گاه را مشخص کنید.

۳) بر حسب اهرم ها را با توجه به این که نیرو را بیش تر می کند یا سرعت جابه جایی را دسته بندی کنید.




موضوع:

تاریخ:

نام و نام خانوادگی:

هدف:

فارسی

۱ جدول زیر را با توجه به ارتباط کلمات کامل کنید.

نانوا
نانوایی

کفاش	کفاشی
خیاط	خیاطی

۲

۳ با توجه به درس ایران آباد، نام چند شهید را نوشته و در مورد یکی از شهدا که می شناسید چند سطر بنویسید.

شهید عباس بابایی - مصطفی اردستانی - عباس دوران -

شهید عباس بابایی خلبان نیروی هوایی بود که در سال ۱۳۶۶ بر اثر شلیک پراکنده خودی سیاه با سرداران کشته شد.

۴ جاهای خالی را با کلمه های داخل کمانک کامل کنید.


الف) به کوهستان رفتند. (بچه ها، او، دانش آموزان)

ب) در سیرک، به نمایش دلقکها خندیدند. (آن ها، ترگس، پدرش)

پ) آقای امرویی کسی است که در کتابخانه کار می کند. (آقای احمدی، من، علی و برادرش)

۵ برای هر کلمه یک هم خانواده بنویسید.

شجاع	شجاعت	حفظ	حافظ	منطقه	مناظر
مدرسه	درس	حرص	حرصین	خطر	خطرناک





نام و نام خانوادگی: _____ تاریخ: _____ موضوع: _____ هدف: _____

مطالعات اجتماعی

شماره تلفن‌های مربوط به تصاویر زیر را در جای خالی بنویسید.



۱۱۰



۱۲۵



۱۱۵

۲ الف) رنگ زرد شعله بخاری به چه معناست؟ یعنی باز بیش ترسو می کند.
 ب) چرا سیگار کشیدن در محدوده‌ی پمپ‌های بنزین اکیداً ممنوع می باشد؟ چون باعث آتش سوزی می شود.


۳ اگر در خانه بوی گاز احساس کردید به ترتیب چه کارهایی انجام می دهید؟ (شماره گذاری کنید).

- ۲ بستن شیر گاز
- ۳ باز کردن پنجره
- ۱ نزدن کلید برق و یا روشن نکردن کبریت
- ۵ هدایت هوا به بیرون با حوله
- ۴ خیس کردن حوله



۳







نام و نام خانوادگی: _____
 تاریخ: _____
 موضوع: _____
 هدف: _____


جدول را حل کنید.

- در خانه را نباید به روی این افراد باز کرد. **عزیزیم**
- شعله‌ی بخاری باید **آب** رنگ باشد.
- اگر سیم برق زخمی یا **پاره‌شده** باشد موجب برق گرفتگی و آتش‌سوزی می‌شود.
- از گذاشتن ترفه و سواد **آهن‌زنا** در داخل کمد و کیف خودداری کنید.
- اولین کلمه‌ای که بعد از برداشتن گوشی می‌گوییم **الو**.....
- دوشاخه‌ی وسایل برقی را در آن می‌زنیم. **پریز**

هدیه‌های آسمان - قرآن

- نام پدر و مادر حضرت فاطمه (س) را بنویسید.
 نام پدر: **محمد بن عبدالله (س)** نام مادر: **خدیجه (س)**
- چرا پیامبر خدا فاطمه (س) را «أمّ‌البنیاء» نام نهاده بود؟
چون حضرت فاطمه (س) خیلی بی‌پیرا احترام می‌گذاشت و مانند یک مادر برای او دل‌سوز بود.
- به پرسش‌های زیر به صورت کوتاه پاسخ دهید.
 الف) نام برادر حضرت موسی (ع) چه بود؟ **هارون**
 ب) درباریان با دیدن معجزات حضرت موسی (ع)، ایشان را چه نامیدند؟ **لغتنا: موسی، ما و کس، ما شریکت**

Activate V
Go to PC set





نام و نام خانوادگی: _____ تاریخ: _____ موضوع: _____ هدف: _____

ارمغان 23

ریاضی

1 جمع و تفریق زیر را با روش فرآیندی محاسبه کنید.

$$\begin{array}{r} 4452 \\ + 1784 \\ \hline 6171 \end{array}$$

$$\begin{array}{r} 8452 \\ + 784 \\ \hline 9232 \end{array}$$

$$\begin{array}{r} 6171 \\ + 1825 \\ \hline 7996 \end{array}$$

$$\begin{array}{r} 7171 \\ + 825 \\ \hline 7996 \end{array}$$

$$\begin{array}{r} 740 \\ + 231 \\ \hline 971 \end{array}$$

$$\begin{array}{r} 971 \\ + 740 \\ \hline 1711 \end{array}$$

$$\begin{array}{r} 9232 \\ + 7996 \\ \hline 17228 \end{array}$$

$$\begin{array}{r} 8734 \\ - 2925 \\ \hline 5809 \end{array}$$

$$\begin{array}{r} 4734 \\ - 625 \\ \hline 4109 \end{array}$$

$$\begin{array}{r} 5834 \\ - 25 \\ \hline 5809 \end{array}$$

$$\begin{array}{r} 7496 \\ - 2286 \\ \hline 5210 \end{array}$$

$$\begin{array}{r} 7496 \\ - 2284 \\ \hline 5212 \end{array}$$

2 برنا 740 تومان پول دارد. پول برادرش 231 تومان از او بیش تر است. آن‌ها روی هم چند تومان پول دارند؟

آن‌ها روی هم 971 تومان پول دارند.

3 حاصل جمع و تفریق‌های زیر را به صورت ذهنی به دست آورید.

$$6000 - 4000 = 2000$$

$$4100 + 900 = 5000$$

$$1700 + 300 = 2000$$

$$9000 - 700 = 8300$$

$$5000 + 2000 = 7000$$

$$4000 - 500 = 3500$$

4 با حذف رقم یکان و دهگان حاصل جمع و تفریق‌های زیر را از بین پاسخ‌ها پیدا کنید.


$$\begin{array}{r} 3562 \\ - 2487 \\ \hline \end{array}$$

$$\begin{array}{r} 1768 \\ + 4359 \\ \hline \end{array}$$

1100 6000 5000 6800 1000

5 حاصل تقریبی هر عبارت بین کدام دو عدد هزارتایی قرار می‌گیرد؟ (با حذف رقم یکان و دهگان)

$$7000 \leftarrow 6251 + 1482 \rightarrow 8000$$

$$2000 \leftarrow 4458 - 2267 \rightarrow 2000$$




نام و نام خانوادگی: _____ تاریخ: _____ موضوع: _____ هدف: _____

مثلث متساوی الساقین	مثلث قائم الزاویه	مثلث متساوی الاضلاع	
مثلث متساوی الساقین	مثلث قائم الزاویه	مثلث متساوی الاضلاع	
مثلث متساوی الساقین	مثلث قائم الزاویه	مثلث متساوی الاضلاع	

علوم

۱) نوع ریشه‌ی هر کدام از تصاویر را بنویسید. (راست - افشان)

..... راست

..... راست

..... راست


..... افشان

..... افشان

۲) گیاهانی را که ریشه‌ی آن‌ها خوراکی است با علامت ضربدر مشخص کنید.

۳) سه گیاه نام ببرید که مواد غذایی را در ریشه‌ی خود ذخیره می‌کنند.

..... ترب هویج سلطه





نام و نام خانوادگی: _____ تاریخ: _____ موضوع: _____ هدف: _____

۴ از برگ چه گیاهی به عنوان خوراکی و غذا استفاده می‌شود؟ (سه مورد نام ببرید.)
 کاهو - اسفناج - جعفر - نعناع

فارسی

۱ زیر کلمات نادرست خط بکشید و درست آن‌ها را بنویسید.
 سنعت ، بحس ، محلی ، وظیفه ، باعث ، حفظ ، برخواست
 صفت - جفت - زلفیه - برخواست

۲ بیت زیر را کامل کنید.
 دست در دست هم دهیم به مهر
 معین همش برکنیم آنگار

۳ در متن درس چهاردهم، واژه‌هایی که بی‌نقطه هستند پیدا کنید و بنویسید.
 رسم - درس - اصل - گروه - ولی - تحول - سال - احمد - جلوه کلاس - جسم -
 عمل - دست - صخره - جدولی - هنداروی - بی‌داد

۴ برای این جدول پرش‌های مناسب بنویسید.

			ب	آ	۱	
			ر	ز	خ	۲
		ن	ه	ی	م	۳
	ن	ا	ر	ی	ا	۴
ه	ا	ی	د	ا	ز	۵

۱- مایه‌ری حیات
 ۲- نام دریای شمال ایران
 ۳- نام دیگر وطن
 ۴- کسوری که از دوسو (شمال و جنوب) دریا منشعب می‌شود
 ۵- محل تولد

مطالعات اجتماعی

۱ کدام کارها در مدرسه انجام نمی‌شود؟ مشخص کنید.





موضوع:

تاریخ:

نام و نام خانوادگی:

هدف:

❄️ 🍂 🌿 ❄️ 🍂 🌿 ❄️ 🍂 🌿 ❄️

۲) پنج مورد از کارهای مورد علاقه‌ی خود در مدرسه را بنویسید.

هنرمند - ورزش - موسیقی - بازی با همکلاسی‌ها در زنگ تفریح - صرف نهار در کنار دوستان

۳) هریک از کارهای سمت راست در کدام مکان از مدرسه انجام می‌گیرد؟ (وصل کنید).

● نمازخواندن	● سالن اجتماعات
● اجرای نمایش	● آزمایشگاه
● انجام آزمایش‌های علمی	● حیاط
● ورزش و بازی	● نمازخانه

هدیه‌های آسمان - قرآن


۱) نام‌های حضرت زهرا (س) را از جدول زیر پیدا کنید. علاوه‌بر رنگ کردن آن‌ها در جدول، نام‌ها را بنویسید.

م	ب	ا	ر	ک	ه
ف	ا	ط	م	ه	م
ص	د	ی	ق	ه	ر
ظ	ا	ه	ر	ه	ض
م	ح	د	ث	ه	ی
ر	ی	ح	ا	ن	ه

مبارک
فاطمه
صدیقه
طاهره
حدیثه
ریحانه
مرصنه

۲) تسبیحات حضرت زهرا (س) را به ترتیب نام ببرید و تعداد آن‌ها را بنویسید.

۳۶ بار اللهم انکرم
۳۳ بار الحمد لله
۳۳ بار سبحان الله



نام و نام خانوادگی: _____ تاریخ: _____ موضوع: _____ هدف: _____

ارمغان 24

ریاضی

۱ عبارت جمعی را که شکل زیر نشان می دهد در جدول ارزش مکانی بنویسید.

هزارگان	صدگان	دهگان	یکان
۳	۴	۵	۲
+	۲	۳	۳
۵	۷	۸	۵

۲ حاصل جمع و تفریق های زیر را بدست آورید.

$$\begin{array}{r} 4000 \\ + 1387 \\ \hline 5387 \end{array}$$

$$\begin{array}{r} 5491 \\ + 2502 \\ \hline 7993 \end{array}$$

$$\begin{array}{r} 3940 \\ + 1417 \\ \hline 5357 \end{array}$$

$$\begin{array}{r} 6630 \\ + 4050 \\ \hline 10680 \end{array}$$

۳ در جاهای خالی عدد مناسب بگذارید.

ه	ص	د	ی
۴	۴	۷	۱
+	۳	۱	۵
۵	۵	۸	۶

۴ در یک کارگاه صنایع دستی، یک هنرمند ۴۳۵۱ ظرف را رنگ کرده است. اگر ۲۵۶۰ تای آن ها مربوط به ماه گذشته باشند او در این ماه چند ظرف رنگ کرده است؟

$$\begin{array}{r} 4351 \\ - 2560 \\ \hline 1791 \end{array}$$

در این ماه ۱۷۹۱ ظرف رنگ کرده است.

۵ از دریاچه ای ۳۱۰۹ ماهی قزل آلا و ۲۳۴۵ ماهی کفال و ۹۰۸ ماهی کپور صید شده است. چند ماهی از این دریاچه صید شده است؟

$$\begin{array}{r} 3109 \\ + 2345 \\ + 908 \\ \hline 6362 \end{array}$$

۶۳۶۲ ماهی از این دریاچه صید شده است.



Activat
Go to PC



موضوع:

تاریخ:

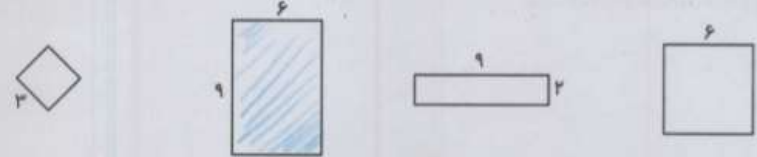
نام و نام خانوادگی:

هدف:

۶ عباس آقا زمینی به شکل مستطیل دارد. او می خواهد دور تا دور زمینش را با سیم خاردار ببندد تا کسی نتواند بدون اجازه وارد زمینش شود. اگر طول زمینش ۱۰ متر و عرض آن نصف طولش باشد، او چند متر سیم خاردار باید تهیه کند؟


عرض زمین $10 \div 2 = 5$ متر $2 \times 10 + 2 \times 5 = 30$ متر $20 + 10 = 30$ متر

۷ عبارت روبرو مربوط به محیط کدام شکل است؟ آن را رنگ بزنید.



علوم

۱ با توجه به ریشه ی گیاه، گل و برگ مناسب برای این گیاه را انتخاب کرده و بچسبانید.



۲ جدول زیر را کامل کنید.

نام گیاه	دانه	ریشه	ساقه	برگ	گل
کدو	دوقسمتی	راست	نازک توپر	پهن	۴ یا ۵ و مضرب های آن
لوبیا	دوقسمتی	راست	نازک توپر	پهن	۴ یا ۵ و مضرب های آن
بادمجان	یک قسمتی	افشان	نازک توخالی	باریک و دراز	۳ یا ۶ و مضرب های آن
گندم	یک قسمتی	افشان	نازک توخالی	باریک و دراز	۳ یا ۶ و مضرب های آن





نام و نام خانوادگی: _____ تاریخ: _____ موضوع: _____ هدف: _____

۳ تصویر زیر را با دقت نگاه کنید.

الف) نام گیاه چیست؟ ... *سرو*

ب) نوع برگ آن چگونه است؟ ... *سوزنی شکل*

پ) نوع میوه‌ی آن چگونه است؟ ... *سرو میوه*

ت) نوع دانه‌ی آن چگونه است؟ ... *دانه‌های بالدار*

ث) یک گیاه دیگر مانند آن نام ببرید. ... *کاج*

۲


۴ من چیستم؟

الف) گیاهی هستم که از پرچم من برای معطر کردن غذا استفاده می‌شود. *زعفران*

ب) گیاهی هستم که برگ‌های یاریک و درازی دارم ولی ساقه‌ی چوبی کلفتی دارم. *درخت زیتون*

پ) گیاهی هستم با دانه‌ی تک قسمتی که روغن من هم طرفدار زیادی دارد. *کنجد*

ت) گیاهی هستم با گل زرد بزرگ که دانه‌ی من درون گلم می‌باشد و مصرف خوراکی دارد. *آفتابگردان*





نام و نام خانوادگی: _____
 تاریخ: _____
 موضوع: _____
 هدف: _____

فارسی

۱) با توجه به متن درس «ایران آباد» کلماتی که نشانه‌های زیر را دارند را بنویسید.

ش	ظ	ط	ض
موسوع -	طرف - فامون - وطن مصطفی - طول	تطر - عقق - وظیفه	بج - باعش

۲) هدف فرماندهی ایرانی از آوردن خروس در حکایت «خروس ایرانی» چه بود؟

تسلیه سرماران ایرانیم خروس... نشان داد که در بازار ما مثل از قزوین غیر قابل تصور خروس از آنجا...

۳) با توجه به متن «بوی سیب و یاس» به سؤالات زیر پاسخ کوتاه دهید.

الف) پدر بزرگ امید در آزادسازی کدام یک از شهرهای ایران دلاورانه جنگیده بود؟ خرمشهر

ب) روز آزادسازی خرمشهر، چه روزی است؟ روزی است که دشمن از ما بیگانه خورد.

پ) تصویر تابلویی که روی میز سر کوچه قرار داشت، چه بود؟ مسجد خرمشهر

ت) نام کوچه در داستان «بوی سیب» چه بود؟ کوچه سعید رحیمی

ث) نویسنده داستان «بوی سیب و یاس» چه کسی است؟ هژتال، بابا عمرانی

۴) درس چهاردهم را با دقت بخوانید و واژه‌های خواسته شده را پیدا کرده و بنویسید.


الف) دو کلمه جمع: مناطق و ایرانیان

ب) دو کلمه که در آخر «انه» دارند: دلاوران و ساجدگان

پ) دو کلمه که در آخر «گی» دارند: همسنگی و زردگی

ت) سه کلمه که ابتدای آن‌ها «هم» دارد: همسنگی و همساری و همسری

۳





نام و نام خانوادگی

تاریخ

موضوع:

هدف:

مطالعات اجتماعی

۱) درستی و نادرستی هر عبارت را مشخص کنید.
 الف) زهرا هنگام خروج از کلاس چند تکه زباله‌ای که دوستش جا گذاشته بود را در سطل زباله انداخت.
 ب) علی به دوستش که مریض شده بود و چند روز به مدرسه نیامده بود برای یادگیری بهتر دروس کمک نکرد.
 پ) بچه‌های کلاس به کمک یکدیگر کلاس را تمیز نگه می‌دارند.

۲) الف) کدام یک از بخش‌های مدرسه‌ی خود را دوست دارید؟
 ب) آیا دوست دارید در آینده شغلی در مدرسه داشته باشید؟ به چه دلیل؟
 ب. الف. ... معلم. ب. ... آموزگار. ج. ... پرستار. د. ... در آینده می‌خواهم یک معلم شوم.

۳) جاهای خالی را با دقت کامل کنید.
 الف) مدرسه خانه‌ی ما است.
 ب) مدرسه جای خواندن قرآن و نماز و است.
 پ) کارکنان مدرسه با هم می‌کنند تا دانش‌آموزان درس بخوانند.

هدیه‌های آسمان - قرآن

۱) به چه دلیل امام سجاد (ع) به «زین‌العابدین» معروف شده است؟
 چون بسیار رحمت می‌کرد و زینت عبادت گفته می‌شود.

۲) آرامگاه امام سجاد (ع) در کدام شهر و کدام قبرستان قرار دارد؟
 در شهر مدینه در قبرستان بی‌سنگ.

۳) یک دعا از امام سجاد (ع) که در صحیفه‌ی سجاده آمده است را بنویسید.
 خدایا کرام کن تا به مردم حرمت کنم.



نام و نام خانوادگی

تاریخ

موضوع:


هدف:

ارمغان 25

ریاضی

1 بعد از پیدا کردن کاری که هر ماشین انجام می دهد، جاهای خالی را کامل کنید.

۱۵	→	۳۱	۱۸	→	۳
۳۱		۳۷	۳۳		۲۸
۱۹		۲۵	۷۴		۵۹
۴۷		۵۳	۷۹		۶۴



2 با رسم شکل تساوی دو کسر $\frac{1}{2}$ و $\frac{4}{8}$ را نشان دهید.

$$\frac{1}{2} = \frac{4}{8}$$

میزبان	انگیزه
✓	۳
✓	۴
✓	۵
✓	۶
✓	۷
✓	۸
✓	۹

3 اگر قیمت یک عدد سبزه‌ی سفره‌ی هفت سین ۵۰۰۰ تومان باشد:

الف) با ۱۵۰۰۰ تومان چند سبزه می توان خرید؟ $15000 \div 5000 = 3$

ب) قیمت یک سبزه چند ریال است؟ $5000 \div 10 = 500$ ریال

4 تمام اعداد سه رقمی با صدگان ۷ و یکانی که ۳ واحد از دهگان بیش تر باشد را بنویسید.

$703, 714, 725, 736, 747, 758, 769$


5 در جدول زیر حروف الفبای فارسی امتیازبندی شده اند. امتیاز هر کلمه بر اساس ضرب اعداد ساخته می شود. به عدد توجه کرده سپس بگویند هر کلمه چند امتیاز دارد؟ و در آخر اسم خودتان را امتیاز دهید.

امتیاز ۳ رزس	امتیاز ۶ ج ج خ د	امتیاز ۲ ا ب ت ث
امتیاز ۸ ل م ن و ه ی	امتیاز ۵ ع غ ف ق ک گ	امتیاز ۴ ش ص ض ط ظ

← اسم خودتان ← ← سرم ← شاد ← باغ $2 \times 2 \times 5 = 20$

← طرز ← شمت ← مو

باسم و آبرو





نام و نام خانوادگی: _____ تاریخ: _____ موضوع: _____ هدف: _____

1 قسمت‌های جامد، مایع و گاز را مشخص کنید.

2 کدام یک از آب‌های زیر شور و کدام یک شیرین است؟
 رودخانه: شیرین ... لوله‌کشی: شیرین ...
 اقیانوس: شور ... دریا: شور ...

3 نام گروه‌های هرم غذایی زیر را بنویسید.

(1) گروه شاسته‌ها (مان - بونج - مالاروفی - غلات)
 (2) گروه ویتامین‌ها (گروه میوه‌ها و سبزیجات)
 (3) گروه پروتئین‌ها (گوشت - مرغ - ماهی - حبوبات و حبوبات)
 (4) گروه چربی‌ها (انواع روغن کره ...)


4 آهن یکی از مواد اصلی تشکیل دهنده‌ی خون است و کمبود آن باعث کم‌خونی، خستگی و بی‌حوصلگی می‌شود. کلسیم برای رشد و محکم شدن استخوان‌ها و دندان‌ها لازم است. اکنون که عید است خوب است بدانید خوراکی‌هایی مثل کرفس، فندق، گردو، بادام، پیاز، انگور، پرتقال دارای کلسیم هستند و خوراکی‌هایی از قبیل خرما، کرفس، گردو، انگور، پرتقال، اسفناج دارای آهن هستند. این خوراکی‌ها را در جدول پیدا کرده و مواد دارای آهن را قرمز و مواد دارای کلسیم را زرد کنید و در عید بسیار بخورید.

پ	ا	ب	ت	ق	ا	ل	ا
پ	و	ب	ف	ی	د	م	ش
ب	س	ب	خ	ر	ا	ا	ا
ت	د	ا	پ	ن	س	ل	ج
ق	ن	د	ر	ن	ا	ز	ا
ا	ا	ا	م	ا	ا	ل	ا
ل	ا	م	د	ن	ا	ز	ا
ا	ا	ب	ت	ق	ا	ل	ا

کلسیم: کرفس، گردو، بادام، انگور، پرتقال، اسفناج
 آهن: خرما، کرفس، گردو، انگور، پرتقال

فارسی

قسمت‌های ناقص شعر را با معلومات خود کامل کنید.





نام و نام خانوادگی: _____ تاریخ: _____

موضوع: _____ هدف: _____

فارسی

۱. قسمت‌های ناقص شعر را با معلومات خود کامل کنید.

ابر در حال سفر
 آفتاب و ماهتاب
 در غروب و در طلوع


۲. مخفف عبارات زیر را به جمله‌ی کامل آن وصل کنید.

حضرت فاطمه (س)	●	●	علیه‌السلام
حضرت علی (ع)	●	●	صلی‌الله علیه و آله
حضرت محمد (ص)	●	●	سلام الله علیها
حضرت سلیمان (ع)	●	●	
حضرت زینب (س)	●	●	

۳. با کلمه‌های داده شده یک بند یا موضوع بهار بنویسید.

بهار - گوشه‌ای - تحویل - سفره

.....





نام و نام خانوادگی: _____ تاریخ: _____ موضوع: _____ هدف: _____

۳ در ایام نوروز به هر کجا سفر می کنید تصویری از شکل خانه ها را نقاشی کرده و در چند سطر آداب و رسوم آن شهر را توضیح دهید.

پایه و سن: _____

هدیه های آسمان - قرآن

۱ پاسخ سؤالات زیر را در جدول روبه رو رنگ کنید و با استفاده از کلمات باقی مانده رمز جدول را بنویسید.

۱	ب	س	ع
پ	ا	ج	م
ب	ج	ا	د
ا	ح	د	ر

الف) امام چهارم شیعیان سجاد
 ب) به ما محرم است. عمرو
 پ) روزه گرفتن بر مؤمنان... واجب است.
 ت) دختران در مقابل نامحرم باید... حجاب داشته باشند.
 رمز جدول: بجارد

۲ اذکار نماز را به نام آن ذکر وصل کنید. (یک مورد اضافه است.)

استغفار	سبحان ربی العظیم و بحمده
رکوع	استغفر الله ربی و اتوب الیه
سجده	سمع الله لمن حمده
قیام	

۳ خداوند از ما می خواهد قبل از نماز چه کارهایی را انجام دهیم؟
و احرام آلوده باشم یا آب بشویم
و وضو بگیریم و نماز را با بدن و لباس پاک شروع کنیم و اگر لباسی بپوشیم که با سوره

