



شماره‌ی

۲۶

ارمغان هفته - سوم دبستان

نام و نام خانوادگی: تاریخ: نام آموزگار:

ریاضی ← نوروز

علوم ← نوروز

فارسی ← نوروز

مطالعات اجتماعی ← نوروز

هدیه‌های آسمان ← نوروز

قرآن ← نوروز

ریاضی

حاصل ضرب‌های زیر را با روش دلخواه به دست بیاورید.



$7 \times 8 =$

$3 \times 6 =$

$4 \times 9 =$

$6 \times 5 =$

$8 \times 8 =$

$5 \times 4 =$

حاصل جمع و تفریق‌های زیر را از راه گسترده‌نویسی (قرآیندی) به دست آورید.



$$\begin{array}{r} 3490 \\ + 1678 \\ \hline \end{array}$$

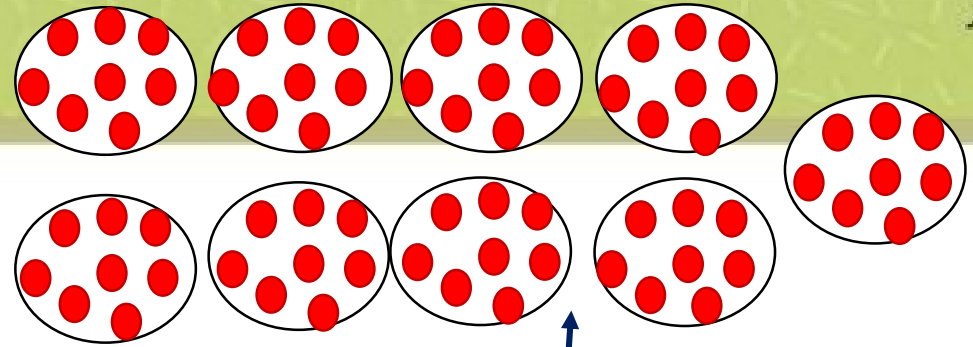
$$\begin{array}{r} 5438 \\ - 2362 \\ \hline \end{array}$$



ارمغان هفته - سوم دبستان

نام و نام خانوادگی: تاریخ: نام آموزگار:

- ریاضی < نوز
- علوم < نوز
- فارسی < نوز
- مطالعات اجتماعی < نوز
- هدیه‌های آسمان < نوز
- قرآن < نوز



ریاضی

حاصل ضرب‌های زیر را با روش دایره‌ای به دست بیاورید.

$7 \times 8 = 56$

$3 \times 6 = 18$

$4 \times 9 = 36$

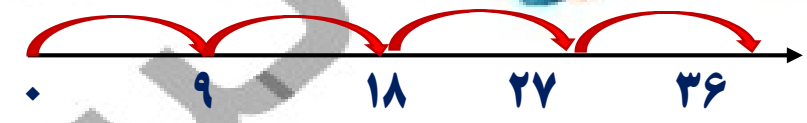
$6 \times 5 = 30$

$8 \times 8 = 64$

$5 \times 4 = 20$

۵، ۱۰، ۱۵، ۲۰، ۲۵، ۳۰

۸، ۱۶، ۲۴، ۳۲، ۴۰، ۴۸، ۵۶، ۶۴



$5 + 5 + 5 + 5 + 5 = 20$

حاصل جمع و تفریق‌های زیر را از راه گسترده‌نویسی (فرآیندی) به دست آورید.

$$\begin{array}{r} 3490 \\ 1678 \\ \hline 4490 \\ + 678 \\ \hline 5090 \\ + 78 \\ \hline 5168 \\ + 5168 \\ \hline 5168 \end{array}$$

$$\begin{array}{r} 3490 \\ + 1678 \\ \hline \end{array}$$

$$\begin{array}{r} 5428 \\ - 2362 \\ \hline \end{array}$$


$$\begin{array}{r} 5428 \\ - 2362 \\ \hline 3428 \\ - 362 \\ \hline 3128 \\ - 62 \\ \hline 3078 \\ - 2 \\ \hline 3076 \end{array}$$



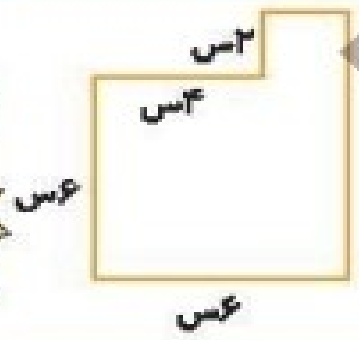
برای تقسیم زیر شکل بکشید و یک مسئله برای آن بنویسید.

$18 \div 9 =$

.....
.....
.....
.....



محیط و مساحت شکل زیر را به دست آورید.



.....
.....
.....



تمام اعداد سه رقمی با صدگان ۷ و یکانی که ۳ واحد از دهگان بیش تر باشد را بنویسید.

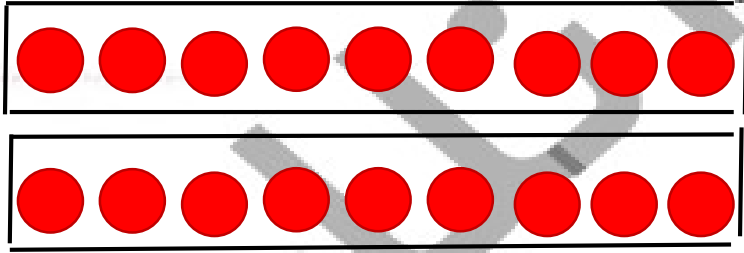
.....
.....





برای تقسیم زیر شکل بکشید و یک مسئله برای آن بنویسید.

$18 \div 9 = 2$



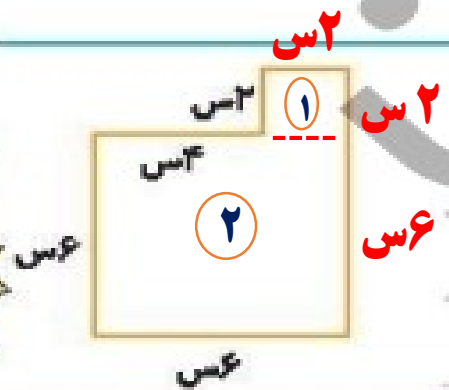
سارا ۱۸ شکلات دارد. او شکلات را بین ۹ نفر دوستانش

تقسیم کرد. به هر کدام از دوستانش چند شکلات داده

است؟



محیط و مساحت شکل زیر را به دست آورید.



محیط : $2 + 2 + 8 + 6 + 6 + 4 = 28$ سانتیمتر

مساحت ۱ : $2 \times 2 = 4$ سانتیمتر مربع

مساحت ۲ : $6 \times 6 = 36$ سانتیمتر مربع

مساحت کل : $36 + 4 = 40$ سانتیمتر مربع



تمام اعداد سه رقمی با صدگان ۷ و یکانی که ۳ واحد از دهگان بیش تر باشد را بنویسید.

- ۷۰۳ - ۷۱۴ - ۷۲۵ - ۷۳۵ - ۷۴۷ - ۷۵۸ - ۷۶۹

صدگان دهگان یکان

۷	۰	۳
۷	۱	۴
۷	۲	۵
۷	۳	۶
۷	۴	۷
۷	۵	۸
۷	۶	۹



ماجرای خرید عزیز خانم:

روز شنبه عزیز خانم برای خرید مهمانی سال نو به مغازه‌ی سبزی‌فروشی رفت. او ۲ کیلوگرم سبزی آش و ۵ کیلوگرم سبزی‌پلو خرید. بعد به مغازه‌ی عطاری رفت و در آنجا ۵۰۰ گرم زردچوبه و ۱ کیلوگرم نمک و ۲۰۰ گرم خاکشیر خرید. پس از آن به بقالی رفت. او یک قوطی رب ۱ کیلوگرمی و ۴۵۰ گرم روغن جامد خرید. عزیز خانم بعد از ظهر به مغازه‌ی طلافروشی رفت و یک جفت گوشواره به وزن ۳ گرم برای عیدی نوه‌اش خرید.

با توجه به داستان به پرسش‌ها پاسخ دهید.

الف) عزیز خانم چند کیلوگرم سبزی خریده است؟

ب) خرید صبح عزیز خانم از کدام مغازه سبک‌تر بوده است؟

پ) عزیز خانم در مغازه‌ی عطاری چند گرم خرید کرده است؟

ماجرای خرید عزیز خانم:

روز شنبه عزیز خانم برای خرید مهمانی سال نو به مغازه‌ی سبزی فروشی رفت. او ۲ کیلوگرم سبزی آش و ۵ کیلوگرم سبزی پلو خرید. بعد به مغازه‌ی عطاری رفت و در آنجا ۵۰۰ گرم زردچوبه و ۱ کیلوگرم نمک و ۲۰۰ گرم خاکشیر خرید. پس از آن به بقالی رفت. او یک قوطی رب ۱ کیلوگرمی و ۴۵۰ گرم روغن جامد خرید. عزیز خانم بعد از ظهر به مغازه‌ی طلافروشی رفت و یک جفت گوشواره به وزن ۳ گرم برای عیدی نوه‌اش خرید.

با توجه به داستان به پرسش‌ها پاسخ دهید.

الف) عزیز خانم چند کیلوگرم سبزی خریده است؟

کیلوگرم ۷ = کیلوگرم ۵ + کیلوگرم ۲: سبزی فروش

ب) خرید صبح عزیز خانم از کدام مغازه سبک‌تر بوده است؟

مغازه طلافروشی که ۳ گرم طلا خریده است

پ) عزیز خانم در مغازه‌ی عطاری چند گرم خرید کرده است؟

۱۷۰۰ گرم خریده است.

گرم ۱۷۰۰ = ۲۰۰ + ۵۰۰ + ۱۰۰۰

مطالعات اجتماعی

الف) در شهر شما معمولاً خانه‌ها به چه شکلی هستند؟



ب) اگر در ایام عید به سفر رفته‌اید خانه‌ها در آن شهرها چه شکلی داشتند؟

۲ شجرنامه‌ی خانوادگی خود را بکشید.



مطالعات اجتماعی

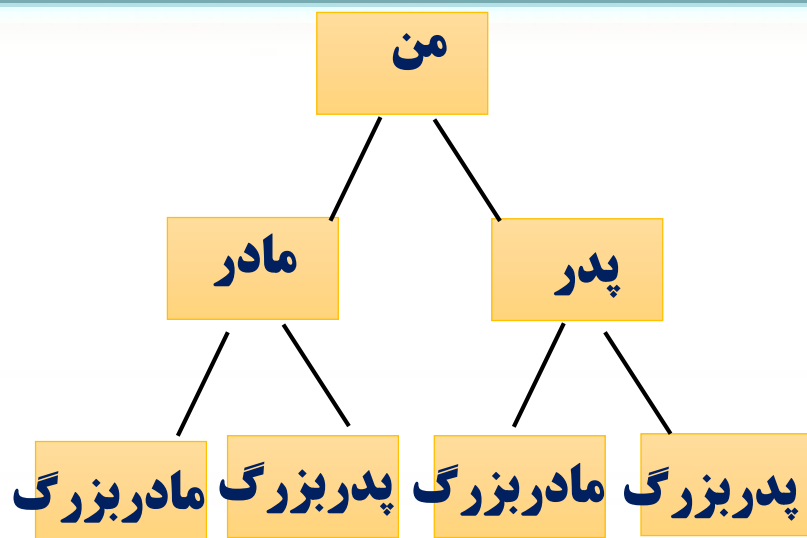
الف) در شهر شما معمولاً خانه‌ها به چه شکلی هستند؟

آپارتمانی - به دلیل جمعیت زیاد

ب) اگر در ایام عید به سفر رفته‌اید خانه‌ها در آن شهرها چه شکلی داشتند؟

به شمال رفته بودیم و خانه‌های شیروانی (به دلیل بارش فراوان) بودند.

۲ شجره‌نامه‌ی خانوادگی خود را بکشید.



هدیه‌های آسمان - قرآن

موارد مرتبط را به یکدیگر وصل کنید. (دو مورد اضافی است.)



- شعبان 
 - قرآن 
 - حضرت زینب (س) 
 - رمضان 
 - حضرت فاطمه (س) 
- خداوند در آن راه و رسم زندگی را به ما نشان داده است. 
- در این ماه خدا بیش‌تر از ماه‌های دیگر به بندگانش پاداش می‌دهد. 
- او همسر حضرت علی (ع) است. 

درستی  و نادرستی  هر عبارت را مشخص کنید.



- الف) روز مادر، روز میلاد حضرت زهرا (س) است.
- ب) جشن تکلیف، عید عبادت است.
- پ) در عید نوروز، نماز عید می‌خوانیم.



هدیه‌های آسمان - قرآن

موارد مرتبط را به یکدیگر وصل کنید. (دو مورد اضافی است.)



شعبان

قرآن

حضرت زینب (س)

رمضان

حضرت فاطمه (س)

خداوند در آن راه و رسم زندگی را به ما نشان داده است.

در این ماه خدا بیش‌تر از ماه‌های دیگر به بندگانش پاداش می‌دهد.

او همسر حضرت علی (ع) است.

درستی و نادرستی هر عبارت را مشخص کنید.

(الف) روز مادر، روز میلاد حضرت زهرا (س) است.

(ب) جشن تکلیف، عید عبادت است.

(پ) در عید نوروز، نماز عید می‌خوانیم.

