

ارمغان هفته - سوم دبستان

شماره‌ی

۲۲

نام و نام خانوادگی: تاریخ: نام آموزگار:

مطالعات اجتماعی < فصل ۶: جمع و تفریق فرآیندی

ریاضی < فصل ۶: جمع و تفریق فرآیندی

هدیه‌های آسمان < درس ۱۱: بکلید و ببینید

علوم < درس ۱۱: بکلید و ببینید

قرآن < فصل ۳: انس با قرآن کریم (۱۰)

فارسی < درس ۱۴: ایران آباد

ریاضی

جمع و تفریق زیر را با روش فرآیندی محاسبه کنید.

$$\begin{array}{r} 6171 \\ + 1825 \\ \hline \end{array}$$

$$\begin{array}{r} 6452 \\ + 2786 \\ \hline \end{array}$$

$$\begin{array}{r} 8736 \\ - 2925 \\ \hline \end{array}$$

$$\begin{array}{r} 7496 \\ - 3286 \\ \hline \end{array}$$

۲ برنا ۷۴۰ تومان پول دارد. پول برادرش ۲۳۱ تومان از او بیش‌تر است. آنها روی هم چند تومان پول دارند؟

۳ حاصل جمع و تفریق‌های زیر را به صورت ذهنی به دست آورید.

$$6000 - 4000 =$$

$$4100 + 900 =$$

$$1700 + 300 =$$

$$9000 - 700 =$$

$$5000 + 2000 =$$

$$4000 - 500 =$$

۴ با حذف رقم یکان و دهگان و صدگان حاصل جمع و تفریق‌های زیر را از بین پاسخ‌ها پیدا کنید.

$$\begin{array}{r} 3562 \\ - 2487 \\ \hline \end{array} \rightarrow -$$

$$\begin{array}{r} 1768 \\ + 4359 \\ \hline \end{array} \rightarrow +$$

۱۱۰۰

۶۰۰۰

۵۰۰۰

۶۸۰۰

۱۰۰۰

۵ حاصل تقریبی هر عبارت بین کدام دو عدد هزارتایی قرار می‌گیرد؟ (با حذف رقم یکان و دهگان)

$$\boxed{} \leftarrow 6251 + 1482 \rightarrow \boxed{}$$

+

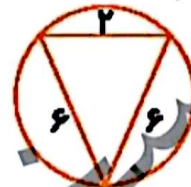
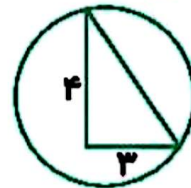
$$\boxed{} \leftarrow 4458 - 2267 \rightarrow \boxed{}$$

-

۱


با توجه به شکل‌های زیر گزینه‌ی مناسب را رنگ کنید.

| | | |
|---------------------|-------------------|---------------------|
| مثلث متساوی الساقین | مثلث قائم الزاویه | مثلث متساوی الاضلاع |
| مثلث متساوی الساقین | مثلث قائم الزاویه | مثلث متساوی الاضلاع |
| مثلث متساوی الساقین | مثلث قائم الزاویه | مثلث متساوی الاضلاع |




علوم

نوع ریشه‌ی هر کدام از تصاویر را بنویسید. (راست - افشان)



| | | | | |
|--|--|--|--|--|
| | | | | |
|--|--|--|--|--|

گیاهانی را که ریشه‌ی آن‌ها خوراکی است با علامت ضربدر مشخص کنید.



سه گیاه نام ببرید که مواد غذایی را در ریشه‌ی خود ذخیره می‌کنند.

.....

.....



۴ از برگ چه گیاهی به عنوان خوراکی و غذا استفاده می‌شود؟ (سه مورد نام ببرید).

فارسی

۱ زیر کلمات نادرست خط بکشید و درست آن‌ها را بنویسید.

سنعت ، بحس ، محلی ، وضیفه ، باعث ، حفظ ، برخوردارست،

۲ بیت زیر را کامل کنید.

دست در دست هم دهیم به مهر

۳ در متن درس چهاردهم، واژه‌هایی که بی‌نقطه هستند پیدا کنید و بنویسید.

۴ برای این جدول پرسش‌های مناسب بنویسید.

| | | | | | |
|---|---|---|---|---|---|
| | | | ب | آ | ۱ |
| | | ر | ز | خ | ۲ |
| | ن | ه | ی | م | ۲ |
| | ن | ا | ر | ا | ۳ |
| ه | ا | ی | د | ز | ۵ |

مطالعات اجتماعی

۱ کدام کارها در مدرسه انجام نمی‌شود؟ مشخص کنید.



۳

پنج مورد از کارهای مورد علاقه‌ی خود در مدرسه را بنویسید.

هریک از کارهای سمت راست در کدام مکان از مدرسه انجام می‌گیرد؟ (وصل کنید).

- | | |
|-----------------------|---------------|
| نماز خواندن | سالن اجتماعات |
| اجرای نمایش | آزمایشگاه |
| انجام آزمایش‌های علمی | حیاط |
| ورزش و بازی | نمازخانه |

هدیه‌های آسمان - قرآن

نام‌های حضرت زهرا (س) را از جدول زیر پیدا کنید. علاوه بر رنگ کردن آن‌ها در جدول، نام‌ها را بنویسید.

| | | | | | |
|---|---|---|---|---|---|
| م | ب | ا | ر | ی | ه |
| ف | ا | ط | م | ه | م |
| ص | د | ی | ق | ه | ر |
| ط | ا | ه | ر | ه | ض |
| م | ح | د | ت | ه | ی |
| ر | ی | ح | ا | ن | ه |

تسبیحات حضرت زهرا (س) را به ترتیب نام ببرید و تعداد آن‌ها را بنویسید.

- جدول کلمات
- واژگانی
- کارها و مکان‌های مختلف مدرسه
- آشنایی با حضرت زهرا (س)

- جمع و تفریق فرآیندی
- جمع و تفریق ذهنی
- جمع و تفریق تقریبی
- اجزای گیاهان
- انواع ریشه

شاخص‌ها

- خیلی خوب
- خوب
- قابل قبول
- نیاز به تلاش بیشتر