



# ارمغان هفته - سوم دبستان

نام و نام خانوادگی: ..... تاریخ: ..... نام آموزگار: .....

ریاضی < فصل ۷: حدس و آزمایش، استوانه و مخروط  
علوم < درس ۱۱ و ۱۲: بکارید و ببینید، هر کدام جای خود (۱) هدیه‌های آسمان < درس ۱۶: داناترین مردم  
فارسی < درس ۱۵: دریا  
قرآن < انس با قرآن کریم ۱۲

## ریاضی

۵ برابر عددی به علاوه ۳ می‌شود ۴۸، آن عدد چیست؟

$$۵ \times \boxed{9} + ۳ = ۴۸$$

$$\rightarrow \begin{cases} ۴۸ - ۳ = ۴۵ \\ ۴۵ \div ۵ = ۹ \end{cases}$$

این عدد ۹ است

۴ برابر شعاع دایره‌ای ۱۶ سانتی‌متر است. قطر دایره چند سانتی‌متر است؟

$$۱۶ \div ۴ = ۴$$

شعاع دایره

$$\text{قطر دایره} = ۴ + ۴ = ۸$$

سانتر قطر

نام سه وسیله‌ی استوانه‌ای شکل را بنویسید.

کیولان - بصری‌اب - قابلمه

مسئله‌های زیر را با استفاده از راهبرد حدس و آزمایش حل کنید.



الف) عددی را نصف کردیم سپس حاصل را با ۴ جمع کردیم و جواب ۱۲ شد. آن عدد کدام است؟

$$\boxed{14} \div 2 + 4 = 12$$

$$\left\{ \begin{array}{l} 12 - 4 = 8 \\ 8 \times 2 = 16 \end{array} \right.$$

بغی تقسیم بر ۲

آن عدد ۱۶ است.

ب) اندازه‌ی محیط یک مستطیل ۱۲ سانتی‌متر است. اگر عرض مستطیل نصف طول آن باشد، اندازه‌ی عرض آن چقدر است؟


$$2 \times (\text{طول} + \text{عرض}) = \text{محیط مستطیل}$$

$$\text{عرض} = 2 = 2 \div 2 = 1$$

$$\text{عرض} = 2 \times \text{طول}$$

$$\text{طول} = 2 \times 2 = 4$$

$$12 \div 2 = 6 \Rightarrow \text{طول} + \text{عرض} = 6 \Rightarrow (2 \times \text{عرض}) + \text{عرض} = 6 \Rightarrow 3 \times \text{عرض} = 6 \Rightarrow \text{عرض} = 2$$



پ) عددی را بر ۸ تقسیم کردیم و حاصل را در خودش ضرب کردیم پاسخ ۹ شد. عدد مورد نظر چند است؟

$$\boxed{24} \div 8 = \boxed{3} \times \boxed{3} = 9$$

این حدس و آزمون به دست من رسید

$$\text{① } 1 \div 1 = 1 \times 1 = 1 \quad \times$$




$$\text{② } 14 \div 8 = 2 \times 2 = 4 \quad \times$$

$$\text{③ } 24 \div 8 = 3 \times 3 = 9 \quad \checkmark$$






بهزاد می خواهد برای تولد برادرش یک کلاه رنگارنگ درست کند. او با برش زدن کدام یک از اشکال زیر می تواند کلاه را بسازد؟



علوم

تصویر یک ماهی را بکشید و پولک، دم و باله های آن را مشخص کنید.



۲ جاهای خالی را با کلمات مناسب کمال کنید.

الف) ماهی‌ها **آبش** دارند و از هوای درون آب تنفس می‌کنند.

ب) **لغزیدن** بودن روی بدن ماهی به حرکت آن کمک می‌کند.

۳ من چیستم؟


الف) خیلی کوچکم، اما اگر در خاک بیفتم و آب کافی به من برسد می‌توانم گیاه جدیدی بسازم. **دان**

ب) بخشی از گل زعفران هستم که مرا از گل جدا می‌کند و بسیار قیمتی هستم. **پرچم**

پ) قسمتی از گیاه هستم که به کارخانه‌ی غذاسازی معروفم. **برگ**


ت) گیاهی با برگ‌های سوزنی هستم که مخروط دارم و همیشه سبزیم. **کاج**

۴ با توجه به تعداد گلبرگ‌ها، برگ و ریشه‌ی هر گل را بکشید.



ششبرگ ۴ پاله

برگ پهن



هشمبرگ ۶

برگ دراز

و پهن





## فارسی

ماهی را به تنگ برسانید. حرف‌هایی را رنگ بزنید که با استفاده از آن جمله‌ی «دریای آبی زیباست.» ساخته شود.



م	چ	ط	ی	ی	ل	م	ن	و	ط	ی
د	ر	ی	ا	ی	ش	ی	ب	ل	س	س
ز	ط	ا	ی	آ	ب	ی	ز	ی	س	ت
د	ل	ط	ا	م	ا	ی	ی	ب	ا	ت



با استفاده از کلمه‌های «پایه، زبانه، گوشه و دسته، متن زیر را کامل کنید. (یک کلمه اضافه است.)» **زبانم**

اتاق تاریک بود. دستم به صندلی خورد و روی زمین افتاد و یک **دستم** ی آن شکست. ناگهان کسی وارد اتاق شد. مادرم

سرو صدا را شنیده بود و به اتاق آمده بود. پایش به **پایم** ی میز گیر کرد و به زمین افتاد. مرا که در **گوشم** ی

اتاق نشسته بودم و از ترس می‌لرزیدم، با خود بردم.

مانند نمونه شباهت‌ها را پیدا کنید و بنویسید.

چشمش خورشیدی درخشان است، **یعنی** چشم او مثل خورشید می‌درخشد.

صورت مادرم گلی سرخ و زیباست، **یعنی**

دندان‌های مریم مرواریدهایی سفید است، **یعنی**

صورت مادرم مثل گل سرخ، زیبا است

دندان‌های مریم مثل مروارید، سفید و براق است

مطالعات اجتماعی

برای هر مکان نماد مرتبگی به دلخواه خود بکشید.





نقشه‌ی ساده‌ای از یکی از طبقات مدرسه خود رسم کنید. (سعی کنید اصلی‌ترین طبقه را در نظر بگیرید.)

به کلمه دانش آموز



با توجه به کلمات زیر جاهای خالی را کامل کنید.

فروشگاه - علامت‌هایی - احترام به دیگران - مفید - سلامتی - مقرراتی

الف) برای استفاده از نقشه در کنار آن برای راهنمایی باید **علامت‌هایی** وجود داشته باشد.

ب) معمولاً هر مدرسه در کنار حیاط یک **فروشگاه** کوچک دارد.

پ) مدرسه هم مانند خانه **مقرراتی** دارد.

احترام به دیگران

رعایت می‌کنیم.

ت) رعایت بعضی از مقررات در مدرسه موجب حفظ **سلامتی** ما می‌شود و بعضی مقررات را برای

## هدیه های آسمان - قرآن

می باشد.

لقب

(ع)، در قبرستان

سجلا

محل دفن امام محمد باقر (ع) در کنار امام



لقب امام پنجم چیست؟ و تحقیق کنید که چرا به ایشان این لقب را داده اند؟



باقر العلوم - یعنی شکافندی عالم - ایشان بسیار عالم و دانشمند بودند و

به همین دلیل به باقر العلوم معروف شدند