


فعالیت کلاسی


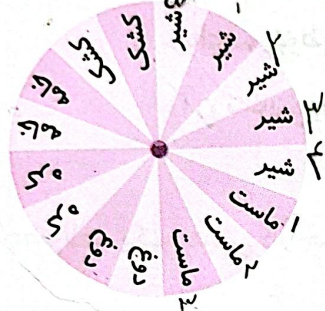


سهیل کارهای خود را در جدول نشان داده است. کارهای روزانه او را با رنگ کردن دایره، نشان بده.

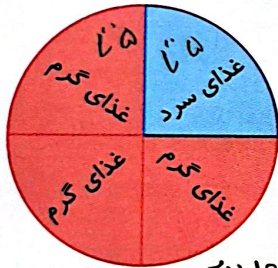


فعالیت	صبحانه خوردن	مطالعه	ناهار و نماز و استراحت	بازی و سرگرمی	فیلم
زمان	۸-۹	۹-۱۲	۱۲-۱۴	۱۴-۱۶	۱۶-۱۸
مقدار ساعت	۱	۳	۲	۲	۲

در نمودار دایره‌ای زیر، هر قسمت نشان دهنده‌ی ۴ عدد از هر فرآورده است. مقدار هر محصول را در جدول داده‌ها بنویس.



اطلاعات غذاهای سرد و گرم یک رستوران در نمودار دایره‌ای زیر آمده است. حساب کن اگر کل غذاهای سرد و گرم

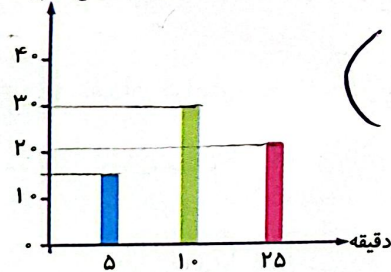


این رستوران ۲۰ تا باشد، چه تعداد از غذاها سرد و چه تعداد از غذاها گرم است؟

تا ۱۵ تا از غذاها گرم و ۵ تا از غذاها سرد است. $۱۵ - ۵ = ۱۰$
 سرد است. غذاها گرم ۱۵ = ۵ - ۲۰

مدتی که طول می‌کشد تا دانش‌آموزان کلاس سوم از خانه به مدرسه بروند، در نمودار زیر نشان داده شده است.

تعداد دانش‌آموزان



الف: چند دانش‌آموز در مدت بیش از ۲۵ دقیقه از خانه به مدرسه می‌روند؟

۲۰ نفر با توجه به استرال دانش‌آموز (۵)

ب: تعداد کل دانش‌آموزان پایه‌ی سوم دبستان چند نفر است؟

۶۵ نفر $۳۰ + ۲۰ + ۱۵ = ۶۵$