











ارمغان هفته - سوم دبستان

نام و نام خانوادگی: تاریخ: نام آموزگار:

ریاضی < فصل ۶: جمع و تفریق تکیکی
 علوم < درس ۱۱: بکاربرد و ببینید
 فارسی < درس ۱۴ و ۱۵: بوی سیب، حکایت خروس ایرانی قرآن < فصل ۴: انس با قرآن کریم (۱۱)
 مطالعات اجتماعی < درس ۱۸: خانه‌ها با هم تفاوت دارند.
 هدیه‌های آسمان < درس ۱۵: همسفر ناشناس

ریاضی

عبارت جمعی را که شکل زیر نشان می‌دهد در جدول ارزش مکانی بنویسید.

	یکان	دهگان	صدگان	هزارگان
+				
				

$$\begin{array}{r} 4000 \\ + 1287 \\ \hline \end{array}$$

$$\begin{array}{r} 5291 \\ + 2502 \\ \hline \end{array}$$

$$\begin{array}{r} 2940 \\ + 1417 \\ \hline \end{array}$$

$$\begin{array}{r} 6620 \\ + 2050 \\ \hline \end{array}$$

حاصل جمع و تفریق‌های زیر را بدست آورید.

در جاهای خالی عدد مناسب بگذارید.

	ی	د	ص	ه
		۷	۴	
+	۵			۲
	۶	۸	۵	۵

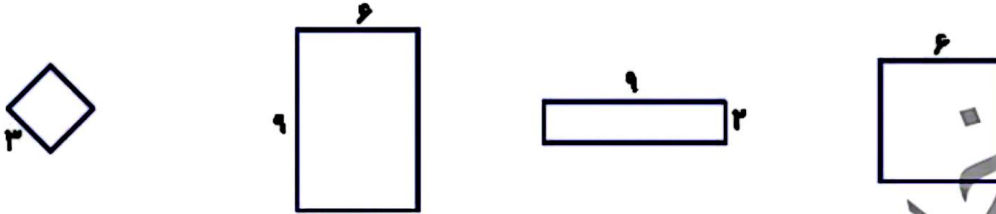
در یک کارگاه صنایع دستی، یک هنرمند ۴۳۵۱ ظرف را رنگ کرده است. اگر ۲۵۶۰ تای آن‌ها مربوط به ماه گذشته باشند او در این ماه چند ظرف رنگ کرده است؟

از دریاچه‌ای ۳۱۰۹ ماهی قزل‌آلا و ۲۳۴۵ ماهی کفال و ۹۰۸ ماهی کپور صید شده است. چند ماهی از این دریاچه صید شده است؟

عباس آقا زمینی به شکل مستطیل دارد. او می خواهد دور تا دور زمینش را با سیم خاردار ببندد تا کسی نتواند بدون اجازه وارد زمینش شود. اگر طول زمینش ۱۰ متر و عرض آن نصف طولش باشد، او چند متر سیم خاردار باید تهیه کند؟


$$(2 \times 9) + (2 \times 6)$$

عبارت روبه‌رو مربوط به محیط کدام شکل است؟ آن را رنگ بزنید.



علوم

با توجه به ریشه‌ی گیاه، گل و برگ مناسب برای این گیاه را انتخاب کرده و بچسبانید.



جدول زیر را کامل کنید.

گل	برگ	ساقه	ریشه	دانه	نام گیاه
۴ یا ۵ و مضرب‌های آن		نازک توپیر		دوقسمتی	کدو
	پهن		راست		لوبیا
۳ یا ۶ و مضرب‌های آن		نازک توخالی		یک قسمتی	بادمجان
	باریک و دراز		افشان		گندم

تصویر زیر را با دقت نگاه کنید.


الف) نام گیاه چیست؟

ب) نوع برگ آن چگونه است؟

پ) نوع میوه‌ی آن چگونه است؟

ت) نوع دانه‌ی آن چگونه است؟

ث) یک گیاه دیگر مانند آن نام ببرید.



مطالعات اجتماعی

درستی و نادرستی هر عبارت را مشخص کنید.

- الف) زهرا هنگام خروج از کلاس چند تکه زباله‌ای که دوستش جا گذاشته بود را در سطل زباله انداخت.
- ب) علی به دوستش که مریض شده بود و چند روز به مدرسه نیامده بود برای یادگیری بهتر دروس کمک نکرد.
- پ) بچه‌های کلاس به کمک یکدیگر کلاس را تمیز نگه می‌دارند.

الف) کدام یک از بخش‌های مدرسه‌ی خود را دوست دارید؟

ب) آیا دوست دارید در آینده شغلی در مدرسه داشته باشید؟ به چه دلیل؟

جاهای خالی را با دقت کامل کنید.

الف) مدرسه خلتی ما است.

ب) مدرسه جای خواندن قرآن و نماز و است.





پ) کارکنان مدرسه با هم می‌کنند تا دانش‌آموزان درس بخوانند.






هدیه‌های آسمان - قرآن

۱ به چه دلیل امام سجاده (ع) به زین‌العابدین، معروف شده است؟

۲ آرامگاه امام سجاده (ع) در کدام شهر و کدام قبرستان قرار دارد؟

۳ یک دعا از امام سجاده (ع) که در صحیفه‌ی سجادیه آمده است را بنویسید.

	درک مطلب
	واژه‌شناسی
	مکان‌های مختلف و قوانین مدرسه
	آشنایی با امام چهارم

	جمع و تفریق تکنیکی
	مسائل جمع و تفریق
	محیط مستطیل
	دسته‌بندی گیاهان از نظر ریشه، دانه، برگ، ساقه و گل
	گیاهان مخروط‌دار

