

پاسخ نامه ی

ارمغان



ارمغان هفته - سوم دبستان



نام و نام خانوادگی: تاریخ: نام آموزگار:

ریاضی < فصل ۷: جدول داده‌ها، نمودارهای آماری و احتمال مطالعات اجتماعی < درس ۲۰: خانه شما کجاست؟
 علوم < درس ۱۲ و ۱۳: هر کدام جای خود (۱) و (۲) هدیه‌های آسمان < درس ۱۷: خواب شیرین
 فارسی < درس ۱۵ و ۱۶: دریا - اگر جنگل نباشد. قرآن < انس با قرآن کریم (۱۳)

ریاضی

۱ در یک کیسه ۷ مهره‌ی آبی و ۵ مهره‌ی قرمز وجود دارد؟

الف) چه کسری از مهره‌ها آبی هستند؟

$$\frac{7}{12}$$

$$\frac{5}{12}$$

ب) چه کسری از مهره‌ها قرمز هستند؟

پ) احتمال بیرون آمدن کدام رنگ با چشم بسته بیش‌تر است؟ رنگ آبی چون تعداد آن بیشتر است.

۲ جدول زیر مربوط به داده‌های یک گل‌فروشی می‌باشد. صاحب مغازه تعداد گل‌هایی را که در یک هفته فروخته است را در این جدول یادداشت کرده است.

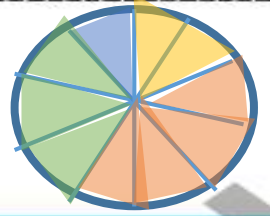
نوع گل	مریم	یاس	ارکیده	رز
تعداد	۲۰	۱۰	۳۰	۴۰

الف) چه کسری از گل‌های فروخته شده مریم می‌باشد؟

$$\frac{20}{100}$$

ب) کدام گل‌ها بیش‌تر فروخته شده‌اند؟ گل رز

پ) نمودار دایره‌ای داده‌های این مسئله را رسم کنید.





در کدام کیسه احتمال خارج شدن رنگ قرمز بیشتر است؟ دلیل انتخاب خود را بنویسید.



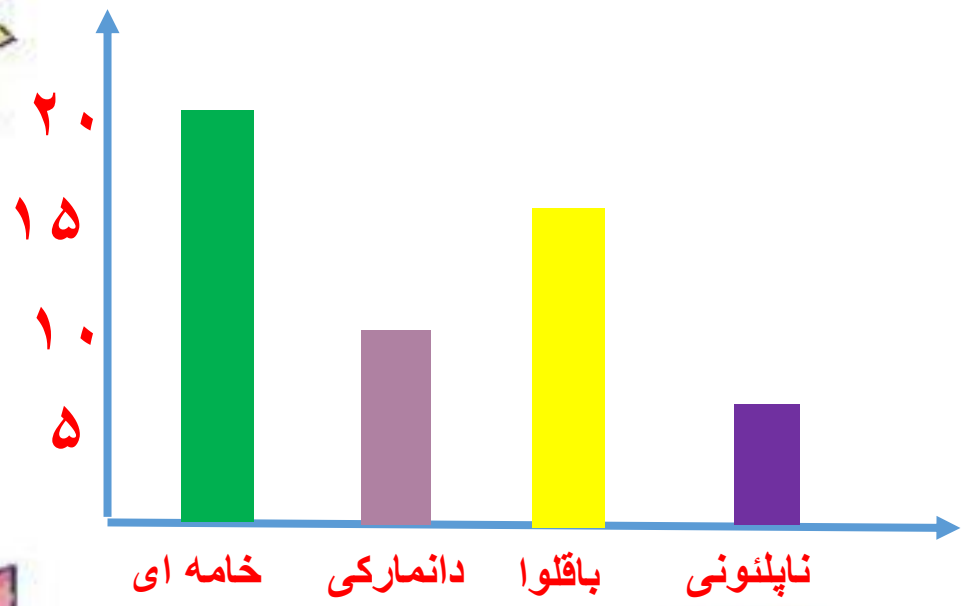
در کیسه ای که تعداد رنگ قرمز آن بیشتر باشد.



تعداد شیرینی‌های یک شیرینی فروشی به صورت زیر می‌باشد. برای مقایسه‌ی تعداد شیرینی‌ها شما چه نموداری را پیشنهاد می‌کنید؟ آن را رسم کنید.

نمودار ستونی

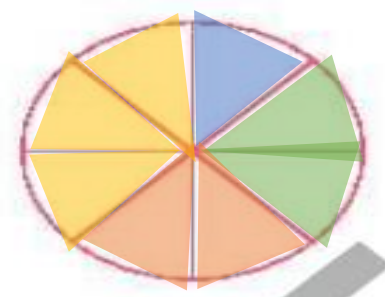
نوع شیرینی	تعداد
خامه‌ای	### ### ### ###
دانه‌مرکی	### ###
باقلوا	### ### ###
ناپلئونی	###



جمله	به طور حتم اتفاق می افتد	احتمال دارد اتفاق بیافتد	به طور حتم اتفاق نمی افتد
(۱) به دنیا آمدن یک انسان با ۷ پا	<input type="checkbox"/>	<input type="checkbox"/>	<input checked="" type="checkbox"/>
(۲) اگر شب دیر بخوابیم صبح دیر بیدار می شویم.	<input type="checkbox"/>	<input checked="" type="checkbox"/>	<input type="checkbox"/>
(۳) اگر باران ببارد زمین خیس می شود.	<input type="checkbox"/>	<input type="checkbox"/>	<input checked="" type="checkbox"/>
(۴) در شب هوا روشن باشد.	<input type="checkbox"/>	<input type="checkbox"/>	<input checked="" type="checkbox"/>
(۵) فردا خورشید طلوع نکند.	<input type="checkbox"/>	<input type="checkbox"/>	<input checked="" type="checkbox"/>

۶ جدول زیر تعداد درختان باغ پدر بزرگ سحر را نشان می دهد. با توجه به آن نمودارها را کامل کنید.

درخت	سیب	گلابی	گیلاس	انار
تعداد	۱۵	۱۰	۱۰	۵



با توجه به نموداری که رسم کردید کدام درختها به صورت مسلوی در باغ وجود دارد؟
گیلاس و گلابی

درستی و نادرستی هر عبارت را مشخص کنید.

الف) بچه قورباغه‌ها در خشکی زندگی می‌کنند.

ب) نوعی وزغ وجود دارد که پاهایش برآمدگی شبیه بیل کوچک دارد.

پ) بدن دلفین‌ها پولک ندارد.

۲ کدام گزینه عبارت زیر را به درستی کامل نمی‌کند؟

« ماهی‌ها »

۱) برخلاف دوزیستان بالغ، آبشش دارند.

۲) برخلاف نوزاد دوزیستان، از هوای محلول در آب استفاده می‌کنند.

۳) همانند دوزیستان در آب تخم‌گذاری می‌کنند.

۴) همانند نوزاد دوزیستان، دست و پا ندارند.



تفاوت‌ها و شباهت‌های کوسه و نهنگ را بیان کنید.



تفاوت : کوسه با آبشش تنفس می کند اما نهنگ با شش - کوسه جز ماهی ها اما نهنگ جز پستانداران است - کوسه تخم گذار

اما نهنگ بچه زا است . شباهت : هر دو مهره دار هستند و در آب زندگی می کنند و باله دارند .

پولک دو جانور زیر با هم چه فرقی دارد؟ چرا؟

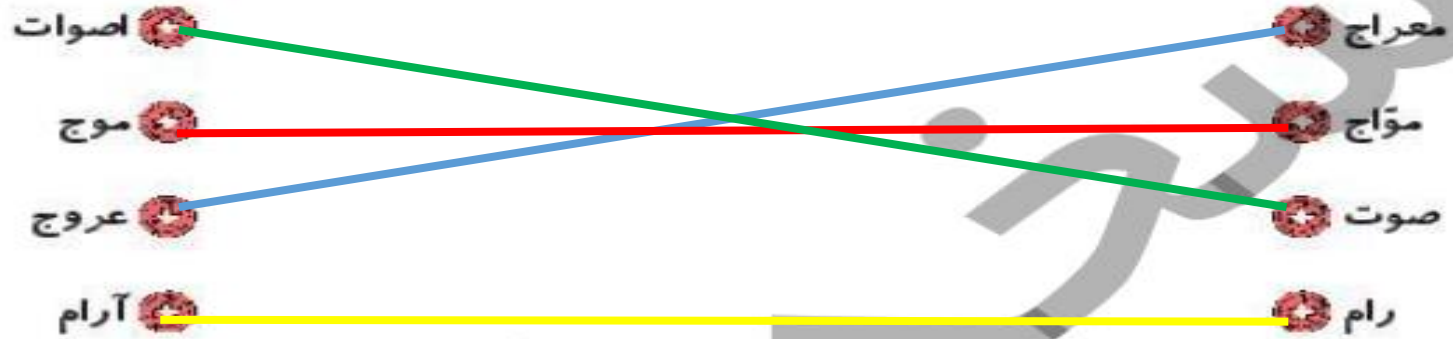


پولک بدن ماهی لیز و لغزنده است و باعث می شود آسان تر در

آب حرکت کند ولی پولک بدن مار سخت و زبر است .

فارسی

کلمات هم خانواده را به هم وصل کنید.



از میان کلمات زیر، کلمات غلط را پیدا کنید و صحیح آن را بنویسید.

« قوطه ، مثل ، عفق ، ذلال ، ساحل ، ماسه »

قوطه - افق - زلال - ماسه

کلمات زیر را به ترتیب حروف الفبا مرتب کنید.

« غوطه - افق - صورت - موج - مهربان - دلگشا - ساحل »



مطالعات اجتماعی

الف) کدام نهاد برای خانه‌ها نشانی تعیین می‌کند؟

شهرداری

ب) آیا تا به حال به پلاک‌های کوچه یا خیابان خود دقت کرده‌اید؟ این پلاک‌ها به چه ترتیبی کنار هم قرار می‌گیرند؟
بله - اعداد زوج در یک طرف و اعداد فرد در طرف دیگر کوچه است.



با توجه به تصویر، در جاهای خالی کلمه‌های مناسب بنویسید.

- الف) ترانه می‌تواند از مسیر **کوته‌تر** به میوه فروشی برود.
ب) ایستگاه پلیس در خیابان **جمهوری** قرار دارد.
پ) نانوایی در کنار کوچه‌ی **نسترن** قرار دارد.
ت) بقالی در تقاطع **خیابان لاله و خیابان شادی** قرار دارد.

الف) کدام گزینه نشانی دقیق خانه را نشان می‌دهد؟

۱) نام شهر - نام محله - شماره‌ی خانه

۲) نام شهر - نام محله - نام خیابان - نام کوچه - پلاک

۳) نام خیابان - نام کوچه - شماره‌ی خانه

۴) نام محله - نام کوچه - پلاک

ب) علت گم شدن یک فرد چه چیزی می‌تواند باشد؟ هنگام گم شدن به چه کسی مراجعه می‌کنیم؟

۱) نبودن بزرگ‌ترها - پستیچی

۲) بی‌نظمی - پلیس

۳) نداشتن خانه - مأمور شهرداری

۴) نداشتن آدرس - پلیس

هدیه‌های آسمان - قرآن

با توجه به فرمایش امام صادق (ع) ، چند مورد از نشانه‌های مؤمنان را نام ببرید.



راست گویی ، امانت داری ، وفاداری به عهد ، مهربانی با نیازمندان

امام جعفر صادق (ع)، فرزند امام محمد باقر (ع) است و در قبرستان **بقیع** ... به خاک سپرده شده است.



نام سه نفر از امامان را بنویسید که در قبرستان بقیع دفن شده‌اند.



امام جعفر صادق (ع) - امام محمد باقر (ع) - امام سجاد (ع)