



# ارمغان هفته - سوم دبستان

نام و نام خانوادگی: ..... تاریخ: ..... نام آموزگار: .....

ریاضی < فصل ۶: جمع و تفریق تکنیکی  
 علوم < درس ۱۱: بکارید و ببینید  
 فارسی < درس ۱۴ و ۱۵: نوبی سبب، حکایت خروس ایرانی قرآن < فصل ۳: انس با قرآن کریم (۱۱)  
 مطالعات اجتماعی < درس ۱۸: خانه‌ها با هم تفاوت دارند.  
 هدیه‌های آسمان < درس ۱۵: همسفر ناشناس

## ریاضی

۱ عبارت جمعی را که شکل زیر نشان می‌دهد در جدول ارزش مکانی بنویسید.

هزارگان	صدگان	دهگان	یکان
۳	۴	۵	۲
+	۲	۳	۳
۵	۷	۸	۵

۲ حاصل جمع و تفریق‌های زیر را بدست آورید.

$$\begin{array}{r} 4000 \\ + 1387 \\ \hline 5387 \end{array}$$

$$\begin{array}{r} 5491 \\ + 2502 \\ \hline 7993 \end{array}$$

$$\begin{array}{r} 3940 \\ + 1417 \\ \hline 5357 \end{array}$$

$$\begin{array}{r} 6630 \\ + 4050 \\ \hline 10680 \end{array}$$

۳ در جاهای خالی عدد مناسب بگذارید.

ه	ص	د	ی
۴	۴	۷	۱
+	۳	۱	۵
۵	۵	۸	۶

۴ در یک کارگاه صنایع دستی، یک هنرمند ۴۳۵۱ ظرف را رنگ کرده است. اگر ۲۵۶۰ تای آن‌ها مربوط به ماه گذشته باشند او در این ماه چند ظرف رنگ کرده است؟

$$\begin{array}{r} 4351 \\ - 2560 \\ \hline 1791 \end{array}$$

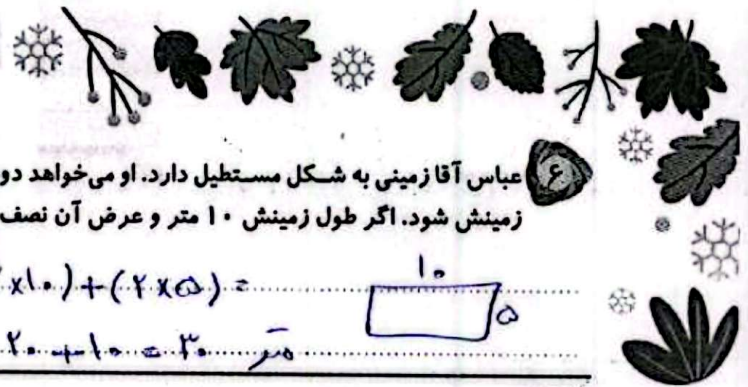
در این ماه ۱۷۹۱ ظرف رنگ کرده است.

۵ از دریاچه‌ای ۳۱۰۹ ماهی قزل‌آلا و ۲۳۴۵ ماهی کفال و ۹۰۸ ماهی کپور صید شده است. چند ماهی از این دریاچه صید شده است؟

$$\begin{array}{r} 3109 \\ + 2345 \\ + 908 \\ \hline 6362 \end{array}$$

۶۳۶۲ ماهی از این دریاچه صید شده است.



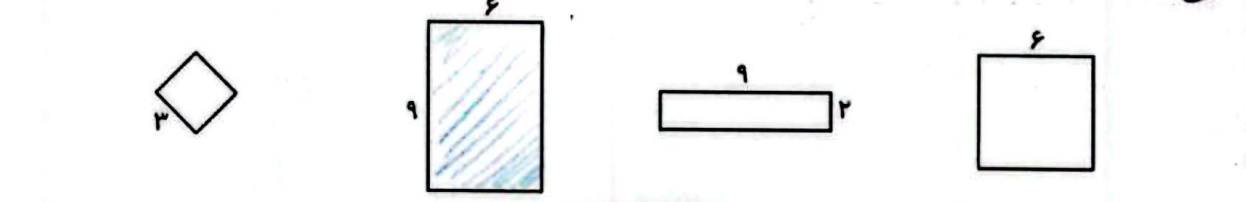


عباس آقا زمینی به شکل مستطیل دارد. او می خواهد دور تا دور زمینش را با سیم خاردار ببندد تا کسی نتواند بدون اجازه وارد زمینش شود. اگر طول زمینش ۱۰ متر و عرض آن نصف طولش باشد، او چند متر سیم خاردار باید تهیه کند؟

محیط زمین  $= (2 \times 10) + (2 \times 5) = 30$  متر

عرض زمین  $10 \div 2 = 5$

عبارت روبه رو مربوط به محیط کدام شکل است؟ آن را رنگ بزنید.



**علوم**

با توجه به ریشه گیاه، گل و برگ مناسب برای این گیاه را انتخاب کرده و بچسبانید.



جدول زیر را کامل کنید.

نام گیاه	دانه	ریشه	ساقه	برگ	گل
کدو	دو قسمتی	راست	نازک توپر	پهن	۴ یا ۵ و مضرب های آن
لوبیا	دو قسمتی	راست	نازک توپر	پهن	۴ یا ۵ و مضرب های آن
بادمجان	یک قسمتی	افشان	نازک توخالی	باریک و دراز	۳ یا ۶ و مضرب های آن
گندم	یک قسمتی	افشان	نازک توخالی	باریک و دراز	۳ یا ۶ و مضرب های آن


تصویر زیر را با دقت نگاه کنید.



- الف) نام گیاه چیست؟ ... درخت سرو
- ب) نوع برگ آن چگونه است؟ ... سوزنی شکل
- پ) نوع میوه آن چگونه است؟ ... مخروط
- ت) نوع دانه آن چگونه است؟ ... دانه های بالدار
- ث) یک گیاه دیگر مانند آن نام ببرید. ... کاج

۲





۴ من چیستم؟

الف) گیاهی هستم که از پرچم من برای معطر کردند غذا استفاده می‌شود. **زعفران**

ب) گیاهی هستم که برگ‌های باریک و درازی دارم ولی ساقه‌ی چوبی کلفتی دارم. **درخت زیتون**

پ) گیاهی هستم با دانه‌ی تک قسمتی که روغن من هم طرفدار زیادی دارد. **کنجد**

ت) گیاهی هستم با گل زرد بزرگ که دانه‌ی من درون گلم می‌باشد و مصرف خوراکی دارد. **آفتابگردان**

**فارسی**

۱ با توجه به متن درس دایره‌ی آباد، کلماتی که نشانه‌های زیر را دارند را بنویسید.

فـ ض	ط	ظ	ث
موضوع -	طرف - مناطق - وطن مصطفی - طول	تظ - عطف - وظیفه	بث - باعد

۲ هدف فرماندهی ایرانی از آوردن خروس در حکایت خروس ایرانی، چه بود؟

تسبیح سرمازنی ایرانی به خروس... نشان داد که سرمازانش از خروسی غیر قابل تصور و خوردنی‌تر

۳ با توجه به متن «بوی سیب و یاس» به سؤالات زیر پاسخ کوتاه دهید.

الف) پدر بزرگ امید در آزادسازی کدام یک از شهرهای ایران دلاورانه جنگیده بود؟ **خرمشهر**

ب) روز آزادسازی «خرمشهر» چه روزی است؟ **روزی است که دشمن از ما نیست خورد**

پ) تصویر تابلویی که روی میز سر کوچه قرار داشت، چه بود؟ **سجده خرمشهر**

ت) نام کوچه در داستان «بوی سیب» چه بود؟ **کوچه شهید رجایی**

ث) نویسنده‌ی داستان «بوی سیب و یاس» چه کسی است؟ **مهران، بابا عمربزرگ**

۴ درس چهاردهم را با دقت بخوانید و واژه‌های خواسته شده را پیدا کرده و بنویسید.

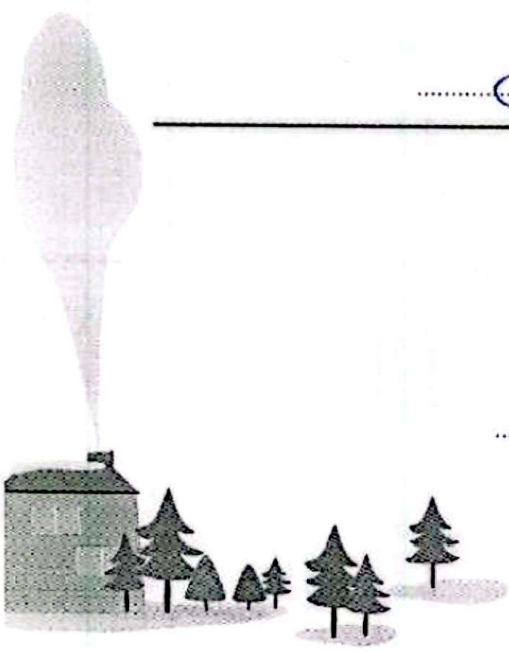
الف) دو کلمه‌ی جمع: **ساقون** و **ایرانیان**

ب) دو کلمه که در آخر دانه دارند: **دلاوران** و **سقا جانان**

پ) دو کلمه که در آخر دگی دارند: **همسنگی** و **زردگی**

ت) سه کلمه که ابتدای آن‌ها هم دارد: **همسنگی** و **همساری** و **همسری**

۳



### مطالعات اجتماعی

- ۱) درستی  و نادرستی  هر عبارت را مشخص کنید.
- الف) زهرا هنگام خروج از کلاس چند تکه زباله‌ای که دوستش جا گذاشته بود را در سطل زباله انداخت.
- ب) علی به دوستش که مریض شده بود و چند روز به مدرسه نیامده بود برای یادگیری بهتر دروس کمک نکرد.
- پ) بچه‌های کلاس به کمک یکدیگر کلاس را تمیز نگه می‌دارند.

۲) الف) کدام یک از بخش‌های مدرسه‌ی خود را دوست دارید؟

پروفه و حیاط

ب) آیا دوست دارید در آینده شغلی در مدرسه داشته باشید؟ به چه دلیل؟

بله. منم معلم تا امروز منم تدریس کنم و در آینده منم تدریس کنم معلم باشم

۳) جاهای خالی را با دقت کامل کنید.

الف) مدرسه خانه‌ی ..... دوم ..... ما است.

ب) مدرسه جای خواندن قرآن و نماز و آموختن علم است.

پ) کارکنان مدرسه با هم همکاری می‌کنند تا دانش‌آموزان درس بخوانند.

### هدیه‌های آسمان - قرآن

۱) به چه دلیل امام سجاد (ع) به «زین العابدین» معروف شده است؟





چون بسیار عدالت می‌کرد و زینت عمارت کعبه‌الکعبة بود.






۲) آرامگاه امام سجاد (ع) در کدام شهر و کدام قبرستان قرار دارد؟

در شهر مدینه در قبرستان بقیع

۳) یک دعا از امام سجاد (ع) که در صحیفه‌ی سجادیه آمده است را بنویسید.

خدا یا کسب کن تا به مردم خدمت کنم

	◀ درک مطلب
	◀ واژه‌شناسی
	◀ مکان‌های مختلف و قوانین مدرسه
	◀ آشنایی با امام چهارم

	◀ جمع و تفریق تکنیکی
	◀ مسائل جمع و تفریق
	◀ محیط مستطیل
	◀ دست‌بندی گیاهان از نظر ریشه، دانه، برگ، ساقه و گل
	◀ گیاهان مخروط‌دار

شناختن‌ها

- میله خوب
- خوب
- قائل قبول
- نیاز به قاشق بیشتر