

# ارمغان هفته - سوم دبستان

شماره‌ی

۲۸

نام و نام خانوادگی: ..... تاریخ: ..... نام آموزگار: .....

ریاضی < فصل ۷: جدول داده‌ها، نمودارهای آماری و احتمال مطالعات اجتماعی < درس ۲۰: خانه شما کجاست؟  
 علوم < درس ۱۲ و ۱۳: هر کدام جای خود (۱) و (۲) هدیه‌های آسمان < درس ۱۷: خواب شیرین  
 فارسی < درس ۱۵ و ۱۶: دریا - اگر جنگل نباشد. قرآن < انس با قرآن کریم (۱۲)

## ریاضی

۱ در یک کیسه ۷ مهره‌ی آبی و ۵ مهره‌ی قرمز وجود دارد؟

(الف) چه کسری از مهره‌ها آبی هستند؟

(ب) چه کسری از مهره‌ها قرمز هستند؟

(پ) احتمال بیرون آمدن کدام رنگ با چشم بسته بیش تر است؟

۲ جدول زیر مربوط به داده‌های یک گل‌فروشی می‌باشد. صاحب مغازه تعداد گل‌هایی را که در یک هفته فروخته است را در این جدول یادداشت کرده است.

نوع گل	مریم	یاس	ارکیده	رز
تعداد	۲۰	۱۰	۲۰	۴۰

(الف) چه کسری از گل‌های فروخته شده مریم می‌باشد؟

(ب) کدام گل‌ها بیش‌تر فروخته شده‌اند؟

(پ) نمودار دایره‌ای داده‌های این مسئله را رسم کنید.

۳ در کدام کیسه احتمال خارج شدن رنگ قرمز بیش‌تر است؟ دلیل انتخاب خود را بنویسید.



۴ تعداد شیرینی‌های یک شیرینی‌فروشی به صورت زیر می‌باشد. برای مقایسه‌ی تعداد شیرینی‌ها شما چه نموداری را پیشنهاد می‌کنید؟ آن را رسم کنید.

نوع شیرینی	تعداد
خله‌ای	### ### ### ###
دانه‌رکی	### ###
باقلا	### ### ###
ناپلثونی	###

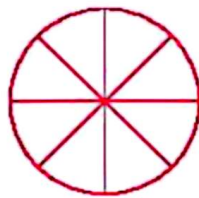



۵ جواب درست را با  مشخص کنید.

جمله	به طور حتم اتفاق می افتد	احتمال دارد اتفاق بیافتد	به طور حتم اتفاق نمی افتد
(۱) به دنیا آمدن یک انسان با ۷ پا	<input type="checkbox"/>	<input type="checkbox"/>	<input type="checkbox"/>
(۲) اگر شب دیر بخوابیم صبح دیر بیدار می شویم.	<input type="checkbox"/>	<input type="checkbox"/>	<input type="checkbox"/>
(۳) اگر باران ببارد زمین خیس می شود.	<input type="checkbox"/>	<input type="checkbox"/>	<input type="checkbox"/>
(۴) در شب هوا روشن باشد.	<input type="checkbox"/>	<input type="checkbox"/>	<input type="checkbox"/>
(۵) فردا خورشید طلوع نکند.	<input type="checkbox"/>	<input type="checkbox"/>	<input type="checkbox"/>

۶ جدول زیر تعداد درختان باغ پدر بزرگ سحر را نشان می دهد. با توجه به آن نمودارها را کامل کنید.

درخت	سیب	گلابی	گیلاس	انار
تعداد	۱۵	۱۰	۱۰	۵



با توجه به نموداری که رسم کردید کدام درختها به صورت مسلوی در باغ وجود دارد؟

### علوم

۱ درستی  و نادرستی  هر عبارت را مشخص کنید.

- (الف) بچه قورباغهها در خشکی زندگی می کنند.
- (ب) نوعی وزغ وجود دارد که پاهایش برآمدگی شیشه بیل کوچک دارد.
- (پ) بدن دلفینها پولک ندارد.

۲ کدام گزینه عبارت زیر را به درستی کامل نمی کند؟

ماهیها

- (۱) برخلاف دوزیستان بالغ آبشش دارند.
- (۲) برخلاف نوزاد دوزیستان از هوای محلول در آب استفاده می کنند.
- (۳) همانند دوزیستان در آب تخم گذاری می کنند.
- (۴) همانند نوزاد دوزیستان دست و پا ندارند.

تفاوت‌ها و شباهت‌های کوسه و نهنگ را بیان کنید.



.....  
.....

پولک دو جانور زیر با هم چه فرقی دارد؟ چرا؟



**فارسی**

کلمات هم خانواده را به هم وصل کنید.



- اصوات
- موج
- عروج
- آرام
- معراج
- مواج
- صوت
- رام

از میان کلمات زیر، کلمات غلط را پیدا کنید و صحیح آن را بنویسید.




قوطة ، مثل ، عقق ، ذلال ، ساحل ، ماصه ،

.....

کلمات زیر را به ترتیب حروف الفبا مرتب کنید.



غوظه - لفق - صورت - موج - مهربان - دل‌گشا - ساحل،



**مطالعات اجتماعی**

الف) کدام نهاد برای خانه‌ها نشانی تعیین می‌کند؟

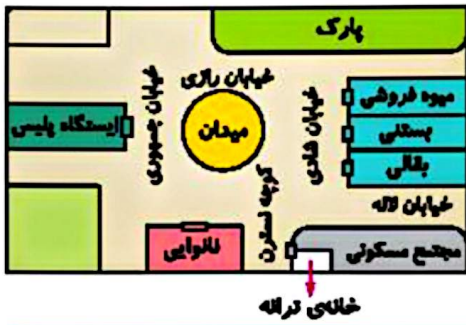


.....

ب) آیا تا به حال به پلاک‌های کوچه یا خیابان خود دقت کرده‌اید؟ این پلاک‌ها به چه ترتیبی کنار هم قرار می‌گیرند؟

.....





با توجه به تصویر، در جاهای خالی کلمه‌های مناسب بنویسید.

- (الف) ترانه می‌تواند از مسیر ..... به میوه فروشی برود.  
 (ب) ایستگاه پلیس در خیابان ..... قرار دارد.  
 (پ) نانوایی در کنار کوچه‌ی ..... قرار دارد.  
 (ت) بقالی در تقاطع ..... و ..... قرار دارد.

(الف) کدام گزینه نشانی دقیق خانه را نشان می‌دهد؟

- (۱) نام شهر - نام محله - شماره‌ی خانه  
 (۲) نام شهر - نام محله - نام خیابان - نام کوچه - پلاک  
 (۳) نام خیابان - نام کوچه - شماره‌ی خانه  
 (ب) علت گم شدن یک فرد چه چیزی می‌تواند باشد؟ هنگام گم شدن به چه کسی مراجعه می‌کنیم؟  
 (۱) نبودن بزرگ‌ترها - پستیچی  
 (۲) بی‌نظمی - پلیس  
 (۳) نداشتن خانه - مأمور شهرداری  
 (۴) نداشتن آدرس - پلیس

### هدیه‌های آسمان - قرآن

با توجه به فرمایش امام صادق (ع)، چند مورد از نشانه‌های مؤمنان را نام ببرید.

(۲) امام جعفر صادق (ع)، فرزند امام (ع) است و در قبرستان ..... به خاک سپرده شده است.

(۳) نام سه نفر از امامان را بنویسید که در قبرستان بقیع دفن شده‌اند.

ترتیب حروف الفبا  
 آشنایی با آدرس و نشانی  
 تشخیص نشانی از روی نقشه  
 آشنایی با امام ششم

جدول داده‌ها و نمودارهای آماری  
 احتمال  
 شناخت جانوران مهره‌دار (دورستان، ماهی‌ها، خزندگان، پستانداران)  
 کلمات هم‌خانواده

شاخص‌ها  
 خیلی خوب  
 خوب  
 قابل قبول  
 نیاز به تلاش بیشتر

