

تومان

برای خرید همه‌ی وسایل زیر چند تومان باید داشته باشیم $۳۵۴ + ۶۷۰ + ۲۸۰ + ۲۹۵ + ۱۷۰ = ۱۷۶۹$

ریال ۳۵۴۰	ریال ۶۷۰۰	ریال ۲۸۰۰	ریال ۲۹۵۰	ریال ۱۷۰۰

۳۵۴ تومان

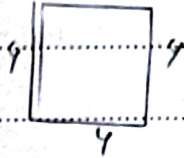
۶۷۰ تومان

۲۸۰ تومان

۲۹۵ تومان

۱۷۰ تومان

محیط مربعی که مجموع دو ضلع آن ۱۲ سانتی‌متر باشد چند میلی‌متر است؟



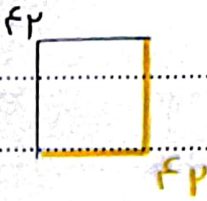
$$۱۲ \div ۲ = ۶$$

$$۴ \times ۶ = ۲۴ \text{ (cm)}$$

محیط = ۲۴ میلی‌متر

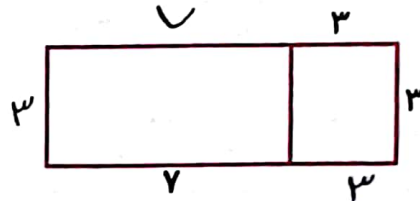

سانتی‌متر

مجموع طول و عرض مستطیلی ۴۲ سانتی‌متر است. محیط این مستطیل چند سانتی‌متر است؟



$$محیط = (۲ \times ۴۲) = ۸۴$$

محیط مستطیل‌های زیر را به دست بیاور.



$$محیط = (۲ \times ۴) + (۲ \times ۸) = ۲۴$$

$$محیط = (۲ \times ۱۰) + (۲ \times ۳) = ۲۶$$

$$محیط = (۴ \times ۳) + (۲ \times ۷) = ۲۶$$

صاحب یک فروشگاه ۱۴۵۳ مداد سیاه و ۲۵۶۱ مداد قرمز فروخته است. او روی هم چند مداد فروخته است؟

۴۹۱۴ (۴)

۴۰۱۴ (۳)

۴۰۱۵ (۲)

۴۰۴۰ (۱)

$$\begin{array}{r} ۱۱ \\ + ۲۵۶۱ \\ ۱۴۵۳ \\ \hline ۴۰۱۴ \end{array}$$

خودارزیابی

خیلی خوب خوب قابل قبول نیاز به تلاش

<input type="radio"/>	<input type="radio"/>	<input type="radio"/>	<input type="radio"/>
<input type="radio"/>	<input type="radio"/>	<input type="radio"/>	<input type="radio"/>
<input type="radio"/>	<input type="radio"/>	<input type="radio"/>	<input type="radio"/>
<input type="radio"/>	<input type="radio"/>	<input type="radio"/>	<input type="radio"/>

تولنایی محاسبه جمع‌های چهاررقمی با جدول ارزش مکانی

تولنایی محاسبه جمع‌های چهاررقمی با شکل

تولنایی محاسبه جمع‌های مختلف با روش تکنیکی

تولنایی تشخیص مسائل مربوط به جمع و حل آن‌ها