



ارمغان هفته - سوم دبستان

نام و نام خانوادگی: تاریخ: نام آموزگار:

مطالعات اجتماعی < نوروژ
هدیه‌های آسمان < نوروژ
قرآن < نوروژ

ریاضی < نوروژ
علوم < نوروژ
فارسی < نوروژ

ریاضی

$7 \times 8 = 56 \Rightarrow 8, 16, 24, 32, 40, 48, 56$

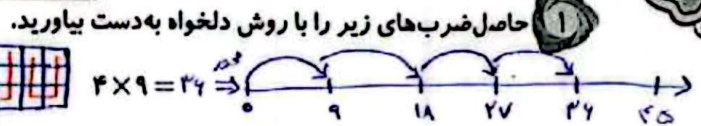
$4 \times 5 = 20 \Rightarrow$

$7 \times 8 =$

$7 \times 5 =$

$3 \times 6 = 18$

$8 \times 8 = 64 \Rightarrow 8, 16, 24, 32, 40, 48, 56, 64$ $5 \times 4 = 20 \Rightarrow 4+4+4+4+4=20$



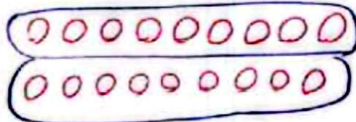
حاصل جمع و تفریق‌های زیر را از راه گسترده‌نویسی (فرآیندی) به دست آورید.

$$\begin{array}{r} 3490 \\ + 1678 \\ \hline 5168 \\ + 5090 \\ \hline 10258 \\ + 5170 \\ \hline 15428 \end{array}$$

$$\begin{array}{r} 5438 \\ - 2362 \\ \hline 3076 \\ - 344 \\ \hline 2732 \\ - 3078 \\ \hline -346 \end{array}$$

برای تقسیم زیر شکل بکشید و یک مسئله برای آن بنویسید.

$18 \div 9 = 2$



سارا هر روز ۷ صفحه از کتاب داستان را

می‌خواند. او ۱۴ صفحه از کتاب را چند روز می‌تواند بخواند؟

محیط و مساحت شکل زیر را به دست آورید.



مساحت = $2+2+8+4+4+4 = 28$

مساحت ① = $2 \times 2 = 4$

مساحت ② = $4 \times 4 = 16$

مساحت کل = $4 + 16 = 20$

تمام اعداد سه رقمی با صدگان ۷ و یکانی که ۳ واحد از دهگان بیش‌تر باشد را بنویسید.

- ۷۰۳ - ۷۱۴ - ۷۲۵ - ۷۳۶ - ۷۴۷ - ۷۵۸ - ۷۶۹

صدگان	دهگان	یکان
✓	۰	۳
✓	۱	۴
✓	۲	۵
✓	۳	۶
✓	۴	۷
✓	۵	۸
✓	۶	۹



۶ ماجرای خرید عزیز خانم:

روز شنبه عزیز خانم برای خرید مهمانی سال نو به مغازه‌ی سبزی فروشی رفت. او ۲ کیلوگرم سبزی آش و ۵ کیلوگرم سبزی پلو خرید. بعد به مغازه‌ی عطاری رفت و در آن جا ۵۰۰ گرم زردچوبه و ۱ کیلوگرم نمک و ۲۰۰ گرم خاکشیر خرید. پس از آن به بقالی رفت. او یک قوطی رب ۱ کیلوگرمی و ۴۵۰ گرم روغن جامد خرید. عزیز خانم بعد از ظهر به مغازه‌ی طلا فروشی رفت و یک جفت گوشواره به وزن ۳ گرم برای عیدی نوه‌اش خرید. با توجه به داستان به پرسش‌ها پاسخ دهید.

الف) عزیز خانم چند کیلوگرم سبزی خریده است؟

۷ کیلوگرم = ۲ کیلوگرم + ۵ کیلوگرم : سبزی فروش

ب) خرید صبح عزیز خانم از کدام مغازه سبک‌تر بوده است؟

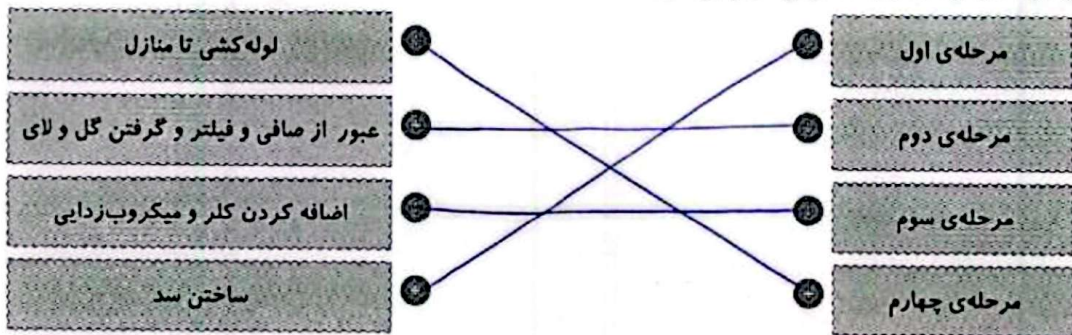
مغازه طلا فروشی که ۳ گرم طلا خریده است.

پ) عزیز خانم در مغازه‌ی عطاری چند گرم خرید کرده است؟

۱۷۰۰ گرم خرید کرده است. $۱۰۰۰ + ۵۰۰ + ۲۰۰ = ۱۷۰۰$ گرم

علوم


۱ مراحل تصفیه‌ی آب را به شماره‌ی آن وصل کنید.



۲ در این تعطیلات یک روز به پارک بازی بروید و لیستی از اهرم‌هایی که آن جا می‌بینید تهیه کنید.

الاکلنگ - جارو - یا نزول - دستاه مسگری - دستاه نام زن (هوانورد)



حالا تصویر یکی از وسایل لیست خود را کشیده و محل جسم، نیرو و تکیه‌گاه را روی آن مشخص کنید.



آیا می‌توانید با پدرتان الاکلنگ بازی کنید؟ یک پیشنهاد برای این موضوع بدهید.

بله. هرگاه در دو طرف اهرم در جسم با هم هم‌نام و هم‌ساز باشند. هرگز این را برای ایجاد تعادل باید جسم سبک‌تر

بر تکیه‌گاه نزدیک تر شود. بنابراین باید نزدیک تکیه‌گاه بنشیند تا بتوانیم تعادل برقرار کنیم.



اطلاعات زیر را درباره‌ی نوع اجزای گیاه زیر کامل کنید.

- ریشه: *ریشه*
 ساقه: *ساقه*
 برگ: *برگ*
 دانه: *دانه*

فارسی

شعر زیر را کامل کنید.

گفتم به گوش باغ آن باغ زیبا گفت:
 این نقش‌ها از کیست؟ *نقش این دنیا*
 پیراهت استاد است *تو خداوندی هست*
 نقاشی اش عالی است! *آن خالق است*

جملات زیر را با فعل‌های مناسب کامل کنید (یک فعل اضافی است).

خورد ، بوئید ، شنید ، خواند ، رفت ، دوید ،


- الف) مریم گل را *بوید*
 ب) رضا به ملاقات دوستش *رفت*
 پ) نرگس قلمه را برای خواهرش *خواند*
- ت) پدر بزرگ صدای اذان مسجد را *شنید*
 ث) علی یک بستنی قیفی *خورد*

به هر کدام از کلمه‌های زیر، کلمه‌ای اضافه کنید و عبارت را در جمله‌ای به کار ببرید.

تاریخ *تولد* تاریخ تولد هر کس در *کتابخانه* نوشته شده است
 کوره‌ی آجرپزی : *مراحل ساخت آجر ، در کوره‌ی آجرپزی صورت می‌گیرد*
 پرندگان *با سرد شدن هوا ، پرنده‌ها مهاجر به مناطق جنوبی آب و هوا مهاجرت می‌کنند*

بیاید با هم اسم فامیل بازی کنیم. جدول زیر را کامل کنید.

حرف	اسم	فامیل	شهر	میوه	رنگ
س	سارا	سلیمانی	ساری	سیب	سبز
م	مریم	محسنی	مازندران	موز	مشکی



مطالعات اجتماعی

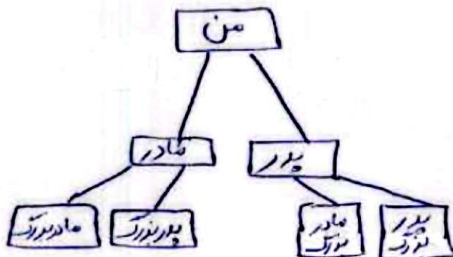
۱ الف) در شهر شما معمولاً خانه‌ها به چه شکلی هستند؟

آب و برق ... به دلیل جمعیت زیاد

ب) اگر در ایام عید به سفر رفته‌اید خانه‌ها در آن شهرها چه شکلی داشتند؟

به شمال رفته بودیم و خانه‌ها بسیار وسیع و بزرگ (به دلیل بارش فراوان) بودند

۲ شجره‌نامه‌ی خانوادگی خود را بکشید.



هدیه‌های آسمان - قرآن

۱ موارد مرتبط را به یکدیگر وصل کنید. (دو مورد اضافی است).

- شعبان
- قرآن
- حضرت زینب (س)
- رمضان
- حضرت فاطمه (س)
- خداوند در آن راه و رسم زندگی را به ما نشان داده است.
- در این ماه خدا بیش‌تر از ماه‌های دیگر به بندگانش پاداش می‌دهد.
- او همسر حضرت علی (ع) است.

۲ درستی و نادرستی هر عبارت را مشخص کنید.

- الف) روز مادر، روز میلاد حضرت زهرا (س) است.
- ب) جشن تکلیف، عید عبادت است.
- پ) در عید نوروز، نماز عید می‌خوانیم.

	اهرم و کاربرد آن
	شناخت فعل
	کلمات ترکیبی
	واژه‌شناسی
	انواع خانه‌ها
	شجره‌نامه
	آشنایی با اسلام و ائمه‌ی اطهار

	روش‌های ضرب
	جمع و تفریق فرآیندی
	مسئله‌ی تقسیم
	محیط و مساحت
	راهبرد مسئله
	مراحل تصفیه آب
	دسته‌بندی گیاهان

شاخص‌ها

- عینی حذب
- حذب
- قابل قبول
- نیاز به تلاش بیش‌تر