

ب) اگر در عملیات ریاضی کمانک وجود نداشت، ابتدا قسمت مربوط به ضرب و تقسیم و سپس جمع و تفریق حل می‌گردد.

مثال:

$$\frac{3 \times 5 - 6 = 15 - 6 = 9}{15}$$


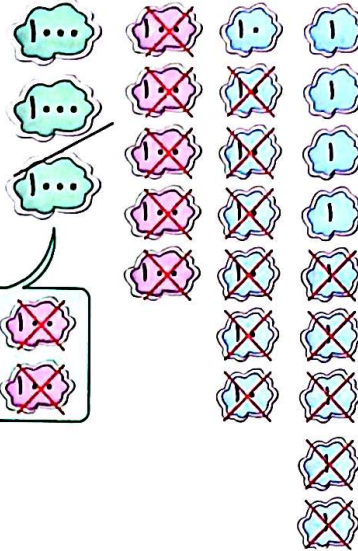
$$24 - \frac{3 \times 5 + 6 \div 2}{15} = 24 - 15 + 3 = 12$$

## فعالیت کلاسی



تفریق مربوط به شکل زیر را داخل جدول ارزش مکانی بنویس و حاصل را به دست بیاور.

ه	ص	د	ی
۳	۵	۷	۹
۰	۹	۶	۵
۲	۲	۱	۳



۲) اگر ۷۴۶۵ ریال پول داشته باشی و ۲۳۴۳ ریال از پول‌هایت را خرج کرده باشی، چقدر برایت باقی مانده؟

$$\begin{array}{r} 7465 \\ - 2343 \\ \hline 5122 \end{array}$$

ریال ۵۱۲۲

$$\begin{array}{r} 16 \\ 2415 \\ 4378 \\ - 1296 \\ \hline 3079 \end{array}$$



$$\begin{array}{r} 14 \\ 8411 \\ 8952 \\ - 2379 \\ \hline 6032 \end{array}$$

$$\begin{array}{r} 2 \\ 503 \\ - 1026 \\ \hline 4004 \end{array}$$



$$\begin{array}{r} 9 \\ 1243 \\ 1757 \\ - 1243 \\ \hline 1757 \end{array}$$



$$\begin{array}{r} 9 \\ 2721 \\ 3279 \\ - 2721 \\ \hline 3279 \end{array}$$



$$200 - 4 = 196$$

۴) به چه عددی ۲۵ واحد اضافه کنی تا حاصل ۴ واحد از عدد ۲۰۰ کم‌تر شود؟

۱۷۱

$$171 + 25 = 196$$

$$\begin{array}{r} 196 \\ - 25 \\ \hline 171 \end{array}$$

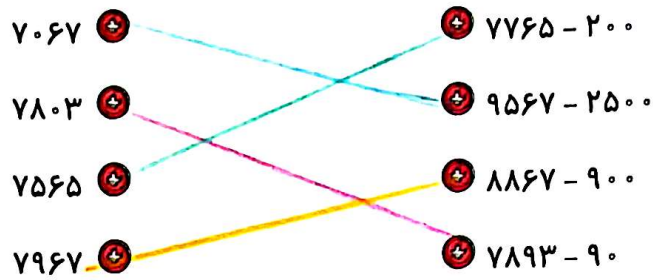


ریاضی سوم دبستان



تمرین

۱ حاصل تفریق‌های زیر را به طور ذهنی محاسبه و به عدد مربوطه وصل کن.



۲ درستی  و نادرستی  هر عبارت را مشخص کن.

الف: الویت محاسبه عملیات ریاضی اعداد را اول برانتر است.

ب: حاصل تفریق ۵۱۲۳ از ۴۵۶۷ می‌شود ۴۴۴.

۳ اختلاف بیش‌ترین و کم‌ترین عدد چهاررقمی چقدر است؟

ب = ۹۹۹۹  
 ک = ۱۰۰۰

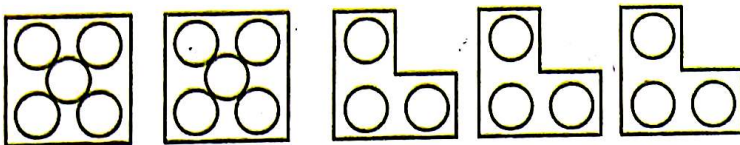
$$\begin{array}{r} 9999 \\ - 1000 \\ \hline 8999 \end{array}$$

۴ حاصل تفریق‌های زیر را بنویس.

$$\begin{array}{r} 514 \\ 8466 \\ - 7246 \\ \hline 1218 \end{array}$$

$$\begin{array}{r} 13 \\ 5313 \\ 6669 \\ - 3782 \\ \hline 2657 \end{array}$$

۵ برای شکل‌های زیر عبارت مناسب بنویس.



$$((2 \times 5) + (3 \times 3)) = 10 + 9 = 19$$

۶ درجاهای خالی اعداد مناسب بگذار.

ه	ص	د	ی
۳	۵	۶	۷
-۲	۳	-۳	-۴
-۱	۲	۳	۳

ه	ص	د	ی
-۳	۵	۸	-۶
+۲	-۲	-۵	۲
۵	۸	۳	۸