

پاسخ نامه ی

ارمغان



ارمغان هفته - سوم دبستان

شماره ی

۳۱

نام و نام خانوادگی: تاریخ: نام آموزگار:

ریاضی < فصل ۸: تقسیم با باقی مانده و محیط اشکال هندسی مطالعات اجتماعی < درس ۲۳: ایمنی در کوچه و خیابان
علوم < درس ۱۴: از گذشته تا آینده
فارسی < درس ۱۷: چشم‌های آسمان
هدیه‌های آسمان < درس ۲۰: باغ همیشه بهار
قرآن < انس با قرآن کریم

ریاضی

تقسیم‌های زیر را حل کنید.

$$\begin{array}{r} 59 \overline{) 7} \\ - 56 \\ \hline 3 \end{array}$$

$$\begin{array}{r} 66 \overline{) 9} \\ - 63 \\ \hline 3 \end{array}$$

باقی مانده‌ی کدام یک از تقسیم‌های زیر صفر می‌باشد؟

$$\begin{array}{r} 45 \overline{) 9} \\ - 45 \\ \hline 5 \end{array}$$

$$\begin{array}{r} 37 \overline{) 6} \\ - 36 \\ \hline 1 \end{array}$$

$$\begin{array}{r} 51 \overline{) 8} \\ - 48 \\ \hline 3 \end{array}$$

$$\begin{array}{r} 42 \overline{) 7} \\ - 42 \\ \hline 0 \end{array}$$



می خواهیم ۷ کیسه ی ۱۲ کیلویی برنج را بین ۹ خانواده به طور مساوی تقسیم کنیم. به هر خانواده چند کیلو برنج می رسد و چقدر

برنج باقی می ماند؟

$$\begin{array}{r} \times 12 \\ 7 \\ \hline + 70 \\ 14 \\ \hline 84 \end{array}$$

$$\begin{array}{r} 84 \overline{) 9} \\ 81 \\ \hline 3 \end{array}$$

به هر خانواده ۹ کیلو برنج می رسد .
۳ کیلو برنج باقی می ماند .



جدول زیر را کامل کنید.

| ضلع | ۷ | ۴۰ | ۱۲ | ۹۰ |
|-------------|-------------------|---------------------|--------------------|---------------------|
| محیط مربع | $7 \times 4 = 28$ | $40 \times 4 = 160$ | $12 \times 4 = 48$ | $90 \times 4 = 360$ |
| محیط مثلث | $7 \times 3 = 21$ | $40 \times 3 = 120$ | $12 \times 3 = 36$ | $90 \times 3 = 270$ |
| محیط ۶ ضلعی | $7 \times 6 = 42$ | $40 \times 6 = 240$ | $12 \times 6 = 72$ | $90 \times 6 = 540$ |

۱ موارد مرتبط را به یکدیگر وصل کنید.



- | | |
|--|--------------|
| با تبخیر آب، امکان رشد میکروب کم تر می شود. | خشک کردن |
| در دملهای بسیار پایین فعالیت میکروبها کم می شود. | کنسرو کردن |
| در محیطهای شور، امکان فاسد شدن مادهی غذایی کم می شود. | انجماد |
| در این روش هوا نمی تواند وارد محیط شود و امکان فاسد شدن غذا کم می شود. | نمک دار کردن |

۲ کدام گزینه درست است؟



۱) بهتر است مواد غذایی را در دمای معمولی نگه داشت.

۲) هرچه دمای محیط نگه داری مواد غذایی کم تر باشد، بهتر است.


۳) شور کردن روشی برای نگهداری حبوبات و برنج است.

۴) محلول غلیظ شکر نمی تواند مانع فاسد شدن مواد غذایی شود.

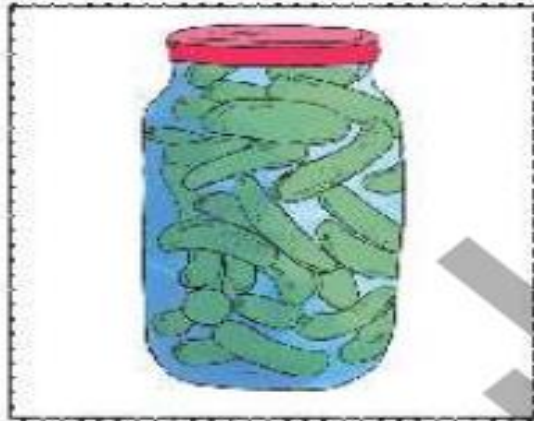
- ۳ الف) یک راه نگهداری طولانی مدت خیار چیست؟ شور کردن یا نمک زدن
خشک کردن - منجمد کردن
- ب) دو راه نگهداری طولانی مدت نان چیست؟



۴ در زمان قدیم برای نگهداری گوشت از کدام روش‌ها استفاده می‌شده است؟



۵ ماده‌ی نگهدارنده در تهیه‌ی هریک از مواد غذایی زیر چیست؟



نمک



شکر



سرکه

۶ دو روش نگهداری طولانی مدت شیر که با گرما دادن است چه نام دارند؟

پاستوریزه کردن - استرلیزه کردن

با استفاده از کلمات در هم ریخته‌ی زیر، جمله را کامل کنید.

«زور - خانه‌ی - می‌خواهی - مرد - به - بگیری؟ - را - این»

چرا می‌خواهی به زور، خانه‌ی این مرد را بگیری؟

جاهای خالی را کامل کنید.

که مرا شوق درس خواندن داد

حمد بر کردگار یکتا باد

داد توفیق خیرم از هر باب

آشنا کرد چشم من به کتاب

در دل من محبت استاد

در سر من هوای درس نهاد

با توجه به کلمه‌های داده شده، جمله را بازنویسی کنید.

«ما به دانشمندان ایرانی، افتخار می‌کنیم.»

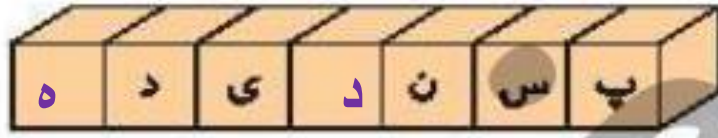
الف) ما به ایرانیان افتخار می‌کنیم. (ایرانیان)

ب) ما به شهیدان شجاع افتخار می‌کنیم. (شهیدان شجاع)

در هر ردیف، حروف جا افتاده را نوشته و کلمه‌ی کامل شده را بازنویسی کنید.



نعمت



پسندیده



توفیق



صمیمی



آینده

برای هر شاخه یک گل زیبا بکشید و معنی کلمه‌ی درون برگ را در گل بنویسید.

نیاکان



یکتا - واحد



پایان



تنبیه



ستودن



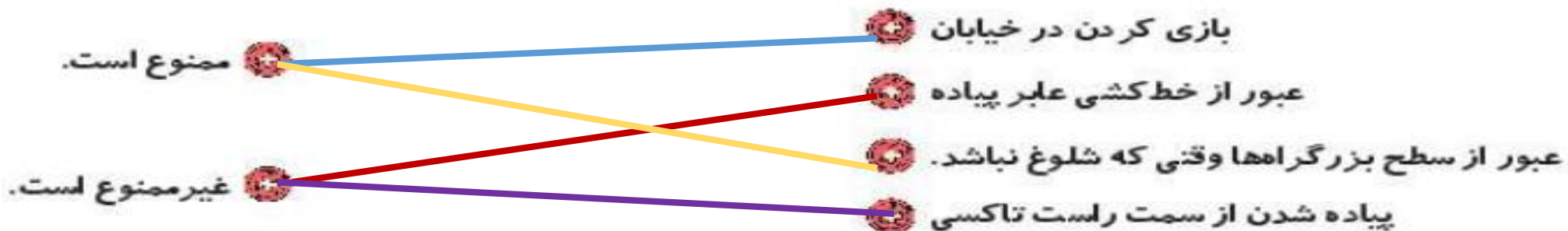
مطالعات اجتماعی

چراغ راهنمایی رانندگی زیر را به صورت صحیح رنگ کنید.

در چه صورتی خودروها حق عبور دارند؟

زمانی که چراغ سبز می شود.

کارهای ممنوع و غیرممنوع زیر را مشخص کنید.



هر تبلوی رانندگی نشان دهندهی چیست؟



عبور دانش آموز



بوق زدن ممنوع



ورود ممنوع



ایستگاه اتوبوس



خطر

هدیه‌های آسمان - قرآن

با توجه به معنی آیه جای خالی را کامل کنید.



«إِنَّ الْأَبْرَارَ لَفِي نَعِيمٍ،

نیکوکاران در بهشت پر نعمت هستند.»

با توجه به داستان «باغ بهار»، پدر سینا بهشت را چگونه توصیف می‌کند؟



باغی که همیشه سرسبز و بهار است و جویبارهای زلال از زیر درختانش جاری است - انواع میوه وجود دارد و قصر با شکوهی بنا شده است .

با توجه به معنی آیه‌ی نوشته شده کارت کلمات آیه را ببرید و به ترتیب مناسب بچسبانید.



«خداوند صاحب روز قیامت است.»

به عهده ی دانش آموز