



شماره‌ی

۳۱

ارمغان هفته - سوم دبستان

نام و نام خانوادگی: تاریخ: نام آموزگار:

ریاضی < فصل ۸: تقسیم با باقی‌مانده و محیط اشکال هندسی مطالعات اجتماعی < درس ۲۳: ایمنی در کوچه و خیابان
 علوم < درس ۱۴: از گذشته تا آینده هدیه‌های آسمان < درس ۲۰: باغ همیشه بهار
 فارسی < درس ۱۷: چشم‌های آسمان قرآن < انس با قرآن کریم

ریاضی

۱ تقسیم‌های زیر را حل کنید.

$$59 \overline{) 7}$$

$$66 \overline{) 9}$$

۲ باقی‌مانده‌ی کدام یک از تقسیم‌های زیر صفر می‌باشد؟

$$45 \overline{) 9}$$

$$37 \overline{) 6}$$

$$51 \overline{) 8}$$

$$42 \overline{) 7}$$

۳ می‌خواهیم ۷ کیسه‌ی ۱۲ کیلویی برنج را بین ۹ خانواده به‌طور مساوی تقسیم کنیم. به هر خانواده چند کیلو برنج می‌رسد و چقدر برنج باقی می‌ماند؟

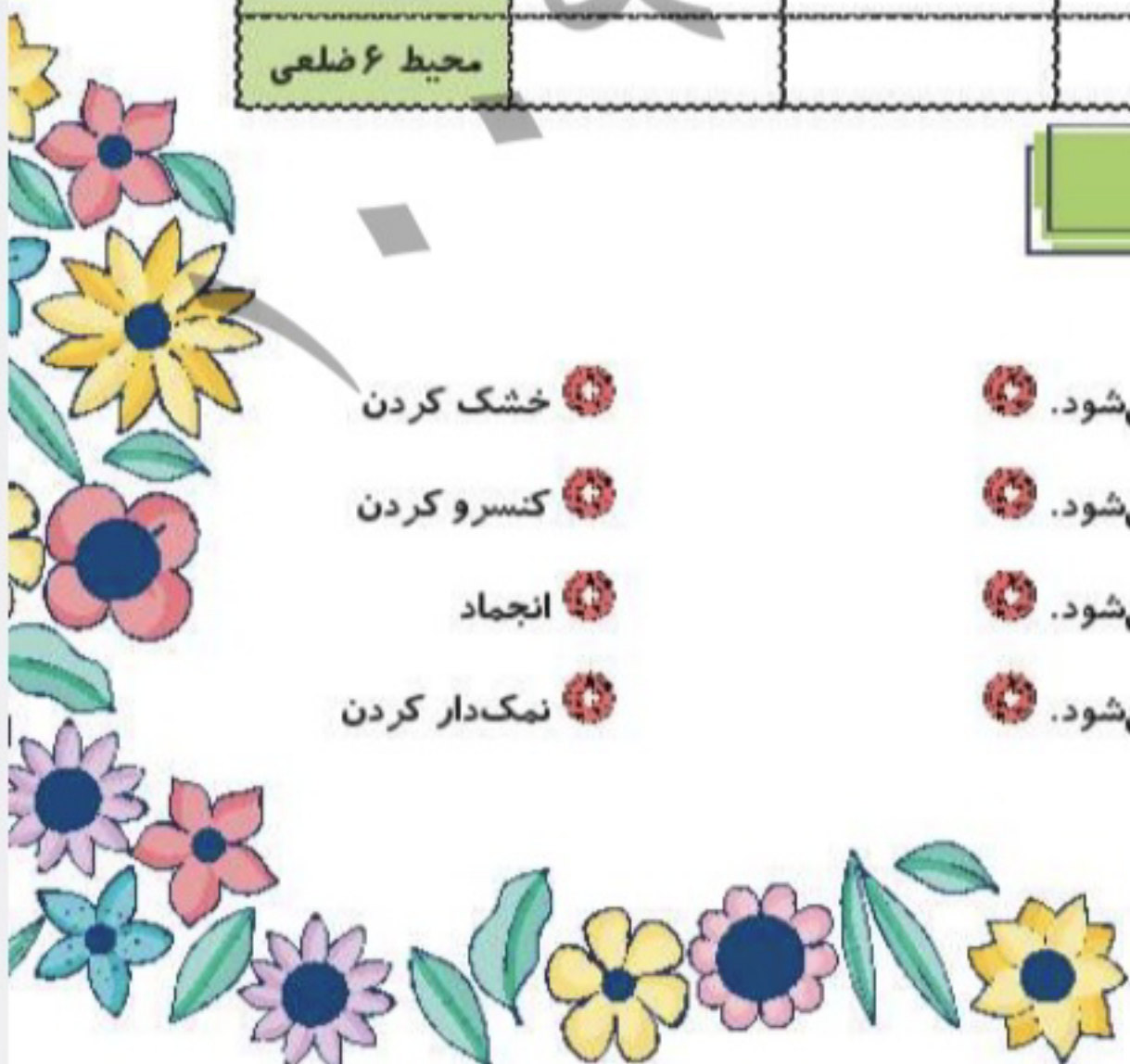
۴ جدول زیر را کامل کنید.

ضلع	۷	۴۰	۱۲	۹۰
محیط مربع				
محیط مثلث				
محیط ۶ ضلعی				

علوم

۱ موارد مرتبط را به یکدیگر وصل کنید.

- با تبخیر آب، امکان رشد میکروب کم‌تر می‌شود.
- در دماهای بسیار پایین فعالیت میکروبه‌ها کم می‌شود.
- در محیط‌های شور، امکان فاسد شدن ماده‌ی غذایی کم می‌شود.
- در این روش هوا نمی‌تواند وارد محیط شود و امکان فاسد شدن غذا کم می‌شود.
- خشک کردن
- کنسرو کردن
- انجماد
- نمک‌دار کردن




۲ کدام گزینه درست است؟

- ۱) بهتر است مواد غذایی را در دمای معمولی نگه داشت.
- ۲) هرچه دمای محیط نگهداری مواد غذایی کم تر باشد، بهتر است.
- ۳) شور کردن روشی برای نگهداری حبوبات و برنج است.
- ۴) محلول غلیظ شکر نمی تواند مانع فاسد شدن مواد غذایی شود.

۳ الف) یک راه نگهداری طولانی مدت خیار چیست؟

ب) دو راه نگهداری طولانی مدت نان چیست؟

۴ در زمان قدیم برای نگهداری گوشت از کدام روش ها استفاده می شده است؟



۵ ماده‌ی نگهدارنده در تهیه‌ی هریک از مواد غذایی زیر چیست؟



۶ دو روش نگهداری طولانی مدت شیر که با گرما دادن است چنام دارند؟

فارسی

۱ با استفاده از کلمات در هم ریخته‌ی زیر، جمله را کامل کنید.

زور - خانه‌ی - می خواهی - مرد - به - بگیری - را - این،

چرا

جاهای خالی را کامل کنید.

حمد بر کردگار یکتا باد

آشنا کرد چشم

داد توفیق

در دل من محبت استاد

با توجه به کلمه‌های داده شده، جمله را بازنویسی کنید.

«ما به دانشمندان ایرانی، افتخار می‌کنیم.»

(الف) (ایرانیان)

(ب) (شهیدان شجاع)

در هر ردیف، حروف جا افتاده را نوشته و کلمه‌ی کامل شده را بازنویسی کنید.

ن ع ت


پ س ن ی د

ت و ق

م م ص

آ ی د

برای هر شاخه یک گل زیبا بکشید و معنی کلمه‌ی درون برگ را در گل بنویسید.



مطالعات اجتماعی

چراغ راهنمایی رانندگی زیر را به صورت صحیح رنگ کنید.

در چه صورتی خودروها حق عبور دارند؟



کارهای ممنوع و غیرممنوع زیر را مشخص کنید.

- ممنوع است.
- غیرممنوع است.
- بازی کردن در خیابان
- عبور از خط کشی عبور پیاده
- عبور از سطح بزرگراهها وقتی که شلوغ نباشد.
- پیاده شدن از سمت راست تاکسی

هر تابلوی رانندگی نشان دهنده‌ی چیست؟



هدیه‌های آسمان - قرآن

با توجه به معنی آیه جای خالی را کامل کنید.

«إِنَّ الْأَبْرَارَ لَفِي نَعِيمٍ»

نیکوکاران در پر نعمت هستند.

با توجه به داستان «باغ بهار، پدر سینا بهشت را چگونه توصیف می‌کند؟»

با توجه به معنی آیه‌ی نوشته شده کارت کلمات آیه را ببرید و به ترتیب مناسب بچسبانید.

«خداوند صاحب روز قیامت است.»

--	--	--

کلمات هم معنی	تقسیم با باقی مانده	شاخص‌ها خیلی خوب خوب قابل قبول نیاز به تلاش بیشتر
توانین و تابلوهای راهنمایی و رانندگی	محیط اشکال هندسی	
آشنایی با بهشت و روز قیامت	روش های نگهداری طولانی مدت مواد غذایی	
معنی آیات قرآنی	جمله سازی و کلمه سازی	
	ارتباط فاعل و فعل	