



علوی


به نام خدا

پیش دبستان و دبستان پسرانه ی علوی ( شعبه ی شرق ۱ )

برنامه ی مطالعاتی پایه سوم اردیبهشت ۴۰۵



روز	تاریخ	ریاضی	فارسی
شنبه	۴۰۵/۰۲/۱۹	فصل ۱ و ۲	درس ۱ تا ۳
یکشنبه	۴۰۵/۰۲/۲۰	فصل ۳	درس ۴ تا ۶
دوشنبه	۴۰۵/۰۲/۲۱	فصل ۴	درس ۷ تا ۹
سه شنبه	۴۰۵/۰۲/۲۲	فصل ۵ و ۶	درس ۱۰ تا ۱۲
چهارشنبه	۴۰۵/۰۲/۲۳	فصل ۷ و ۸	درس ۱۳
سه شنبه	۴۰۵/۰۲/۲۹	علوم درس های ۱ تا ۷	
چهارشنبه	۴۰۵/۰۲/۳۰	علوم درس های ۷ تا ۱۴	
شنبه	۴۰۵/۰۳/۰۲	مرور و رفع اشکال فارسی	
یکشنبه	۴۰۵/۰۳/۰۳	مرور و رفع اشکال چهارهوش	
دوشنبه	۴۰۵/۰۳/۰۴	مرور و رفع اشکالی ریاضی	
سه شنبه	۴۰۵/۰۳/۰۵	مرور و رفع اشکالی ریاضی	
شنبه	۴۰۵/۰۳/۰۹	مرور و رفع اشکال ریاضی	



موضوع:

تاریخ

نام و نام خانوادگی

هدف:

# مرور دانسته های

$+$   ریاضی   $\times$   
 $\div$  پایه ی سوم  $-$

علوی شرق اطلاعات






علوی  
مدارس هزاره سوم

بازخورد:

Blank rounded rectangular box for feedback.



۱- الگوی هندسی شکل را ادامه بده و الگوی عددی آن را کامل کن.

				
۱	.....	.....	.....	.....

- چه رابطه‌ای بین عددها و شکل‌ها وجود دارد؟ توضیح بده.

.....

۲- کتابخانه‌ای از ۷ ردیف تشکیل شده است و در هر ردیف، ۱۰ کتاب قرار گرفته است.



الف) در ۴ ردیف چند کتاب قرار دارد؟

ب) آخرین کتاب در ردیف ششم، چه شماره‌ای دارد؟

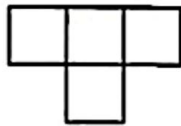
ج) این کتابخانه در مجموع، چند کتاب دارد؟

۳- پاسخ بده.

الف) این شکل، باز شده‌ی یک مکعب مربع است که به‌طور ناقص

کشیده شده است. آن را کامل کن.

ب) شکل از چند مربع هم‌اندازه تشکیل شده است؟




۴- الگوی عددی زیر را ادامه بده و دربارهی الگوی هر کدام، توضیحی بنویس.

۴۰, ۴۵, ....., ....., ....., .....

♦ عددها ..... تا ..... تا اضافه می‌شوند.

۷, ۱۷, ۲۷, ....., ....., ....., .....

♦ .....



نام و نام خانوادگی

تاریخ

موضوع: مرور فصل ۱ و ۲

صفحه ۲

هدف: مرور دانسته‌ها

۵- یک دلار کشور قندستان به اندازه‌ی ۱۰۰۰ تومان ارزش دارد. ۸ دلار این کشور، چند تومان ارزش

دارد؟



۶- حاصل جمع و تفریق‌های زیر را بنویس.

$4 + 60 + 200 + 3000 = \dots\dots\dots$

$5 = \dots\dots\dots$  (هزارتایی) +  $3 = \dots\dots\dots$  (صدتایی)

$8000 - 2000 = \dots\dots\dots$

$4 = \dots\dots\dots$  (هزارتایی) -  $7 = \dots\dots\dots$  (هزارتایی)

۷- جاهای خالی را با عدد مناسب پر کن.

الف) ۴۲۸ سانتی‌متر یعنی ..... متر و ..... سانتی‌متر.

ب) ..... سانتی‌متر یعنی ۲ متر و ۴۵ سانتی‌متر.

ج) ۵۶۰۰ گرم یعنی، ..... کیلوگرم و ..... گرم.

د) ۶ کیلوگرم ..... گرم است.

ه) ۳ کیلومتر و ۱۰۰ متر یعنی ..... متر.



۸- ارزش کدام یک از رقم‌های عدد ۴۰۵۶، صدگان است؟

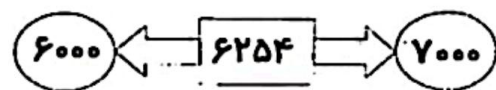
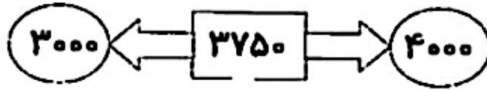
د) شش

ج) پنج

ب) صفر

الف) چهار

۹- عدد داخل مستطیل به کدام عدد، نزدیک‌تر است؟ آن را رنگ کن.




۱۰- ادامه بده.

۳۰۰۰, ۳۲۰۰, ۳۴۰۰, ..... , ..... , .....

۴۵۰۰, ۵۰۰۰, ۵۵۰۰, ..... , ..... , .....





موضوع: مرور فصل ۱ و ۲

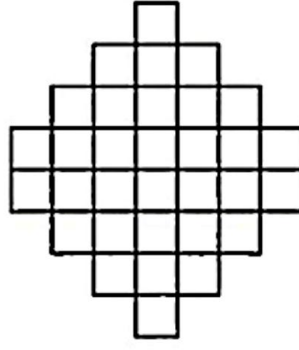
تاریخ

نام و نام خانوادگی

صفحه ۳

هدف: مرور دانسته‌ها

۱۰- خط تقارن شکل را با خط کش رسم کن و به طور متقارن رنگ کن. سپس تعداد مربع‌ها را بنویس.




..... مربع

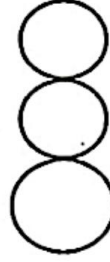
۱۱- با توجه به ماشین ورودی - خروجی، جاهای خالی را کامل کن.



+۱۴



-۱۰



۱۲- کدام یک از شکل‌های زیر، خط تقارن ندارد؟



سؤال انتخابی



۱۳- به یکی از دو سؤال زیر، پاسخ بده.

۱- یک شبانه‌روز ۲۴ ساعت است. یک هفته چند ساعت است؟

۲- محمد تصمیم دارد، فیلم سانس ۸ شب سینما را ببیند. ۴۵ دقیقه‌ی دیگر، فیلم شروع می‌شود. حالا ساعت چند است؟

علوی

بیم خانواده

پایه:

موضوع:

تاریخ

نام و نام خانوادگی

هدف:

# مرور دانسته های



# فارسی




پایه ی سوم

علوی شرق اطلاعات



بازخورد:





موضوع: فارسی درس ۱ و ۲

تاریخ

نام و نام خانوادگی

صفحه ۱

هدف: مرور دانسته ها



۱- با هر یک از کلمه های زیر، یک جمله ی زیبا و کامل بنویس.

به عادت: .....

به مهارت: .....

۲- جاهای خالی را با کلمات مناسب کامل کن.

✿ ..... با پدرشان به سینما رفتند.

✿ من همین الان از مدرسه .....

✿ شما خوب درس هایتان را .....

✿ امروز به مدرسه می رود.

۳- با توجه به کلمات زیر، هم خانواده ها را پیدا کن و در یک گروه بنویس.

عظمت - اطراف - موضوع - عظیم - معرفی - موضوعات - طرف - تعارف

( .....

( .....

( .....

( .....



۴- کلمات هم معنی را به یک دیگر وصل کن.

بزرگی

✕

انتها

تلاش

✕

حیرت

آخر

✕

عظمت

تعجب

✕

جنب و جوش

۵- مخالف کدام کلمه، درست نیست؟

سفید ≠ سیاه

ضرر ≠ زیان


رفت ≠ آمد

دوست ≠ دشمن

۶- هر یک از کلمات زیر را با ا، ها، ان، جمع ببند و در جای مناسب خودش بنویس.

کلمه	ها	ات	ان
مادر			
پرنده			
لحظه			





موضوع: فارسی درس ۱ و ۲

تاریخ

نام و نام خانوادگی

صفحه ۲

هدف: مرور دانسته ها

۷- در جمله های زیر، علامت های مناسب { ، - ؛ - ؟ - - } قرار بده.

امید خود را معرفی کرد و گفت ○ ○ نه ما تازه به این محله آمده ایم ○ امیدوارم بتوانم دوستان جدیدی در اینجا پیدا کنم ○ راستی ○ نگران به نظر می رسی ○ مشکلی پیش آمده ○ ○

۸- ادامه بده.



در یکی از روزهای بارانی فصل پاییز به .....  
.....  
.....  
.....

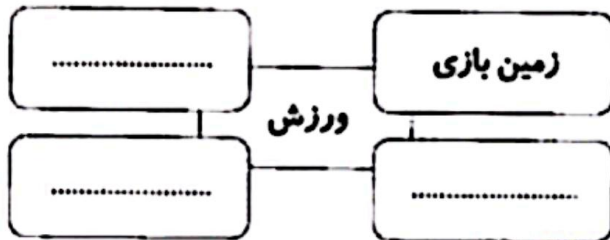
۹- کلمه های زیر را به صورت جمله های معنی دار، مرتب کن و بنویس.

الف) مسابقه ای، برگزار می شود، محله ای ما، و محله ای، امروز، بهارستان، بین تیم

که .....

ب) صحبت های، نام نویسی کردم، دوره ای آموزشی، در، مرتبی شنا، پس از

که .....



۱۰- با شنیدن نام کلمه ای ورزش، به یاد

چه کلمه هایی می آفتی؟ بنویس.



۱۱- با توجه به تصویر روبه رو، یک بند در مورد، درس و مدرسه بنویس.

.....  
.....  
.....