

علوی

بنام خداوند جان و خرد

پایه:

موضوع:

تاریخ

نام و نام خانوادگی

هدف:

مرور دانسته های

ریاضی

+



×



÷

پایه ی سوم

علوی شرق اطلاعات

-



علوی

مدارس هزاره سوم

بازخورد:

Blank rounded rectangle for feedback





فصل ۱ و ۲ ریاضی

موضوع:

تاریخ


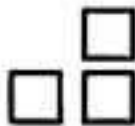
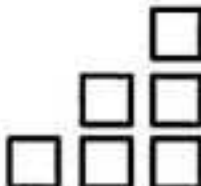
نام و نام خانوادگی

صفحه ۱

مرور دانسته ها

هدف:


۱- الگوی هندسی شکل را ادامه بده و الگوی عددی آن را کامل کن.

				
۱

چه رابطه‌ای بین عددها و شکل‌ها وجود دارد؟ توضیح بده.

.....

۲- کتابخانه‌ای از ۷ ردیف تشکیل شده است و در هر ردیف، ۱۰ کتاب قرار گرفته است.



الف) در ۴ ردیف چند کتاب قرار دارد؟

ب) آخرین کتاب در ردیف ششم، چه شماره‌ای دارد؟

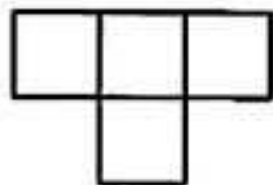
ج) این کتابخانه در مجموع، چند کتاب دارد؟

۳- پاسخ بده.

الف) این شکل، باز شده‌ی یک مکعب مربع است که به‌طور ناقص

کشیده شده است. آن را کامل کن.

ب) شکل از چند مربع هم‌اندازه تشکیل شده است؟




۴- الگوی عددی زیر را ادامه بده و درباره‌ی الگوی هر کدام، توضیحی بنویس.

۴۰, ۴۵,,,,

◇ عددها تا تا اضافه می‌شوند.

۷, ۱۷, ۲۷,,,,

◇



موضوع: مرور فصل ۱ و ۲

تاریخ

نام و نام خانوادگی

صفحه ۲

هدف: مرور دانسته ها

۵- یک دلار کشور قندستان به اندازه‌ی ۱۰۰۰ تومان ارزش دارد. ۸ دلار این کشور، چند تومان ارزش



دارد؟

۶- حاصل جمع و تفریق‌های زیر را بنویس.

$$۴ + ۶۰ + ۲۰۰ + ۳۰۰۰ = \dots\dots\dots$$

$$۵ = \dots\dots\dots + (۳ \text{ صدتایی})$$

$$۸۰۰۰ - ۲۰۰۰ = \dots\dots\dots$$

$$۴ = \dots\dots\dots - (۷ \text{ هزارتایی})$$

۷- جاهای خالی را با عدد مناسب پر کن.



الف) ۴۲۸ سانتی‌متر یعنی متر و سانتی‌متر.

ب) سانتی‌متر یعنی ۲ متر و ۴۵ سانتی‌متر.

ج) ۵۶۰۰ گرم یعنی، کیلوگرم و گرم.

د) ۶ کیلوگرم گرم است.

ه) ۳ کیلومتر و ۱۰۰ متر یعنی متر.

۸- ارزش کدام یک از رقم‌های عدد ۴۰۵۶، صدگان است؟

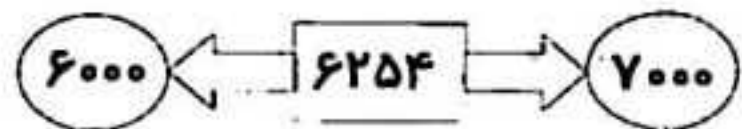

د) شش

ج) پنج

ب) صفر

الف) چهار

۹- عدد داخل مستطیل به کدام عدد، نزدیک‌تر است؟ آن را رنگ کن.




۱۰- ادامه بده.

۳۰۰۰، ۳۲۰۰، ۳۴۰۰،،،

۴۵۰۰، ۵۰۰۰، ۵۵۰۰،،،





موضوع: مرور فصل ۱ و ۲

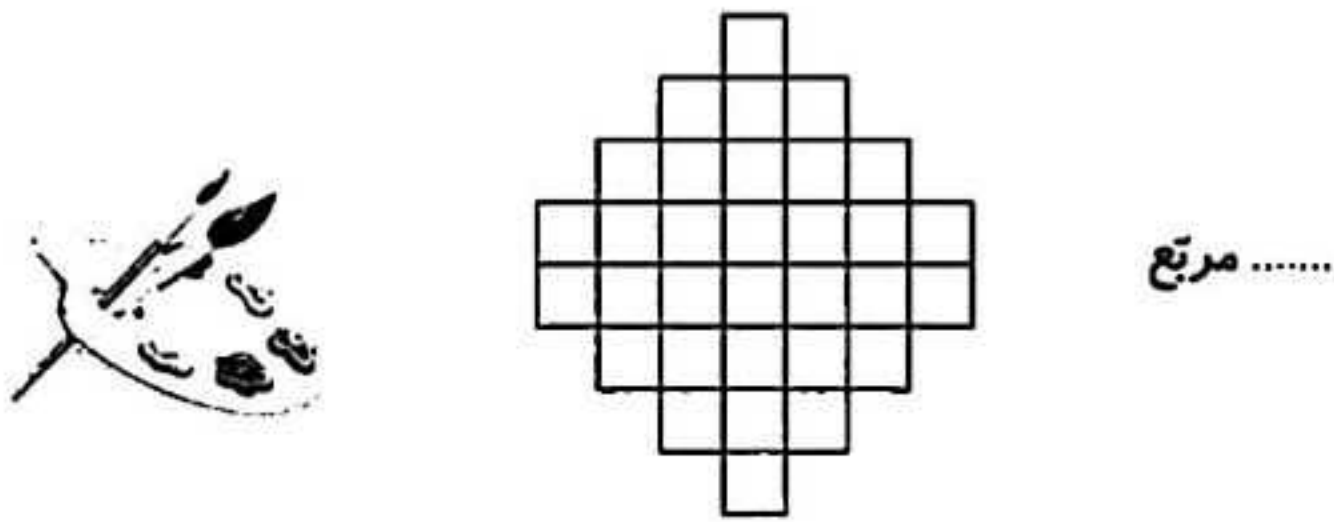
تاریخ

نام و نام خانوادگی

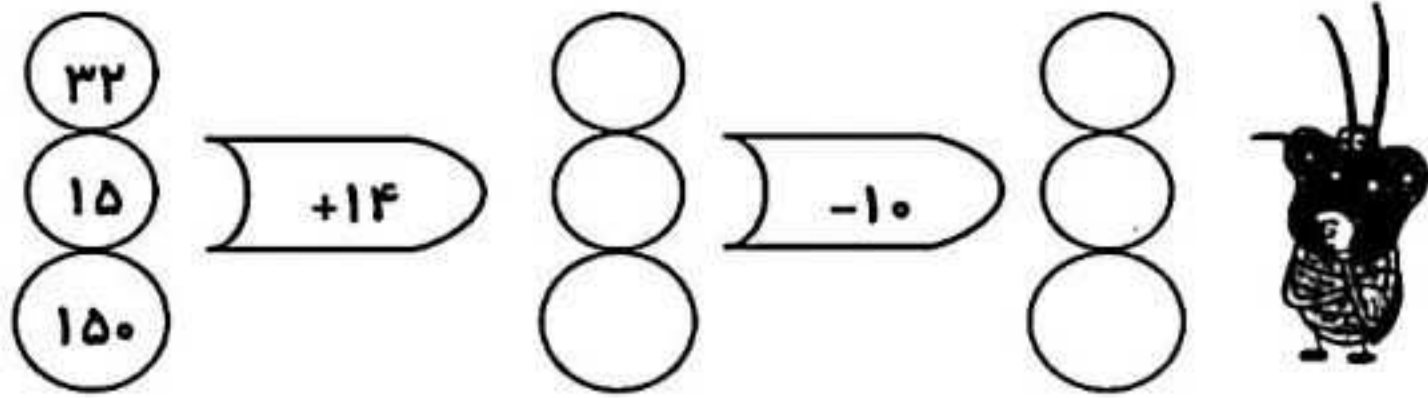
صفحه ۳

هدف: مرور دانسته ها

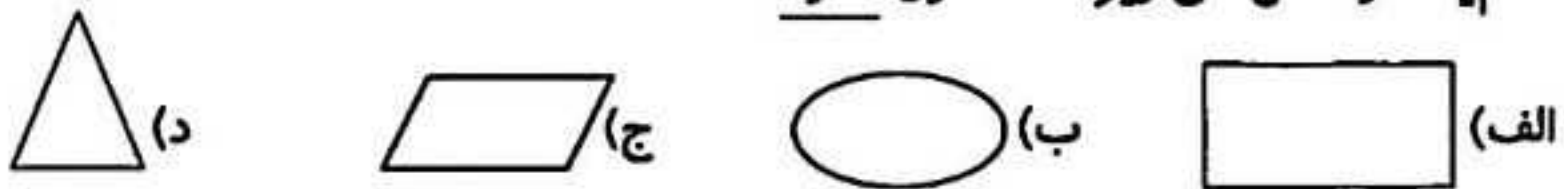
۱۰- خط تقارن شکل را با خط کش رسم کن و به طور متقارن رنگ کن. سپس تعداد مربع ها را بنویس.



۱۱- با توجه به ماشین ورودی - خروجی، جاهای خالی را کامل کن.




۱۲- کدام یک از شکل های زیر، خط تقارن ندارد؟



۱۳- به یکی از دو سؤال زیر، پاسخ بده.

۱- یک شبانه روز ۲۴ ساعت است. یک هفته چند ساعت است؟

۲- محمد تصمیم دارد، فیلم سانس ۸ شب سینما را ببیند. ۴۵ دقیقه ی دیگر، فیلم شروع می شود. حالا ساعت چند است؟



موضوع: فصل ۲


تاریخ

نام و نام خانوادگی

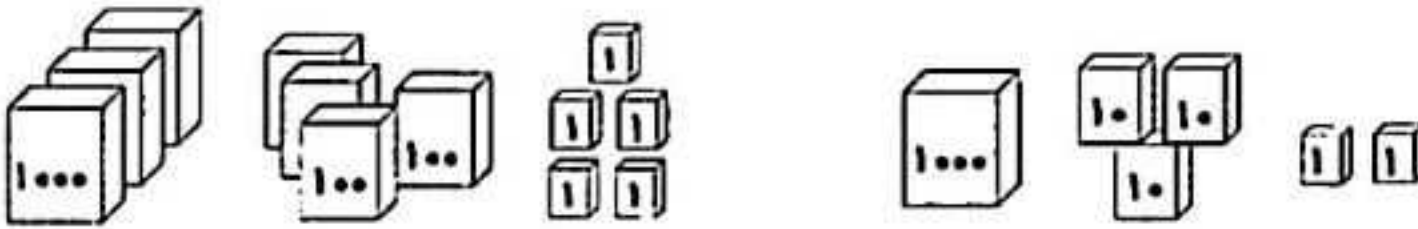
صفحه ۴

هدف: مرور دانسته ها

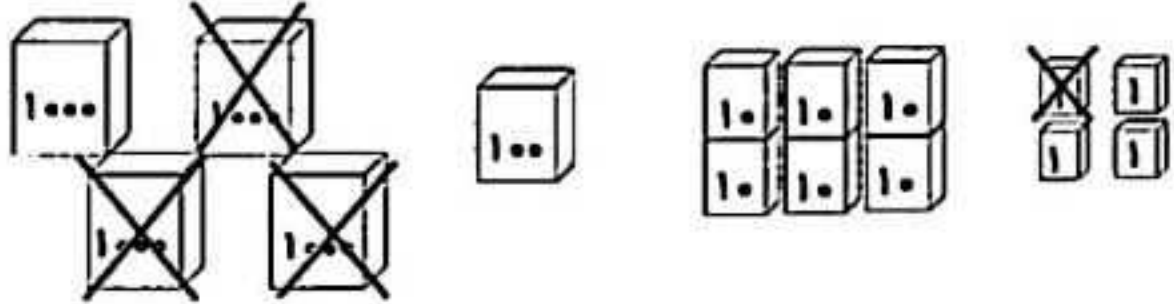
۱- یک باغچه‌ی مستطیل شکل را به ۵ قسمت مساوی تقسیم کرده‌اند. در یک قسمت آن، بادمجان و در قسمت دیگرش، گوجه‌فرنگی کاشته‌اند. چه مقدار از این باغچه، باقی مانده است؟ (روی شکل مشخص کن.)
..... قسمت از قسمت مساوی باقی مانده است.



۲- جمع و تفریق مربوط به شکل‌ها را بنویس.




..... + =

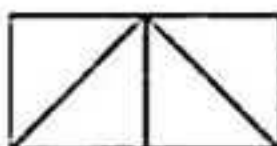



..... - =

۳- دایره‌ی زیر را به چهار قسمت مساوی، تقسیم کن. سپس هر قسمت را به سه قسمت مساوی تقسیم کن. این دایره به چند قسمت مساوی کوچک، تقسیم شده است؟




۴- برای هر شکل، یک کسر مناسب بنویس.



.....

.....

.....



موضوع: فصل ۲

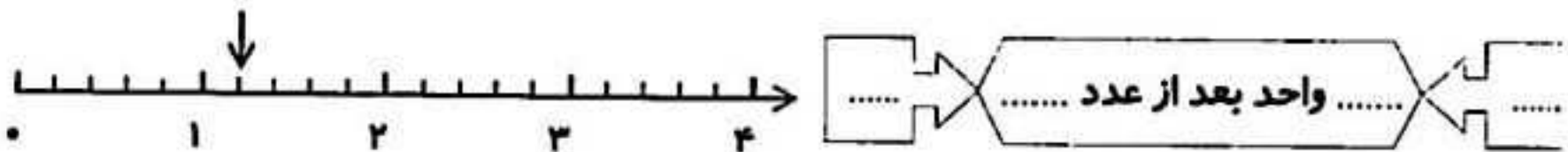
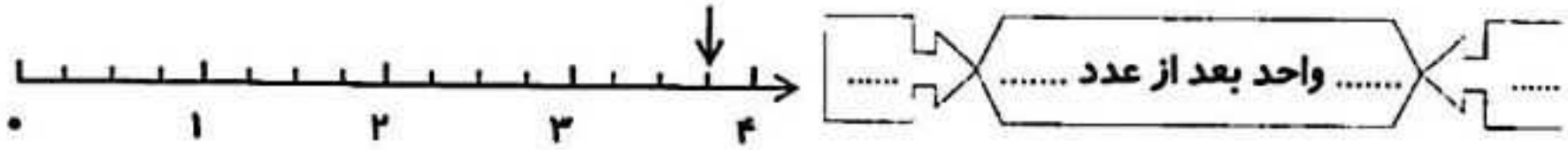
تاریخ

نام و نام خانوادگی

صفحه ۵

هدف: مرور دانسته ها

۵- نقطه‌ی مشخص شده روی هر محور، چه عددی است و بین چه عددهایی قرار دارد؟

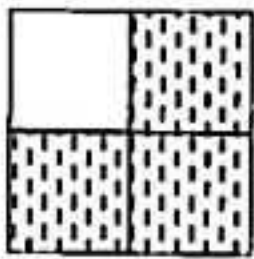


۶- یک دایره به شعاع ۲ سانتی‌متر رسم کن و به سؤالات زیر پاسخ بده.

الف) جای نوک سوزن پرگار چه نام دارد؟

ب) قطر این دایره چند سانتی‌متر است؟ (قطر را رسم کن.)

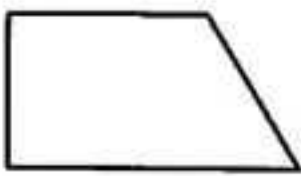
۷- ابتدا کسر مربوط به شکل را بنویس، سپس کسر مساوی با آن را بنویس. (روی شکل نشان بده.)



_____ = _____




۸- به سؤالات پاسخ بده.



الف) با چه وسیله‌ای زاویه‌ی راست را می‌توان تشخیص داد؟

ب) شکل مقابل چند زاویه راست دارد؟ (مشخص کن.)

۹- زمان ساعت‌های زیر را با «ربع»، «نیم»، «بخوان» و «بنویس».



.....




.....

۱۰- جمع و تفریق‌های زیر به واحد ریال هستند. آن‌ها را به واحد تومان بنویس.

$7000 + 200 + 60 = \Rightarrow \dots + \dots + \dots = \dots$

$5980 - 2630 = \Rightarrow \dots - \dots = \dots$



موضوع: فصل ۴

تاریخ

نام و نام خانوادگی

صفحه ۶

هدف: مرور دانسته ها

۱- با اضافه کردن ۴۲۳ به کدام عدد، حاصل جمع ۱۰۰۰ به دست می آید؟ (توضیح بده).

$$\square + 423 = \square$$



۲- به هر یک از عددهای زیر، ۱۳۰۰ تا اضافه کن و زیر آن بنویس.



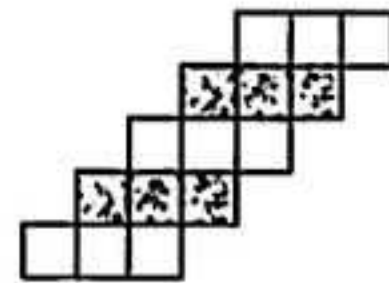
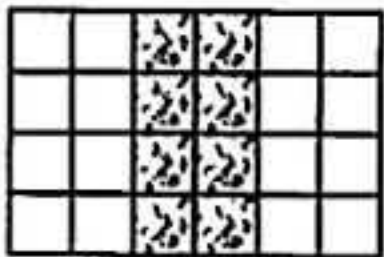
۶۴۰	۵۸	۹	۳۴۰۰

۳- یک فروشنده نوعی دفتر را به قیمت ۷۰۰ تومان می خرد و ۸۰۰ تومان می فروشد. این فروشنده با فروش هر دفتر، چند تومان سود می کند؟ (جدول را کامل کن.)

الف) اگر ۹ دفتر بفروشد، چند تومان سود می کند؟
ب) چند دفتر بفروشد تا با سود آن، یک دفتر بخرد؟

تعداد دفتر	۱	۲	۳	۴	۵	۶	۷	۸	۹	۱۰
سود	۱۰۰									

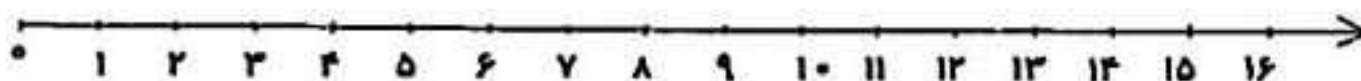
۴- با توجه به شکل، در جای خالی، عدد مناسب بنویس.




..... دسته تایی می شود مربع

..... دسته تایی می شود مربع

۵- تساوی زیر را روی محور نشان بده.



$$7 \times 2 = 2 \times 7$$



موضوع: فصل ۴

تاریخ

نام و نام خانوادگی

صفحه ۷

هدف: مرور دانسته ها

۶- هر کدام از عددهای زیر، بین کدام دو عدد قرار دارد؟ (مشخص کن.)

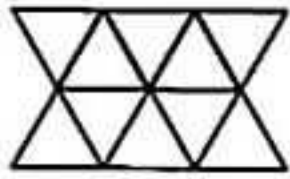
← $\frac{1}{4}$ واحد مانده به عدد ۵ →

 ← $\frac{3}{4}$ واحد بعد از عدد ۳ →

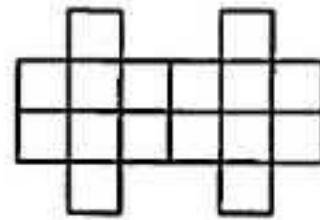
۷- در یک فروشگاه، ۲ بسته‌ی ۶ تایی مداد سیاه و ۳ بسته‌ی ۷ تایی مداد قرمز وجود دارد. این فروشگاه چند مداد سیاه و قرمز دارد؟




۸- به کمک خط تقارن، عبارت ضرب مربوط به هر شکل را بنویس.



..... × =



..... × =



۹- $\frac{4}{8}$ از شکل‌ها را با مداد قرمز و $\frac{1}{8}$ را با مداد سیاه رنگ بزن.

الف) چه کسری از شکل‌ها، رنگ نشده است؟
ب) چه کسری از شکل‌ها، رنگی است؟

۱۰- جرم یک قوطی روغن ۵ کیلوگرم است. اگر جرم ظرف آن ۳۵۰ گرم باشد، جرم روغن خالص چند کیلوگرم و چند گرم است؟

..... کیلوگرم و گرم




۱۱- در جای خالی، عدد مناسب بنویس.

الف) ساعت ۱۵ یعنی ساعت بعد از ظهر.
ب) یک شبانه‌روز و ۳ ساعت یعنی ساعت.

۱۲- برای تساوی ضرب، جمع و برای تساوی جمع، ضرب بنویس.

$4 \times 7 =$

$6 + 6 + 6 + 6 + 6 =$



موضوع: فصل ۴


تاریخ

نام و نام خانوادگی

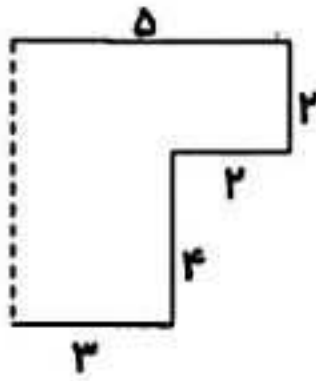
صفحه ۸

هدف: مرور دانسته ها

۱۳- با توجه به عبارت زیر، شکل را دسته بندی کن و پاسخ آن را به دست آور.



$$۱۸ + ۶ = \square$$

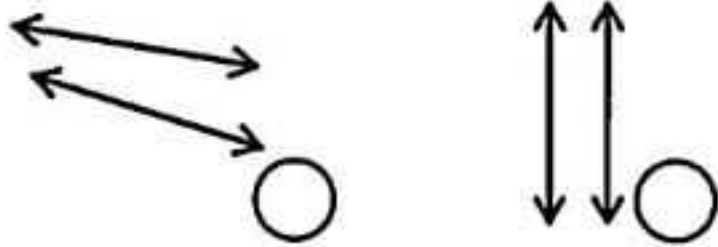


۱۴- اندازه ی ضلع خط چین، چند سانتی متر است؟

چگونه محاسبه کردی؟

۱۵- هر دست بشقاب، ۶ عدد بشقاب است. ۲۴ عدد بشقاب چند دست بشقاب است؟

۱۶- کدام دو خط، خط های موازی هستند؟ (علامت بزن).




* چرا موازی هستند؟



۱۷- به یکی از دو سؤال زیر، پاسخ بده.

۱- احسان ۹ تیله دارد. امیر از چهار برابر تیله های احسان ۴ تا کم دارد. امیر چند تیله دارد؟

۲- مادر مریم ۹ دست لیوان خرید. اگر از هر دست لیوان یک لیوان، شکسته باشد، او چند لیوان دارد؟



نام و نام خانوادگی

تاریخ

موضوع: فصل ۵

صفحه ۹

هدف: مرور دانسته ها

۱- در الگوی شمارش ۹ تا ۹ تا هفتمین عدد کدام است؟


(د) ۵۴

(ج) ۶۳

(ب) ۸۱

(الف) ۷۲

۲- کدام قطعه مربوط به شکل است؟ (علامت ✓ بزن.)

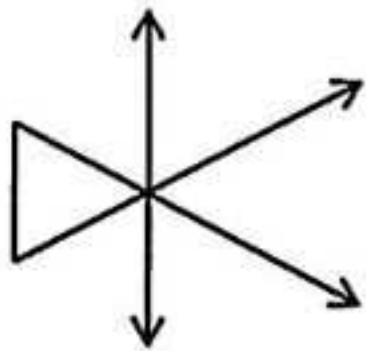


۳- قد مهیار ۱۲۴ سانتی متر است و قد سجّاد ۳۷ سانتی متر از قد مهیار بیش تر است.

(الف) قد سجّاد چند سانتی متر است؟

(ب) قد آن ها روی هم چند سانتی متر است؟

۴- شکل زیر از چند پاره خط، نیم خط و خط راست شده است؟

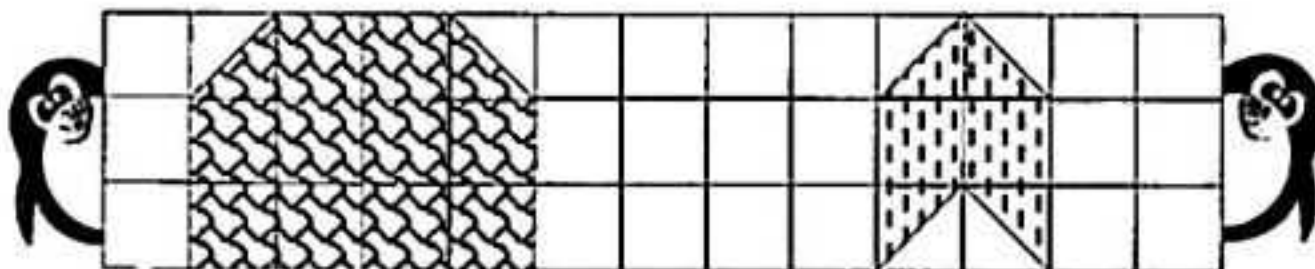


تعداد پاره خط:

تعداد نیم خط:

تعداد خط راست:

۵- مساحت هر شکل چند سانتی متر مربع است؟



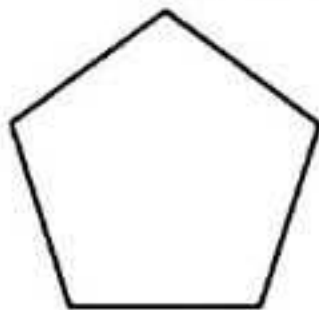
..... سانتی متر مربع


..... سانتی متر مربع

۶- با توجه به شکل، پاسخ بده.

(الف) نام شکل چیست؟

(ب) شکل چند قطر دارد؟ قطرهایش را رسم کن.





موضوع: فصل ۵

تاریخ

نام و نام خانوادگی

صفحه ۱

هدف: مرور دانسته ها

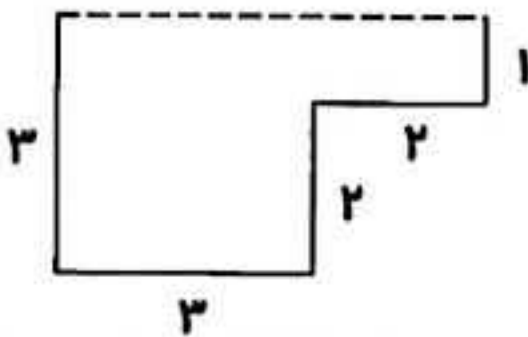


۷- در جاهای خالی، کلمه‌ی مناسب بنویس.

الف) اندازه‌ی دورتادور هر شکل را آن شکل می‌گویند.

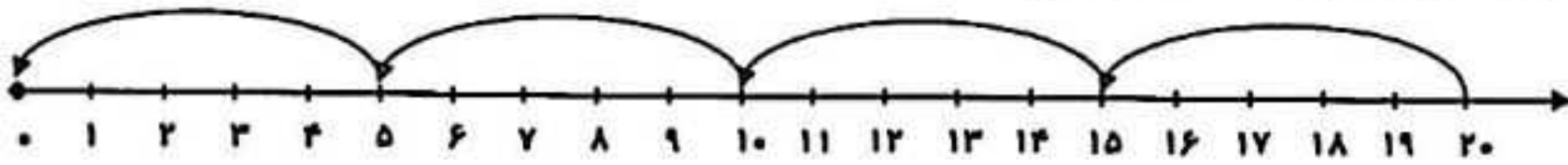
ب) یک متر برابر است با میلی‌متر.

۸- ابتدا اندازه‌ی ضلع داده نشده (خط‌چین) را پیدا کن و سپس محیط شکل را به دست آور.



۹- سیما ۹ ساله است. سن مادرش ۵ برابر سن سیما است. مادر سیما چند ساله است؟

۱۰- برای محور زیر، یک تساوی بنویس.



$\dots + \dots = \dots$

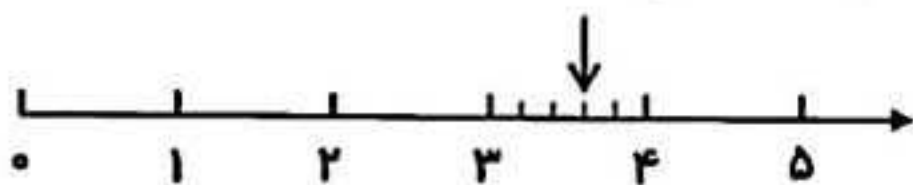
۱۱- طول مستطیلی ۹ سانتی‌متر و عرض آن ۵ سانتی‌متر است. مساحت مستطیل چند سانتی‌متر مربع است؟

۱۲- جدول زیر را کامل کن.




x	۷	۵	۹	۳	۶	۱۰	۴
۷							

۱۳- نقطه‌ی مشخص شده روی محور چه عددی را نشان می‌دهد؟



..... واحد مانده به عدد
.....



موضوع: فصل ۵

تاریخ

نام و نام خانوادگی

صفحه ۱۱

هدف: مرور دانسته ها

۱۴- عددهای زیر را به صورت گسترده بنویس.

$5820 = \dots\dots\dots$

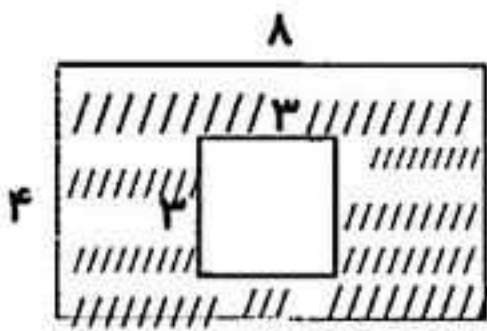
$2406 = \dots\dots\dots$



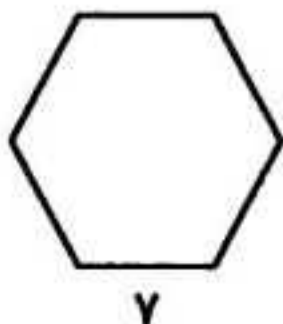
۱۵- می خواهیم دور میزی به شکل مربع که اندازه ی هر ضلع آن ۸ متر است، نوار دوزی کنیم. به چند متر نوار نیاز داریم؟




۱۶- به یکی از دو سؤال زیر، پاسخ بده.
۷ مساحت قسمت رنگ شده را به دست آور.



۷ معلم با یک سیم، شکل زیر را درست کرد و ۵ سانتی متر از سیم باقی ماند. طول سیم چه قدر بوده است؟





موضوع: فصل ۶

تاریخ

نام و نام خانوادگی

صفحه ۱۲

هدف: مرور دانسته ها

۱- در مسئله های زیر، فقط نوع عملی (جمع، تفریق، تقسیم) را تشخیص بده.

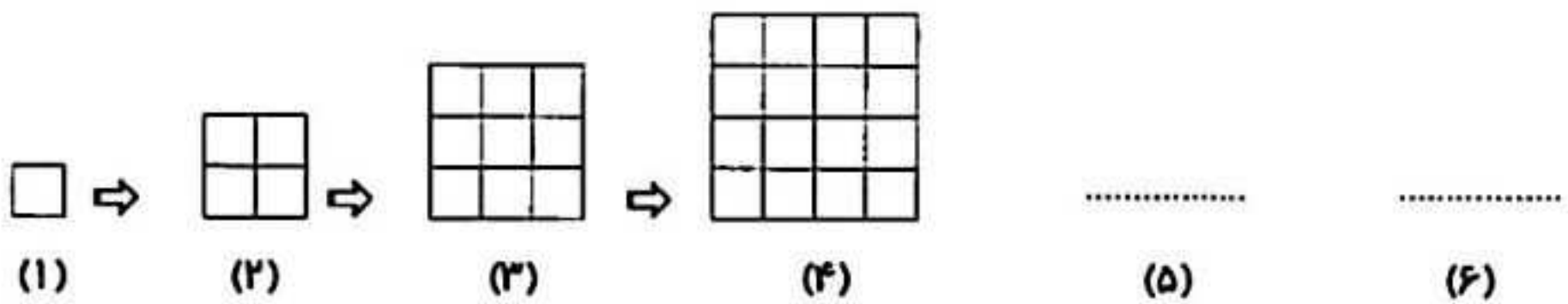
الف) قیمت یک پرگار ۷۶ تومان است. قیمت ۴ پرگار چند تومان می شود؟



ب) محیط مربعی ۳۶ سانتی متر است. طول یک ضلع آن چند سانتی متر است؟



۲- با توجه به الگو، در ششمین شکل چند مربع کوچک وجود دارد؟



۳- در علامت $< = >$ بگذار.

4850 4508

9×2 3×6

$\frac{3}{5}$ $\frac{4}{5}$



۲ واحد و $\frac{4}{10}$ واحد ۳ واحد و $\frac{2}{10}$ واحد


$4500 - 1500$ $3800 + 2600$

$45 \div 9$ 8×1

۴- عددها را از کوچک به بزرگ مرتب کن و بنویس.

۱۲۳۴ - ۹۹۰ - ۳۰۸۰ - ۸۹۸۰ - ۵۳۶۲ - ۸۸۹۰

..... < < < <



موضوع: فصل ۶


تاریخ

نام و نام خانوادگی

صفحه ۱۳

هدف: مرور دانسته ها

۵- حاصل تقریبی هر عبارت بین چه عددهایی قرار می گیرد؟

← $(4528 + 3021)$ →

 ← $(6835 - 2714)$ →

۶- کامل کن.

☺ به مثلثی که دو ضلع مساوی داشته باشد، مثلث می گویند.

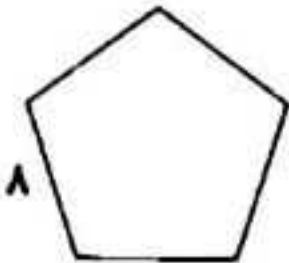
☺ به مثلثی که سه ضلع مساوی داشته باشد، مثلث می گویند.

۷- محدثه برای خرید یک شال گردن ۵ اسکناس ۱۰۰۰ تومانی، ۲ اسکناس ۲۰۰۰ تومانی و یک اسکناس

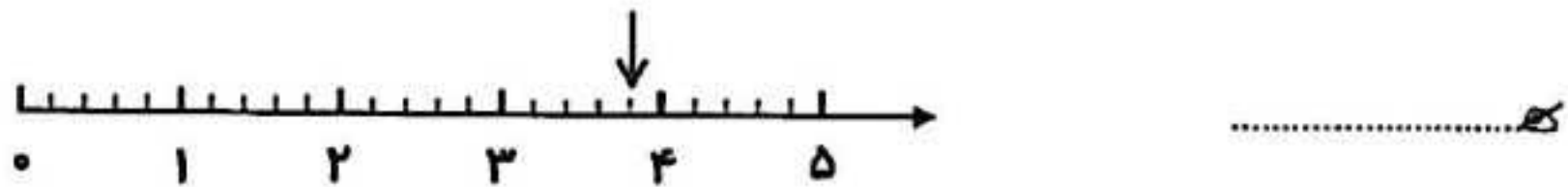
۵۰۰۰ تومانی به فروشنده داد. قیمت شال گردن چه قدر است؟



۸- محیط شکل را به دست آور.



۹- نقطه‌ی مشخص شده روی محور، چه عددی را نشان می دهد؟




۱۰- با رسم شکل، حاصل تفریق را به دست آور.

$3485 - 2243 = \square$

$$\begin{array}{r} 8937 \\ - 2516 \\ \hline \end{array}$$

۱۱- تفریق روبه‌رو را به صورت فرآیندی حل کن.





موضوع: فصل ۷

تاریخ

نام و نام خانوادگی

صفحه ۱۴

هدف: مرور دانسته ها

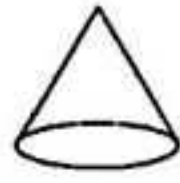
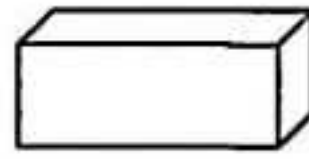

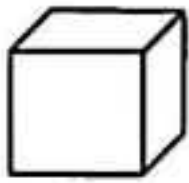
۱- نصف عددی را با ۱۰ جمع کردیم، حاصل ۱۴ شد. آن عدد کدام است؟



۲- حدس بزن.

سگه‌ای را ۲ بار انداخته‌ایم و هر بار پشت آمده است. اگر آن را برای بار سوم بیندازیم، رو می‌آید یا پشت؟ چرا؟

۳- نام هر یک از شکل‌های زیر را بنویس.



.....

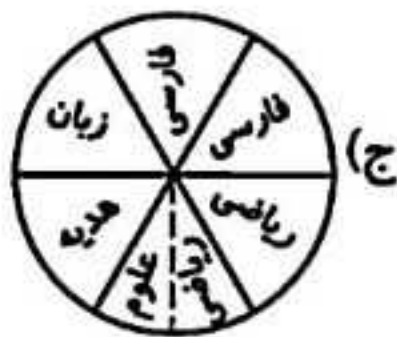
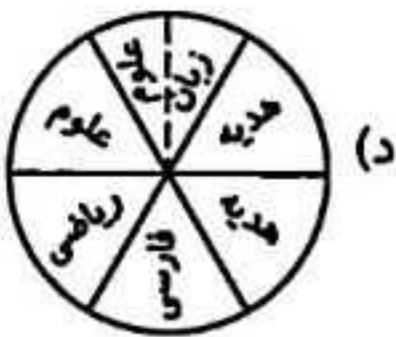
.....

.....

.....

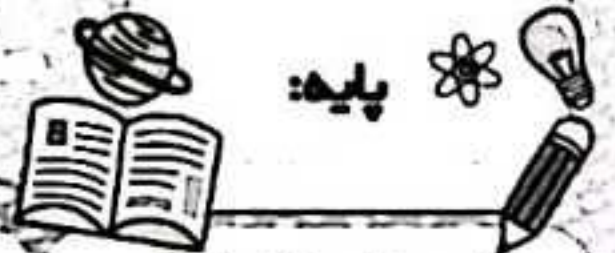
۴- برای جدول داده‌های زیر، کدام نمودار دایره‌ای مناسب است؟ (در نمودارهای دایره‌ای زیر، هر قسمت نشان‌دهنده ۱۰ کتاب است.)

درس	فارسی	ریاضی	علوم	هدیه‌ها	زبان
تعداد کتاب‌های کتابخانه	۱۰	۱۵	۵	۲۰	۱۰



۵- قیمت هر دفتر ۲۰۰۰ تومان است. قیمت ۴ دفتر چند تومان است؟

با ۶۰۰۰ تومان چند دفتر می‌توان خرید؟



موضوع: فصل ۷

تاریخ

نام و نام خانوادگی

صفحه ۱۵

هدف: مرور دانسته ها

۶ - جدول را کامل کن.

۳۵	+۷		x۴	
۶۳	+۹		x۸	
۲۷	+۳		x۵	



۷ - چرخنده‌ی زیر را ۱۵ بار چرخانده‌ایم و رنگ‌ها را یادداشت کرده‌ایم. جدول مربوط به این آزمایش را کامل کن.

قرمز - آبی - قرمز - سبز - قرمز - سبز - آبی - سبز - قرمز - سبز - آبی - سبز - قرمز - آبی - قرمز


رنگ	قرمز	سبز	آبی
تعداد			



چند تعداد کدام رنگ بیش‌تر است؟

چند سبز چند بار مقابل عقربه ایستاده است؟

۸ - سه گلدان سبز و ۴ گلدان قرمز داریم. در هر گلدان سبز، ۴ گل محمدی و در هر گلدان قرمز، ۵ گل نرگس داریم. چند گل محمدی و نرگس داریم؟



موضوع: فصل ۸

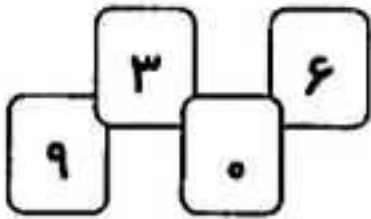
تاریخ

نام و نام خانوادگی

صفحه ۱۶

هدف: مرور دانسته ها

۱- با استفاده از این کارت‌ها، بزرگ‌ترین و کوچک‌ترین عدد چهاررقمی را بنویس.



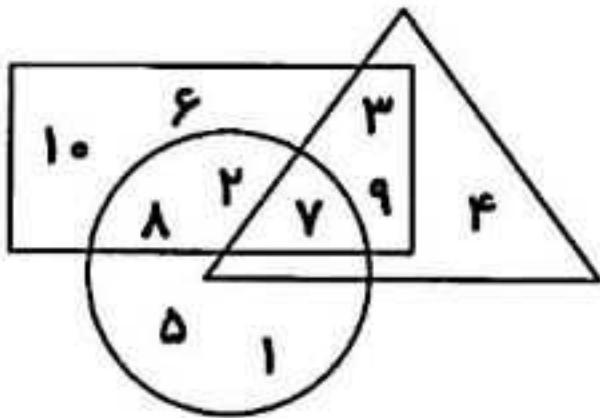
کوچک‌ترین:

بزرگ‌ترین:

۲- بزرگ‌ترین عدد زوج چهاررقمی بدون تکرار رقم‌ها را بنویس.



۳- با توجه به شکل پاسخ بده.



◇ چه عددی در شکل مشترک است؟

◇ چه عددهایی هم در مستطیل و هم در مثلث است؟

◇ چه عددهایی فقط در دایره است؟

◇ چه عددهایی هم در مستطیل و هم در دایره است؟

۴- در جاهای خالی، عدد مناسب بنویس.

$$14 \times 10 = \square$$

$$\square \times 7000 = 42000$$

$$6 \times 800 = \square$$

$$3 \times 10 \times 5 = \square$$

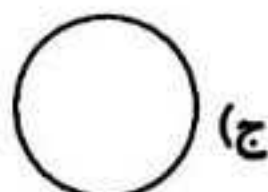
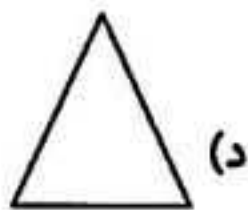
۵- تقسیم کن و سپس در جاهای خالی، عدد مناسب بنویس.


$$52 \overline{) 6}$$

خارج قسمت

باقی‌مانده

۶- کدام شکل، خط تقارن ندارد؟





موضوع: فصل ۸

تاریخ

نام و نام خانوادگی

صفحه ۱۷

هدف: مرور دانسته ها

۷-۵۴ نفر از دانش آموزان مدرسه‌ی تربیت را برای شرکت در مسابقه‌ی جابربن حیان به ۹ گروه، به‌طور مساوی تقسیم کردند. در هر گروه چند دانش آموز شرکت کرده‌اند؟

۸- حاصل ضرب‌های زیر را بنویس.

$$\begin{array}{r} 97 \\ \times 5 \\ \hline \end{array}$$

..... ← ×

+ ← ×

.....



$$\begin{array}{r} 384 \\ \times 6 \\ \hline \end{array}$$

..... ← ×

+ ← ×

+ ← ×

.....

۹- شایان روزی ۲ بار و هر بار ۲ ساعت ورزش می‌کند. او در یک هفته چند ساعت ورزش می‌کند؟

۱۰- در جاهای خالی، عدد مناسب بنویس.


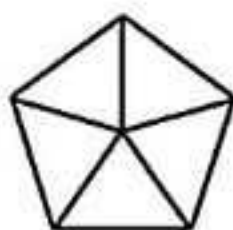
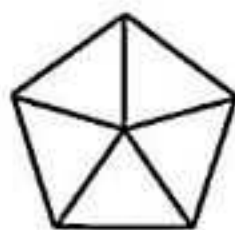
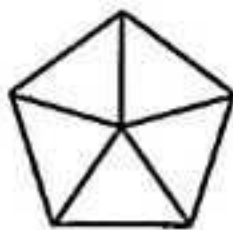


الف) ۸۶۲۰ متر برابر است با کیلومتر و متر

ب) ۳۷۵ سانتی‌متر یعنی متر و سانتی‌متر

ج) ۲ کیلوگرم، برابر است با تا ۱۰۰ گرم


۱۱- به اندازه‌ی شکل نوشته شده، رنگ کن و به سؤال مربوط آن پاسخ بده.



♦ با توجه به شکل بالا، چه کسری کم داریم تا ۳ واحد کامل شود؟

۱۲- دبستان تقوی ۲۳ کلاس دارد. در هر کلاس ۳۸ دانش آموز درس می‌خوانند. این دبستان به‌طور

تقریبی چند دانش آموز دارد؟



موضوع: فصل ۸

تاریخ

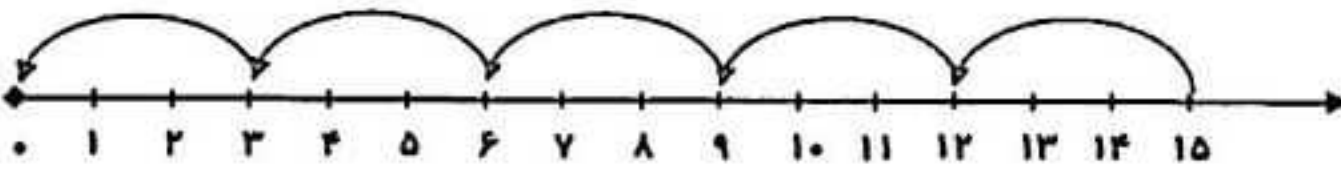
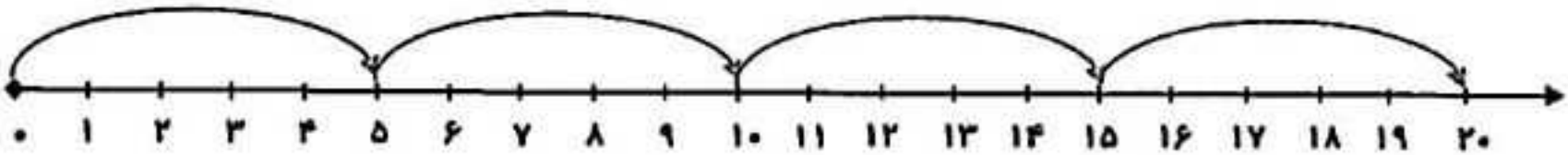
نام و نام خانوادگی

صفحه ۱۸

هدف: مرور دانسته ها

۱۳- اندازه‌ی یک ضلع باغ مربع‌شکلی، ۴۶۰ متر است. محیط باغ چه قدر است؟

۱۴- تساوی مربوط به هر محور را بنویس.



۱۵- رضا می‌خواهد ۶۷ کیلوگرم برنج را در بسته‌های ۸ کیلوگرمی بسته‌بندی کند.

الف) او چند بسته برنج درست می‌کند؟

ب) چند کیلوگرم برنج باقی می‌ماند؟



۱۶- به یکی از دو سؤال زیر، پاسخ بده.

۷- مجموع طول و عرض یک رومیزی ۸۴۰ سانتی‌متر است.

الف) محیط این رومیزی چند سانتی‌متر است؟

ب) اگر بخواهیم دور رومیزی را ۴ ردیف نوار بدوزیم، به چند سانتی‌متر نوار احتیاج داریم؟

۷- می‌خواهیم ۶ بسته‌ی شکلات ۱۲ تایی را به‌طور مساوی بین ۸ دانش‌آموز تقسیم کنیم. به هر نفر چند

شکلات می‌رسد؟

علوی

بنام خداوند جان و خرد

پایه:

موضوع:

تاریخ

نام و نام خانوادگی

هدف:

مرور دانسته های



علوم



پایه سوم

علوی شرق اطلاعات




علوی

مدارس هزاره سوم

بازخورد:

A large, empty rounded rectangular box with a dashed border, intended for a student's response.





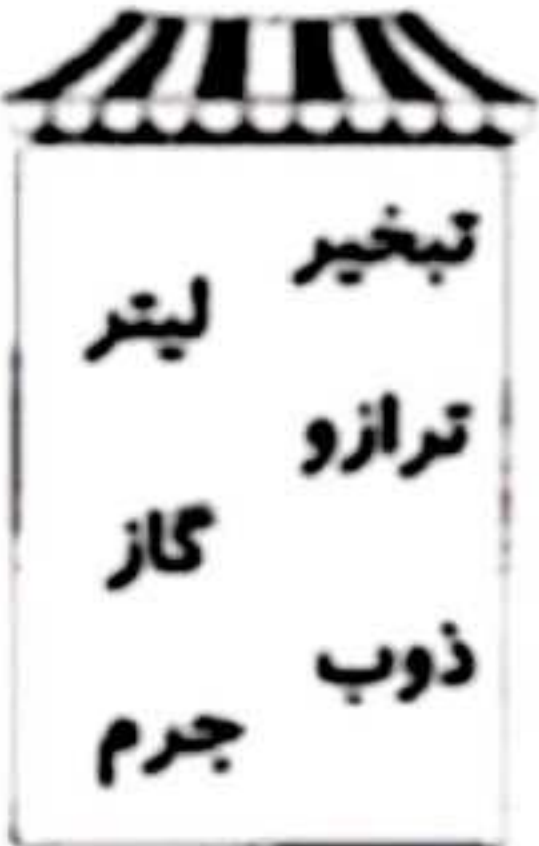
موضوع: فصل ۱ تا ۴

تاریخ

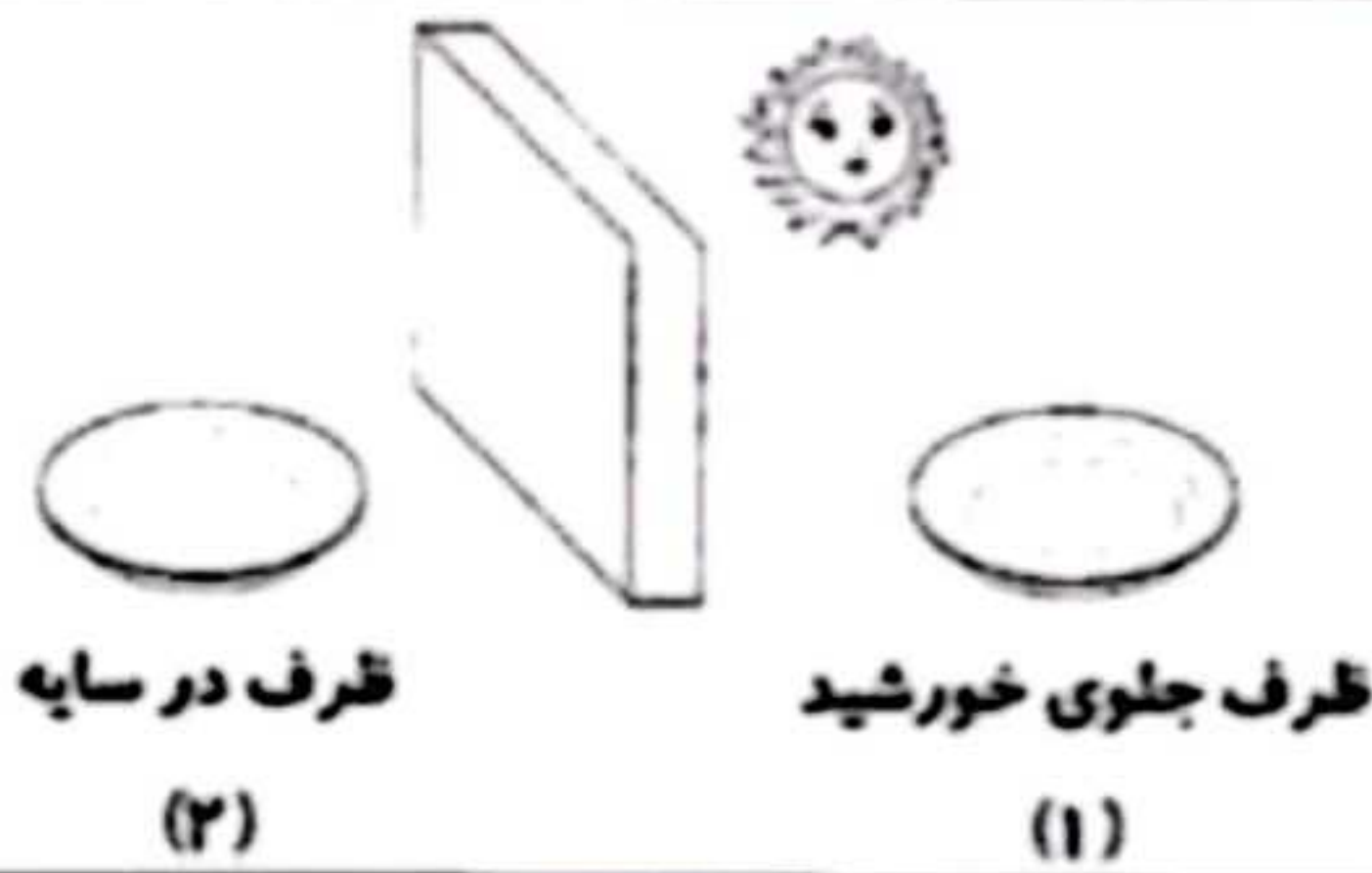
نام و نام خانوادگی

صفحه ۱

هدف: مرور دانسته ها



- ۱- با استفاده از کلمه های داده شده، جملات زیر را کامل کن.
- (الف) به موادی مانند هوا که در همه جای ظرف پخش می شوند، می گویند.
- (ب) تبدیل ماده از حالت جامد به حالت مایع، نامیده می شود.
- (ج) برای اندازه گیری مقدار مایعات، از واحدی به نام استفاده می کنیم.
- (د) جرم اجسام را با وسیله ای به نام اندازه گیری می کنند.



۲- کدام یک زودتر تبخیر می شود؟ ظرف شماره ی
چرا؟

۳- آب در طبیعت به چه حالت هایی دیده می شود؟



۴- مفاهیم زیر را تعریف کن.

↓ تبخیر:

↓ جرم:




۵- آیا جرم این سه شیشه یکسان است؟

چرا؟

۶- انواع ترازوها را نام ببر و کاربرد یکی از آنها را بنویس. (۴ مورد)



.....
.....
.....



موضوع: فصل ۱ تا ۴

تاریخ

نام و نام خانوادگی

صفحه ۲

هدف: مرور دانسته ها

۷- مواد زیر را در دو گروه جامد و مایع طبقه بندی کن و در جدول بنویس.

مایع	جامد



یک شباهت و یک تفاوت برای گروه های جامد و مایع بنویس.

شباهت:

تفاوت:

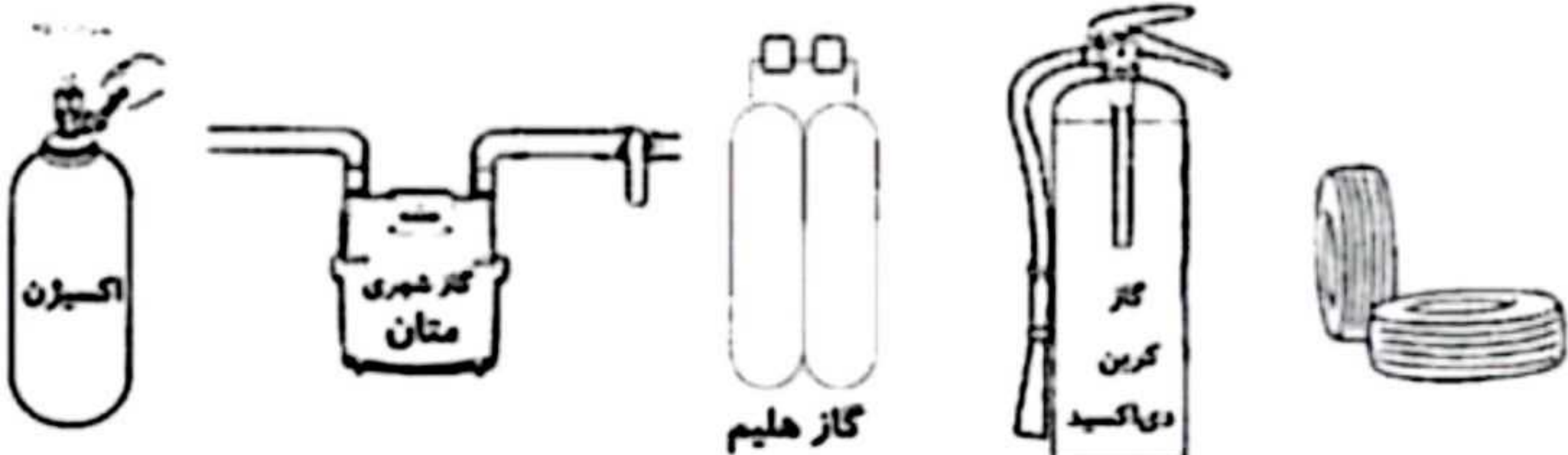
۸- اگر جرم مقداری نارگیل را اندازه گیری کنیم، سپس نارگیل را خرد کنیم و جرم خرده ها را اندازه گیری




کنیم. آیا تغییری در جرم آن ایجاد می شود؟

چرا؟

۹- تصویرهای زیر، استفاده های گوناگون از گازها را در زندگی نشان می دهند. هر تصویر را به گاز مورد استفاده در آن وصل کن.





موضوع: فصل ۱ تا ۴

تاریخ

نام و نام خانوادگی

صفحه ۳

هدف: مرور دانسته‌ها

۱۰- برای تهیه‌ی آش، مواد زیر را آماده کرده‌ایم. با توجه به جدول، به سؤالات پاسخ بده و نمودار را

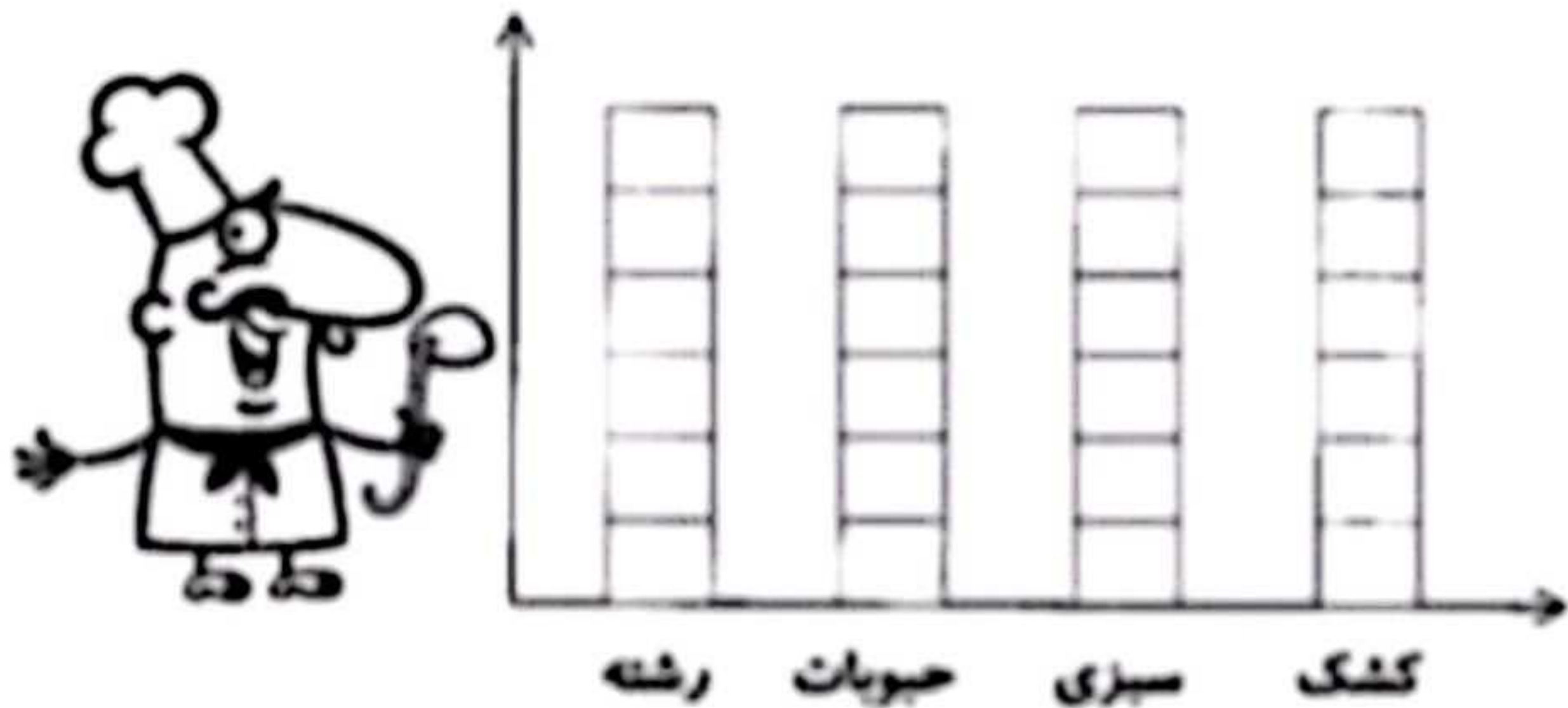
کامل کن.


جرم مواد	مواد
۳ کیلوگرم	رشته
۳ کیلوگرم	حبوبات
۵ کیلوگرم	سبزی
۲ کیلوگرم	کشک

♦ جرم کدام یک از مواد، بیش‌تر است؟

♦ جرم کدام یک از مواد، کم‌تر است؟

♦ جرم کدام یک از مواد جدول، یکسان است؟





موضوع: فصل ۴ تا ۶

تاریخ

نام و نام خانوادگی

صفحه ۴

هدف: مرور دانسته ها

۱- زیر کلمه‌ی درست، خط بکش تا جمله کامل شود.

الف) مقدار آب‌های (شور - شیرین) کره‌ی زمین، کم‌تر است.

ب) همیشه بخار آب در هوا وجود (ندارد - دارد).

ج) آب در زیرزمین وقتی به (شن و ماسه - سنگ) می‌رسد، در همان‌جا جمع می‌شود.

د) در تصفیه‌خانه برای از بین بردن (میکروب - گل‌ولای) آب، به آن مواد میکروب‌کش اضافه می‌کنند.

۲- آب‌های شور کره‌ی زمین برای چه کارهایی مناسب نیست؟ (۲ مورد)



.....

.....

۳- یک بادکنک بردار و آن را باد کن. چرا هنگام باد کردن بادکنک، اندازه‌ی آن به تدریج بزرگ‌تر می‌شود؟



۴- با توجه به تصویر روبه‌رو، یک پیام بنویس.


.....

۵- دو راه آلوده شدن آب‌های زیرزمینی را بنویس. (۲ مورد)

.....

.....

۶- آب رودها را در پشت یا جمع می‌کنند، بعد آن را به تصفیه‌خانه می‌فرستند.




موضوع: فصل ۴ تا ۶

تاریخ

نام و نام خانوادگی

صفحه ۵

هدف: مرور دانسته ها



۷- در تصفیه‌خانه برای اینکه گل‌ولای آب گرفته شود،

آب را از کجا عبور می‌دهند؟

.....



۸- رودها چگونه به وجود می‌آیند؟

.....
.....
.....




۹- با توجه به تصویر روبه‌رو، چرخه‌ی آب را توضیح بده و بنویس.

.....
.....
.....



۱۰- اگر ابرها به اندازه‌ی کافی سرد شوند، از آن‌ها چه چیزهایی می‌بارد؟

.....



موضوع: فصل ۵ تا ۱۰

تاریخ

نام و نام خانوادگی

صفحه ۶

هدف: مرور دانسته ها

۱- روی کلمات نادرست، خط بکش.

(الف) در آینه‌ی فرورفته، اگر جسم به آینه نزدیک شود، تصویر (کوچک‌تر / بزرگ‌تر) از اندازه‌ی جسم است.

(ب) هنگامی که با خمیر، بازی می‌کنیم، نیرو موجب تغییر (جهت / شکل) می‌شود.

(ج) قطب‌های غیرهمنام در آهن‌ریا یک‌دیگر را (می‌ریایند / می‌رانند).

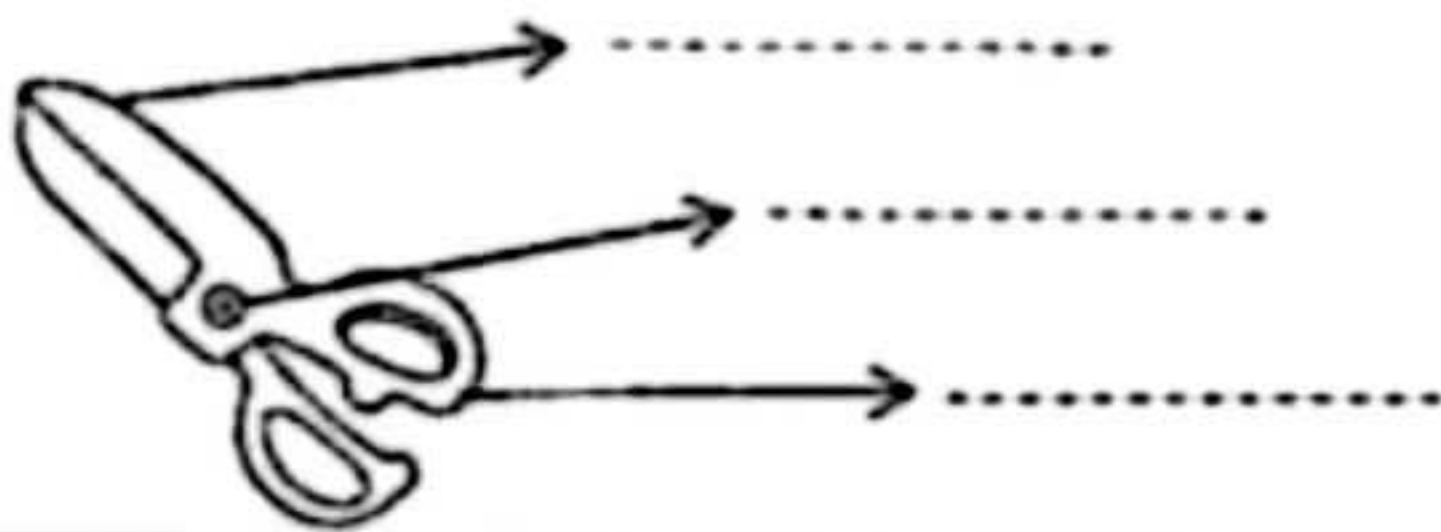
(د) هر قدر از سطح زمین دورتر شویم، نیروی جاذبه (کم‌تر / بیش‌تر) می‌شود.

۲- آب‌های زیرزمینی چگونه تشکیل می‌شوند؟

.....

.....

۳- سه قسمت اصلی این نوع اهرم را مشخص کن.



۴- کدام یک نشانه‌ی بازتاب نور از سطح یک جسم صیقلی است؟



۵- هنگام خرید مواد غذایی باید به چه نکاتی توجه کنیم؟ (۲ مورد)




.....

۶- مفاهیم زیر را تعریف کن.

جرم:

نیروی کشش زمین:

انجماد:



موضوع: فصل ۵ تا ۱۰

تاریخ

نام و نام خانوادگی

صفحه ۷

هدف: مرور دانسته ها

۷- کاربرد هر آینه را بنویس.



کاربرد	نوع آینه
	تخت
	برآمده

۸- نیرو در اجسام باعث چه چیزهایی می شود؟

.....

.....

۹- استفاده از آب دریاها برای چه مصارفی مناسب نیست؟ چرا؟



.....


.....

.....

۱۰- ابر چگونه تشکیل می شود؟

.....

.....



موضوع: فصل ۱۰ تا ۱۲

تاریخ

نام و نام خانوادگی

صفحه ۸

هدف: مرور دانسته ها

پاسخ درست را با علامت * مشخص کن.

۱- گل‌هایی که ۴ یا ۵ گلبرگی هستند، چه دانه‌هایی دارند؟

- الف) دانه‌های یک‌قسمتی ب) دانه‌های دو قسمتی ج) دانه‌های تک‌لپه‌ای

۲- کدام گیاه ریشه‌ی راست دارد؟

- الف) برنج ب) نخود ج) ذرت

۳- ماهی، نوزاد قورباغه، قورباغه‌ی بالغ به ترتیب با چه وسیله‌ای تنفس می‌کنند؟

- الف) آبشش، شش، آبششش ب) شش، آبشش، شش ج) آبشش، آبشش، شش

۴- کدام گزینه، جزو نیازهای گیاهان نیست؟

- الف) هوا ب) پوشاک ج) جای مناسب

هر جمله را به گزینه‌ی مناسب وصل کن

✧ تغییر جهت

✧

۱ سمندر جزو این گروه است.

✧ دوزیستان

✧

۲ هر چه جسم به تکیه‌گاه نزدیک‌تر شود، برای جابه‌جایی جسم:

✧ به نیروی کم‌تری نیاز داریم.

✧

۳ در بازی تنیس روی میز، نیرو باعث آن می‌شود.


به سوالات پاسخ مناسب بده.

۱- وظیفه و کار ریشه چیست؟ (۲ مورد)

۲- اگر نور به سطح صاف و صیقلی مانند آینه برخورد کند، نور را به‌طور بازتابش می‌کند.

۳- سه تا از ویژگی‌های ماهی‌ها را بنویس.





موضوع: فصل ۱۱ تا ۱۳

تاریخ

نام و نام خانوادگی

صفحه ۹

هدف: مرور دانسته ها

۴- با توجه به شکل، دوره‌ی زندگی قورباغه را شرح بده.



.....

.....

.....

۵- گیاهانی که دارای دانه‌های یک قسمتی هستند، چه ویژگی‌هایی در موارد زیر دارند؟

ریشه: برگ:

۶- خوراکی‌ها به ۴ دسته طبقه‌بندی می‌شوند. آن‌ها را نام ببر و بنویس.

.....

.....

۷- درختان کاج به جای گل و میوه، چه قسمتی دارند؟



دارای چه نوع برگی هستند؟

۸- نیروی کشش زمین در چه مواردی به ما کمک می‌کند؟


.....

.....

۹- یک شباهت و یک تفاوت برای خزندگان و پرندگان بنویس.

شباهت:

تفاوت:



موضوع: فصل ۱۲ و ۱۳

تاریخ

نام و نام خانوادگی

صفحه ۱۰

هدف: مرور دانسته ها

۱- خصوصیات خزندگان را کامل کن.

پوشش بدن:

تولیدمثل:

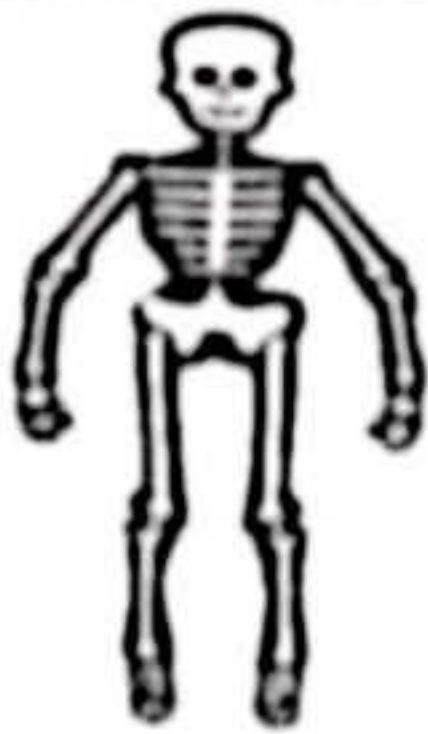
وسیله‌ی تنفسی:



نوع حرکت:

۲- کدام دسته از جانوران زیر، در گروه پستانداران قرار دارند؟

- الف) قورباغه، پنگوئن، دلفین ب) خفاش، ببر، خرگوش ج) وال، شتر، سمندر



۳- مهم‌ترین قسمت اسکلت مهره‌داران چه نام دارد؟

جنس اسکلت از چیست؟

اسکلت چه کارهایی برای بدن انجام می‌دهد؟

۴- کدام یک از گروه‌های زیر، دوره‌ای از زندگی خود را در خشکی و دوره‌ای را در آب می‌گذرانند؟

- الف) خزندگان ب) دوزیستان ج) ماهی‌ها

۵- کدام وسیله برای ساده کردن کار انسان با صرف نیروی کم مورد استفاده قرار می‌گیرد؟

- الف) قیچی باغبانی ب) فندق‌شکن ج) هردو گزینه


۶- یک شباهت و یک تفاوت برای گروه‌های خزندگان و پرندگان بنویس.

شباهت:

تفاوت:

۷- پوشش بدن کدام جانور، شبیه پوشش بدن ببر است؟





موضوع: فصل ۱۴

تاریخ

نام و نام خانوادگی

صفحه ۱۱

هدف: مرور دانسته ها



- ۱- با استفاده از کلمات داده شده، جمله‌ها را کامل کن.
- ⊕ یکی از روش‌های مواد غذایی، افزودن نمک به آنها است.
 - ⊕ در روش صنعتی، مواد غذایی را در آماده و بسته‌بندی می‌کنند.
 - ⊕ علت اصلی افتادن اجسام، نیروی است.
 - ⊕ مقدار ماده‌ی تشکیل‌دهنده‌ی هر جسم را آن جسم می‌گویند.

۲- چند نمونه از روش‌های نگهداری مواد غذایی را نام ببر. (۳ مورد)

.....

.....




- ۳- با توجه به تصویر، پاسخ سؤالات زیر را بنویس.
- الف) در ظرف روبه‌رو چه ماده‌ای وجود دارد؟
 - ب) آن را از چه چیزی تهیه می‌کنند؟
 - ج) آن را چگونه درست می‌کنند؟

۴- چرا در گذشته برای نگهداری گوشت، آن را در سبدهای توری در سایه آویزان می‌کردند؟

۵- کلمه‌های مناسب را به جمله‌ی مربوط به آن وصل کن.

- | | |
|--------------|-----------------------------|
| ✦ آفتابگردان | ✦ حالت گازی دارد. |
| ✦ لوبیا | ✦ ریشه‌ی افشان دارد. |
| ✦ اکسیژن | ✦ گیاهی که گلبرگ زیاد دارد. |
| ✦ ذرت | ✦ گیاهی که برگ پهن دارد. |



موضوع: فصل ۱۴

تاریخ

نام و نام خانوادگی

صفحه ۱۲

هدف: مرور دانسته ها

۶- چرا در گذشته به بعضی از مواد غذایی، نمک فراوان می زدند؟



۷- وظایف ساقه ها در گیاهان چیست؟ (۲ مورد)

- هنگام خرید کنسروها و کمپوت ها باید به چه نکاتی توجه کنیم؟ (۲ مورد)



۸- قدیمی ترین خنک کننده ی مواد غذایی چه بوده است؟

الف) یخدان ب) یخچال ج) چاه یخی

۹- چرا باید از روش های نگهداری مواد غذایی استفاده کنیم؟

۱۰- زیر هریک از روش های نگهداری مواد غذایی یک نمونه بنویس.

استفاده از نمک و آب نمک	خشک کردن	سرد نگه داشتن
.....



علوی

بنام خداوند جان و خرد

پایه:

موضوع:

تاریخ

نام و نام خانوادگی

هدف:

مرور دانسته های



فارسی



پایه ی سوم

علوی شرق اطلاعات



بازخورد:





موضوع: فارسی درس ۱ و ۲

تاریخ

نام و نام خانوادگی

صفحه ۱

هدف: مرور دانسته ها



۱- با هر یک از کلمه های زیر، یک جمله ی زیبا و کامل بنویس.

به عادت:

به مهارت:

۲- جاهای خالی را با کلمات مناسب کامل کن.

✿ با پدرشان به سینما رفتند.

✿ من همین الان از مدرسه

✿ شما خوب درس هایتان را

✿ امروز به مدرسه می رود.

۳- با توجه به کلمات زیر، هم خانواده ها را پیدا کن و در یک گروه بنویس.

عظمت - اطراف - موضوع - عظیم - معرفی - موضوعات - طرف - تعارف

(.....)

(.....)

(.....)

(.....)



۴- کلمات هم معنی را به یکدیگر وصل کن.

بزرگی

انتها

تلاش

حیرت

آخر

عظمت

تعجب

جنب و جوش

۵- مخالف کدام کلمه، درست نیست؟

سفید ≠ سیاه

ضرر ≠ زیان

رفت ≠ آمد

دوست ≠ دشمن

۶- هر یک از کلمات زیر را با «ات، ها، ان» جمع ببند و در جای مناسب خودش بنویس.

کلمه	ها	ات	ان
مادر			
پرنده			
لحظه			





موضوع: فارسی درس ۱ و ۲

تاریخ

نام و نام خانوادگی

صفحه ۲

هدف: مرور دانسته ها

۷- در جمله های زیر، علامت های مناسب { ، - ؛ - ؟ - . } قرار بده.

امید خود را معرفی کرد و گفت نه ما تازه به این محله آمده ایم امیدوارم بتوانم دوستان جدیدی در اینجا پیدا کنم راستی نگران به نظر می رسی مشکلی پیش آمده

۸- ادامه بده.



در یکی از، روزهای بارانی فصل پاییز به

.....

.....

.....

.....

۹- کلمه های زیر را به صورت جمله های معنی دار، مرتب کن و بنویس.

الف) مسابقه ای، برگزار می شود، محله ای ما، و محله ای، امروز، بهارستان، بین تیم

.....

ب) صحبت های، نام نویسی کردم، دوره ای آموزشی، در، مرتبی شنا، پس از

.....



۱۰- با شنیدن نام کلمه ای ورزش، به یاد

چه کلمه هایی می آفتی؟ بنویس.



۱۱- باتوجه به تصویر روبه رو، یک بند در مورد، درس و مدرسه بنویس.

.....

.....

.....



موضوع: فارسی درس اول تا آخر فصل ۵

تاریخ

نام و نام خانوادگی

صفحه ۳

هدف: مرور دانسته ها

۱- با هریک از کلمات زیر، یک جمله‌ی زیبا بنویس.



- گردش علمی:
- موفقیت:
- موضوع:
- انتظار:

۲- هر عبارت زیر را با توجه به نشانه‌ی «ی» یا «-» کامل کن و در جدول بنویس.

نماینده گروه، اطراف لانه، نوشته شما، صاحب کشتزار، کلاس منظم، آشیانه بلدرچین

«-»	«ی»
.....
.....
.....



۳- هم خانوادگی کلمات زیر را بنویس.

غریق ←
 لحظه ←
 صبور ←
 متعجب ←

۴- جملات زیر را از شکل گفتاری به نوشتاری تبدیل کن و بنویس.

⊗ انسان عادت داره محیط زندگیشو پاکیزه نگه داره.



⊗ بهم گفته بود که فردا می‌آد خونمون.



موضوع: فارسی درس اول تا آخر فصل ۵

تاریخ

نام و نام خانوادگی

صفحه ۴

هدف: مرور دانسته ها

۵- در متن زیر، علائم نگارشی { : - ، - . - ؟ - ! - ، } را قرار بده.



- شبی جوجه‌ها به پدر و مادر خود گفتند ○○ امروز صاحب کشتزار ○
 پسرش را نزد همسایه‌ها فرستاد تا از آن‌ها بخواهد که فردا برای درو ○
 به کمک آن‌ها بیایند ○○ یکی از جوجه‌ها با نگرانی گفت ○○
 اگر فردا این کشتزار را درو کنند ○ چه کنیم ○○

۶- با توجه به تصویر، دو سطر درباره‌ی آن بنویس.



.....

۷- جمله‌های ناتمام زیر را کامل کن و بنویس.

- ◇ معلم از دانش‌آموزان خواست که
 ◇ برای انجام کارها نباید به امید دیگران باشیم، زیرا

۸- کلمه‌ی زیر، به چند شکل خوانده می‌شود؟ با هر شکل آن، یک جمله بنویس.



- شکر:
 شکر:

۹- فعل جمله‌ی زیر را به زمان حال، تبدیل کن.

- خواهر و برادرهای مورچه ریزه، خاک‌بازی کردند.

.....

۱۰- کلمات هم‌معنی را با خط به هم وصل کن.

- | | |
|---------------------|-------------|
| ◇ خوشایند و پسندیده | ◇ طراوت |
| ◇ بدون تحمل | ◇ دل‌نشین |
| ◇ کشاورز | ◇ بی‌صبرانه |
| ◇ شادابی | ◇ منتظر |
| ◇ چشم‌به‌راه | ◇ برزگر |





موضوع: فارسی درس اول تا آخر ۸

تاریخ

نام و نام خانوادگی

صفحه ۵

هدف: مرور دانسته ها

۱- جملات مربوط به هر گروه از کلمات زیر را بنویس.



به، دهقانان، معلمان، ما، افتخار می کنیم، این گونه، و، فداکار، دانش آموزان

مگر، سعادت مند، نخواهید شد، چیزی را که، نیازمندان، دوست دارید، به، ببخشید، هرگز

۲- یک کلمه به واژه‌ی «سر» اضافه کن، سپس با هر یک جمله بساز و بنویس.

سر + = :

سر + = :

۳- کلمات هم معنی را هم رنگ کن.



افتخار

سرحال

لطیف

دلیرانه

فوری

حتمی

بانشاط

سربلندی

سریع

قطعی

نرم و خوشایند

شجاعانه

۴- با توجه به کلمه‌های داخل پرانتز، جمله‌ها را تغییر بده.

الف) من امروز به مادرم کمک می کنم. (دیروز)

ب) بچه‌ها با معلم خود به گردش می روند. (آینده)

۵- در جاهای خالی، کلمه‌ی مناسب بنویس.

..... + کش = : وسیله‌ای که دود را از خانه بیرون می کشد.

..... + گاه = : محلی که در آن ورزش می کنند.

۶- به ابتدای کلمه‌های زیر، کلمه‌ی «خوش» اضافه کن و با کلمه‌ی جدید، جمله بساز و بنویس.

..... بو: خوش
..... رفتار: خوش



موضوع: فارسی درس اول تا آخر ۹

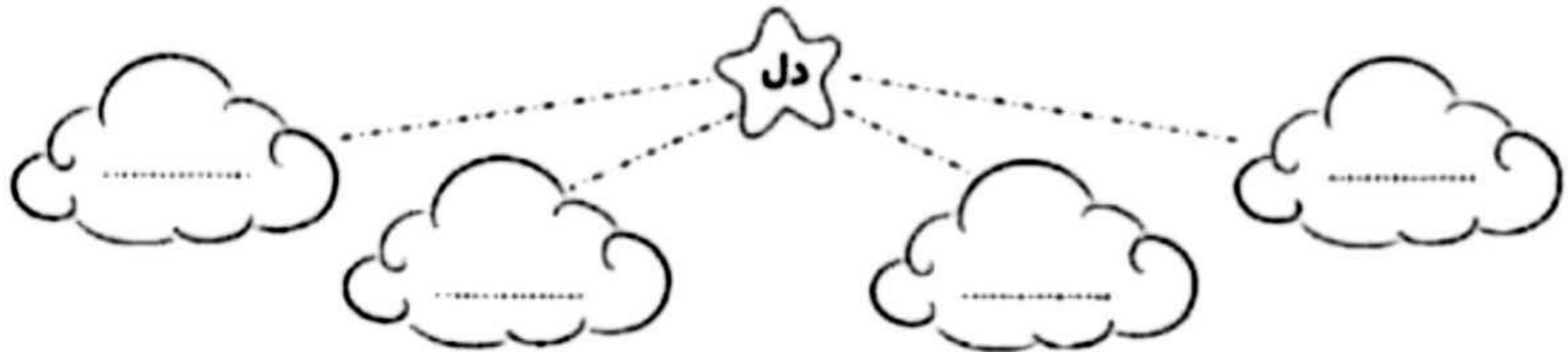
تاریخ

نام و نام خانوادگی

صفحه ۶

هدف: مرور دانسته ها

۱- واژه‌هایی بنویس که با کلمه‌ی «دل» ترکیب شده باشند.



۲- هر کلمه را با یک خط به هم معنی خودش وصل کن.

- | | |
|---------------------|------------|
| ◇ خوشایند و پسندیده | ◇ انتظار |
| ◇ مثل، مانند | ◇ بی‌انتها |
| ◇ شکیبایی | ◇ دل‌نشین |
| ◇ بی‌پایان | ◇ شبیه |

۳- کلمات در هم ریخته‌ی زیر را مرتب کن و به صورت جمله‌ی کامل بنویس.

* چشم‌نواز - رنگارنگ - پرندگان - است - پرهای

.....

* عادت - محیط زندگی - نگه‌دارد - انسان هم - خود را - دارد - پاکیزه

.....

۴- کامل کن.

▷ معلم گفت: هوای پاکیزه

▷ خیلی دلم می‌خواهد

۵- برای هر یک از کلمات زیر، یک هم‌خانواده بنویس.





موضوع: فارسی از اول تا آخر درس ۱۲

تاریخ

نام و نام خانوادگی

صفحه ۷

هدف: مرور دانسته ها

با استفاده از کلمه های داده شده، جملات را کامل کن.

سعدی با قرآن و نیز آشنایی کامل داشت.

طبیعت ایران در هر فصل، زیبایی دارد.

خیلی خوش حالم از این که شما هر روز همراه من، بزرگ تر و می شوید.

آلودگی صوتی باعث می شود و دقت شما را برای درس خواندن کم می کند.

هر یک از این کلمه های را با واژه ی «گاه» ترکیب کن و با آن ها جمله بساز و بنویس.

احادیث
خستگی
بأسوادتر
خاصی
بیش تر
خاطرات



ورزش

دانش

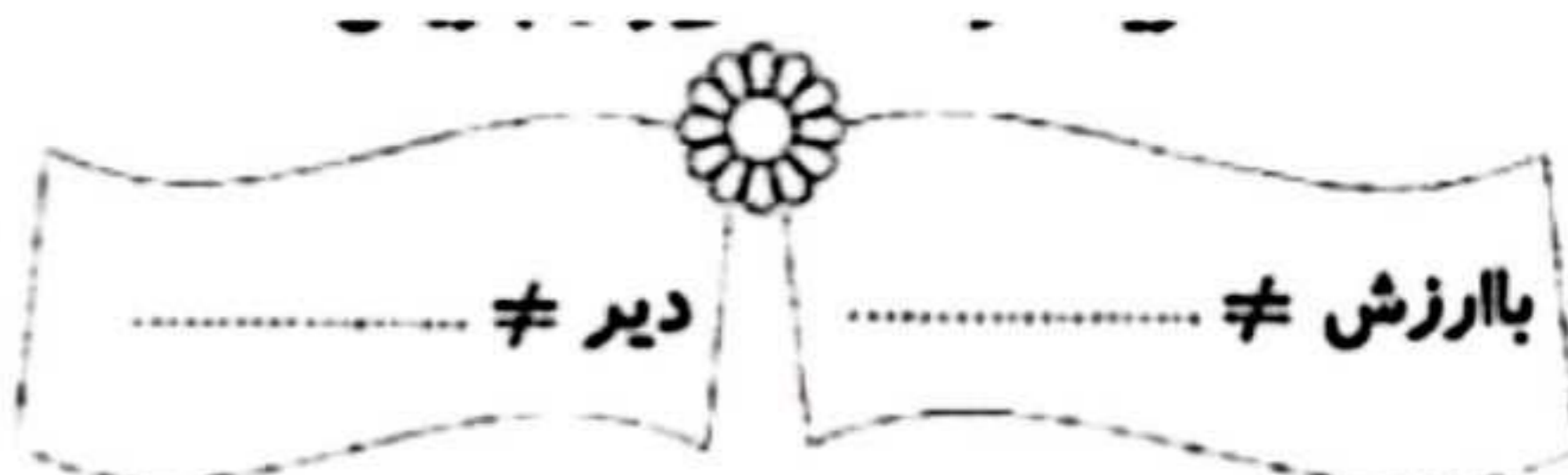
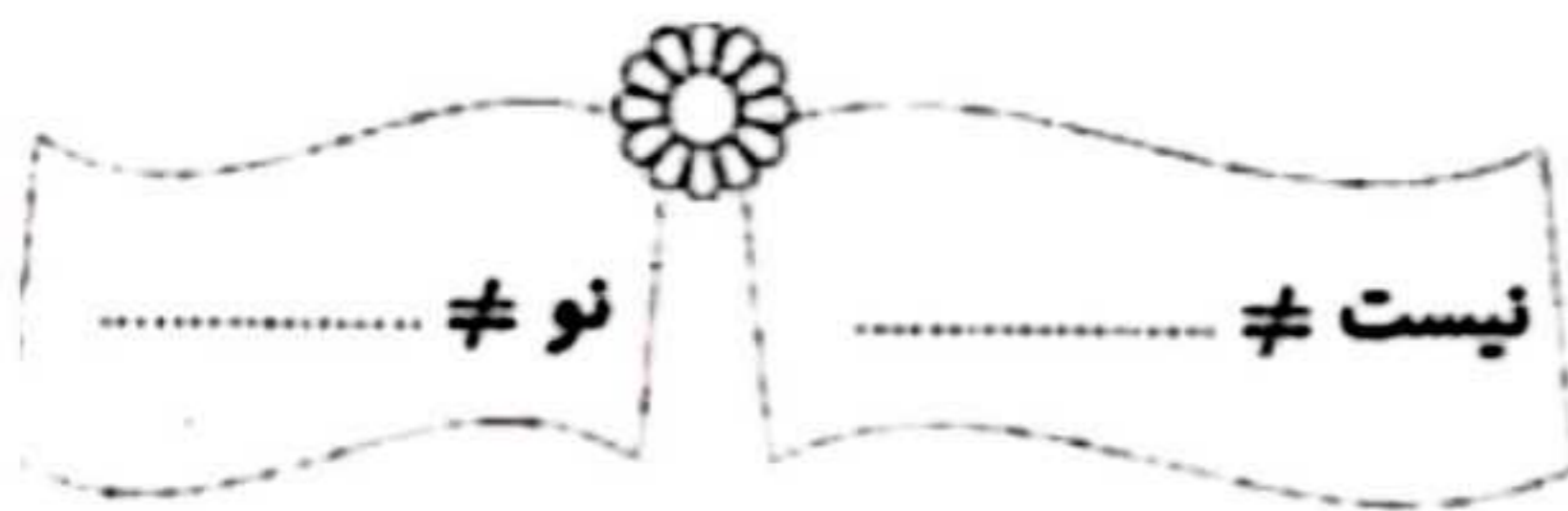
کدام گروه از کلمات زیر، هم خانواده هستند؟

الف) احادیث، حدیث، حادثه

ج) آثار، متأثر، اثر


ب) عاقل، عاقلانه، عقل

د) حکایت، حکایات، حاکمان



- کلمات مناسب را به هریک از واژه های زیر وصل کن.





موضوع: فارسی از اول تا آخر درس ۱۵

تاریخ

نام و نام خانوادگی

صفحه ۸

هدف: مرور دانسته ها

۱- هم معنی کلمات زیر را بنویس.

افتخار: ■ برازنده: ■ دلاورانه: ■ زلال:

۲- هر گروه از کلمات هم خانواده را، در جاهای خالی بنویس.



..... :
 :
 :
 :


۳- جمع هر یک از کلمات زیر را بنویس.

منطقه: ■ عضو: ■ حدیث: ■ فرمانده:

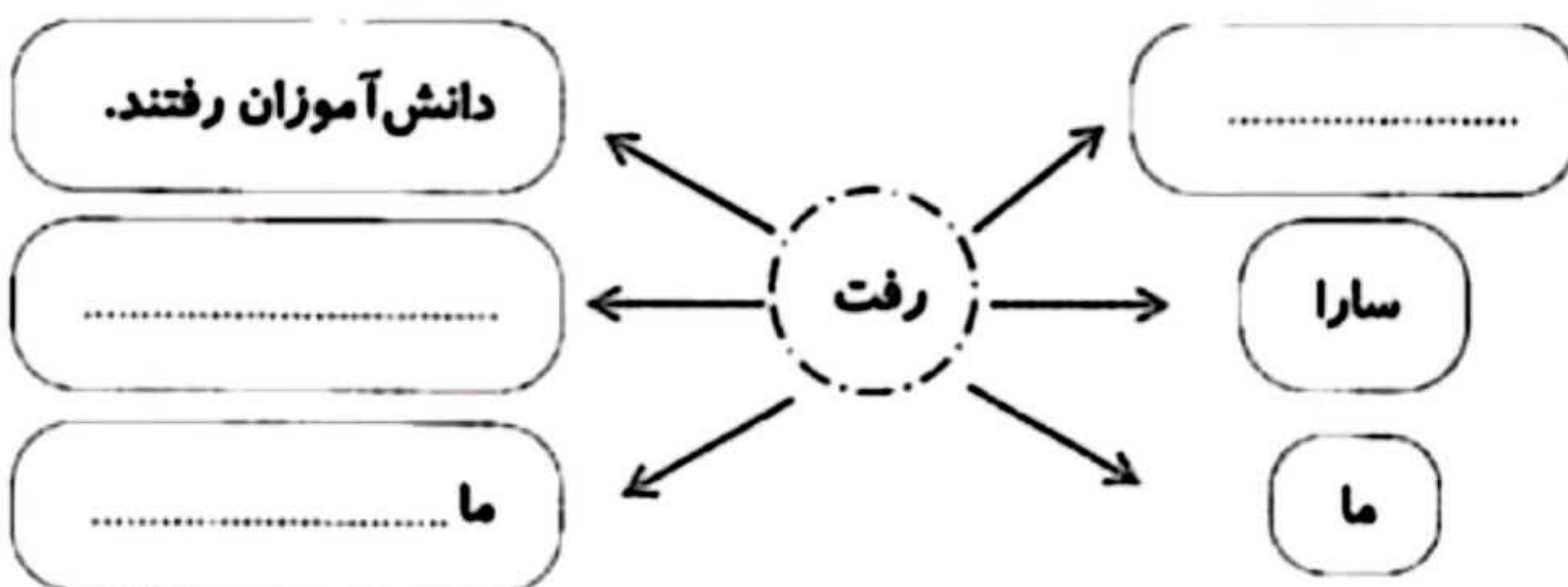
۴- در جدول زیر، کلمات مثل هم را هم رنگ کن.



سرحال	سودمند	نمایشگاه
آسایشگاه	دلپذیر	سربند
دلخواه	کارگاه	توانمند
دانشمند	سرافراز	دلگرم



۵- کامل کن.





موضوع: فارسی از اول تا آخر درس ۱۵

تاریخ

نام و نام خانوادگی

صفحه ۹

هدف: مرور دانسته ها



۶- در جای خالی، کلمات مناسب بنویس.

الف) به جایی که در آن نان می‌پزند، می‌گویند.

ب) به جایی که در آن عکس می‌اندازند، می‌گویند.

۷- کدام فعل در پایان جمله‌ی زیر قرار می‌گیرد؟

بچه‌های تیم فوتبال، همگی تصمیم خوبی

الف) خوردند ب) بردند ج) گرفتند د) گرفتید

۸- در عبارت‌های زیر، از چه شباهتی استفاده شده است؟

الف) معلم مانند شمعی فروزان است.

ب) برق چون شمشیر بر آن پاره می‌کرد ابرها را

۹- دو سطر درباره‌ی تصویر بنویس.



.....

.....

.....

.....

۱۰- کدام گزینه را نباید در نوشتن استفاده کرد؟

الف) محمد به سینما رفت. ج) پدرم مقررات راهنمایی و رانندگی را رعایت می‌کند.

ب) اون بهم گفته بود، برو طبقه‌ی بالا د) ما به همراه پدر بزرگ و مادر بزرگ به گردش رفتیم.

۱۱- کلمه‌های مربوط به هم را با یک خط به یکدیگر وصل کن.



دهانه‌ی	کلاس
زبان‌ی	هواپیما
گوشه‌ی	غار
دماغه‌ی	قفل



موضوع: فارسی از اول تا آخر درس ۱۶

تاریخ

نام و نام خانوادگی

صفحه ۱۰

هدف: مرور دانسته ها



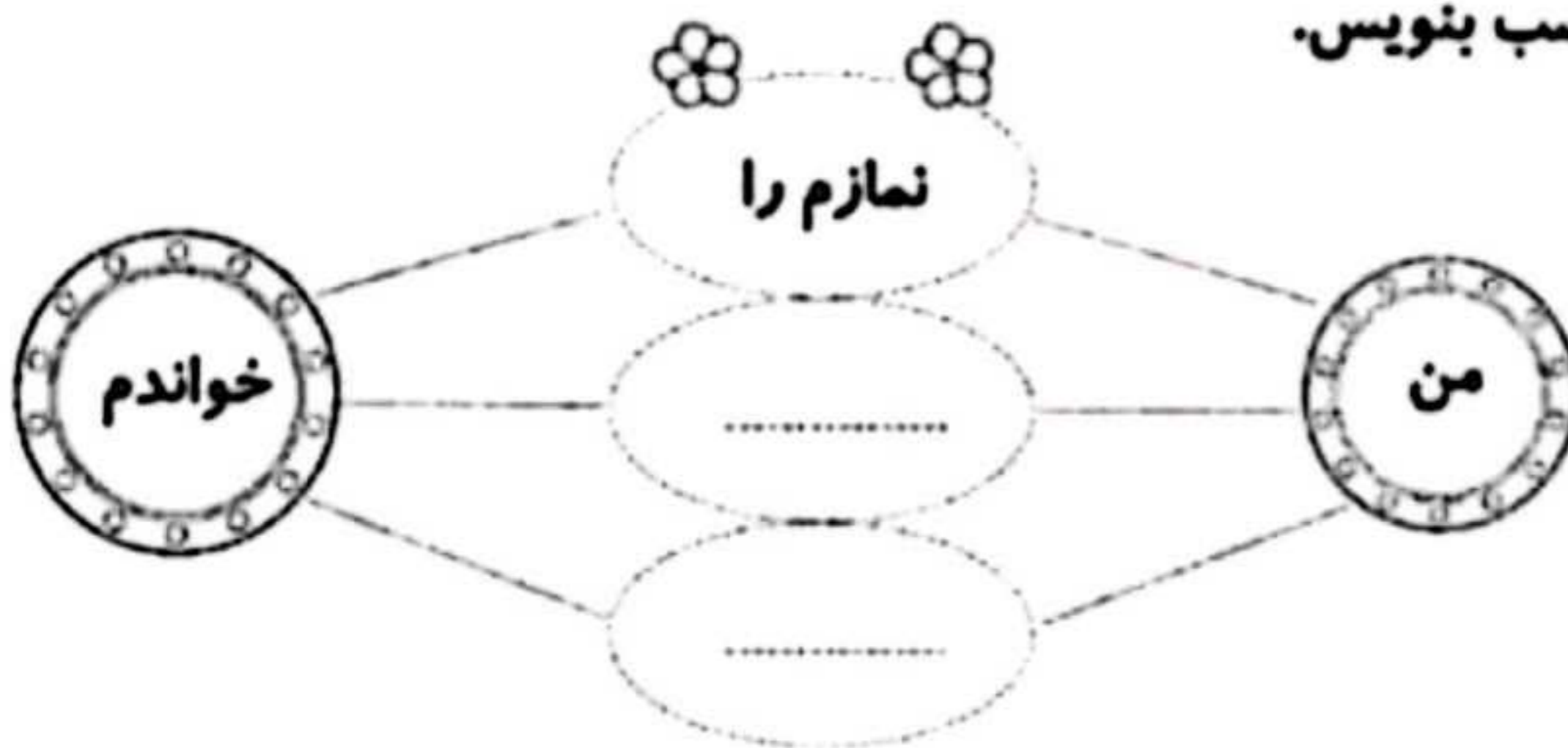
۱- معنی هر عبارت زیر را بنویس.

- چشم غمناک یعنی:
- خاک نمناک یعنی:

۲- کدام کلمه هم خانواده‌ی «درس» نیست؟

- الف) مدرسه ب) تدریس ج) آدرس د) مدرّس

۳- در جاهای خالی، کلمه‌ی مناسب بنویس.



۴- دور کلمه‌هایی که زمان آینده را نشان می‌دهند، خط بکش.

کاشته بودم، خواهم رفت، می‌آییم، گفته بود، خواهی رفت

۵- در کدام گزینه، «تشبیه» به کار رفته است؟

الف) جنگل محلّ استراحت است.

ج) باید جنگل را حفظ کنیم.

ب) جنگل مثل فرشی سبز پهناور و گسترده است. د) صدای غرّش جانوران، سکوت جنگل را می‌شکند.

۶- جمله‌ی زیر را با توجه به کلمات داخل کمانک، تغییر بده و بنویس.

«در کلاس بچه‌ها به دو گروه سه نفره تقسیم شدند.»

(زمان حال)

(زمان گذشته)



موضوع: فارسی کل کتاب

تاریخ

نام و نام خانوادگی

صفحه ۱۱

هدف: مرور دانسته ها

۱- با هریک از کلمات زیر، جمله‌ی زیبا بنویس.



- لذت بخش:
- خورشید:
- استراحت:
- تعجب:

۲- کلمات هم معنی را هم رنگ کن.

پهناور	صمیمی	افق	غمناک
همدل و مهربان	غمگین	وسیع	کنار آسمان

۳- جاهای خالی را با کلمه‌ی مناسب کامل کن.



- اگر جنگل نباشد، باران را می‌شوید.
- بوی پونه‌های وحشی و صدای چشمه‌ای که در دامنه‌ی کوه روان بود.
- ایران عزیز، سرزمینی که به فرهنگ خدمت کرد.
- بزرگتر به پسرش گفت که دیگر نباید به این و آن باشیم.

۴- زمان این جمله را مشخص کن.

همچنان که مشغول سفر خیالی بودم، صدایی مرا به خود آورد،

- الف) گذشته ○ ب) حال ○ ج) آینده ○

۵ در متن زیر، علائم نگارشی { ، ، ، ، } قرار بده.

حکیم گفت ○ ○ ای نادان ○ تو که نمی‌توانی یک موش را در جعبه نگه داری ○ چه طور می‌توانی رازی را نزد خود حفظ کنی ○ ○



موضوع: فارسی کل کتاب

تاریخ

نام و نام خانوادگی

صفحه ۱۲

هدف: مرور دانسته ها

۶- هر یک از کلمه‌های زیر را با «انه»، ترکیب کن و سپس با هر کدام یک جمله بساز و بنویس.

کنجکاو + انه:

مادر + انه:



۷- جاهای خالی را با کلمه‌ی مناسب کامل کن.

من برای رسیدن به هدف تلاش

برای رسیدن به هدف تلاش می‌کنند.

ما برای رسیدن به هدف تلاش

۸- یادداشت‌برداری یعنی نوشتن:

الف) آن‌چه می‌شنویم. ب) آن‌چه می‌خوانیم. ج) آن‌چه می‌بینیم. د) همه‌ی موارد

۹- جمله‌های زیر را با کلمه‌های داخل کمانک تغییر بده و بنویس.

ما هر سال به مشهد سفر می‌کنیم. (تابستان آینده)

.....

آن‌ها امروز مسابقه‌ی فوتبال را تماشا کردند. (دیشب)

.....

۱۰- کدام کلمه با بقیه فرق دارد؟

الف) گلستان ب) کودکستان ج) تابستان د) بیمارستان