



شماره‌ی

۲۲

ارمغان هفته - سوم دبستان

نام و نام خانوادگی: تاریخ: نام آموزگار:

مطالعات اجتماعی < دوره نیمسال دوم
هدیه‌های آسمان < دوره نیمسال دوم
قرآن < دوره نیمسال دوم

ریاضی < دوره نیمسال دوم
علوم < دوره نیمسال دوم
فارسی < دوره نیمسال دوم

ریاضی

۱ سه مرغ داریم که هر کدام روزی ۴ تخم می‌گذارند. بعد از یک هفته چند تخم مرغ خواهیم داشت؟

بعد از یک هفته ۸۴ تخم مرغ خواهیم داشت

$$3 \times 4 = 12$$

$$\begin{array}{r} 12 \\ \times 7 \\ \hline 84 \end{array}$$

۱۰+۲

۲ کشاورزی $\frac{2}{3}$ زمین خود را گندم و $\frac{3}{5}$ زمین را جو کاشته است. چه کسری از زمین زیر کشت رفته است؟ سطح زیر کشت کدام یک بیش تر است؟ (با رسم شکل انجام شود).

شکل استباه است

$$\frac{2}{3} + \frac{3}{5} = \Rightarrow \text{خواندن}$$

(کسرها داده شده در سوال نیاز به جمع مشترک دارند)
(در سطح پایه چهارم ملاحظه است باید جمع کسرها را بلد بود)

$$\begin{array}{r} 71 \\ 9487 \\ - 5236 \\ \hline 4244 \end{array}$$

$$\begin{array}{r} 1342 \\ \times 3 \\ \hline 4026 \\ + 3984 \\ \hline 4026 \\ + 3984 \\ \hline 4026 \\ + 3984 \\ \hline 4026 \end{array}$$

۱۰۰۰+۳۰۰+۴۰
+۲

۳ حاصل عبارت‌های زیر را به دست آورید.


$$\begin{array}{r} 47 \\ - 42 \\ \hline 5 \end{array}$$

$$\begin{array}{r} 462 \\ \times 7 \\ \hline 3234 \end{array}$$

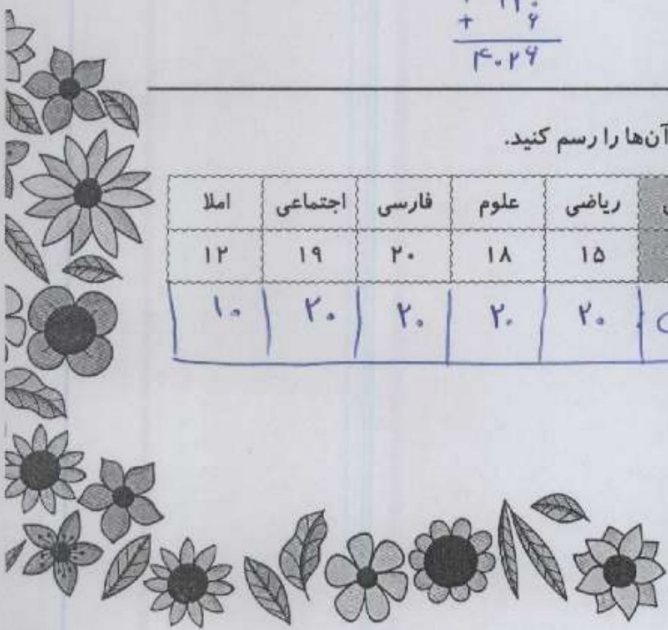
۴۰+۲۰+۲

۴ داده‌های زیر مربوط به نمرات برنامی باشد. نمودار دایره‌ای و ستونی آن‌ها را رسم کنید.

نام درس	ریاضی	علوم	فارسی	اجتماعی	املا
نمره	۱۵	۱۸	۲۰	۱۹	۱۲
تقریبی	۲۰	۲۰	۲۰	۲۰	۱۰



۱

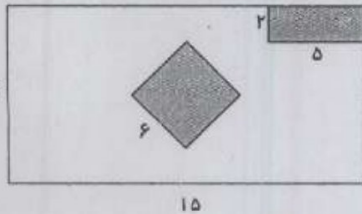




در جاهای خالی کلمات مناسب بنویسید.

- (الف) حاصل ضرب هر عدد در صفر برابر با صفر است.
 (ب) به مثلثی که سه ضلع هم اندازه داشته باشد مثلث مساوی الساقی گویند.
 (پ) به جواب تقسیم باقی‌مانده گفته می‌شود.

اتاق پدر بزرگ به شکل مستطیل است. او یک کمد به شکل مستطیل و یک فرش به شکل مربع در اتاق گذاشته است. با توجه به شکل بگویند چقدر از اتاق فضای خالی است؟



$$\begin{aligned}
 & \left. \begin{aligned}
 \text{مساحت کمد} &= 2 \times 5 = 10 \\
 \text{مساحت فرش} &= 6 \times 6 = 36
 \end{aligned} \right\} 10 + 36 = 46 \\
 & \text{مساحت اتاق} = 15 \times 9 = 135 \\
 & \text{مساحت فضای خالی} = 135 - 46 = 89
 \end{aligned}$$

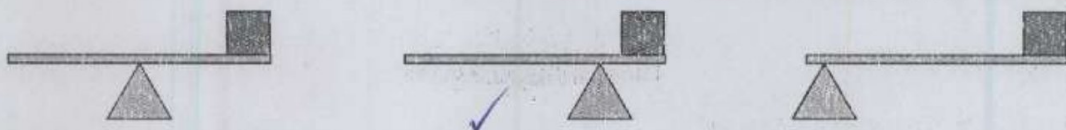
در هر کدام، چه تغییر حالتی رخ می‌دهد؟

- (الف) درست شدن آلبالو خشکه: تبخیر
 (ب) تشکیل شبنم روی گل‌ها: میعان
 (پ) گرفتن آب شیرین از آب شور: تبخیر و میعان
 (ت) ناپدید شدن قرص نفتالین: تبخیر

در هر مورد از چه آینه‌ای استفاده می‌شود؟


- (الف) دندان پزشکی: آینه مخرور رفته
 (ب) آینه‌ی آرایشگاه: آینه تخت
 (پ) زیبایی: آینه تخت
 (ت) کوره‌های برقی: مخرور رفته
 (ب) آینه‌ی بغل اتومبیل: آینه برآمده
 (ج) آینه‌ی سرپیچ جاده‌ها: آینه برآمده

در کدام اهرم زیر برای جابه‌جا کردن جعبه، نیروی کم‌تری لازم است؟



موارد خواسته شده را نام ببرید.

- (الف) دو کاربرد آینه‌ی فرو رفته: دندان پزشکی - چراغ قوه
 (ب) دو کاربرد آینه‌ی برآمده: آینه بغل اتومبیل - آینه‌های آرایشگاه
 (پ) دو کاربرد آینه‌ی تخت: آینه‌های آرایشگاه - آینه‌های آرایشگاه
 (ت) دو منبع نور طبیعی: خورشید - ستارگان
 (ث) دو منبع نور مصنوعی: لامپ روشنایی - لنت ماشین



فارسی

۱) معنی کلمات زیر را بنویسید.

<div style="border: 1px solid black; padding: 2px; display: inline-block;">غوطه</div> ← <div style="border: 1px dashed black; padding: 5px; display: inline-block;">...مخرو و زمین در آبر</div>	<div style="border: 1px solid black; padding: 2px; display: inline-block;">نغمه</div> ← <div style="border: 1px dashed black; padding: 5px; display: inline-block;">...سرو و در صدای خوش</div>
<div style="border: 1px solid black; padding: 2px; display: inline-block;">حوض</div> ← <div style="border: 1px dashed black; padding: 5px; display: inline-block;">جایی برای نگهداری آب</div>	<div style="border: 1px solid black; padding: 2px; display: inline-block;">فضایی</div> ← <div style="border: 1px dashed black; padding: 5px; display: inline-block;">هر لوط به مفضا</div>

۲) کلمات زیر را بخوانید و کلمات غلط را زیر آن خط کشیده و صحیح آن را بنویسید.

دهاشیه ، حفظ ، نهراسیم ، اهادیث ، بغداد ، نغمه ، فانوس ،

حاسب ، اجاریت ، نغمه

۳) بیت‌ها زیر را کامل کنید.

ملک ایران یکی گلستانست مایل سرخ این گلسایم
 از صدای شورش آوازم ناودان‌ها کاشی کبریز بود
 گفت پس با این هم یک نفر هم بازیست

۴) در جاهای خالی واژه‌ی مناسب بگذارید.

(الف) شخصی که دانش بسیار دارد، دانشمند است.

(ب) نابینا کسی است که نان می‌پزد و محل کار او نانوا است.

(پ) خاک نمناک یعنی خاکی که رطوبت دارد.

۵) برای اسامی زیر، نشانه‌های احترام را جلویشان بنویسید.

حضرت محمد (ص)

حضرت علی (ع)

حضرت رقیه (س)

حضرت زهرا (س)

مطالعات اجتماعی

۱) الف) چرا باید زباله‌ها را در ساعتی که شهرداری معین کرده به محل جمع‌آوری آن ببریم؟

تا حیواناتی مانند سگ و گربه ... آلودگی در خیابان بریزند و باعث بیماری بسود و ... زباله‌ها

ب) چرا حتماً باید در سطل‌های مخصوص شهرداری زباله‌ها را بندازیم؟

تا بیماری‌ها منت بخت زباله نگذرد

مراحل تولید پلاستیک را بنویسید.

کارخانه‌ی پلاستیکی

مواد پلاستیکی ... کارخانه تولید ... و ... چاه نفت

جاهای خالی را با کلمات مناسب کامل کنید.

الف) به خاک، آب، گیاهان، جانوران، نفت و فلزات ... می‌گویند.

ب) برای دامپروری به ... آب ... و خاک و ... گیاهان ... نیاز داریم.

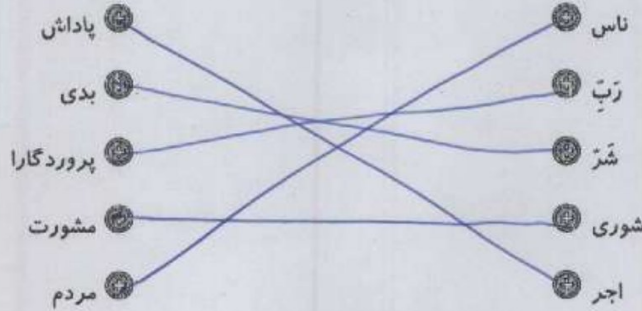
پ) عشایر در ... چاه ... زندگی می‌کنند.

هدیه‌های آسمان - قرآن

۱ شما چگونه به پدر و مادر خود نیکی می‌کنید؟

در باره‌ها ... بم ... محبت می‌کنم و احترام می‌گذارم ...

۲ معنای کلمات قرآنی را به آن‌ها وصل کنید.



۳ هر کدام از لقب‌های زیر مربوط به کدام بزرگوار می‌باشد؟

الف) ام‌ایبها: ... حضرت محمد (ص) ... ب) باقر العلوم: امام محمد باقر (ع) ... پ) زین العابدین: امام سجاد (ع)

- ◀ واژه‌شناسی
- ◀ حروف مخفف احترامی
- ◀ جمع آوری و دسته‌بندی زبانه‌ها
- ◀ مواد اولیه و منابع طبیعی
- ◀ نیکی به پدر و مادر
- ◀ معنی عبارات و آیات قرآنی
- ◀ آشنایی با ائمه اطهار

- ◀ مسئله‌ی ضرب و کسر
- ◀ عملیات ریاضی ضرب و تقسیم، جمع و تفریق
- ◀ نمودارهای آماری
- ◀ مساحت شکل‌های ترکیبی
- ◀ تغییر حالت‌های مواد
- ◀ کاربرد آینه‌ها
- ◀ منابع نور
- ◀ حفظ شعر

شما ...

چیزی خوب ...

خوب ...

فاز ...

نیاز به تلاش بیشتر ...