



نام و نام خانوادگی: _____ تاریخ: _____
 موضوع: _____ هدف: _____

فعالیت کلاسی درس اول فصل ۷ صفحه ۱۰۵:

۱. $(\square + \square) - 1 = 43$
۲. $(\square \times 3) + 40 = 52$
۳. $(4 \times \square) + 6 = 30$
۴. $\square + \square = 11$
 $\square - \square = 1$
۵. $\square + \square = 13$
 $\square \times \square = 36$
۶. قطر یکی از دایره‌ها $4 \times 2 = 8$
 قطر دایره‌ی دیگر $16 - 8 = 8$
 شعاع آن $8 \div 2 = 4$





نام و نام خانوادگی: _____
 تاریخ: _____
 موضوع: _____
 هدف: _____

۷. محیط $2 \times (6 + 2) = 16$

مساحت $6 \times 2 = 12$

$2 \times 8 = 16$

۸. محیط مثلث: سانتی متر $3 \times 8 = 24$


۹. الف) ۹

ب) ۸

$9 + 8 = 17$

تمرین درس اول فصل ۲ صفحه ۱۵۶:

۱.



۲. الف) درست

ب) نادرست: آن عدد ۶ می باشد.


۳.

$12 \div 3 = 4$
 $4 \div 2 = 2$

۴.

$6 \times 9 = 54$

$6 + 9 = 15$





نام و نام خانوادگی: _____ تاریخ: _____ موضوع: _____ هدف: _____

$$10 < \square \times \textcircled{4} \leq 14$$

.۵

$$\square \times 2 = 16$$

$$4 \times 4 = 16$$

.۶

$$(\square \times \square) + 4 = 85$$

$$85 - 4 = 81$$

$$9 \times 9 = 81$$

.۷

$$\square \times \square = 36 \quad .۸$$

$$\square \times \square = 81 \quad .۹$$

محیط: متر $4 \times 9 = 36$

۱۰. طول $8 \times 2 = 16$


مساحت: متر مربع $16 \times 8 = (10 \times 8) + (6 \times 8) = 80 + 48 = 128$

$$\begin{array}{r} 16 \\ \times 8 \\ \hline 128 \end{array}$$

۱۱. قطر: سانتی متر $5 + 5 = 10$ $3 \times \square = 15$

۱۲. سه اتاق سه نفره دارد. (با جدول حدس و آزمایش حل شود).

$$\begin{array}{r} 15 \\ \cancel{5 \times 3} \\ + (\square \times 2) = 21 \end{array}$$





موضوع:

تاریخ

نام و نام خانوادگی

هدف:

۱۳. در هر قفس ۴ گوریل وجود دارد. (با جدول حدس و آزمایش حل شود.)

$$\cancel{4} + 3 + (3 \times \boxed{4}) = 19$$

$$۳ \times ۲۰ = ۶۰ \text{ پول درنا } ۱۴$$

$$۶۰ + ۲۰ = ۸۰ \text{ روی هم}$$

$$۸۰ \div ۲ = ۴۰ \text{ پول امید}$$

۱۵. گزینه‌ی «۳»

$$\begin{array}{r} ۲۰۰۵ \\ - ۲۰۵ \\ \hline ۱۸۰۰ \end{array}$$





نام و نام خانوادگی: _____ تاریخ: _____ موضوع: _____ هدف: _____

فعالیت کلاسی درس دوم فصل ۲ صفحه ۱۶۰:

۱.

۱	۲	۳	۴	۵	۶	۷	۸	۹	عدده
/	///	////	/////	////	////	////	////	////	۱
					/	//	///	////	چوب خط
۱	۳	۱	۵	۲	۱	۳	۲	۲	تعداد هر رقم


۲. الف) تابستان (ب) پاییز (پ) ۴۷

۳. الف) خورشید بادمجان (ب) همبرگر

(پ) هفته‌های اول، سوم (ت) دوشنبه از هفته دوم

۴.

تعداد	چوب خط	رنگ
۵	////	زرد
۵	////	سبز
۳	///	قرمز





موضوع:

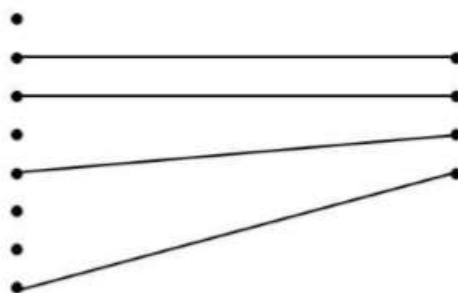
تاریخ:

نام و نام خانوادگی:

هدف:

تمرین درس دوم فصل ۲ صفحه ۱۶۱:

۱.



۲. الف) درست

ب) نادرست (بک مستطیل و دو دایره است)

پ) ۵ درس

ب) علوم و اجتماعی

۳. الف) املاء

۴. بهرام با ۲۵ امتیاز بهرام ۴۷۵ امتیاز و کیوان ۴۵۰ امتیاز دارد.

۵. ۳ بعد از ظهر دوشنبه

۶.



۷. گزینه «۲» پاسخ درست می باشد.

$$۶۰ - ۳۶ = ۲۴$$





نام و نام خانوادگی: _____ تاریخ: _____ موضوع: _____ هدف: _____

۱. الف) به طور حتم اتفاق نمی افتد. ب) به طور حتم اتفاق نمی افتد.
 پ) احتمال دارد اتفاق بیفتد. ت) احتمال دارد اتفاق بیفتد.
 ث) احتمال دارد اتفاق بیفتد. ج) احتمال دارد اتفاق می افتد.

۲. الف) $\frac{1}{6}$ ب) $\frac{3}{6}$ پ) ۳ حالت ت) آبی


۳. الف) $\frac{2}{4}$ ب) $\frac{3}{8}$ پ) آبی

۴. هر دو مساوی هستند.
 ۵. مستطیل و دو دایره




۶. اگر عرض‌ها روی هم قرار بگیرند استوانه کوتاه‌تر است.
 اگر طول‌ها روی هم قرار بگیرند استوانه بلندتر است.

۷. مخروط استوانه مکعب مکعب مستطیل
 ۸. کلاه تولد - کلاه قند





نام و نام خانوادگی: _____ تاریخ: _____ موضوع: _____ هدف: _____



۲. الف) نادرست

ب) درست

۳. الف) $\frac{4}{8}$ ب) $\frac{2}{8}$ پ) $\frac{1}{8}$ ت) رز

۴. الف) به طور حتم اتفاق نمی افتد ب) احتمال دارد اتفاق بیفتد


پ) به طور حتم اتفاق می افتد ت) به طور حتم اتفاق می افتد.

ث) به طور حتم اتفاق می افتد

۵. الف) $\frac{2}{13}$ ب) $\frac{6}{13}$ پ) $\frac{0}{13}$ ت) $\frac{5}{13}$

۶. الف) $\frac{1}{7}$ ب) $\frac{2}{7}$ الف می شود یک هفتم. قسمت ب چون دو روز است، می شود دو هفتم. در نتیجه، جواب گزینه ۱ میشود.

گزینه «۱» پاسخ درست می باشد.

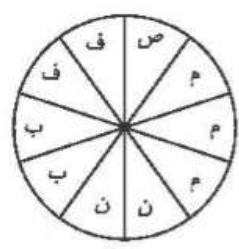




نام و نام خانوادگی: _____ تاریخ: _____ موضوع: _____ هدف: _____

تمرین درس چهارم فصل ۷ صفحه ۱۶۹:

۱.



فعالیت	صبحانه	مطالعه	ناهار	بازی	فیلم
زمان	۸-۹	۹-۱۲	۱۲-۱۴	۱۴-۱۶	۱۶-۱۸
مقدار ساعت	۱	۳	۲	۲	۲

۲. توجه کنید، هر قسمت نشان دهنده ی ۴ فرآورده است.

محصول	شیر	ماست	دوغ	کره	خامه	کشک
تعداد	۲۰	۱۲	۸	۸	۸	۸


۳. ۵ تا سرد ۱۵ تا گرم

غذای گرم $5 = 20 \div 4$

۴. الف) هیچ دانش آموزی بیشتر از ۲۵ دقیقه در راه نبوده است.

ب) ۶۵ نفر

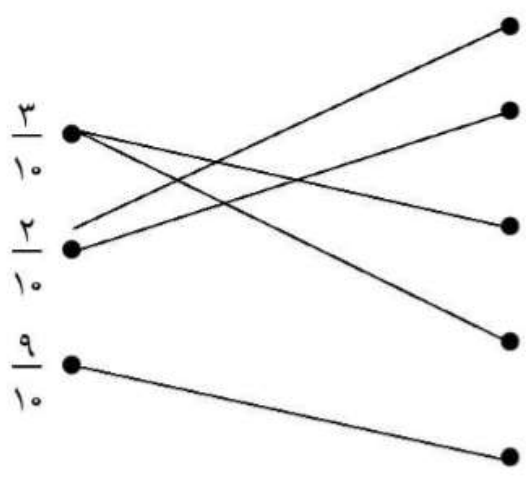
$15 + 30 + 20 = 65$





نام و نام خانوادگی: _____
 تاریخ: _____
 موضوع: _____
 هدف: _____

تمرین درس چهارم فصل ۲ صفحه ۱۶۹:




۲. الف) نادرست

ب) نادرست: پوشش دور مخروط بخشی از دایره است و کف مخروط هم دایره کامل

۳.



۴. تعداد کل محصولات ۱۲۰ تاست، پس دایره را ۱۲ قسمت می‌کنیم و هر قسمت نشان دهنده ی ۱۰ محصول است

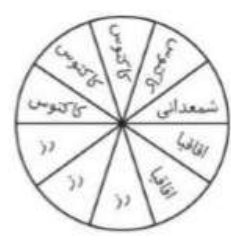
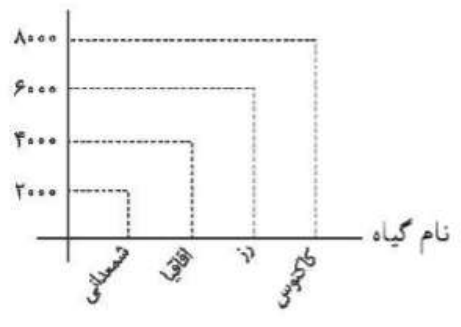




نام و نام خانوادگی: _____ تاریخ: _____
 موضوع: _____ هدف: _____

۵.

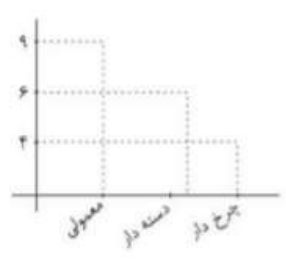
تعداد تقریبی



۶. الف)

معمولی	دسته دار	چرخ دار
۹	۶	۴

ب)



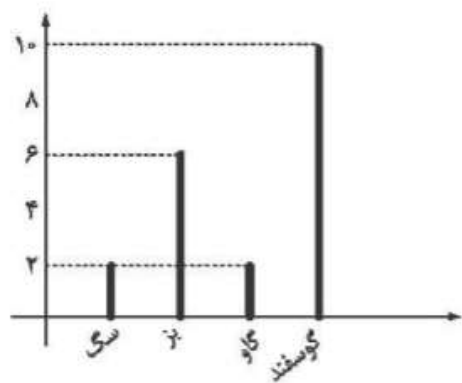
پ) گزینه «۱» پاسخ درست می باشد.





فعالیت کلاسی درس پنجم فصل ۷ صفحه ۱۷۳:

۱.



۲.

ششم	پنجم	چهارم	پایه
۵۰	۴۰	۲۰	تعداد





نام و نام خانوادگی: _____ تاریخ: _____ موضوع: _____ هدف: _____

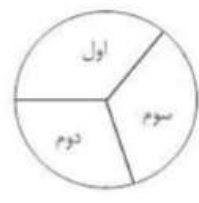
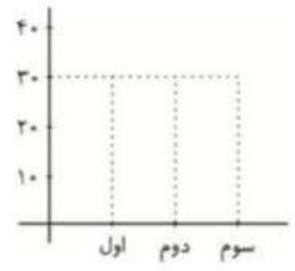
۱.




۲. الف) نادرست ب) درست پ) درست

۳. الف) نمودار ستونی
ب) دایره‌ای

پایه	اول	دوم	سوم
تعداد	۳۲	۲۷	۲۶
تعداد تقریبی	۳۰	۳۰	۳۰




۴. الف) آبان
ب) اسفند



پ)

۵. فوتبال ۹ تنیس روی میز ۱۲ شنا ۱۵ بستک‌تبال ۱۸
۶. گزینه «۱» پاسخ درست می‌باشد.



$20 \div 5 = 4$