

پنجم دبستان ارمغان هفته

شماره ی

۱۱

نام و نام خانوادگی:

تاریخ:

پایه:

نام آموزگار:

فصل ۲: ضرب عددهای مخلوط

درس ۵: حرکت بدن ۱

درس ۶: سرود ملی ۲

درس ۷: نواحی صنعتی مهم ایران ۲

درس ۷: رنگین کمان جمعه ۱

درس ۵: جلسه اول و دوم

ریاضی

علوم

فارسی

مطالعات اجتماعی

هدیه های آسمان

قرآن

ریاضی

۱ با $\frac{4}{5}$ متر پارچه می توانیم یک دستمال آشپزخانه درست کنیم. با ۲۰ متر پارچه چند عدد دستمال آشپزخانه می توانیم تهیه کنیم؟

$$20 \div \frac{4}{5} = 20 \times \frac{5}{4} = \frac{100}{4} = 25$$

می توان 25 دستمال آشپزخانه تهیه کرد.

۲ اتوبوسی ۳۶ مسافر داشت. $\frac{1}{3}$ آن ها پیاده شدند و به اندازه ی $\frac{1}{3}$ کسانی که پیاده شدند، سوار شدند. حالا این اتوبوس چند مسافر دارد؟

$$\frac{1}{3} \times 36 = \frac{36}{3} = 12$$

$$4 \text{ نفر سوار شدند} \quad \frac{1}{3} \times 12 = \frac{12}{3} = 4$$

الان 28 نفر سوار اتوبوس هستند. $4 + 24 = 28$ 12 نفر پیاده شدند پس 24 نفر در اتوبوس هستند.

۳ رادین و آرشام از یکدیگر ۱۰ متر فاصله دارند. رادین $3\frac{1}{2}$ متر به طرف آرشام و آرشام نیز $2\frac{1}{2}$ متر به طرف رادین آمد.

در حال حاضر فاصله‌ی رادین و آرشام چقدر است؟

$$3\frac{1}{2} + 2\frac{1}{2} = 5\frac{2}{2} = 6$$

6 متر به هم نزدیک شدند.

$$10 - 6 = 4$$

4 متر از هم فاصله دارند.

۴ حاصل جمع $(\frac{1}{5} + \frac{1}{4}) + (\frac{3}{4} + \frac{3}{5}) + (\frac{2}{5} + \frac{1}{7}) + (\frac{6}{7} + \frac{4}{5})$ را به دست آورید.

$$\frac{1}{5} + \frac{3}{5} + \frac{2}{5} + \frac{4}{5} = \frac{10}{5} = 2$$

ابتدا کسرهایی که مخرج یکسان دارند را با هم جمع می‌زنیم.

$$\frac{1}{4} + \frac{3}{4} = \frac{4}{4} = 1$$

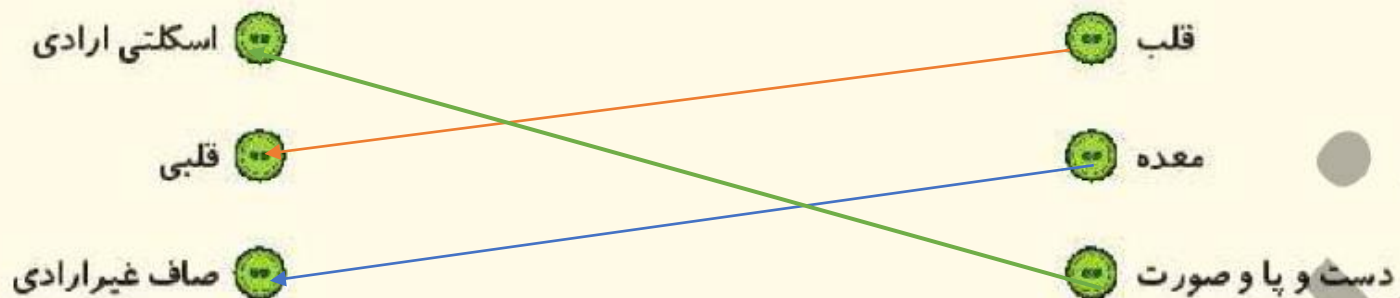
$$2 + 1 + 1 = 4$$

$$\frac{1}{7} + \frac{6}{7} = \frac{7}{7} = 1$$

۱ اسکلت چیست و چه وظایفی در بدن دارد؟

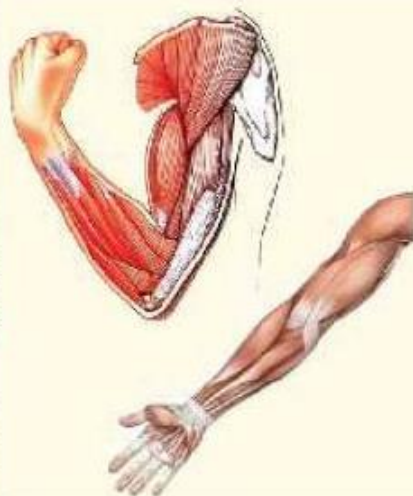
مجموع استخوان‌ها اسکلت درونی بدن ما را تشکیل می‌دهند. اسکلت به بدن شکل و فرم می‌دهند. در حرکت بدن به ماهیچه‌ها کمک می‌کند از اندام‌های مهم مانند قلب، مغز و... محافظت می‌کند. سلول‌های خونی تولید می‌کند. محل ذخیره مواد معدنی مثل کلسیم و فسفر هستند.

۲ هر ماهیچه را به نوع آن وصل کنید.



۳ برای رشد ماهیچه‌ها چه کارهایی باید انجام داد؟

خوردن شیر، گوشت، تخم‌مرغ برای رشد ماهیچه‌ها لازم است. ورزش کردن نیز به نیرومند شدن ماهیچه‌ها کمک می‌کند.



۴ با توجه به شکل وقتی ساعد را خم می کنیم، ماهیچه های دست ما چه تغییری می کنند؟

وقتی ماهیچه منقبض می شود (جمع می شود)، استخوان را می کشد.
وقتی دست را باز می کنیم، ماهیچه های روی بازو (دو سر) منبسط
و ماهیچه های پشت بازو (سه سر) منقبض می شود. در این وضعیت شخص مفصل آرنج خود را باز می کند.
وقتی ماهیچه روی بازو منقبض می شود و ماهیچه های پشت بازو منبسط می شود، آرنج خم شده و ساعد بالا می آید.

۵ کدام ماهیچه غیر ارادی است؟

۴ ماهیچه ی مری

۳ ماهیچه های پا

۲ ماهیچه های دست

۱ ماهیچه ی لب

فارسی

۱ در مصراع «ای دشمن، ار تو سنگ خاره ای من آهنم، منادا کدام واژه می باشد؟

۴ آهن

۳ من

۲ سنگ

۱ دشمن

۲ در کدام گزینه غلط لملایی وجود دارد؟

۴ فروغ

۳ موفون

۲ غرور

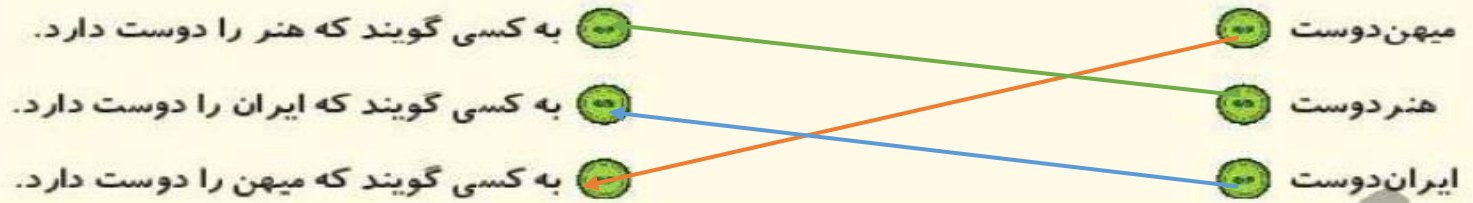
۱ گوهر

۳ در عبارت زیر کلمه‌های جمع را پیدا کرده و مفرد آن را بنویسید.

«صد حکایات زیادی را از گذشتگان برای حاضران نقل کرد»

حکایات: حکایت، گذشتگان: گذشته، حاضران: حاضر

۴ موارد مرتبط را به هم وصل کنید.



۵ جاهای خالی را کامل کنید.

الف) شعر ای ایران اثر **حسین گل گلاب** است.

ب) **انسان دوست** به کسی می‌گویند که انسان‌ها را دوست دارد.

پ) هر کشوری برای این که پیشرفت کند نیازمند همکاری و **ایشان** است.

مطالعات اجتماعی

۱ کدام یک مربوط به صنایع مصرفی است؟ رنگ بزنید.

کود شیمیایی	لاستیک	مواد شوینده	ورقه‌های آهنی
معدن سرب	رنگ	دیگ بخار	سنگ آهن

۲ تفاوت صنایع مادر و مصرفی چیست؟ با ذکر مثال توضیح دهید.

صنایع مادر کالاهایی تولید می‌کنند که مردم آن‌ها را نمی‌خرند و آن‌ها به‌طور مستقیم استفاده نمی‌کنند و از این کالاها در کارخانه‌های دیگر استفاده می‌شوند مانند کارخانه‌ی ذوب آهن که ورقه‌های فولادی تولید می‌کند. صنایع مصرفی کالاهایی تولید می‌کنند که مردم آن‌ها را می‌خرند و مستقیم مصرف می‌کنند، مانند لوازم خانگی.

۳ جاهای خالی را کامل کنید.

الف) مواد اولیه‌ی صنایع مادر از **معادن** تأمین می‌شود.

ب) مهم‌ترین استان صنعتی ایران که بیشترین صنایع مصرفی را دارد **تهران** است.

پ) سنگ آهن مورد نیاز صنایع ذوب آهن اصفهان از **استان یزد** تأمین می‌شود.

۴ مواد اولیه‌ی کارخانه‌های ماشین‌سازی معمولاً از کدام معادن تهیه می‌شود؟

..... آهن - سرب - روی - مس

هدیه‌های آسمان - قرآن

در هر یک از کادریهای رنگی زیر، یکی از آداب روز جمعه را بنویسید.

۱- روز شادی با خانواده	۲- روز نظافت و پاکیزگی
۳- روز عبادت و نماز جمعه	۴- روز دیدار با خویشاوندان و عیادت از بیماران
۵- روز نیکی	۶- روز زیارت و صلوات
۷- روز امام زمان (عج)	

جدول زیر را کامل کنید.

ر	م	ض	ا	ن	← بهترین ماه سال
ج	م	ع	ه		← بهترین روز هفته
ق	د	ر			← بهترین شب سال

