

پنجم دبستان ارمغان هفته



شماره‌ی

۲۱



نام و نام خانوادگی:

تاریخ:

پایه:

نام آموزگار:

فصل ۵: اعداد اعشاری و جمع آنها

درس ۹: کارها آسان می‌شود «۲» ۱

درس ۱۳: بال در بال پرستوها

درس ۱۵: بازگشت از سفر حج

درس ۱۲: خورشید پشت ابر

درس ۸: جلسه‌ی سوم و چهارم

ریاضی

علوم

فارسی

مطالعات اجتماعی

هدیه‌های آسمان

قرآن

ریاضی

جمع‌های زیر را روی محور نشان دهید.

الف) $3/1 + 1/2 =$

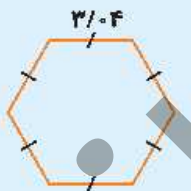


ب) $0/8 + 3/6 =$

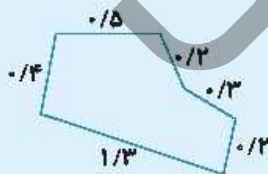


محیط هریک از شکل‌ها را به دست آورید.

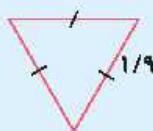
الف)



ب)



ج)



۳ اگر جرم یک چمدان خالی، ۲/۰۷ کیلوگرم باشد و جرم وسایلی که قرار است در چمدان قرار بگیرد، ۴/۴۹۶ باشد، جرم کل چمدان پر از وسایل چقدر خواهد بود؟

۴ جمع‌های زیر را ابتدا تقریب بزنید و سپس به‌طور دقیق حساب کنید.

الف) $۱۴/۲۳ + ۵/۹۶ + ۰/۸ =$

ب) $۷/۰۶ + ۹/۱۳۶ + ۰/۵ =$

۵ مقایسه کنید و علامت $< = >$ بگذارید.

$۳/۲ + ۲/۱$ $۵/۲$

$۰/۰۰۰۱ + ۰/۰۰۱$ $۱ + ۰/۰۰۰۱$

$۲ + ۱/۴ + ۲/۳$ $۶/۶۰$

$۳/۲$ $۱ + ۱/۱ + ۱/۱$

علوم

۱ جاهای خالی را کامل کنید.

الف) سطح شیب‌دار باعث می‌شود که نیروی مورد نیاز باشد.

ب) هرچه ارتفاع سطح شیب‌دار بیش‌تر باشد، کار ما می‌شود.

۲ گزینه صحیح را انتخاب کنید.

الف) در کدام ماشین سطح شیب‌دار به‌کار رفته است؟

۱) دستگیره‌ی در ۲) فرمان اتومبیل ۳) پروانه‌ی پنکه ۴) نردبان

ب) بالا بردن یک بشکه‌ی ۱۰۰ کیلوگرمی از کدام سطح شیب‌دار راحت‌تر است؟



۳ بالا رفتن از کدام کوه راحت‌تر است؟ دلیل آن را توضیح دهید.



۴ برچسب وسایل را در جدول قرار دهید.

	←	اهرم
	←	سطح شیب‌دار

فارسی

۱ املای درست هر کلمه را بنویسید.

	←	اود		←	عتر		←	فظا
	←	باقبان		←	صوار سبزپوش		←	پیشواد

۲ واژه‌های هم‌معنی را به هم وصل کنید.

- | | |
|--------|--------|
| همیشگی | جامه |
| شیوه | رسم |
| مشغول | جاودان |
| لباس | سرگرم |

۳ جاهای خالی در شعر را کامل کنید.

تا می‌آید از خانه‌ها
 باز می‌پیچد میان
 در فضای باغ‌ها پر می‌شود
 باز توئی سر می‌کشند
 بوی و بوی عود
 باز هم فواره‌ی

۴ با توجه به بیت داده شده به سؤالات پاسخ دهید.

«مرغ‌های خسته و پر بسته هم از میان پرده‌ها پر می‌کشند»

الف) معنای بیت:

ب) ترکیبات وصفی:

پ) نهاد و گزاره:

مطالعات اجتماعی

۱ الف) در ایران عقربه‌ی قبله‌نما کدام سمت را نشان می‌دهد؟

۴ جنوب

۳ جنوب غرب

۲ شمال غرب

۱ غرب

ب) دعوت پنهانی مردم به دین اسلام توسط پیامبر (ص) چه مدت طول کشید؟

۴) هفت سال

۳) بیش از سه سال

۲) سه سال

۱) سه ماه



کلمه‌ی صحیح را از داخل کمانک انتخاب کنید و در جای خالی قرار دهید.

الف) مهم‌ترین و بزرگ‌ترین مسجد دنیا که خانه‌ی کعبه در آن قرار دارد، است. (مسجد الحرام - بیت‌المقدس)

ب) به سرزمینی که از سه طرف به آب و یک طرف به خشکی راه دارد، می‌گویند. (جزیره - شبه‌جزیره)

پ) در زمان ظهور اسلام مهم‌ترین شهر عربستان بوده است. (مکه - مدینه)

ت) قبله‌ی مسلمانان جهان است. (بیت‌المقدس - خانه‌ی کعبه)



به سوالات پاسخ کوتاه دهید.

الف) پیامبر (ص) در کجا به پیامبری مبعوث شد؟

ب) طواف یعنی چه؟

پ) بعد از ظهور اسلام، کافران و ثروتمندان در مقابل پیامبر (ص) چه واکنشی داشتند؟

ت) ویژگی پادشاه حبشه چه بود؟

هدیه‌های آسمان - قرآن

موارد مرتبط را به هم وصل کنید. (یک مورد اضافی است)

- مشهورترین لقب امام دوازدهم
- نام مادر امام دوازدهم
- نام پدر امام دوازدهم
- نرجس
- حسن عسکری
- قائم
- ولی عصر



با توجه به آیه‌ی ۷ سوره‌ی ابراهیم، چگونه نعمت‌های ما افزایش می‌یابد؟

تغییر به تامل	تغییر به تامل	تغییر به تامل	تغییر به تامل	شاخص‌ها
				تکمیل شعر
				آشنایی با سرزمین عربستان
				شناخت قبله مسلمانان
				آشنایی با مراسم حج
				شناخت امام دوازدهم

تغییر به تامل	تغییر به تامل	تغییر به تامل	تغییر به تامل	شاخص‌ها
				محاسبه‌ی جمع اعشاری با استفاده از محور
				مقایسه‌ی اعداد اعشاری
				مفهوم سطح شیب‌دار و کاربرد آن
				اصلاح کلمات نادرست (املا)
				تشخیص کلمات هم‌معنی